

Constable GD in CAPFs NIA SSF and Rifleman GD in Assam Rifles Examination 2021

Roll Number	
Candidate Name	
Venue Name	iON Digital Zone iDZ 1 Patliputra
Exam Date	07/12/2021
Exam Time :	12:30 PM - 2:00 PM
Subject	Constable GD 2021

Section : Part A General Intelligence and Reasoning

Q.1 दिए गए विकल्पों में से उस अक्षर-समूह का चयन कीजिए जो निम्न श्रृंखला में प्रश्न चिह्न (?) के स्थान पर आ सकता है।

EFJ, FGK, GHL, HIM, ?

Ans 1. IJM

2. IJN

3. IKN

4. IKM

Question ID : 65497832276

Status : Answered

Chosen Option : 2

Q.2 दिए गए कथनों और निष्कर्षों को ध्यानपूर्वक पढ़ें। यह मानते हुए कि कथनों में दी गई जानकारी सही है, भले ही वह सामान्य रूप से ज्ञात तथ्यों से भिन्न प्रतीत होती हो, निर्धारित करें कि दिए गए निष्कर्षों में से कौन-से निष्कर्ष कथनों का तार्किक रूप से अनुसरण करते हैं।

कथन:

सभी बाघ शेर हैं।

सभी शेर जानवर हैं।

निष्कर्ष:

I. सभी बाघ जानवर हैं।

II. कोई भी बाघ पक्षी नहीं है।

Ans 1. केवल निष्कर्ष II अनुसरण करता है।

2. या तो निष्कर्ष I या निष्कर्ष II अनुसरण करता है।

3. दोनों निष्कर्ष अनुसरण करते हैं।

4. केवल निष्कर्ष I अनुसरण करता है।

Question ID : 65497832281

Status : Answered

Chosen Option : 4



Download SSC CGL, CHSL E-BOOKS

[CLICK HERE](#)

Q.3 'कुरसी' का जो संबंध 'लकड़ी' से है 'कबल' का वही संबंध '_____' से है।

- Ans
- 1. प्लास्टिक
 - 2. कागज़
 - 3. बिस्तर
 - 4. ऊन

Question ID : 65497832277
Status : Answered
Chosen Option : 4

Q.4 उस विकल्प का चयन कीजिए जिसमें निम्न शब्दों का वह क्रम दिया गया है, जिस क्रम में ये शब्द अंग्रेजी शब्दकोश में मौजूद होते हैं।

1. Certain
2. Certify
3. Cerebral
4. Ceramic
5. Ceremony

- Ans
- 1. 4, 3, 2, 5, 1
 - 2. 3, 4, 5, 1, 2
 - 3. 4, 3, 5, 2, 1
 - 4. 4, 3, 5, 1, 2

Question ID : 65497832289
Status : Answered
Chosen Option : 4

Q.5 When a number is added to its previous number and another number that is two times its previous number, the sum of these three numbers is 61. Find the number.

- Ans
- 1. 16
 - 2. 14
 - 3. 15
 - 4. 13

Question ID : 65497832283
Status : Answered
Chosen Option : 1

Q.6 उस विकल्प का चयन कीजिए, जिसका चौथी संख्या से वही संबंध है, जो पहली संख्या का दूसरी संख्या से है और पांचवी संख्या का छठी संख्या से है।

153 : 12 :: ? : 17 :: 205 : 14

- Ans
- 1. 298
 - 2. 307
 - 3. 290
 - 4. 218

Question ID : 65497832297
Status : Answered
Chosen Option : 1



Download SSC CGL, CHSL E-BOOKS

[CLICK HERE](#)

Q.7 चार अक्षर-समूह दिए गए हैं, जिनमें से तीन किसी तरह से एक समान हैं और एक भिन्न है। उस अक्षर-समूह का चयन करें जो भिन्न है।

- Ans 1. GCY
 2. OKG
 3. JFB
 4. UQN

Question ID : 65497832285
Status : Answered
Chosen Option : 4

Q.8 पांच मित्र एक पंक्ति में उत्तर दिशा की ओर मुंह करके बैठे हुए हैं। G, I के दाईं ओर बगल में बैठा है। F, H के बाईं ओर और E के दाईं ओर बगल में बैठा है। यदि H और I एक-दूसरे के बगल में बैठे हैं, तो बीच में कौन बैठा है?

- Ans 1. F
 2. H
 3. I
 4. E

Question ID : 65497832278
Status : Answered
Chosen Option : 2

Q.9 दिए गए समीकरण को संतुलित करने के लिए किन दो संख्याओं को आपस में बदला जाना चाहिए?

$$30 + 28 - 34 \div 2 \times 4 = 2$$

- Ans 1. 30 और 34
 2. 34 और 4
 3. 4 और 2
 4. 28 और 34

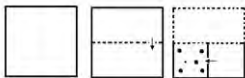
Question ID : 65497832298
Status : Answered
Chosen Option : 1





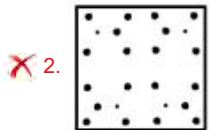

Download SSC CGL, CHSL E-BOOKS

[CLICK HERE](#)

Q.10 निम्नांकित चित्रों में एक कागज को मोड़ने का क्रम और मुड़े हुए कागज को काटने का तरीका दर्शाया गया है। मुड़े हुए कागज को खोलने पर यह कैसा दिखाई देगा?



Ans



Question ID : 65497832284

Status : Answered

Chosen Option : 3

Q.11 आठ मित्र P, Q, R, S, T, U, V और W एक वृत्ताकार मेज के इर्द-गिर्द केंद्र की ओर मुख करके बैठे हैं। V, R के दाईं ओर दूसरे स्थान पर बैठा है। P, S के बाईं ओर चौथे स्थान पर बैठा है। T, U के बाईं ओर तीसरे स्थान पर बैठा है। केवल Q, S और T के बीच में बैठा है। P और T के बीच में कौन बैठा है?

Ans 1. U

2. S

3. V

4. Q

Question ID : 65497832296

Status : Answered

Chosen Option : 3



Download SSC CGL, CHSL E-BOOKS

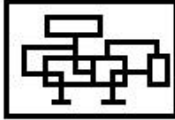
[CLICK HERE](#)

Q.12 उस विकल्प का चयन करें, जिसमें दी गई आकृति अंतर्निहित है।



Ans

✓ 1.



✗ 2.



✗ 3.



✗ 4.



Question ID : 65497832300
Status : Answered
Chosen Option : 1

Q.13 एक निश्चित कूट भाषा में, 'CANDLE' को '52144113' के रूप में कूटबद्ध किया जाता है। उसी कूट भाषा में 'QUIET' को किस रूप में कूटबद्ध किया जाएगा?

Ans

✓ 1. 02591271

✗ 2. 02592117

✗ 3. 20591271

✗ 4. 20592117

Question ID : 65497832286
Status : Answered
Chosen Option : 1



Download SSC CGL, CHSL E-BOOKS

[CLICK HERE](#)

Q.14 दी गई आकृति के सही दर्पण प्रतिबिंब का चयन करें, जो दर्पण को दी गई आकृति के दाईं ओर रखने पर बनेगा।

Q W E R T Y

Ans

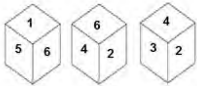
- ✓ 1. Y T R E W Q
- ✗ 2. Q W E R T Y
- ✗ 3. Q W E R T Y
- ✗ 4. Q W E R T Y

Question ID : 65497832288

Status : Answered

Chosen Option : 1

Q.15 एक ही पासे की तीन अलग-अलग स्थितियाँ दर्शाई गई हैं, जिसके छह फलकों पर 1 से 6 तक अंक दिए गए हैं। उस संख्या का चयन करें, जो अंक '3' वाले फलक के विपरीत फलक पर होगी।



Ans

- ✗ 1. 5
- ✓ 2. 6
- ✗ 3. 2
- ✗ 4. 1

Question ID : 65497832299

Status : Answered

Chosen Option : 2

Q.16 विकल्पों में से उस अक्षर समूह का चयन कीजिए जो तीसरे अक्षर-समूह उसी प्रकार संबंधित है, जिस प्रकार दूसरा अक्षर-समूह पहले अक्षर-समूह से संबंधित है।

DGK : URN :: HTP : ?

Ans

- ✗ 1. GUN
- ✗ 2. MKJ
- ✗ 3. JIP
- ✓ 4. QEI

Question ID : 65497832293

Status : Answered

Chosen Option : 4



Download SSC CGL, CHSL E-BOOKS

[CLICK HERE](#)

Q.17 यदि A से Z तक के वर्णमाला अक्षर एक-दूसरे को उल्टे क्रम में दर्शाते हैं, यानी A = Z, B = Y, C = X, D = W, इत्यादि, तो 'CERTIFIED' को कैसे लिखा जाएगा?

- Ans
- 1. XVIGURVRW
 - 2. XVIGRURVW
 - 3. XVIGRUVRW
 - 4. XVIGURRVW

Question ID : 65497832294
Status : Answered
Chosen Option : 2

Q.18 Y, B की मां है। B का विवाह C से हुआ है। X, C का पिता है। J, X का इकलौता पुत्र है। K, J की इकलौती सन्तान है। B का J से क्या संबंध है?

- Ans
- 1. भतीजी या भतीजा
 - 2. भाई
 - 3. ससुर
 - 4. जीजा

Question ID : 65497832295
Status : Answered
Chosen Option : 1

Q.19 दिए गए विकल्पों में से उस संख्या का चयन करें जो निम्नलिखित श्रृंखला में प्रश्न चिह्न (?) के स्थान पर आ सकती है।

1, 2, 3, 8, 15, ?, 105, 384

- Ans
- 1. 54
 - 2. 68
 - 3. 72
 - 4. 48

Question ID : 65497832287
Status : Answered
Chosen Option : 4

Q.20 एक महाविद्यालय में, 15 विद्यार्थी इतिहास और मनोविज्ञान दोनों विषयों का अध्ययन करते हैं। कुल मिलाकर, 22 विद्यार्थी इतिहास का अध्ययन करते हैं और 32 विद्यार्थी मनोविज्ञान पढ़ते हैं। 12 और विद्यार्थी हैं जो केवल भौतिकी का अध्ययन करते हैं। केवल इतिहास और केवल भौतिकी का अध्ययन करने वाले विद्यार्थियों की कुल संख्या कितनी है?

- Ans
- 1. 34
 - 2. 27
 - 3. 17
 - 4. 19

Question ID : 65497832279
Status : Answered
Chosen Option : 4



Q.21 अक्षरों के उस संयोजन का चयन करें, जिसे दी गई श्रृंखला के रिक्त स्थानों में क्रम से रखे जाने पर श्रृंखला पूर्ण हो जाएगी।

E _ CD _ H J _ _ E H _ _ D

- Ans
- 1. H, E, C, D, C, J, C
 - 2. H, C, E, J, D, C, E
 - 3. H, J, C, E, C, E, H
 - 4. H, J, E, C, D, J, C

Question ID : 65497832290

Status : Answered

Chosen Option : 4

Q.22 दिए गए विकल्पों में से उस आकृति का चयन करें, जो निम्न आकृति श्रृंखला में प्रश्नवाचक चिह्न (?) के स्थान पर आ सकती है।



Ans

- 1.
- 2.
- 3.
- 4.

Question ID : 65497832292

Status : Answered

Chosen Option : 1



Download SSC CGL, CHSL E-BOOKS

[CLICK HERE](#)

Q.23 दिए गए पैटर्न का ध्यानपूर्वक अध्ययन करें और उस संख्या का चयन करें जो इसमें प्रश्न चिह्न (?) के स्थान पर आ सकती है।

12 30 18
18 45 27
24 ? 24

- Ans 1. 44
 2. 24
 3. 48
 4. 14

Question ID : 65497832282
Status : Answered
Chosen Option : 3

Q.24 एक निश्चित कूट भाषा में, ROSE को QNRD के रूप में लिखा जाता है। उसी कूट भाषा में MIND को किस रूप में लिखा जाएगा?

- Ans 1. HLMC
 2. MCHL
 3. MCLH
 4. LHMC

Question ID : 65497832280
Status : Answered
Chosen Option : 4

Q.25 दिए गए विकल्पों में से उस संख्या का चयन करें, जो निम्नलिखित श्रृंखला में प्रश्नवाचक चिह्न (?) के स्थान पर आ सकती है।

70, 66, 58, 46, 30, ?

- Ans 1. 10
 2. 16
 3. 8
 4. 12

Question ID : 65497832291
Status : Answered
Chosen Option : 1

Section : Part B General Knowledge and General Awareness

Q.1 पंचायत का सदस्य बनने के लिए निम्नलिखित में से कितनी न्यूनतम आयु (संविधान के अनुसार निर्धारित) आवश्यक है?

- Ans 1. 36 वर्ष
 2. 21 वर्ष
 3. 18 वर्ष
 4. 28 वर्ष

Question ID : 65497832303
Status : Answered
Chosen Option : 3



Download SSC CGL, CHSL E-BOOKS

[CLICK HERE](#)