

Constable GD in CAPFs NIA SSF and Rifleman GD in Assam Rifles Examination 2021

Roll Number	
Candidate Name	
Venue Name	ION Digital Zone iDZ Gram Raigawan Near Patan Bypass
Exam Date	07/12/2021
Exam Time :	9:00 AM - 10:30 AM
Subject	Constable GD 2021

Section : Part A General Intelligence and Reasoning

Q.1 निम्नलिखित आकृतियों में कागज़ के टुकड़े को मोड़ने का क्रम और मुड़े हुए टुकड़े को काटने का तरीका दर्शाया गया है। कागज़ को खोले जाने पर इसकी आकृति कैसी दिखेगी?



Ans



Question ID : 65497828744

Status : Answered

Chosen Option : 3



Download SSC CGL, CHSL E-BOOKS

[CLICK HERE](#)

Q.2 छः मित्रों, नेहा, काव्या, गीता, वरुण, पूजा और कपिल की आयु अलग-अलग है। गीता, पूजा से बड़ी है लेकिन वरुण से छोटी है। तीन मित्र, गीता से बड़े हैं। कपिल की आयु, वरुण और काव्या की आयु के मध्य आती है। पूजा केवल एक मित्र से बड़ी है। उन सब में सबसे छोटा कौन है?

- Ans
- 1. पूजा
 - 2. कपिल
 - 3. नेहा
 - 4. काव्या

Question ID : 65497828724
 Status : Answered
 Chosen Option : 3

Q.3 उस विकल्प का चयन कीजिए जो तीसरे पद से उसी प्रकार संबंधित है जिस प्रकार दूसरा पद पहले पद से संबंधित है।

TUNER : VRRBX :: CLOCK : ?

- Ans
- 1. EROQZ
 - 2. EISZQ
 - 3. EISZO
 - 4. EORZQ

Question ID : 65497828737
 Status : Answered
 Chosen Option : 2

Q.4 दिए गए विकल्पों में से उस आकृति का चयन करें जो नीचे दी गई श्रृंखला में प्रश्न चिह्न (?) के स्थान पर आ सकती है।



Ans

- 1.
- 2.
- 3.
- 4.

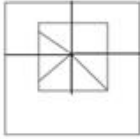
Question ID : 65497828723
 Status : Answered
 Chosen Option : 3

Q.5 उस विकल्प का चयन करें जिसमें दी गई आकृति सन्नहित है (घुमाने की अनुमति नहीं है)।



Ans

✗ 1.



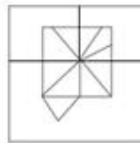
✗ 2.



✗ 3.



✓ 4.




Question ID : 65497828728

Status : Answered

Chosen Option : 4

Q.6 अक्षर a, b, c, d, e और f से अंकित, एक ही पासे की दो अलग-अलग स्थितियां दर्शाई गई हैं। उस अक्षर का चयन करें जो अक्षर 'a' वाले फलक के विपरीत फलक पर होगा।



Ans

✗ 1. b

✓ 2. f

✗ 3. d

✗ 4. e

Question ID : 65497828727

Status : Answered

Chosen Option : 2



Download SSC CGL, CHSL E-BOOKS

[CLICK HERE](#)

Q.7 एक निश्चित कूट भाषा में, 'REFINE' को 'KHOZKL' लिखा जाता है। उसी कूट भाषा में, 'SOLVENT' को क्या लिखा जाएगा?

- Ans
- 1. YHJPPIX
 - 2. ZHKPRIY
 - 3. ZIKQQJY
 - 4. YHPJPIX

Question ID : 65497828738
Status : Answered
Chosen Option : 2

Q.8 दिए गए संयोजन के सही दर्पण प्रतिबिंब का चयन करें जब दर्पण को दिखाए गए अनुसार PQ पर रखा गया है।

F D 8 P C Q

- Ans
- 1. Q C 9 8 D F
 - 2. Q C 9 8 D E
 - 3. Q C 8 8 D F
 - 4. Q C 9 8 D F

Question ID : 65497828736
Status : Answered
Chosen Option : 1

Q.9 किसी निश्चित कूट भाषा में, 'ORGAN' को 'QWDLC' लिखा जाता है और 'OPERATE' को 'QBXWLSX' लिखा जाता है। 'GENERATOR' को उसी कूट भाषा में कैसे लिखा जाएगा?

- Ans
- 1. DXCXWQLSW
 - 2. DXCXLWSQW
 - 3. DXCXWLSQW
 - 4. DXCXSWLQW

Question ID : 65497828740
Status : Answered
Chosen Option : 3

Q.10 जीवा, कमल की पुत्री है। कमल के दो पुत्र हैं। अदा, मानविता की पुत्री है, जो कि कमल के पुत्र की पत्नी है। वीनू, प्रेम की मां है। प्रेम, अशोक का भाई है, जो कि अदा का पिता है। अदा का वीनू से क्या संबंध है?

- Ans
- 1. बहन
 - 2. पुत्री
 - 3. पोती/नातिन
 - 4. मां

Question ID : 65497828739
Status : Answered
Chosen Option : 3



Download SSC CGL, CHSL E-BOOKS

[CLICK HERE](#)

Q.11 विकल्पों में से अक्षरों के उस संयोजन का चयन कीजिए जिसे नीचे दी गई श्रृंखला के रिक्त स्थानों में क्रमिक रूप से रखे जाने पर वह श्रृंखला को पूर्ण करेगा।

x z x _ y z x _ _ x y z x z _ _ y z

Ans 1. x z x x x

2. x z x y x

3. x z y z x

4. x z x x y

Question ID : 65497828721

Status : Answered

Chosen Option : 1

Q.12 उस विकल्प का चयन कीजिए जिसका तीसरी संख्या से वही संबंध है, जो दूसरी संख्या का पहली संख्या से है।

9783 : 3879 :: 1958 : ?

Ans 1. 5891

2. 8591

3. 9518

4. 9851

Question ID : 65497828725

Status : Answered

Chosen Option : 2

Q.13 दिए गए कथनों और निष्कर्षों को ध्यानपूर्वक पढ़ें। आपको कथनों में दी गई जानकारी को सत्य मानते हुए, भले ही वह सामान्यतः ज्ञात तथ्यों से भिन्न प्रतीत होती हो, निर्णय करें कि दिए गए निष्कर्षों में से कौन से निष्कर्ष कथनों का तार्किक रूप से अनुसरण करते हैं।

कथन:

कुछ अभिनेता, नृत्यरचनाकार हैं।

सभी नृत्यरचनाकार, निर्माता हैं।

एक भी निर्माता, निर्देशक नहीं है।

निष्कर्ष:

I. कुछ अभिनेता, निर्देशक हैं।

II. एक भी अभिनेता, निर्देशक नहीं है।

Ans 1. केवल निष्कर्ष I अनुसरण करता है।

2. केवल निष्कर्ष II अनुसरण करता है।

3. निष्कर्ष I और II, दोनों अनुसरण करते हैं।

4. या तो निष्कर्ष I, या फिर निष्कर्ष II अनुसरण करता है।

Question ID : 65497828741

Status : Answered

Chosen Option : 4

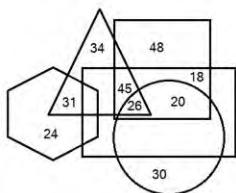


Download SSC CGL, CHSL E-BOOKS

[CLICK HERE](#)

Q.14 नीचे दी गई आकृति में, वर्ग 'नींबू' को निरूपित करता है, वृत्त 'मीठे' को निरूपित करता है, त्रिभुज 'फलों' को निरूपित करता है, आयत 'खट्टे' को निरूपित करता है, और षट्भुज 'संतरों' को निरूपित करता है।

वह संख्या ज्ञात करें जो उन नींबू फलों (lemon fruits) को निरूपित करती है जो खट्टे हैं लेकिन मीठे नहीं हैं।



- Ans**
- 1. 48
 - 2. 45
 - 3. 18
 - 4. 26

Question ID : 65497828732
 Status : Answered
 Chosen Option : 3

Q.15 दिए गए विकल्पों में से उस संख्या का चयन करें जो निम्नलिखित श्रृंखला में प्रश्न चिह्न (?) के स्थान पर आ सकती है।

560, 280, 140, 70, ?

- Ans**
- 1. 50
 - 2. 35
 - 3. 45
 - 4. 40

Question ID : 65497828722
 Status : Answered
 Chosen Option : 2

Q.16 7 के पांच क्रमिक गुणजों का योग 455 है। इस श्रृंखला की सबसे बड़ी संख्या निम्न में से कौन सी है?

- Ans**
- 1. 105
 - 2. 91
 - 3. 140
 - 4. 154

Question ID : 65497828743
 Status : Answered
 Chosen Option : 3



Q.17 विकल्पों में चार अक्षर-समूह दिए गए हैं जिनमें से तीन किसी न किसी प्रकार संगत हैं और एक असंगत है। उस अक्षर-समूह का चयन करें, जो अन्य से असंगत है।

- Ans 1. DMI
 2. CGP
 3. RFB
 4. ATH

Question ID : 65497828733
Status : Answered
Chosen Option : 1

Q.18 गणितीय चिह्नों के उस सही संयोजन का चयन करें जिसे क्रमिक रूप से * चिह्नों के स्थान पर रखने से दिया गया समीकरण संतुलित हो जाएगा।

$$7 * 8 * 6 * 130 * 2 * 3$$

- Ans 1. +, x, =, +, -
 2. =, x, +, +, -
 3. +, +, -, =, x
 4. x, +, =, +, -

Question ID : 65497828726
Status : Answered
Chosen Option : 4

Q.19 उस विकल्प का चयन करें जो तीसरे शब्द से उसी प्रकार संबंधित है जिस प्रकार दूसरा शब्द पहले शब्द से संबंधित है।

रूबेला : विषाणु :: मलेरिया : ?

- Ans 1. विषाणु
 2. परजीवी
 3. कवक
 4. जीवाणु

Question ID : 65497828730
Status : Answered
Chosen Option : 2

Q.20 छः व्यक्ति, A, B, C, D, E और F एक घेरा बनाकर बैठे हुए हैं। सभी के मुंह केंद्र की ओर हैं। B, A और E के बीच में बैठा हुआ है। C, D और F के बीच में बैठा हुआ है। F, A के बाईं ओर बगल में बैठा है। E के दाईं ओर बगल में कौन बैठा है?

- Ans 1. C
 2. B
 3. F
 4. D

Question ID : 65497828731
Status : Answered
Chosen Option : 4



Download SSC CGL, CHSL E-BOOKS

[CLICK HERE](#)

Q.21 दिए गए विकल्पों में से उस संख्या का चयन करें, जो निम्नलिखित श्रृंखला में प्रश्नवाचक चिह्न (?) के स्थान पर आ सकती है।

36, 37, 46, 71, ?, 201

- Ans
- 1. 125
 - 2. 107
 - 3. 118
 - 4. 120

Question ID : 65497828735
Status : Answered
Chosen Option : 4

Q.22 उस विकल्प का चयन कीजिए जिसमें नीचे दिए गए शब्दों का अंग्रेजी शब्दकोश में आने वाला क्रम दिया गया है।

1. Subsidiary
2. Subscribe
3. Substantiate
4. Substandard
5. Subsequent

- Ans
- 1. 2, 5, 1, 3, 4
 - 2. 3, 5, 1, 4, 2
 - 3. 2, 5, 3, 4, 1
 - 4. 2, 5, 1, 4, 3

Question ID : 65497828720
Status : Answered
Chosen Option : 3

Q.23 एक विशिष्ट कूट भाषा में, 'SAVE' का कोड '522119' है। इस कूट भाषा में 'WEAK' का कोड क्या होगा?

- Ans
- 1. 523111
 - 2. 115195
 - 3. 235123
 - 4. 111523

Question ID : 65497828734
Status : Answered
Chosen Option : 4

Q.24 दिए गए विकल्पों में से उस अक्षर-समूह का चयन करें जो निम्नलिखित श्रृंखला में प्रश्न चिह्न (?) के स्थान पर आ सकता है।

KMC, LOF, MQI, NSL, ?

- Ans
- 1. OUO
 - 2. UOW
 - 3. VOU
 - 4. OOU

Question ID : 65497828729
Status : Answered
Chosen Option : 1



Download SSC CGL, CHSL E-BOOKS

[CLICK HERE](#)

Q.25 दिए गए पैटर्न का ध्यानपूर्वक अध्ययन करें और विकल्पों में से उस संख्या को चुनें जो इसमें प्रश्न चिह्न (?) के स्थान पर आ सकती है।

7 8 9
4 2 ?
407 520 756

- Ans
- 1. 1
 - 2. 4
 - 3. 2
 - 4. 3

Question ID : 65497828742
Status : Answered
Chosen Option : 4

Section : Part B General Knowledge and General Awareness

Q.1 _____ एक भारतीय अमेरिकी पेशेवर पहलवान हैं, जो 'द ग्रेट खली' के नाम से प्रसिद्ध हैं।

- Ans
- 1. मनीष सिंह रावत
 - 2. सतनाम सिंह भामरा
 - 3. पान सिंह तोमर
 - 4. दलीप सिंह राणा

Question ID : 65497828766
Status : Not Answered
Chosen Option : --

Q.2 12वें ब्रिक्स (BRICS) सम्मेलन 2020 की मेज़बानी निम्नलिखित में से किस देश ने की थी?

- Ans
- 1. दक्षिण अफ्रीका
 - 2. रूस
 - 3. चीन
 - 4. भारत

Question ID : 65497828756
Status : Answered
Chosen Option : 2

Q.3 अठारहवीं शताब्दी के भारतीय युद्धों के संदर्भ में, 'पैदल सेना के सैनिकों द्वारा इस्तेमाल की जाने वाली भारी बंदूक' को निम्न में से क्या कहा जाता था?

- Ans
- 1. मैचलॉक
 - 2. सवार
 - 3. पैदल
 - 4. मस्कट

Question ID : 65497828748
Status : Not Answered
Chosen Option : --



Download SSC CGL, CHSL E-BOOKS

[CLICK HERE](#)