

## Constable GD in CAPFs NIA SSF and Rifleman GD in Assam Rifles Examination 2021

Roll Number	
Candidate Name	
Venue Name	Aurobindo International School Jaipur
Exam Date	06/12/2021
Exam Time :	4:00 PM - 5:30 PM
Subject	Constable GD 2021

### Section : Part A General Intelligence and Reasoning

Q.1 अक्षरों के उस संयोजन का चयन कीजिए, जिसे दी गई अक्षर श्रृंखला के रिक्त स्थानों में क्रमिक रूप से रखने पर श्रृंखला पूर्ण हो जाएगी।

H \_ M T \_ H O \_ T C H O M \_ C \_ O \_ T C

- Ans
- 1. M C M T H C
  - 2. H C M T O M
  - 3. O C T M C M
  - 4. O C M T H M

Question ID : 65497835833  
Status : Answered  
Chosen Option : 4

Q.2 एक निश्चित कूट भाषा में, 'MAYANK IS GREAT' को 're ge ne' लिखा जाता है, 'HE IS AN INDIAN' को 'te re pe me', लिखा जाता है, 'GREAT INDIAN CULTURE' को 'pe ge se' लिखा जाता है। उसी कूट भाषा में 'MAYANK' को किस प्रकार लिखा जाएगा?

- Ans
- 1. ge
  - 2. pe
  - 3. re
  - 4. ne

Question ID : 65497835837  
Status : Answered  
Chosen Option : 4

Q.3 उस विकल्प का चयन करें, जिसका तीसरे अक्षर-समूह से वही संबंध है, जो दूसरे अक्षर-समूह का पहले अक्षर-समूह से है।

QGNB : ZPWK :: HLMO : ?

- Ans
- 1. RVWY
  - 2. PUVX
  - 3. RVWZ
  - 4. QUVX

Question ID : 65497835836  
Status : Answered  
Chosen Option : 4



Download SSC CGL, CHSL E-BOOKS

[CLICK HERE](#)

Q.4 'त्रिभुज' का 'पिरामिड' से वही संबंध है, जो 'आयत' का '\_\_\_\_\_' से है।

- Ans
- 1. चतुर्भुज
  - 2. घनाभ
  - 3. शंकु
  - 4. घन

Question ID : 65497835849

Status : Answered

Chosen Option : 1

Q.5 किसी कूट भाषा में, 24391 को #∞x©\* और 15678 को \*β€μ£ लिखा जाता है। उसी कूट भाषा में 65432 को किस प्रकार लिखा जाएगा?

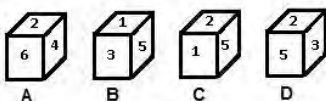
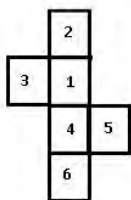
- Ans
- 1. β€#∞x
  - 2. #∞x β€
  - 3. €β∞x#
  - 4. x#€β∞

Question ID : 65497835841

Status : Answered

Chosen Option : 3

Q.6 उस पासे का चयन कीजिए, जिसे दी गई शीट को रेखाओं पर मोड़कर बनाया जा सकता है।



- Ans
- 1. केवल D और A
  - 2. केवल C
  - 3. केवल D
  - 4. केवल B और C

Question ID : 65497835842

Status : Answered

Chosen Option : 2



Download SSC CGL, CHSL E-BOOKS

[CLICK HERE](#)

Q.7 दिए गए विकल्पों में से वह सही विकल्प चुनिए, जो दिए गए शब्दों के उस क्रम को दर्शाता है, जिसमें वे अंग्रेजी शब्दकोश में मौजूद होते हैं।

1. Parade
2. Parallel
3. Pearl
4. Peanut
5. Peach

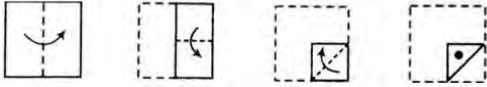
- Ans
- 1. 1, 2, 5, 3, 4
  - 2. 5, 2, 1, 4, 3
  - 3. 2, 1, 4, 5, 3
  - 4. 1, 2, 5, 4, 3

Question ID : 65497835832

Status : Answered

Chosen Option : 4

Q.8 नीचे दी गई आकृतियों में कागज के एक टुकड़े को मोड़ने का क्रम और उस मुड़े हुए कागज को काटने का तरीका दर्शाया गया है। इस कागज को खोलने पर यह कैसा दिखेगा?



Ans

- 1.
- 2.
- 3.
- 4.

Question ID : 65497835856

Status : Answered

Chosen Option : 4



Download SSC CGL, CHSL E-BOOKS

[CLICK HERE](#)

Q.9 एक संयुक्त परिवार में 9 सदस्य C, D, E, F, G, H, I, J और K हैं। परिवार में तीन विवाहित जोड़े हैं। D शिक्षक है तथा E और F का भाई है। G, I की मां हैं। J, C की पत्नी है, और C, I के दादा हैं। E, C की इकलौती पुत्री है। K, F और H की पुत्री है। शिक्षक की पत्नी कौन है?

- Ans
- 1. E
  - 2. J
  - 3. G
  - 4. H

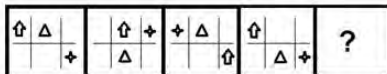
Question ID : 65497835838  
 Status : Answered  
 Chosen Option : 3

Q.10 सरयू ने अलग-अलग मूल्यों पर दो रेफ्रिजरेटर खरीदे, जिनके लिए उसने कुल ₹80,000 का भुगतान किया। इनमें से एक को उसके क्रय मूल्य के 3/4 पर और दूसरे को इसके क्रय मूल्य के 4/3 पर बेचने पर, उसे इस पूरे संव्यवहार में ₹8,000 का लाभ होता है। उस रेफ्रिजरेटर का क्रय मूल्य ज्ञात कीजिए, जिसे अधिक मूल्य पर खरीदा गया था।

- Ans
- 1. ₹50,000
  - 2. ₹40,000
  - 3. ₹48,000
  - 4. ₹45,000

Question ID : 65497835855  
 Status : Answered  
 Chosen Option : 1

Q.11 उस आकृति का चयन कीजिए जो निम्न आकृति श्रृंखला में प्रश्नवाचक चिह्न (?) के स्थान पर आएगी।



Ans

- 1.
- 2.
- 3.
- 4.

Question ID : 65497835835  
 Status : Answered  
 Chosen Option : 2

Q.12 एक विशिष्ट कूट भाषा में, BULK को 4212411 लिखा जाता है। उसी कूट भाषा में INCH को किस प्रकार लिखा जाएगा?

- Ans
- 1. 914128
  - 2. 914188
  - 3. 181468
  - 4. 181614

Question ID : 65497835845  
Status : Answered  
Chosen Option : 3

Q.13 दिए गए कथनों और निष्कर्षों को ध्यानपूर्वक पढ़ें। कथनों में दी गई जानकारी को सत्य मानते हुए विचार करें, भले ही वह सामान्यतः ज्ञात तथ्यों से भिन्न प्रतीत होती हो, और बताएं कि दिए गए निष्कर्षों में से कौन से तार्किक रूप से कथनों का पालन करते हैं?

कथन:

कुछ लॉकर, चाबियां हैं।  
कुछ चाबियां, दरवाजे हैं।

निष्कर्ष:

- I. कुछ लॉकर, दरवाजे हैं।
- II. सभी चाबियां, दरवाजे हैं।

- Ans
- 1. केवल निष्कर्ष I पालन करता है।
  - 2. निष्कर्ष I और II दोनों ही पालन करते हैं।
  - 3. केवल निष्कर्ष II पालन करता है।
  - 4. न तो निष्कर्ष I और न ही निष्कर्ष II पालन करता है।

Question ID : 65497835853  
Status : Answered  
Chosen Option : 4

Q.14 निम्नलिखित चार अक्षर-समूहों में से तीन किसी तरह से संगत हैं और एक असंगत है। असंगत अक्षर-समूह का चयन करें।

- Ans
- 1. UYW
  - 2. LPN
  - 3. DHF
  - 4. OQP

Question ID : 65497835844  
Status : Answered  
Chosen Option : 4



Download SSC CGL, CHSL E-BOOKS

[CLICK HERE](#)

Q.15 उस वेन आरेख का चयन करें, जो निम्नलिखित वर्गों के बीच के संबंध को सबसे अच्छे तरीके से दर्शाता है।

कबूतर, भालू, पक्षी

Ans

- 1.
- 2.
- 3.
- 4.

Question ID : 65497835851

Status : Answered

Chosen Option : 4

Q.16 दिए गए संयोजन के उस सही दर्पण प्रतिबिंब का चयन करें जो दर्पण को PQ पर रखने पर बनेगा।

CQ6RUL |  
PQ

Ans

- 1.
- 2.
- 3.
- 4.

Question ID : 65497835847

Status : Answered

Chosen Option : 4

Q.17 सात सहेलियां - प्रणवी, विनीता, रूपा, सौम्या, भावना, उर्मिला और आरोही, वृत्ताकार स्थिति में केंद्र की ओर मुख करके बैठी हैं। आरोही, सौम्या के बाईं ओर दूसरे स्थान पर है तथा भावना और उर्मिला की पड़ोसी है। सौम्या, रूपा या भावना की पड़ोसी नहीं है। प्रणवी, विनीता और रूपा की पड़ोसी है। दी गई जानकारी के आधार पर, निम्न में से कौन सा कथन सही है?

Ans

1. आरोही, रूपा और प्रणवी के बीच में बैठी है।
2. सौम्या, उर्मिला और आरोही के बीच में बैठी है।
3. रूपा, भावना और प्रणवी के बीच में बैठी है।
4. विनीता, भावना और प्रणवी के बीच में बैठी है।

Question ID : 65497835839

Status : Answered

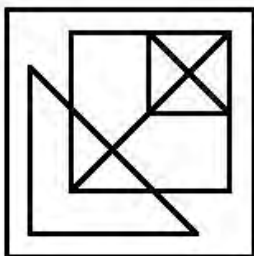
Chosen Option : 3



Download SSC CGL, CHSL E-BOOKS

CLICK HERE

Q.18 दी गई आकृति में अंतर्निहित त्रिभुजों की कुल संख्या ज्ञात कीजिए।



- Ans
- 1. 9
  - 2. 14
  - 3. 12
  - 4. 10

Question ID : 65497835843  
Status : Answered  
Chosen Option : 2

Q.19 दिए गए विकल्पों में से उस अक्षर-समूह का चयन करें, जो निम्नलिखित श्रृंखला में प्रश्नवाचक चिह्न (?) के स्थान पर आ सकता है।

XGC, UHE, RIH, ?

- Ans
- 1. OJL
  - 2. OKL
  - 3. PJL
  - 4. OJK

Question ID : 65497835848  
Status : Answered  
Chosen Option : 1

Q.20 दिए गए पैटर्न का ध्यानपूर्वक अध्ययन करें और उस संख्या का चयन करें, जो इसमें प्रश्न चिह्न (?) के स्थान पर आ सकती है।

3 13 4  
4 27 11  
6 ? 31

- Ans
- 1. 76
  - 2. 67
  - 3. 56
  - 4. 65

Question ID : 65497835854  
Status : Answered  
Chosen Option : 2



Download SSC CGL, CHSL E-BOOKS

[CLICK HERE](#)

Q.21 दिए गए विकल्पों में से उस संख्या का चयन कीजिए, जो निम्नलिखित श्रेणी में प्रश्न चिह्न (?) के स्थान पर आ सकती है।

13, 27, 56, 115, 234, ?

- Ans  1. 702  
 2. 455  
 3. 468  
 4. 473

Question ID : 65497835834  
Status : Answered  
Chosen Option : 4

Q.22 उस विकल्प का चयन कीजिए, जिसका चौथी संख्या से वही संबंध है, जो पहली संख्या का दूसरी संख्या से है।

36 : 9 :: ? : 16

- Ans  1. 65  
 2. 80  
 3. 64  
 4. 61

Question ID : 65497835840  
Status : Answered  
Chosen Option : 3

Q.23 किसी कूट भाषा में, 'TABLET' को 'WYFJJR' लिखा जाता है। उसी कूट भाषा में, 'INSERT' को किस प्रकार लिखा जाएगा?

- Ans  1. LLWCWR  
 2. LWLWCR  
 3. LLCWWR  
 4. LLWWCR

Question ID : 65497835852  
Status : Answered  
Chosen Option : 1

Q.24 दिए गए विकल्पों में से उस संख्या का चयन करें, जो निम्नलिखित श्रेणी में प्रश्न चिह्न (?) के स्थान पर आ सकती है।

23, 28, 38, 55, 81, ?

- Ans  1. 118  
 2. 104  
 3. 136  
 4. 99

Question ID : 65497835846  
Status : Answered  
Chosen Option : 1



Download SSC CGL, CHSL E-BOOKS

[CLICK HERE](#)



Q.25 J, H, Q, S, X, L और। एक सीधी पंक्ति में दक्षिण दिशा की ओर मुख करके बैठे हैं, किंतु उनका उपरोक्त क्रम में होना अनिवार्य नहीं है। J और Q के बीच में दो व्यक्ति बैठे हैं। X, J और S के बीच में बैठा है और H के दाईं ओर दूसरे स्थान पर बैठा है। L, Q के बाईं ओर दूसरे स्थान पर बैठा है और। के बाईं ओर ठीक बगल में बैठा है। Q और H, सीधी पंक्ति के सिरों पर बैठे हैं। निम्नलिखित में से कौन J के बाईं ओर तीसरे स्थान पर बैठा है?

- Ans
- 1. S
  - 2. H
  - 3. Q
  - 4. L

Question ID : 65497835850  
Status : Answered  
Chosen Option : 2

Section : Part B General Knowledge and General Awareness

Q.1 बंगाल किसके नेतृत्व में धीरे-धीरे मुगल नियंत्रण से अलग हो गया?

- Ans
- 1. मुकर्रम खान
  - 2. अली कादिर
  - 3. मुर्शिद कुली खान
  - 4. अलीवर्दी खान

Question ID : 65497835879  
Status : Answered  
Chosen Option : 3

Q.2 HIV (एच.आई.वी.) एक विषाणु है, जो शरीर की प्रतिरक्षा प्रणाली पर हमला करता है। HIV (एच.आई.वी.) का पूर्ण रूप क्या है?

- Ans
- 1. Human infectious virus (ह्यूमन इंफेक्शियस वायरस)
  - 2. Human immunodeficiency virus (ह्यूमन इम्यूनोडेफिशिएंसी वायरस)
  - 3. Herpes immunodeficiency virus (हर्पीज इम्यूनोडेफिशिएंसी वायरस)
  - 4. Human immunity deficiency virus (ह्यूमन इम्युनिटी डेफिशिएंसी वायरस)

Question ID : 65497835867  
Status : Answered  
Chosen Option : 2

Q.3 निम्नलिखित में से किसे ओलंपिक खेलों में पदक प्राप्त करने वाले पहले भारतीय मुक्केबाज होने का गौरव प्राप्त है?

- Ans
- 1. मैरी कॉम
  - 2. अखिल कुमार
  - 3. विजेन्द्र सिंह
  - 4. लैशराम सरिता देवी

Question ID : 65497835857  
Status : Answered  
Chosen Option : 1



Download SSC CGL, CHSL E-BOOKS

CLICK HERE