

Constable GD in CAPFs NIA SSF and Rifleman GD in Assam Rifles Examination 2021

Roll Number	
Candidate Name	
Venue Name	ION Digital Zone iDZ Naino Ka Bas
Exam Date	06/12/2021
Exam Time :	12:30 PM - 2:00 PM
Subject	Constable GD 2021

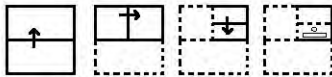
Section : **Part A General Intelligence and Reasoning**

Q.1 छह मित्र, अजय, नीतू, सीमा, कविता, मनोज और विजय, एक वृत्ताकार मेज के परितः बैठे हैं, उनकी पीठ मेज के केंद्र की ओर है। मनोज, सीमा और नीतू के बीच में बैठा है। अजय, सीमा के बाईं ओर ठीक बगल में बैठा है। कविता, नीतू की पड़ोसी नहीं है। सीमा के दाईं ओर तीसरे स्थान पर कौन बैठा/बैठी है?

- Ans**
- 1. कविता
 - 2. विजय
 - 3. नीतू
 - 4. अजय

Question ID : **65497833932**
 Status : **Answered**
 Chosen Option : **2**

Q.2 कागज के एक टुकड़े को मोड़ने के क्रम और मुड़े हुए कागज को काटने के तरीके को निम्नलिखित आकृतियों में दर्शाया गया है। खोलने पर, यह कागज़ कैसा दिखाई देगा?



- Ans**
- 1.
 - 2.
 - 3.
 - 4.

Question ID : **65497833946**
 Status : **Answered**
 Chosen Option : **4**

Q.3 'काबुल' का 'अफ़गानिस्तान' से वही संबंध है, जो 'कैनबरा' का ' _____ ' से है।

- Ans
- 1. ऑस्ट्रिया
 - 2. ऑस्ट्रेलिया
 - 3. बेल्जियम
 - 4. अर्जेंटीना

Question ID : 65497833931
Status : Answered
Chosen Option : 2

Q.4 उस विकल्प का चयन करें, जिसका तीसरे अक्षर-समूह से वही संबंध है, जो दूसरे अक्षर-समूह का पहले अक्षर-समूह से है।

ATRG : BWSJ :: MQSJ : ?

- Ans
- 1. OSWL
 - 2. PTVN
 - 3. NTTM
 - 4. NRTN

Question ID : 65497833927
Status : Answered
Chosen Option : 3

Q.5 दिए गए विकल्पों में से उस आकृति का चयन कीजिए जो दी गई श्रृंखला में प्रश्न चिह्न (?) के स्थान पर आ सकती है।



- Ans
- 1.
 - 2.
 - 3.
 - 4.

Question ID : 65497833941
Status : Answered
Chosen Option : 1



Q.6 एक परिवार में सात सदस्य S, T, U, V, W, X और Y हैं। पाँच सदस्य अलग-अलग व्यवसायों में अर्थात् शिक्षक, चिकित्सक, नर्स, इंजीनियर और वैज्ञानिक हैं। परिवार में दो विवाहित जोड़े हैं। S चिकित्सक है, जिसका विवाह Y से हुआ है, जो शिक्षक है। W वैज्ञानिक है, जो Y का ससुर है। V और U, S के बच्चे हैं, जो क्रमशः 6वीं और 8वीं कक्षा में पढ़ते हैं। X, T की मां हैं। S, T का भाई है, और T इंजीनियर है। W की पत्नी कौन है?

Ans 1. X

2. Y

3. T

4. S

Question ID : 65497833929

Status : Answered

Chosen Option : 1

Q.7 दी गई आकृति के सही दर्पण प्रतिबिंब का चयन करें, जो दर्पण को दी गई आकृति की दाईं ओर रखने पर बनेगा।



Ans

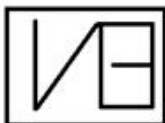
1.



2.



3.



4.



Question ID : 65497833937

Status : Answered

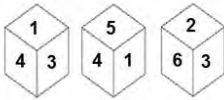
Chosen Option : 4



Download SSC CGL, CHSL E-BOOKS

[CLICK HERE](#)

Q.8 एक ही पासे की तीन अलग-अलग स्थितियाँ दर्शाई गई हैं, जिसके छह फलकों पर 1 से 6 तक अंक दिए गए हैं। उस संख्या का चयन करें, जो अंक '3' वाले फलक के विपरीत फलक पर होगी।



- Ans
- 1. 1
 - 2. 6
 - 3. 2
 - 4. 5

Question ID : 65497833950
Status : Answered
Chosen Option : 4

Q.9 उस विकल्प का चयन कीजिए, जिसका तीसरी संख्या से वही संबंध है, जो दूसरी संख्या का पहली संख्या से है और छठी संख्या का पांचवी संख्या से है।

$$48 : 32 :: 73 : ? :: 25 : 10$$

- Ans
- 1. 21
 - 2. 11
 - 3. 7
 - 4. 13

Question ID : 65497833948
Status : Not Answered
Chosen Option : --

Q.10 एक निश्चित कूट भाषा में, 'BATTLE' को '4240402410' लिखा जाता है। उसी कूट भाषा में 'KINGDOM' को किस प्रकार लिखा जाएगा?

- Ans
- 1. 2219281583026
 - 2. 2218291483026
 - 3. 2219281483026
 - 4. 2218281483026

Question ID : 65497833935
Status : Answered
Chosen Option : 4

Q.11 दिए गए समीकरण को सही करने के लिए किन दो चिह्नों को आपस में बदला जाना चाहिए?

$$63 \div 21 - 7 + 28 \times 3 = 144$$

- Ans
- 1. + और -
 - 2. + और -
 - 3. + और +
 - 4. × और +

Question ID : 65497833949
Status : Answered
Chosen Option : 1



Download SSC CGL, CHSL E-BOOKS

[CLICK HERE](#)

Q.12 उस अक्षर संयोजन का चयन करें, जिसे दी गई श्रृंखला के रिक्त स्थानों में क्रमिक रूप से रखे जाने पर श्रृंखला पूर्ण हो जाएगी।

K_TQ_KPT_R_PTQ_KP_QR

- Ans 1. P, R, T, P, K, Q
 2. P, K, R, Q, R, T
 3. P, K, Q, R, T, R
 4. P, R, Q, K, R, T

Question ID : 65497833939
Status : Answered
Chosen Option : 4

Q.13 एक निश्चित कूट भाषा में FAX को EGZBWY लिखा जाता है। उसी कूट भाषा में SKIN को किस प्रकार लिखा जाएगा?

- Ans 1. RTJLHLMP
 2. RTJMHJMO
 3. RTJLHJLO
 4. RTJLHJMO

Question ID : 65497833942
Status : Answered
Chosen Option : 4

Q.14 दिए गए कथनों और निष्कर्षों को ध्यानपूर्वक पढ़ें। कथनों में दी गई जानकारी को सत्य मानते हुए विचार करें, भले ही वह सामान्यतः ज्ञात तथ्यों से भिन्न प्रतीत होती हो, और तय करें कि दिए गए निष्कर्षों में से कौन से कथनों का तार्किक रूप से पालन करते हैं?

कथन:

कोई रचनात्मक नियोक्ता नहीं है।
सभी विशेषज्ञ रचनात्मक हैं।
सभी कर्मचारी विशेषज्ञ हैं।

निष्कर्ष:

I. कोई नियोक्ता विशेषज्ञ नहीं है।
II. कोई कर्मचारी नियोक्ता नहीं है।

- Ans 1. केवल निष्कर्ष I पालन करता है।
 2. केवल निष्कर्ष II पालन करता है।
 3. न तो निष्कर्ष I और न ही II पालन करता है।
 4. निष्कर्ष I और II दोनों ही पालन करते हैं।

Question ID : 65497833943
Status : Answered
Chosen Option : 4



Download SSC CGL, CHSL E-BOOKS

[CLICK HERE](#)

Q.15 एक निश्चित कूट भाषा में, 'ROSE IS RED' को 'tic ric sic' लिखा जाता है, 'SKY IS BLUE' को 'vic ric fic', लिखा जाता है, और 'DANGER SIGNALS ARE RED' को 'mic nic tic kic' लिखा जाता है। उसी कूट भाषा में 'ROSE' को किस प्रकार लिखा जाएगा?

- Ans
- 1. ric
 - 2. tic
 - 3. sic
 - 4. fic

Question ID : 65497833928
Status : Answered
Chosen Option : 3

Q.16 चार अक्षर-समूह दिए गए हैं, जिनमें से तीन किसी तरह से संगत हैं और एक असंगत है। असंगत अक्षर-समूह का चयन कीजिए।

- Ans
- 1. RWY
 - 2. LQS
 - 3. FKM
 - 4. RXZ

Question ID : 65497833934
Status : Answered
Chosen Option : 4

Q.17 उस सही विकल्प का चयन कीजिए, जो दिए गए शब्दों के उस क्रम को दर्शाता है जिस क्रम में वे अंग्रेजी शब्दकोश में मौजूद होते हैं।

1. Modification
2. Migraine
3. Midstream
4. Modernize
5. Marvellous

- Ans
- 1. 5, 3, 2, 4, 1
 - 2. 5, 2, 3, 4, 1
 - 3. 5, 3, 1, 4, 2
 - 4. 5, 2, 1, 4, 3

Question ID : 65497833938
Status : Answered
Chosen Option : 1



Q.18 उस विकल्प का चयन करें, जिसमें दी गई आकृति अंतर्निहित है (आकृति को घुमाने की अनुमति नहीं है)।



Ans

✓ 1.



✗ 2.



✗ 3.



✗ 4.



Question ID : 65497833951

Status : Answered

Chosen Option : 1

Q.19 सात मित्र एक वृत्ताकार मेज के इर्द-गिर्द केंद्र की ओर मुख करके बैठे हैं। राज, सचिन के बाईं ओर दूसरे स्थान पर बैठा है। दीनू, कृप और वीर के बीच में बैठा है। दीनू, सचिन के दाईं ओर दूसरे स्थान पर बैठा है। राज, वीर के दाईं ओर चौथे स्थान पर बैठा है। राँकी, सैम के दाईं ओर दूसरे स्थान पर बैठा है। वीर के बाईं ओर दूसरे स्थान पर कौन बैठा है?

Ans

✓ 1. राँकी

✗ 2. राज

✗ 3. सैम

✗ 4. दीनू

Question ID : 65497833947

Status : Answered

Chosen Option : 1

Q.20 दिए गए विकल्पों में से उस अक्षर-समूह का चयन कीजिए, जो निम्नलिखित श्रृंखला में प्रश्न चिह्न (?) के स्थान पर आ सकता है।

FDG, IIL, LNQ, ?

Ans

✗ 1. OST

✗ 2. RVT

✓ 3. OSV

✗ 4. SWZ

Question ID : 65497833930

Status : Answered

Chosen Option : 3



Download SSC CGL, CHSL E-BOOKS

[CLICK HERE](#)

Q.21 उस विकल्प का चयन करें, जिसमें दी गई संख्याओं के बीच वही संबंध है, जो दिए गए समूह की संख्याओं के बीच है।

44, 70, 57

Ans 1. 34, 68, 51

2. 46, 80, 70

3. 28, 56, 112

4. 32, 50, 46

Question ID : 65497833944

Status : Answered

Chosen Option : 1

Q.22 दिए गए विकल्पों में से उस संख्या का चयन कीजिए, जो निम्नलिखित श्रेणी में प्रश्न चिह्न (?) के स्थान पर आ सकती है।

11, 19, 59, 115, 347, ?

Ans 1. 619

2. 679

3. 691

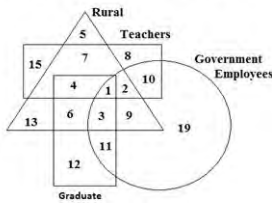
4. 697

Question ID : 65497833940

Status : Answered

Chosen Option : 3

Q.23 दिए गए आरेख का ध्यानपूर्वक अध्ययन करें और निम्न प्रश्न का उत्तर दें।



उन ग्रामीण सरकारी शिक्षकों (Rural Government Teachers) की संख्या क्या है, जो स्नातक (Graduate) नहीं हैं?

Ans 1. 2

2. 9

3. 1

4. 3

Question ID : 65497833933

Status : Answered

Chosen Option : 1



Download SSC CGL, CHSL E-BOOKS

[CLICK HERE](#)

Q.24 अनुज के दादा की आयु, अनुज की आयु की 4 गुनी है। अनुज की दादी की आयु, उसके दादा की आयु से 5 वर्ष कम है। अनुज की दादी और दादा की आयु का योग 107 वर्ष है। अनुज की आयु कितनी है?

- Ans
- 1. 18 वर्ष
 - 2. 12 वर्ष
 - 3. 14 वर्ष
 - 4. 16 वर्ष

Question ID : 65497833945
Status : Answered
Chosen Option : 3

Q.25 दिए गए विकल्पों में से उस संख्या का चयन कीजिए, जो निम्नलिखित श्रेणी में प्रश्न चिह्न (?) के स्थान पर आ सकती है।

1, 9, 36, 100, ?

- Ans
- 1. 196
 - 2. 169
 - 3. 144
 - 4. 225

Question ID : 65497833936
Status : Answered
Chosen Option : 4

Section : Part B General Knowledge and General Awareness

Q.1 पहला भारतीय वाणिज्यिक बैंक, जिसका पूर्ण स्वामित्व और प्रबंधन भारतीयों के हाथों में था, _____ में स्थापित किया गया था।

- Ans
- 1. 1948
 - 2. 1950
 - 3. 1919
 - 4. 1911

Question ID : 65497833971
Status : Answered
Chosen Option : 2

Q.2 नवंबर 2020 में, भारतीय नौसेना की पांचवीं स्कॉर्पिन (Scorpene) श्रेणी की पनडुब्बी _____ मुंबई के मझगांव डॉक में जलावतरित की गई।

- Ans
- 1. खंडेरी
 - 2. वागीर
 - 3. वेला
 - 4. वागशीर

Question ID : 65497833956
Status : Answered
Chosen Option : 2



Download SSC CGL, CHSL E-BOOKS

[CLICK HERE](#)