

Constable GD in CAPFs NIA SSF and Rifleman GD in Assam Rifles Examination 2021

Roll Number	
Candidate Name	
Venue Name	iON Digital Zone iDZ3 Patliputra
Exam Date	06/12/2021
Exam Time :	9:00 AM - 10:30 AM
Subject	Constable GD 2021

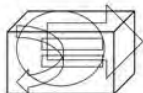
Section : Part A General Intelligence and Reasoning

Q.1 'संशोधन (Rectification)' का 'सुधार (Correction)' से वही संबंध है, जो 'निष्कासन (Eviction)' का '_____' से है।

- Ans
- 1. सराहना (Commend)
 - 2. निर्वासन (Expulsion)
 - 3. विस्मयादिबोधक (Exclamation)
 - 4. संवेदानात्मक (Sensational)

Question ID : 65497831915
Status : Answered
Chosen Option : 2

Q.2 उस विकल्प का चयन करें जिसमें दी गई आकृति अंतर्निहित है (घुमाने की अनुमति नहीं है)।



- Ans
- 1.
 - 2.
 - 3.
 - 4.

Question ID : 65497831911
Status : Answered
Chosen Option : 1



Download SSC CGL, CHSL E-BOOKS

[CLICK HERE](#)

Q.3 दिए गए कथनों और निष्कर्षों को ध्यान से पढ़ें। यह मानते हुए कि कथनों में दी गई जानकारी सत्य है, भले ही यह सामान्य रूप से ज्ञात तथ्यों से भिन्न प्रतीत होती हो, यह निर्णय लें कि दिए गए निष्कर्षों में से कौन से निष्कर्ष कथनों का तार्किक रूप से अनुसरण करते हैं।

कथन:

सभी बिल्लियां, कुत्ते हैं।
सभी कुत्ते, हाथी हैं।
कोई भी हाथी, गाय नहीं है।

निष्कर्ष:

I. सभी बिल्लियां, हाथी हैं।
II. सभी हाथी, बिल्लियां हैं।

- Ans 1. केवल निष्कर्ष I अनुसरण करता है।
 2. केवल निष्कर्ष II अनुसरण करता है।
 3. न तो निष्कर्ष I और न ही निष्कर्ष II अनुसरण करता है।
 4. निष्कर्ष I और II दोनों अनुसरण करते हैं।

Question ID : 65497831900
Status : Answered
Chosen Option : 1

Q.4 विकल्पों में चार संख्या-त्रय दिए गए हैं, जिनमें से तीन किसी तरह से एक समान हैं और एक असंगत है। उस संख्या-त्रय का चयन करें जो अन्यो से असंगत है।

- Ans 1. (6, 36, 216)
 2. (5, 25, 125)
 3. (9, 81, 729)
 4. (8, 64, 412)

Question ID : 65497831901
Status : Answered
Chosen Option : 4

Q.5 दिए गए विकल्पों में से उस संख्या का चयन कीजिए, जो निम्नलिखित श्रेणी में प्रश्नवाचक चिन्ह (?) के स्थान पर आ सकती है।

11, 29, 65, 137, 281, ?

- Ans 1. 391
 2. 569
 3. 540
 4. 442

Question ID : 65497831917
Status : Answered
Chosen Option : 2



Download SSC CGL, CHSL E-BOOKS

[CLICK HERE](#)

Q.6 दिए गए चित्र का जल में निर्मित सही प्रतिबिंब चयनित कीजिए।

Y R e m N 4

Ans

- 1. 
- 2. 
- 3. 
- 4. 

Question ID : 65497831898

Status : Answered

Chosen Option : 4

Q.7 निम्न आरेख में, 'पंचभुज', 'एथलीटों' को निरूपित करता है, 'षट्भुज', 'भारतीयों' को निरूपित करता है, और 'वृत्त', 'पदक विजेताओं' को निरूपित करता है। विभिन्न खंडों में दी गई संख्याएं, उस श्रेणी के व्यक्तियों की संख्या को दर्शाती हैं।



कितने भारतीय पदक विजेता हैं, लेकिन एथलीट नहीं हैं?

Ans

- 1. 7
- 2. 9
- 3. 6
- 4. 5

Question ID : 65497831919

Status : Answered

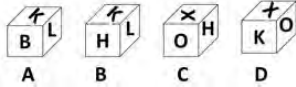
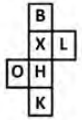
Chosen Option : 1



Download SSC CGL, CHSL E-BOOKS

[CLICK HERE](#)

Q.8 उस/उन पासे/पासों का चयन करें जिसे/जिन्हें दिए गए पत्रक (sheet) को मोड़ कर बनाया जा सकता है।



- Ans
- 1. A और B
 - 2. A, B, C और D
 - 3. A और C
 - 4. A, B और C

Question ID : 65497831910
 Status : Answered
 Chosen Option : 4

Q.9 पांच व्यक्ति एक वृत्ताकार मेज के परितः मेज के केंद्र की ओर मुंह करके बैठे हुए हैं। श्वेता, कार्तिक के बाईं ओर बगल में बैठी है। माही, जेनी के दाईं ओर दूसरे स्थान पर बैठी है। जेनी, सुवर्णा और कार्तिक के बीच में बैठी है। सुवर्णा के दाईं ओर दूसरे स्थान पर कौन बैठा है?

- Ans
- 1. श्वेता
 - 2. कार्तिक
 - 3. जेनी
 - 4. माही

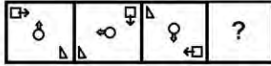
Question ID : 65497831916
 Status : Answered
 Chosen Option : 1

Q.10 एक निश्चित कूट भाषा में, 'LAWYER' को 'LWEAYR' के रूप में लिखा जाता है और 'ADVICE' को 'AVCDIE' के रूप में लिखा जाता है। उसी कूट भाषा में 'COURTS' को किस रूप में लिखा जाएगा?

- Ans
- 1. STRUOC
 - 2. OUTRSC
 - 3. OURUST
 - 4. CUTORS

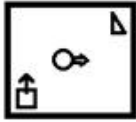
Question ID : 65497831899
 Status : Answered
 Chosen Option : 4

Q.11 दिए गए विकल्पों में से उस आकृति का चयन कीजिए, जो निम्न आकृति श्रृंखला में प्रश्नवाचक चिन्ह (?) के स्थान पर आ सकती है।



Ans

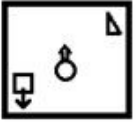
✓ 1.



✗ 2.



✗ 3.



✗ 4.



Question ID : 65497831918
Status : Answered
Chosen Option : 1

Q.12 उस विकल्प का चयन करें जो तीसरी संख्या से उसी प्रकार संबंधित है, जिस प्रकार दूसरी संख्या पहली संख्या से संबंधित है।

23 : 299 :: 24 : ?

Ans ✗ 1. 310

✓ 2. 312

✗ 3. 300

✗ 4. 306

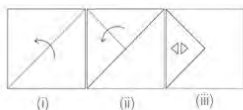
Question ID : 65497831908
Status : Answered
Chosen Option : 2



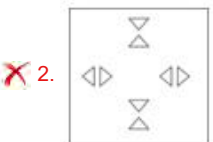
Download SSC CGL, CHSL E-BOOKS

[CLICK HERE](#)

Q.13 नीचे दी गई आकृतियों में कागज़ के एक टुकड़े को मोड़ने और मोड़े गए कागज़ को काटने के तरीके का क्रम दर्शाया गया है। कागज़ को खोले जाने पर वह कैसा दिखाई देगा?



Ans



Question ID : 65497831903

Status : Answered

Chosen Option : 1

Q.14 यदि '₹' का अर्थ '+', '@' का अर्थ '-', '#' का अर्थ 'x' और '\$' का अर्थ '÷' है, तो 46 ₹ 23 # 21 \$ 3 @ 17 का मान क्या होगा?

Ans ✗ 1. 466

✗ 2. 353

✓ 3. 190

✗ 4. 299

Question ID : 65497831909

Status : Answered

Chosen Option : 3



Download SSC CGL, CHSL E-BOOKS

[CLICK HERE](#)

Q.15 अरविंद, कुणाल, निधि, पवन, साहिल, तान्या, तन्मय और सुनीता नाम के आठ व्यक्ति एक वृत्ताकार मेज के परितः मेज के केंद्र की ओर मुंह किए हुए बैठे हुए हैं। निधि, साहिल के दाएँ दूसरे स्थान पर बैठी है। कुणाल, पवन के दाएँ दूसरे स्थान पर बैठा है। तन्मय, पवन के बाएँ तीसरे स्थान पर बैठा है। सुनीता, तन्मय के बाएँ और अरविंद के दाएँ बगल में बैठी है। तान्या, अरविंद के दाएँ तीसरे स्थान पर बैठी है। निधि और साहिल के बीच में कौन बैठा/बैठी है?

- Ans
- 1. पवन
 - 2. तान्या
 - 3. तन्मय
 - 4. कुणाल

Question ID : 65497831907
Status : Answered
Chosen Option : 1

Q.16 उस सही विकल्प का चयन कीजिए, जो दिए गए शब्दों के उस क्रम को दर्शाता है, जिस क्रम में वे अंग्रेज़ी शब्दकोश में मौजूद होते हैं।

- 1. Season
- 2. Seating
- 3. Sense
- 4. Sealed
- 5. Seize

- Ans
- 1. 1, 4, 2, 5, 3
 - 2. 4, 1, 2, 5, 3
 - 3. 4, 1, 2, 3, 5
 - 4. 4, 2, 1, 5, 3

Question ID : 65497831913
Status : Answered
Chosen Option : 2

Q.17 दिए गए विकल्पों में से उस अक्षर-समूह का चयन करें, जो निम्नलिखित श्रृंखला में प्रश्नवाचक चिन्ह (?) के स्थान पर आ सकता है।

DNKB, GQNE, JTQH, MWTK, ?

- Ans
- 1. PZWN
 - 2. QZWM
 - 3. PAXN
 - 4. PZXO

Question ID : 65497831912
Status : Answered
Chosen Option : 1

Q.18 मनीष की ओर संकेत करते हुए अजय ने एक महिला से कहा, "वह मेरी बेटी की माँ के पिता का बेटा है।" अजय का मनीष से क्या संबंध है?

- Ans
- 1. जीजा
 - 2. चाचा
 - 3. ससुर
 - 4. भाई

Question ID : 65497831906
Status : Answered
Chosen Option : 1



Download SSC CGL, CHSL E-BOOKS

[CLICK HERE](#)

Q.19 उस विकल्प का चयन करें जो तीसरे अक्षर-समूह से उसी प्रकार संबंधित है जिस प्रकार दूसरा अक्षर-समूह पहले अक्षर-समूह से संबंधित है।

LGS : QHX :: NDP : ?

- Ans
- 1. TIU
 - 2. TEV
 - 3. SEU
 - 4. SIU

Question ID : 65497831904
Status : Answered
Chosen Option : 3

Q.20 दिए गए विकल्पों में से उस संख्या का चयन कीजिए जो निम्नलिखित श्रृंखला में प्रश्न चिह्न (?) के स्थान पर आ सकती है।

192, 179, 162, ?, 120, 91, 60

- Ans
- 1. 143
 - 2. 81
 - 3. 136
 - 4. 150

Question ID : 65497831897
Status : Answered
Chosen Option : 3

Q.21 चार अक्षर समूह दिए गए हैं, जिनमें से तीन एक तरह से समान हैं और एक असंगत है। उस असंगत अक्षर समूह का चयन कीजिए।

- Ans
- 1. EIU
 - 2. OEU
 - 3. AEI
 - 4. QNV

Question ID : 65497831895
Status : Answered
Chosen Option : 4

Q.22 अक्षरों के उस संयोजन का चयन कीजिए, जिसे दी गई श्रृंखला के रिक्त स्थानों में क्रमबद्ध रूप से रखने पर श्रृंखला पूर्ण हो जाएगी।

W _ A T _ W X _ _ Q _ _ A T Q

- Ans
- 1. X Q A T W X
 - 2. X Q A T W A
 - 3. X Q A Q W X
 - 4. A Q A T W X

Question ID : 65497831914
Status : Answered
Chosen Option : 1



Download SSC CGL, CHSL E-BOOKS

[CLICK HERE](#)

Q.23 एक प्राकृतिक संख्या X, उसकी अग्रवर्ती प्राकृतिक संख्या Y और Y की पांच गुनी एक अन्य प्राकृतिक संख्या, तीनों का योगफल 104 है। संख्या X का मान ज्ञात करें।

- Ans 1. 14
 2. 15
 3. 17
 4. 16

Question ID : 65497831902
Status : Answered
Chosen Option : 4

Q.24 एक निश्चित कूट भाषा में, 'STUDIES' को '60433' के रूप में कूटबद्ध किया गया है और 'PACKAGE' को '201113' के रूप में कूटबद्ध किया गया है। उसी कूट भाषा में 'BLOWING' को किस रूप में कूटबद्ध किया जाएगा?

- Ans 1. 292440
 2. 292330
 3. 282430
 4. 292431

Question ID : 65497831896
Status : Not Answered
Chosen Option : --

Q.25 एक निश्चित कूट भाषा में, 'KAPIL' को 'NDRKN' के रूप में लिखा जाता है और 'SAROJ' को 'VDTQL' के रूप में लिखा जाता है। उसी कूट भाषा में 'POOJA' को किस रूप में लिखा जाएगा?

- Ans 1. SRRLC
 2. SQPMC
 3. SRQLC
 4. SRRMD

Question ID : 65497831905
Status : Answered
Chosen Option : 3

Section : Part B General Knowledge and General Awareness

Q.1 अक्टूबर 2020 में निम्न में से किस बैंक ने व्हाट्सएप पर बैंकिंग सेवाओं का शुभारंभ किया था?

- Ans 1. बैंक ऑफ़ बड़ौदा (Bank of Baroda)
 2. आई.सी.आई.सी.आई. बैंक (ICICI Bank)
 3. आई.डी.बी.आई. बैंक (IDBI Bank)
 4. एच.डी.एफ़.सी. बैंक (HDFC Bank)

Question ID : 65497831931
Status : Answered
Chosen Option : 4



Download SSC CGL, CHSL E-BOOKS

[CLICK HERE](#)