

Constable GD in CAPFs NIA SSF and Rifleman GD in Assam Rifles Examination 2021

Roll Number	
Candidate Name	
Venue Name	iON Digital Zone iDZ Dholi Magri
Exam Date	03/12/2021
Exam Time :	4:00 PM - 5:30 PM
Subject	Constable GD 2021

Section : Part A General Intelligence and Reasoning

Q.1 किसी निश्चित कोड भाषा में, 'PERHAPS' को 'SPAHREP' के रूप में लिखा जाता है। उसी भाषा में 'CHEWING' को किस तरह लिखा जाएगा?

Ans 1. GNIWEHC

2. ECHNIGW

3. GNIEHWC

4. HGWENIC

Question ID : 65497828974

Status : Answered

Chosen Option : 1

Q.2 उस विकल्प का चयन करें, जिसमें संख्याएं एक-दूसरे से उसी तरह से संबंधित हैं जैसे दिए गए समुच्चय में संख्याएं एक-दूसरे से संबंधित हैं।

(13, 224, 15)

Ans 1. (22, 350, 16)

2. (19, 274, 15)

3. (9, 108, 12)

4. (17, 396, 21)

Question ID : 65497828976

Status : Answered

Chosen Option : 4



Download SSC CGL, CHSL E-BOOKS

[CLICK HERE](#)

Q.3 दिए गए कथनों और निष्कर्षों को ध्यानपूर्वक पढ़ें। कथनों में दी गई जानकारी को सत्य मानते हुए, भले ही वो सामान्य रूप से ज्ञात तथ्यों से भिन्न प्रतीत होती हो, बताइए कि निम्न में से कौन से निष्कर्ष कथनों का तार्किक रूप से अनुसरण करते हैं।

कथन:

1. कोई भी स्पीकर, फोन नहीं है।
2. सभी तार, फोन हैं।

निष्कर्ष:

- I. कुछ फोन, तार हैं।
- II. कोई भी तार, स्पीकर नहीं है।
- III. कोई भी फोन, स्पीकर नहीं है।

- Ans
- 1. केवल निष्कर्ष I और II अनुसरण करते हैं।
 - 2. केवल निष्कर्ष I अनुसरण करता है।
 - 3. केवल निष्कर्ष II और III अनुसरण करते हैं।
 - 4. सभी निष्कर्ष अनुसरण करते हैं।

Question ID : 65497828975

Status : Answered

Chosen Option : 4

Q.4 चार अक्षर-समूह दिए गए हैं, जिनमें से तीन किसी तरह से संगत हैं और एक असंगत है। उस अक्षर-समूह का चयन करें, जो अन्य से असंगत है।

- Ans
- 1. TYD
 - 2. RVB
 - 3. NSX
 - 4. GLQ

Question ID : 65497828995

Status : Answered

Chosen Option : 2

Q.5 विकल्पों में से उस संख्या का चयन कीजिए जो नीचे दी गई श्रृंखला में प्रश्न चिह्न (?) के स्थान पर आ सकती है।

4, 16, 64, 256, ?

- Ans
- 1. 512
 - 2. 252
 - 3. 320
 - 4. 1024

Question ID : 65497828988

Status : Answered

Chosen Option : 4



Download SSC CGL, CHSL E-BOOKS

[CLICK HERE](#)

Q.6 उस अक्षर संयोजन का चयन करें जिसे दी गई श्रृंखला के रिक्त स्थानों में क्रमिक रूप से रखे जाने पर श्रृंखला पूर्ण हो जाएगी।

BCD_B_DDBC_D_CDD

- Ans
- 1. BCBB
 - 2. CBDB
 - 3. DCDB
 - 4. CCDB

Question ID : 65497828987
Status : Answered
Chosen Option : 3

Q.7 दिए गए विकल्पों में से उस संख्या का चयन कीजिए, जो निम्नलिखित श्रेणी में प्रश्नवाचक चिन्ह (?) के स्थान पर आ सकती है।

13, 29, 62, 129, 264, ?

- Ans
- 1. 535
 - 2. 395
 - 3. 470
 - 4. 505

Question ID : 65497828997
Status : Answered
Chosen Option : 1

Q.8 उस विकल्प का चयन करें, जो दी गई आकृति में अंतर्निहित नहीं है (आकृति को घुमाने की अनुमति नहीं है)।



- Ans
- 1.
 - 2.
 - 3.
 - 4.

Question ID : 65497828994
Status : Answered
Chosen Option : 3



Download SSC CGL, CHSL E-BOOKS

[CLICK HERE](#)

Q.9 पंकज, अल्पेश, श्रीकुमार, दिनेश, नीरज और मनिंदर छः अलग-अलग पंक्तियों में एक के बाद एक के क्रम में बैठे हुए हैं। पंकज, अल्पेश से ठीक आगे वाली पंक्ति में बैठा है। दिनेश अंतिम पंक्ति में बैठा है। अल्पेश वाली पंक्ति से पहले चार पंक्तियां हैं। श्रीकुमार, नीरज के ठीक बाद वाली पंक्ति में है। मनिंदर पहली पंक्ति में नहीं है। मनिंदर के ठीक बाद वाली पंक्ति में कौन बैठा है?

- Ans
- 1. पंकज
 - 2. दिनेश
 - 3. नीरज
 - 4. अल्पेश

Question ID : 65497828983
Status : Answered
Chosen Option : 4

Q.10 दिए गए संयोजन के सही दर्पण प्रतिबिंब का चयन कीजिए, जबकि दर्पण को इसकी दाईं ओर रखा गया है।

X G f q 5 K

- Ans
- 1. K 9 p t G X
 - 2. K 2 p t G X
 - 3. K 2 b t G X
 - 4. K 2 p t G X

Question ID : 65497828998
Status : Answered
Chosen Option : 2

Q.11 एक निश्चित कूट भाषा में, ULTRA को 422440362 लिखा जाता है। उसी कूट भाषा में FUMING को किस प्रकार लिखा जाएगा?

- Ans
- 1. 122126181407
 - 2. 124026162814
 - 3. 144226182816
 - 4. 124226182814

Question ID : 65497828996
Status : Answered
Chosen Option : 4

Q.12 पीपूष ₹450 प्रति कंबल की दर से 4 कंबल खरीदता है। वह इन 4 कंबलों को गोपी को बेच देता है और अपने निवेश पर 12% का लाभ कमाता है। गोपी भी सभी 4 कंबल प्रीतम को बेच देता है और 15% का लाभ कमाता है। प्रीतम ने एक कंबल किस मूल्य पर खरीदा था?

- Ans
- 1. ₹602.40
 - 2. ₹579.60
 - 3. ₹622.50
 - 4. ₹529.60

Question ID : 65497828977
Status : Answered
Chosen Option : 2



Download SSC CGL, CHSL E-BOOKS

[CLICK HERE](#)

Q.13 दिए गए विकल्पों में से उस अक्षर-समूह का चयन कीजिए जो निम्न श्रृंखला में प्रश्न चिह्न (?) के स्थान पर आ सकता है।

PHMT, OGNU, NFOV, MEPW, ?

- Ans 1. LDQX
 2. NGQX
 3. NVKD
 4. LDRY

Question ID : 65497828979
Status : Answered
Chosen Option : 1

Q.14 उस विकल्प का चयन कीजिए, जिसका चौथी संख्या से वही संबंध है, जो पहली संख्या का दूसरी संख्या से है और पांचवीं संख्या का छठी संख्या से है।

50 : 9 :: ? : 14 :: 82 : 11

- Ans 1. 145
 2. 172
 3. 126
 4. 160

Question ID : 65497828991
Status : Answered
Chosen Option : 4

Q.15 उस विकल्प का चयन कीजिए जिसमें निम्न शब्दों के अंग्रेजी शब्दकोश के वर्णानुक्रम को दर्शाया गया है।

1. Hitch
2. Home
3. Hire
4. Hippo

- Ans 1. 4, 3, 2, 1
 2. 4, 3, 1, 2
 3. 1, 2, 3, 4
 4. 1, 3, 2, 4

Question ID : 65497828986
Status : Answered
Chosen Option : 2



Download SSC CGL, CHSL E-BOOKS

[CLICK HERE](#)

Q.16 वर्गों के उस समुच्चय का चयन कीजिए जिनके बीच के संबंध को निम्न वेन आरेख द्वारा सर्वोत्तम रूप से दर्शाया गया है।



Ans

- 1. महिलाएं, ड्राइवर, आर्किटेक्ट
- 2. डॉक्टर, करदाता, नर्स
- 3. प्रिंटर, टीवी, वाशिंग मशीन
- 4. कार, वाहन, स्कूटर

Question ID : 65497828985

Status : Answered

Chosen Option : 3

Q.17 मालती, विवेक की पत्नी के ससुर की बेटी है। अर्पित, नीतू का पोता है, जो कि दयाल की पत्नी है। विवेक, दयाल का इकलौता बेटा है। सुष्मिता, मालती की बहन है। विवेक की पत्नी का अर्पित से क्या संबंध है?

Ans

- 1. बुआ
- 2. माँ
- 3. नानी
- 4. मौसी

Question ID : 65497828984

Status : Answered

Chosen Option : 2

Q.18 जिस तरह से 'अटलांटिक' का संबंध 'महासागर' से है उसी तरह, 'पनामा' का संबंध '_____' से है।

Ans

- 1. परिवहन
- 2. नहर
- 3. भाषा
- 4. महाद्वीप

Question ID : 65497828980

Status : Answered

Chosen Option : 2

Q.19 सात व्यक्ति P, Q, R, S, T, U और V एक सीधी क्षैतिज पंक्ति में उत्तर की ओर मुख करके बैठे हैं। U, R के बाईं ओर दूसरे स्थान पर बैठा है। Q, V के बाईं ओर दूसरे स्थान पर बैठा है। T, R के बाईं ओर तीसरे स्थान पर बैठा है। S, P के दाईं ओर तीसरे स्थान पर बैठा है। यदि T किसी एक कोने पर बैठा है, तो दूसरे कोने पर कौन बैठा है?

Ans

- 1. Q
- 2. S
- 3. P
- 4. V

Question ID : 65497828990

Status : Answered

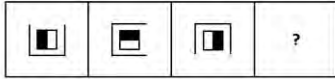
Chosen Option : 4



Download SSC CGL, CHSL E-BOOKS

[CLICK HERE](#)

Q.20 दिए गए विकल्पों में से उस आकृति का चयन करें, जो निम्न आकृति शृंखला में प्रश्नवाचक चिह्न (?) के स्थान पर आ सकती है।




Ans


1.



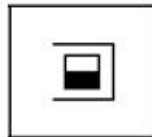
2.



3.



4.

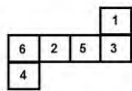


Question ID : 65497828989

Status : Answered

Chosen Option : 4

Q.21 दी गई शीट को मोड़कर एक घन बनाया जाता है। इस प्रकार निर्मित घन में, संख्या '3' वाले फलक के विपरीत फलक पर कौन सी संख्या मौजूद होगी?



Ans

1. 4

2. 1

3. 2

4. 6

Question ID : 65497828993

Status : Answered

Chosen Option : 3



Download SSC CGL, CHSL E-BOOKS

[CLICK HERE](#)

Q.22 दिए गए समीकरण को सही करने के लिए किन दो संख्याओं को आपस में बदला जाना चाहिए?

$$28 \times 3 + 14 - 45 \div 9 = 65$$

- Ans 1. 14 और 28
 2. 14 और 9
 3. 28 और 45
 4. 14 और 3

Question ID : 65497828992
Status : Answered
Chosen Option : 1

Q.23 उस विकल्प का चयन कीजिए जो तृतीय अक्षर-समूह से उसी तरह से संबंधित है जैसे द्वितीय अक्षर-समूह प्रथम अक्षर-समूह से संबंधित है।

A D I J : E S :: B D G H : ?

- Ans 1. Z C
 2. V M
 3. F O
 4. T Y

Question ID : 65497828981
Status : Answered
Chosen Option : 3

Q.24 एक निश्चित कूट भाषा में 'TARGET' को 'U b S h f U' और 'FLOW' को 'g M P X' लिखा जाता है। उसी भाषा में 'MACROS' कैसे लिखा जाएगा?

- Ans 1. N Z D s P t
 2. n b b S p t
 3. L z D S p T
 4. N b d S P T

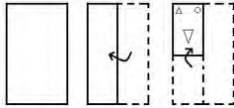
Question ID : 65497828982
Status : Answered
Chosen Option : 4



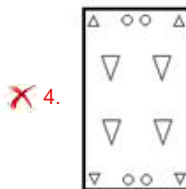
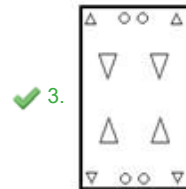
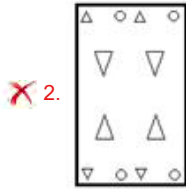
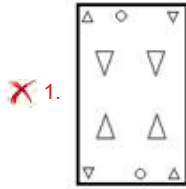
Download SSC CGL, CHSL E-BOOKS

[CLICK HERE](#)

Q.25 दिए गए चित्र में कागज के एक टुकड़े को मोड़ने का क्रम और मुड़े हुए टुकड़े को काटने की विधि दर्शाई गई है। यह कागज खोलने पर कैसा दिखेगा?



Ans



Question ID : 65497828978
 Status : Answered
 Chosen Option : 3

Section : Part B General Knowledge and General Awareness

Q.1 2020 की जूनियर स्पीड ऑनलाइन शतरंज चैम्पियनशिप निम्न में से किस भारतीय खिलाड़ी ने जीती?

- Ans**
- 1. निहाल सरीन
 - 2. रमेशबाबू प्रज्ञानानन्द
 - 3. मित्राबा गुहा
 - 4. डी. गुकेश

Question ID : 65497829014
 Status : Answered
 Chosen Option : 4