

Constable GD in CAPFs NIA SSF and Rifleman GD in Assam Rifles Examination 2021

Roll Number	
Candidate Name	
Venue Name	MIT Meerut
Exam Date	03/12/2021
Exam Time :	9:00 AM - 10:30 AM
Subject	Constable GD 2021

Section : Part A General Intelligence and Reasoning

Q.1 अक्षरों के उस संयोजन का चयन करें जिसे दी गई श्रेणी में रिक्त स्थानों पर क्रमिक रूप से रखने पर श्रेणी पूर्ण हो जाएगी।

kg_pg_kgt_gnk_tpg_kg_p_n

Ans 1. t, p, n, n, g, g, t

2. t, p, n, g, n, g, t

3. t, n, p, g, n, t, g

4. t, n, p, g, g, n, t

Question ID : 65497835084

Status : Answered

Chosen Option : 3

Q.2 दर्पण को दी गई आकृति के दाईं ओर रखे जाने पर, आकृति का दर्पण में निम्नित सही प्रतिबिम्ब चयनित कीजिए।



Ans

1.



2.



3.



4.



Question ID : 65497835090

Status : Answered

Chosen Option : 4



Download SSC CGL, CHSL E-BOOKS

[CLICK HERE](#)

Q.3 एक विशिष्ट कूट भाषा में, 'FREE' को 'AQRR' और 'ASTER' को 'DNXRQ' लिखा जाता है। उसी भाषा में 'STARS' को क्या लिखा जाएगा?

- Ans
- 1. RXYQR
 - 2. NADRN
 - 3. PXDQO
 - 4. NXDQN

Question ID : 65497835071
Status : Answered
Chosen Option : 4

Q.4 यदि 'A % B' का अर्थ है कि 'A, B का पिता है', 'A # B' का अर्थ है कि 'A, B का भाई है' और 'A \$ B' का अर्थ है कि 'A, B की पत्नी है', तो दिए गए व्यंजक में K का R से क्या संबंध है?





K \$ H % Y # M # R

- Ans
- 1. माँ
 - 2. दादी
 - 3. पिता
 - 4. बुआ

Question ID : 65497835073
Status : Answered
Chosen Option : 1

Q.5 उस वेन आरेख का चयन करें, जो निम्नलिखित वर्गों के बीच के संबंध को सबसे अच्छे तरीके से दर्शाता है।

राज्य, जिला, कॉलोनी

- Ans
- 1. 
 - 2. 
 - 3. 
 - 4. 

Question ID : 65497835094
Status : Answered
Chosen Option : 3



Download SSC CGL, CHSL E-BOOKS

[CLICK HERE](#)

Q.6 दिए गए विकल्प में से उस आकृति का चयन करें जो निम्नलिखित आकृति श्रृंखला में प्रश्नवाचक चिह्न (?) के स्थान पर आ सकती है।



Ans

- 1.
- 2.
- 3.
- 4.

Question ID : 65497835086
Status : Answered
Chosen Option : 2

Q.7 उस विकल्प का चयन करें, जो दिए गए चित्र में अंतर्निहित नहीं है (आकृति को घुमाने की अनुमति नहीं है)।



Ans

- 1.
- 2.
- 3.
- 4.

Question ID : 65497835077
Status : Answered
Chosen Option : 3

Q.8 Six friends, K, L, M, N, O and P, are sitting around a hexagonal shaped table at equal distances between them. K is facing P. O is second to the right of N. N is sitting between K and L. M is to the immediate left of P. Who is sitting to the immediate right of O?

- Ans**
- 1. P
 - 2. N
 - 3. L
 - 4. M

Question ID : 65497835072
Status : Answered
Chosen Option : 1

Q.9 दी गई शीट को मोड़कर एक घन बनाया गया है। इस प्रकार बने घन में, '&' दिखाने वाले पृष्ठ के विपरीत पृष्ठ पर कौन सा चिह्न होगा?

				&
@	+	%	#	
\$				

- Ans**
- 1. +
 - 2. \$
 - 3. @
 - 4. #

Question ID : 65497835076
Status : Answered
Chosen Option : 2

Q.10 दिए गए विकल्पों में से उस संख्या का चयन करें जो निम्नलिखित श्रृंखला में प्रश्न चिह्न (?) के स्थान पर आ सकती है।

9, 13, 52, 56, 224, 228, ?

- Ans**
- 1. 1331
 - 2. 522
 - 3. 912
 - 4. 729

Question ID : 65497835089
Status : Answered
Chosen Option : 3

Q.11 चार अक्षर-समूह दिए गए हैं, जिनमें से तीन किसी तरह से एक समान हैं और एक असंगत है। उस अक्षर-समूह का चयन करें जो असंगत है।

- Ans**
- 1. PLK
 - 2. KDF
 - 3. QJL
 - 4. NGI

Question ID : 65497835087
Status : Answered
Chosen Option : 1

Q.12 उस विकल्प का चयन करें, जिसकी संख्याएँ आपस में उसी प्रकार संबंधित हैं, जिस प्रकार दिए गए समुच्चय की संख्याएँ आपस में संबंधित हैं।

(5, 27, 8)

Ans 1. (16, 24, 12)

2. (11, 64, 15)

3. (4, 54, 6)

4. (8, 60, 6)

Question ID : 65497835080

Status : Not Answered

Chosen Option : --

Q.13 उस विकल्प का चयन करें, जो चौथी संख्या से उसी प्रकार संबंधित है जिस प्रकार पहली संख्या दूसरी संख्या से और पाँचवीं संख्या छठी संख्या से संबंधित है।

126 : 5 :: ? : 4 :: 28 : 3

Ans 1. 37

2. 65

3. 82

4. 17

Question ID : 65497835074

Status : Answered

Chosen Option : 2

Q.14 उस विकल्प का चयन करें जो तीसरे अक्षर-समूह से उसी प्रकार संबंधित है, जिस प्रकार दूसरा अक्षर-समूह पहले अक्षर-समूह से संबंधित है।

YKMP : QNLZ :: SURC : ?

Ans 1. DSTR

2. VTSB

3. KXQD

4. DSVT

Question ID : 65497835070

Status : Answered

Chosen Option : 4

Q.15 दिए गए विकल्पों में से वह संख्या चुनें जो निम्नलिखित श्रृंखला में प्रश्नवाचक चिह्न (?) के स्थान पर आ सकती है।

2, 6, 12, 20, 30, ?

Ans 1. 50

2. 48

3. 42

4. 36

Question ID : 65497835085

Status : Answered

Chosen Option : 3



Download SSC CGL, CHSL E-BOOKS

[CLICK HERE](#)

Q.16 एक विशिष्ट कूट भाषा में, 'FOAMING' को 'AOFMGN' लिखा जाता है। उसी भाषा में 'BELIEVE' को क्या लिखा जाएगा?

- Ans
- 1. MFCJFWF
 - 2. EBILVEE
 - 3. LEBIEVE
 - 4. LEBEIEV

Question ID : 65497835078
Status : Answered
Chosen Option : 3

Q.17 श्री गुप्ता की आयु उनके बेटे शशांक से 26 वर्ष अधिक है। शशांक की बहन गार्गी शशांक से 4 वर्ष छोटी है। श्री गुप्ता की आयु गार्गी की आयु की चार गुनी है। शशांक की आयु कितनी है?

- Ans
- 1. 12 वर्ष
 - 2. 18 वर्ष
 - 3. 14 वर्ष
 - 4. 16 वर्ष

Question ID : 65497835081
Status : Answered
Chosen Option : 3

Q.18 'Hydrophobia' is related to 'Water' in the same way as 'Acrophobia' is related to _____.

- Ans
- 1. Darkness
 - 2. Examination
 - 3. Height
 - 4. Open spaces

Question ID : 65497835092
Status : Answered
Chosen Option : 1

Q.19 एक निश्चित कूट भाषा में, 'DESERT' को '415163' के रूप में कूटबद्ध किया जाता है और 'ARMY' को '2687' के रूप में कूटबद्ध किया जाता है। उसी भाषा में 'SMART' को किस रूप में कूटबद्ध किया जाएगा?

- Ans
- 1. 28563
 - 2. 58143
 - 3. 58436
 - 4. 58263

Question ID : 65497835088
Status : Answered
Chosen Option : 4

Q.20 उस सही विकल्प चयन करें, जो दिए गए शब्दों को उस क्रम में दर्शाता है जिस क्रम में वे अंग्रेजी शब्दकोश में दिखाई पड़ते हैं।

1. Favourite
2. Favourable
3. Favoured
4. Favouritism
5. Favourably

Ans 1. 1, 3, 4, 5, 2
 2. 3, 1, 4, 2, 5
 3. 2, 5, 3, 1, 4
 4. 2, 1, 3, 4, 5

Question ID : 65497835083
Status : Answered
Chosen Option : 3

Q.21 Read the given statements and conclusions carefully. Assuming that the information given in the statements is true, even if it appears to be at variance with commonly known facts, decide which of the given conclusions logically follow(s) from the statements.

Statements:

1. All chocolates are fruits.
2. All fruits are coconuts.

Conclusions:

- I. Some chocolates are not coconuts.
- II. All chocolates are coconuts.
- III. Some coconuts are fruits.

Ans 1. Only conclusion I follows
 2. None of the conclusions follow
 3. Only conclusions II and III follow
 4. Only conclusion II follows

Question ID : 65497835079
Status : Answered
Chosen Option : 3

Q.22 दिए गए समीकरण को संतुलित करने के लिए किन दो संख्याओं को परस्पर बदलना होगा?

$$15 \times 7 + 40 - 24 \div 8 = 124$$

Ans 1. 24 और 8
 2. 24 और 40
 3. 7 और 15
 4. 7 और 24

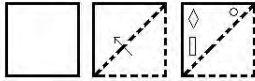
Question ID : 65497835075
Status : Answered
Chosen Option : 2



Download SSC CGL, CHSL E-BOOKS

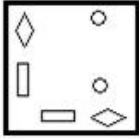
[CLICK HERE](#)

Q.23 निम्नांकित चित्रों में एक कागज को मोड़ने का क्रम और मुड़े हुए कागज को काटने का तरीका दर्शाया गया है। मुड़े हुए कागज को खोलने पर यह कैसा दिखाई देगा?

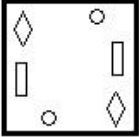


Ans

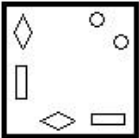
1.



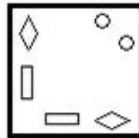
2.



3.



4.



Question ID : 65497835082

Status : Answered

Chosen Option : 4

Q.24 दिए गए विकल्पों में से उस अक्षर-समूह का चयन करें, जो निम्नलिखित श्रृंखला में प्रश्नवाचक चिह्न (?) के स्थान पर आ सकता है।

SPMJ, WTQN, YVSP, ?

1. QNKH

2. QNLH

3. MJGE

4. URPL

Question ID : 65497835091

Status : Answered

Chosen Option : 4

Q.25 Six friends, namely Avik, Rishi, Piyush, Sonal, Aashu, and Rohit, are standing in a row facing north. Rishi is standing to the left of Avik and to the right of Piyush. Sonal is standing to the right of Avik and to the left of Aashu. Aashu is standing to the left of Rohit. Which two friends are standing at the centre?

1. Rishi and Avik

2. Avik and Sonal

3. Aashu and Sonal

4. Rishi and Sonal

Question ID : 65497835093

Status : Answered

Chosen Option : 2

Section : Part B General Knowledge and General Awareness



Download SSC CGL, CHSL E-BOOKS

[CLICK HERE](#)