

## Constable GD in CAPFs NIA SSF and Rifleman GD in Assam Rifles Examination 2021

Roll Number	
Candidate Name	
Venue Name	Arya College of Engineering and Information Technology
Exam Date	02/12/2021
Exam Time :	12:30 PM - 2:00 PM
Subject	Constable GD 2021

### Section : Part A General Intelligence and Reasoning

Q.1 अकरम, नागेश, गिरीश, विक्रम और सतपाल किसी पंचभुजाकार मेज के पांच कोनों पर बैठे हैं; सभी मेज के केंद्र की ओर अभिमुख होकर बैठे हैं। गिरीश, विक्रम के बाएं तीसरे स्थान पर बैठा है। सतपाल, नागेश के बाईं ओर बगल में बैठा है। अकरम, सतपाल के बाएं दूसरे स्थान पर बैठा है। नागेश के दाएं दूसरे स्थान पर कौन बैठा है?

- Ans  1. अकरम  
 2. विक्रम  
 3. सतपाल  
 4. गिरीश

Question ID : 65497836342  
Status : Answered  
Chosen Option : 1

Q.2 किसी निश्चित कूट भाषा में, SHEER को 21102220 के रूप में कूटबद्ध किया जाता है और NIGHT को 16391022 के रूप में कूटबद्ध किया जाता है। उसी कूट भाषा में RIGHT को किस रूप में कूटबद्ध किया जाएगा?

- Ans  1. 191191022  
 2. 201191022  
 3. 20391022  
 4. 19391022

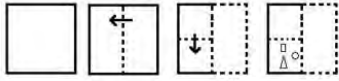
Question ID : 65497836345  
Status : Answered  
Chosen Option : 3



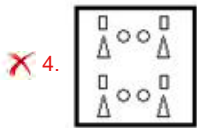
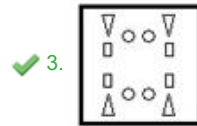
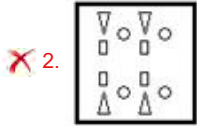
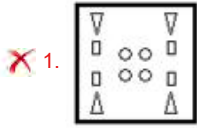
Download SSC CGL, CHSL E-BOOKS

[CLICK HERE](#)

**Q.3** कागज के एक टुकड़े को मोड़ने के क्रम और मुड़े हुए कागज को काटने के तरीके को निम्न आकृतियों में दर्शाया गया है। खोलने पर यह कागज कैसा दिखाई देगा?



**Ans**



Question ID : 65497836360  
Status : Answered  
Chosen Option : 1

**Q.4** एक निश्चित कूट भाषा में, 'SWEETS' को 'TZKOIN' के रूप में लिखा जाता है। उसी कूट भाषा में 'CHOICE' को किस रूप में लिखा जाएगा?

- Ans**
- 1. DJUSRZ
  - 2. DKUSRZ
  - 3. DJURSZ
  - 4. DKURSZ

Question ID : 65497836354  
Status : Answered  
Chosen Option : 2

**Q.5** C ने B से एक मशीन खरीदी, जिसने इसे A से खरीदा था। C ने मशीन को ₹9,360 में खरीदा। इस बिक्री पर, A और B ने क्रमशः 30% और 20% का लाभ अर्जित किया। A ने मशीन को किस मूल्य पर बेचा?

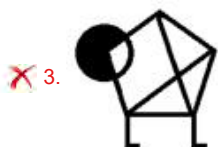

- Ans**
- 1. ₹7,800
  - 2. ₹8,600
  - 3. ₹8,200
  - 4. ₹6,000

Question ID : 65497836359  
Status : Not Answered  
Chosen Option : --

Q.6 यदि दर्पण को दाईं ओर रखा गया हो, तो दी गई आकृति के सही दर्पण प्रतिबिंब का चयन करें।



Ans



Question ID : 65497836347

Status : Answered

Chosen Option : 2

Q.7 दिए गए विकल्पों में से वह संख्या चुनें जो निम्नलिखित श्रृंखला में प्रश्नवाचक चिह्न (?) के स्थान पर आ सकती है।

11, 9, 15, 41, ?

Ans

1. 110

2. 159

3. 135

4. 167

Question ID : 65497836346

Status : Answered

Chosen Option : 2



Download SSC CGL, CHSL E-BOOKS

[CLICK HERE](#)

Q.8 दिए गए विकल्पों में से उस अक्षर-समूह का चयन करें जो निम्नलिखित श्रेणी में प्रश्नवाचक चिह्न (?) के स्थान पर आ सकता है।

AZK, EVN, IRQ, OLT, ?

- Ans  1. GKS  
 2. TFQ  
 3. UFW  
 4. URD

Question ID : 65497836340  
Status : Answered  
Chosen Option : 3

Q.9 एक निश्चित कूट भाषा में NEXT को MODFWYSU लिखा जाता है। उसी कूट भाषा में CLOCK को क्या लिखा जाएगा?

- Ans  1. BDKPQPBDJL  
 2. BDKMNPBDLM  
 3. BDKMNPBDJL  
 4. BDKMNPBEML

Question ID : 65497836356  
Status : Answered  
Chosen Option : 1

Q.10 चार अक्षर-समूह दिए गए हैं, जिनमें से तीन एक निश्चित प्रकार से समान हैं, जबकि एक उनसे असंगत है। उस असंगत अक्षर-समूह का चयन कीजिए।

- Ans  1. TPWR  
 2. BXEV  
 3. HDKF  
 4. RNUP

Question ID : 65497836344  
Status : Answered  
Chosen Option : 1

Q.11 दिए गए विकल्पों में से उस संख्या का चयन कीजिए, जो निम्नलिखित श्रेणी में प्रश्नवाचक चिह्न (?) के स्थान पर आ सकती है।

53, 61, 88, 152, 277, ?

- Ans  1. 490  
 2. 493  
 3. 496  
 4. 485

Question ID : 65497836363  
Status : Answered  
Chosen Option : 1



Download SSC CGL, CHSL E-BOOKS

[CLICK HERE](#)

Q.12 अक्षरों के उस संयोजन का चयन कीजिए, जिसे दी गई श्रृंखला के रिक्त स्थानों में क्रमबद्ध रूप से रखने पर श्रृंखला पूर्ण हो जाएगी।

Q \_ P \_ M \_ A \_ T \_ Q A \_ T M

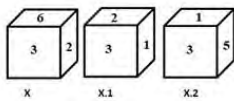
- Ans
- 1. A Q T P M P
  - 2. A T Q P Q P
  - 3. A T Q P M Q
  - 4. A T Q P M P

Question ID : 65497836362

Status : Answered

Chosen Option : 2

Q.13 एक पासे (X) को तीन बार एक ही क्रम में घुमाया जाता है। उसकी दो स्थितियां (X.1 और X.2) दी गई हैं। निम्नलिखित विकल्पों में से अगली संभावित स्थिति का चयन करें।



Ans

- 1.
- 2.
- 3.
- 4.

Question ID : 65497836351

Status : Answered

Chosen Option : 2

Q.14 आठ मित्र 2 पंक्तियों में एक दूसरे की ओर मुंह करके बैठे हुए हैं। A, D के सामने बैठा है और B और E का पड़ोसी है। अपनी-अपनी पंक्तियों में, H और C सबसे दाएं कोनों पर तथा E और F सबसे बाएं कोनों पर बैठे हैं। यदि G, F के बगल में बैठा है, तो B के सामने कौन बैठा है?

- Ans
- 1. C
  - 2. F
  - 3. G
  - 4. H

Question ID : 65497836348

Status : Answered

Chosen Option : 2



Download SSC CGL, CHSL E-BOOKS

[CLICK HERE](#)

Q.15 'यूरोप' का जो संबंध 'स्विटज़रलैंड' से है, वही संबंध 'एशिया' का ' \_\_\_\_\_ ' से है।

- Ans
- 1. जापान
  - 2. फ्रांस
  - 3. महाद्वीप
  - 4. विश्व

Question ID : 65497836341  
Status : Answered  
Chosen Option : 3

Q.16 उस विकल्प का चयन करें जिसमें दी गई आकृति सन्नहित है (आकृति को घुमाने की अनुमति नहीं है)।



- Ans
- 1.
  - 2.
  - 3.
  - 4.

Question ID : 65497836352  
Status : Answered  
Chosen Option : 1

Q.17 उस विकल्प का चयन कीजिए, जो नीचे दिए गए शब्दों के उस क्रम को दर्शाता है, जिस क्रम में वे अंग्रेजी शब्दकोश में आते हैं।

1. Rubric
2. Router
3. Ruthless
4. Routine
5. Ruin

Ans ✓ 1. 2, 4, 1, 5, 3

✗ 2. 2, 1, 4, 5, 3

✗ 3. 2, 4, 1, 3, 5

✗ 4. 4, 2, 1, 5, 3

Question ID : 65497836361

Status : Answered

Chosen Option : 3

Q.18 दिए गए कथनों और निष्कर्षों को ध्यानपूर्वक पढ़ें। कथनों में दी गई जानकारी को सत्य मानते हुए विचार करें, भले ही वह सामान्यतः ज्ञात तथ्यों से भिन्न प्रतीत होती हो, और तय करें कि दिए गए निष्कर्षों में से कौन से निष्कर्ष कथनों का तार्किक रूप से अनुसरण करते हैं?

कथन:

कुछ बोल्ट, पेन हैं।

कुछ स्टेसिल, बोल्ट हैं।

सभी स्क्रू, बोल्ट हैं।

निष्कर्ष:

I. कोई स्क्रू, स्टेसिल नहीं है।

II. कुछ पेन, स्टेसिल हैं।

Ans ✗ 1. केवल निष्कर्ष I अनुसरण करता है।

✗ 2. केवल निष्कर्ष II अनुसरण करता है।

✓ 3. न तो निष्कर्ष I और न ही II अनुसरण करता है।

✗ 4. निष्कर्ष I और II दोनों ही अनुसरण करते हैं।

Question ID : 65497836357

Status : Answered

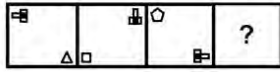
Chosen Option : 3



Download SSC CGL, CHSL E-BOOKS

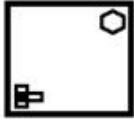
[CLICK HERE](#)

Q.19 दिए गए विकल्पों में से उस आकृति का चयन कीजिए, जो निम्न आकृति श्रृंखला में प्रश्नवाचक चिन्ह (?) के स्थान पर आ सकती है।

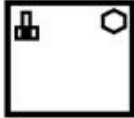


Ans

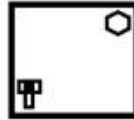
✗ 1.



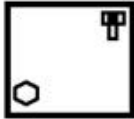
✗ 2.



✓ 3.



✗ 4.



Question ID : 65497836364  
Status : Answered  
Chosen Option : 3

Q.20 उस विकल्प का चयन करें, जिसमें दी गई संख्याओं के बीच वही संबंध है, जो नीचे दिए गए समुच्चय की संख्याओं के बीच है।

36, 74, 55

Ans ✗ 1. 80, 105, 85

✓ 2. 40, 52, 46

✗ 3. 50, 44, 94

✗ 4. 58, 64, 54

Question ID : 65497836358  
Status : Answered  
Chosen Option : 1

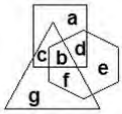


Download SSC CGL, CHSL E-BOOKS

[CLICK HERE](#)



**Q.21** निम्न चित्र में, घटभुज, 'लड़कों' को निरूपित करता है, आयत, 'खिलाड़ियों' को निरूपित करता है, और त्रिभुज 'संगीतकारों' को निरूपित करता है। विभिन्न खंडों में दिए गए अक्षर उस श्रेणी से संबंधित व्यक्तियों को निरूपित करते हैं।



'f' अक्षर किस वर्ग को निरूपित करता है?

- Ans**
- 1. संगीतकार जो लड़के और खिलाड़ी दोनों हैं।
  - 2. लड़के जो खिलाड़ी हैं, लेकिन संगीतकार नहीं हैं।
  - 3. लड़के जो संगीतकार हैं, लेकिन खिलाड़ी नहीं हैं।
  - 4. खिलाड़ी जो संगीतकार हैं लेकिन लड़के नहीं हैं।

Question ID : 65497836343  
Status : Answered  
Chosen Option : 1

**Q.22** निम्नलिखित समीकरण को संतुलित बनाने के लिए किन दो गणितीय चिह्नों को परस्पर बदल देना चाहिए?

$$13 + 18 \times 6 - 30 \div 6 = -90$$

- Ans**
- 1. +, ×
  - 2. +, -
  - 3. -, +
  - 4. ×, +

Question ID : 65497836350  
Status : Answered  
Chosen Option : 4

**Q.23** उस विकल्प का चयन करें जो तीसरे अक्षर-समूह से उसी प्रकार संबंधित है जिस प्रकार दूसरा अक्षर-समूह पहले अक्षर-समूह से संबंधित है।

AFHP : BINZ :: BZKS : ?

- Ans**
- 1. CBQC
  - 2. CCQC
  - 3. CCRC
  - 4. CBRC

Question ID : 65497836353  
Status : Answered  
Chosen Option : 2

Q.24 यदि 'N', 'M' की पत्नी है, 'A', 'R' की बहन है, 'S', 'N' की माँ है, 'K', 'M' का भाई है और 'R', 'N' का बेटा है, तो 'K' का 'A' से क्या संबंध है?

- Ans  1. चाचा  
 2. मामा  
 3. पिता  
 4. भाई

Question ID : 65497836355  
Status : Not Answered  
Chosen Option : --

Q.25 उस विकल्प का चयन कीजिए जो तीसरी संख्या से उसी प्रकार संबंधित है जिस प्रकार दूसरी संख्या पहली संख्या से और छठी संख्या पांचवीं संख्या से संबंधित है।

13 : 163 :: 11 : ? :: 9 : 75

- Ans  1. 115  
 2. 121  
 3. 128  
 4. 125

Question ID : 65497836349  
Status : Not Answered  
Chosen Option : --

Section : Part B General Knowledge and General Awareness

Q.1 निम्नलिखित में से किस वास्तुकार को ब्रिटिश काल के दौरान नई दिल्ली के मुख्य भागों में इमारतों की योजना बनाने और उन्हें डिजाइन करने का श्रेय दिया जाता है?

- Ans  1. ले कार्बुजिए  
 2. सर क्रिस्टोफर व्रेन  
 3. एडविन लुटियंस  
 4. फ्रैंक लॉयड राइट

Question ID : 65497836372  
Status : Not Answered  
Chosen Option : --

Q.2 निम्नलिखित में से कौन सा द्वीप यूनेस्को (UNESCO) विश्व धरोहर स्थल है जिसमें मुख्य रूप से हिंदू भगवान शिव को समर्पित गुफा मंदिरों का संग्रह है?

- Ans  1. क्रॉस द्वीप  
 2. एलिफेंटा द्वीप  
 3. खंडेरी द्वीप  
 4. अंबु द्वीप

Question ID : 65497836382  
Status : Not Answered  
Chosen Option : --



Download SSC CGL, CHSL E-BOOKS

[CLICK HERE](#)