

Constable GD in CAPFs NIA SSF and Rifleman GD in Assam Rifles Examination 2021

Roll Number	
Candidate Name	
Venue Name	Gyansthal Mahavidyalaya
Exam Date	01/12/2021
Exam Time :	9:00 AM - 10:30 AM
Subject	Constable GD 2021

Section : Part A General Intelligence and Reasoning

Q.1 लैब A और लैब B, दो कंप्यूटर कक्ष हैं। यदि लैब A से 10 विद्यार्थी लैब B में भेजे जाते हैं, तो दोनों कक्षों में विद्यार्थियों की संख्या समान हो जाती है। यदि लैब B से 26 विद्यार्थी लैब A में भेजे जाते हैं, तो लैब A में विद्यार्थियों की संख्या, लैब B में विद्यार्थियों की संख्या की तीन गुनी हो जाती है। लैब B में विद्यार्थियों की संख्या क्या है?

Ans 1. 62

2. 82

3. 98

4. 78

Question ID : 65497832423

Status : Not Answered

Chosen Option : --

Q.2 दिए गए पैटर्न का ध्यानपूर्वक अध्ययन करें, और उस संख्या का चयन करें जो प्रश्नवाचक चिह्न (?) के स्थान पर आ सकती है।

5 6 7

8 7 9

189 265 ?

Ans 1. 395

2. 409

3. 341

4. 424

Question ID : 65497832422

Status : Not Answered

Chosen Option : --



Download SSC CGL, CHSL E-BOOKS

[CLICK HERE](#)

Q.3 उस विकल्प का चयन करें जिसमें दी गई आकृति सन्निहित है (आकृति को घुमाने की अनुमति नहीं है)।



Ans

✗ 1.



✗ 2.



✓ 3.



✗ 4.




Question ID : 65497832407
Status : Answered
Chosen Option : 3

Q.4 यदि दर्पण को निम्न आकृति के अनुसार 'AB' पर रखा जाता है, तो दी गई आकृति का दर्पण में निर्मित सही प्रतिबिंब चयन करें।




Ans


✓ 1.




✗ 2.



✗ 3.



✗ 4.



Question ID : 65497832415
Status : Answered
Chosen Option : 1

Q.5 यदि 'A + B' का अर्थ है - 'A, B का पिता है', 'A @ B' का अर्थ है - 'A, B का भाई है', और 'A & B' का अर्थ है - 'A, B की पुत्री है', तो निम्नलिखित व्यंजक के अनुसार P का V से क्या संबंध है?

S + P + R @ Q & T & V

- Ans 1. पुत्रवधू
 2. पुत्र
 3. ससुर
 4. दामाद

Question ID : 65497832427

Status : Not Answered

Chosen Option : --

Q.6 उस विकल्प का चयन करें जो चौथी संख्या से उसी तरह से संबंधित है जैसे पहली संख्या दूसरी संख्या से संबंधित है और पांचवीं संख्या छठी संख्या से संबंधित है।

195 : 15 :: ? : 19 :: 273 : 21

- Ans 1. 247
 2. 252
 3. 280
 4. 311

Question ID : 65497832404

Status : Answered

Chosen Option : 1

Q.7 'स्वेटर' का जो संबंध 'ऊन' से है, 'सिक्के' का वही संबंध '_____' से है।

- Ans 1. धन
 2. राजा
 3. मुद्रा
 4. धातु

Question ID : 65497832417

Status : Answered

Chosen Option : 4



Download SSC CGL, CHSL E-BOOKS

[CLICK HERE](#)

Q.8 एक कागज को विशेष तरीके से मोड़ा जाता है और उसमें कई सारे छेद बनाए जाते हैं। जब कागज को खोला जाता है तो वह प्रश्न आकृति की तरह दिखता है। दिए गए विकल्पों में से, उस आकृति का चयन करें जो यह दर्शाती है कि कागज को किस तरह मोड़ा गया और उसमें छेद बनाए गए।

प्रश्न आकृति



Ans

- 1.
- 2.
- 3.
- 4.

Question ID : 65497832424

Status : Answered

Chosen Option : 4

Q.9 अक्षरों के उस संयोजन का चयन करें जिसे दी गई श्रृंखला में रिक्त स्थानों पर क्रमिक रूप से रखने पर श्रृंखला पूरी हो जाएगी।

R _ T _ T U _ _ R U _ S _ S T

- Ans
1. ~~URTSSR~~
2. SSTURR
3. ~~SRTURU~~
4. ~~STURSR~~

Question ID : 65497832409

Status : Not Answered

Chosen Option : --

Q.10 एक विशिष्ट कूट भाषा में, 'DEACTIVATION' को 'CAEDAVITNOIT' लिखा जाता है। इस भाषा में 'FACILITATION' को क्या लिखा जाएगा?

- Ans
1. ~~ICFAATILNOIT~~
2. ~~ICFTILAAOIT~~
3. ~~ICFTAAILNOIT~~
4. ICAFATILNOIT

Question ID : 65497832420

Status : Answered

Chosen Option : 4



Download SSC CGL, CHSL E-BOOKS

[CLICK HERE](#)

Q.11 उस सही विकल्प चयन करें, जो दिए गए शब्दों को उस क्रम में दर्शाता है जिस क्रम में वे अंग्रेजी शब्दकोश में दिखाई पड़ते हैं।

1. Tamale
2. Tamagotchi
3. Tamarind
4. Tamarack
5. Tamable

Ans 1. 1, 5, 2, 4, 3
 2. 2, 1, 3, 4, 5
 3. 1, 3, 4, 5, 2
 4. 5, 2, 1, 4, 3

Question ID : 65497832408
Status : Answered
Chosen Option : 4

Q.12 दिए गए विकल्पों में से उस संख्या का चयन कीजिए जो दी गई श्रृंखला में प्रश्न चिह्न (?) के स्थान पर प्रतिस्थापित हो सकती है।

7, 7, 10.5, 21, 52.5, ?

Ans 1. 163.5
 2. 145
 3. 157.5
 4. 105

Question ID : 65497832414
Status : Answered
Chosen Option : 4

Q.13 दिए गए विकल्पों में से वह संख्या चुनें जो निम्नलिखित श्रृंखला में प्रश्नवाचक चिह्न (?) के स्थान पर आ सकती है।

3, 15, 60, 180, ?

Ans 1. 260
 2. 199
 3. 360
 4. 240

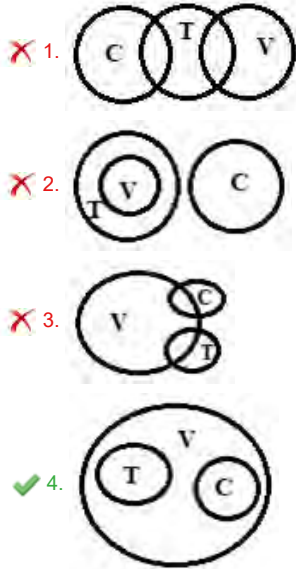
Question ID : 65497832410
Status : Answered
Chosen Option : 3

Q.14 उस वेन आरेख का चयन कीजिए जो निम्न वर्गों के मध्य के संबंध का सर्वश्रेष्ठ निरूपण करता है।

वाहन, ट्रक, कार

(V: वाहन; C: कार; T: ट्रक)

Ans



Question ID : 65497832419

Status : Answered

Chosen Option : 4

Q.15 उस विकल्प का चयन कीजिए, जिसका तीसरे पद से वही संबंध है, जो दूसरे पद का पहले पद से है।

SANITY : OBTZUJ :: FOSTER : ?

- Ans
- ✗ 1. TGPHFU
 - ✓ 2. TPGSFU
 - ✗ 3. TPESFV
 - ✗ 4. TQGSGU

Question ID : 65497832425

Status : Answered

Chosen Option : 2

Q.16 चार अक्षर-समूह दिए गए हैं, जिनमें से तीन किसी प्रकार से समान हैं और एक उनसे भिन्न है। उस भिन्न अक्षर-समूह का चयन करें।

- Ans
- ✗ 1. PVY
 - ✗ 2. FLO
 - ✓ 3. GMQ
 - ✗ 4. LRU

Question ID : 65497832412

Status : Answered

Chosen Option : 3

Q.17 दिए गए कथनों और निष्कर्षों को ध्यानपूर्वक पढ़ें। आपको कथनों में दी गई जानकारी को सही मान कर चलना है, भले ही वो सामान्य ज्ञात तथ्यों से भिन्न प्रतीत होती हो, और फिर निर्णय कीजिए कि दिए गए निष्कर्षों में से कौन सा/से निष्कर्ष कथनों का तार्किक रूप से अनुसरण करता है (करते हैं)।

कथन :

- I. कुछ टैबलेट स्मार्टफोन हैं।
- II. सभी स्मार्टफोन मोबाइल फोन हैं।

निष्कर्ष :

- I. कुछ मोबाइल फोन टैबलेट हैं।
- II. कुछ मोबाइल फोन स्मार्टफोन हैं।

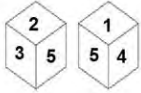
- Ans 1. न तो निष्कर्ष I और न ही निष्कर्ष II अनुसरण करता है।
2. निष्कर्ष I और II दोनों अनुसरण करते हैं।
3. केवल निष्कर्ष II अनुसरण करता है।
4. केवल निष्कर्ष I अनुसरण करता है।

Question ID : 65497832421

Status : Answered

Chosen Option : 2

Q.18 एक ही पासे की दो अलग-अलग स्थितियां दर्शाई गई हैं, जिनके छह पृष्ठों पर 1 से लेकर 6 तक की संख्या अंकित की गई हैं। उस संख्या का चयन करें जो '6' वाले पृष्ठ के विपरीत पृष्ठ पर होगी।



- Ans 1. 3
2. 4
3. 2
4. 5

Question ID : 65497832406

Status : Answered

Chosen Option : 4

Q.19 छः कवि A, B, C, D, E और F एक घेरे में एक-दूसरे के सामने, केंद्र की ओर मुँह करके बैठे हैं। A, E के सामने बैठा है। F, E के पास में बैठा है। A, C के पास में बैठा है। B, D के ठीक दायें बैठा है। C, B के सामने बैठा है। B के बाएं पांचवे स्थान पर कौन बैठा है?

- Ans 1. F
2. A
3. D
4. E

Question ID : 65497832418

Status : Answered

Chosen Option : 4



Download SSC CGL, CHSL E-BOOKS

[CLICK HERE](#)

Q.20 अर्पिता, चेतन, इन्सिया, लोहिता, मानुवी और युक्ति किसी गोल मेज के परितः इसके केंद्र की ओर अभिमुख होकर बैठे हैं। चेतन ठीक मानुवी के दाएं पड़ोस में बैठा है। अर्पिता ठीक इन्सिया और युक्ति के बीच में बैठी है। युक्ति ठीक मानुवी के दाएं दूसरे स्थान पर बैठी है। लोहिता और अर्पिता के बीच में कौन बैठा/बैठी है?

- Ans
- 1. मानुवी
 - 2. इन्सिया
 - 3. चेतन
 - 4. युक्ति

Question ID : 65497832403
Status : Answered
Chosen Option : 2

Q.21 दिए गए विकल्पों में से उस आकृति का चयन करें जो निम्नलिखित आकृति श्रृंखला में प्रश्नवाचक चिह्न (?) के स्थान पर आ सकती है।



Ans

- 1.
- 2.
- 3.
- 4.

Question ID : 65497832411
Status : Answered
Chosen Option : 3

Q.22 किसी कूट भाषा में, 'GINGER' को '30-30' और 'RADISH' को '23-36' के रूप में लिखा जाता है। उसी भाषा में 'TOMATO' को किस प्रकार से लिखा जाएगा?

- Ans
- 1. 49-39
 - 2. 39-41
 - 3. 35-45
 - 4. 48-36

Question ID : 65497832413
Status : Answered
Chosen Option : 4

Q.23 यदि 'A' का अर्थ '+' है, 'B' का अर्थ '-' है, 'C' का अर्थ 'x' है और 'D' का अर्थ '÷' है तो दिए गए व्यंजक का मान क्या होगा?

$$12 A 9 C (17 B 6) B 24 A (28 D 7) = ?$$

Ans 1. 91

2. 83

3. 104

4. 51

Question ID : 65497832405

Status : Answered

Chosen Option : 2

Q.24 एक निश्चित कूट भाषा में ZOMBIE को BEIMOZ लिखा जाता है, और FLEX को EFLX लिखा जाता है। उसी कूट भाषा में PRODUCT को किस प्रकार लिखा जाएगा?

Ans 1. CDOPRTU

2. CDPORTU

3. CDORPTU

4. CDPORUT

Question ID : 65497832426

Status : Answered

Chosen Option : 2

Q.25 दिए गए विकल्पों में से उस अक्षर-समूह का चयन कीजिए जो निम्न श्रृंखला में प्रश्नवाचक चिह्न (?) के स्थान पर आ सकता है।

MRV, QVZ, UZD, YDH, ?

Ans 1. DHE

2. CHL

3. CFN

4. CGM

Question ID : 65497832416

Status : Answered

Chosen Option : 2

Section : Part B General Knowledge and General Awareness

Q.1 भारत में अनियमित जमा योजना प्रतिबंध अधिनियम वर्ष _____ में लागू किया गया था।

Ans 1. 2018

2. 2020

3. 2019

4. 2021

Question ID : 65497832451

Status : Answered

Chosen Option : 2