



कर्मचारी चयन आयोग  
संयुक्त उच्चतर माध्यमिक स्तर परीक्षा

एस.एस.सी. सीएचएसएल (टियर -1) परीक्षा पेपर 2017 "23 मार्च  
2018" सुबह का पाला (तक शक्ति) SSC CHSL (Tier - 1)  
Online Exam Paper - 2017 "held on 23 March 2018"  
Morning Shift (Reasoning)

QID : 1 - निम्नलिखित प्रश्न में दिए गए विकल्पों में से संबंधित शब्द युग्म को चुनिए।

सेना : सैनिक :: ? : ?

Options:

- 1) मण्डली : कलाकार
- 2) प्रधानाचार्य : विद्यालय
- 3) पहिया : कार
- 4) मंत्री : परिषद

**Correct Answer: मण्डली : कलाकार**

QID : 2 - निम्नलिखित प्रश्न में दिए गए विकल्पों में से संबंधित संख्या को चुनिए।

354 : 351 :: 478 : ?

Options:

- 1) 481
- 2) 447
- 3) 475
- 4) 477

**Correct Answer: 475**

QID : 3 - निम्नलिखित प्रश्न में दिए गए विकल्पों में से संबंधित अक्षर/अक्षरों को चुनिए।

PTY : DHM :: SQZ : ?

Options:

- 1) IEO
- 2) GEN
- 3) GFN
- 4) IFP

**Correct Answer: GEN**

QID : 4 - निम्नलिखित प्रश्न में दिए गए विकल्पों में से विषम शब्द युग्म को चुनिए।

Options:

- 1) टेबल टेनिस – इनडोर
- 2) क्रिकेट – आउटडोर
- 3) फुटबॉल – आउटडोर
- 4) इनडोर – शतरंज

**Correct Answer: इनडोर – शतरंज**

QID : 5 - नीचे दिए गए प्रश्न में, चार संख्या युग्म दिए गए हैं। (–) के बायीं ओर दी संख्या (–) के दायीं ओर दी गई संख्या से तक/नियम से संबंधित है। तीन उसी एक तक/नियम के आधार पर समान हैं। दिए गए विकल्पों में से भिन्न को चुनिए।

Options:

- 1) 33 – 40
- 2) 31 – 38
- 3) 21 – 28
- 4) 23 – 28

**Correct Answer: 23 – 28**

QID : 6 - निम्नलिखित प्रश्न में दिए गए विकल्पों में से विषम अक्षर/अक्षरों को चुनिए।

Options:

- 1) IQY
- 2) CKT
- 3) EMU
- 4) HPX

**Correct Answer: CKT**

QID : 7 - निम्नलिखित शब्दों को शब्दकोश में आने वाले क्रम के अनुसार लिख।

1. Infect
2. Inferior
3. Indulge
4. Induce
5. Indirect

**Options:**

- 1) 52143
- 2) 12453
- 3) 54312
- 4) 14532

**Correct Answer: 54312**

**QID : 8 - निम्नलिखित प्रश्न में दिए गए विकल्पों में से लुप्त अंक ज्ञात कीजिए।**

**23, 28, 34, 41, 49, ?**

**Options:**

- 1) 57
- 2) 59
- 3) 56
- 4) 58

**Correct Answer: 58**

**QID : 9 - एक अनुक्रम दिया गया है, जिसमें से एक पद लुप्त है। दिए गए विकल्पों में से वह सही विकल्प चुनिए, जो अनुक्रम को पूरा करे।**

**AFMG, CHOI, EJQK, GLSM, ?**

**Options:**

- 1) HMVP
- 2) IOUH
- 3) MOUP
- 4) INUO

**Correct Answer: INUO**

**QID : 10 - राहुल, ऋचा से लम्बा है परंतु मीता से छोटा नहीं है। मीता तथा मुकेश एक समान लम्बाई के हैं। राहुल, राजू से छोटा है। छात्रों में से, दूसरा सबसे लम्बा कौन है?**

**Options:**

- 1) मीता
- 2) राहुल
- 3) मुकेश
- 4) ज्ञात नहीं किया जा सकता

**Correct Answer: ज्ञात नहीं किया जा सकता**

**QID : 11 - दिए गए विकल्पों में से वह शब्द चुनिए जो दिए गए शब्द के अक्षरों का प्रयोग करके नहीं बनाया जा सकता है।**

**Benevolent**

**Options:**

- 1) Been
- 2) Nevin
- 3) Lent
- 4) Ben

**Correct Answer: Nevin**

**QID : 12** - एक विशिष्ट कोड भाषा में, "FLUTE" को "UOFGV" लिखा जाता है। इस कोड भाषा में "LAMPS" को किस प्रकार लिखा जाएगा?

**Options:**

- 1) ONKPT
- 2) OZNPS
- 3) OSNPZ
- 4) OZNBK

**Correct Answer: OZNBK**

**QID : 13** - किसी निश्चित कोड भाषा में '÷', '+' को प्रदर्शित करता है, '-' , 'x' को प्रदर्शित करता है, '+' , '÷' को प्रदर्शित करता है और 'x', '-' को प्रदर्शित करता है। निम्नलिखित प्रश्न का उत्तर ज्ञात कर।

$$6 \times 20 \div 5 - 20 + 4 = ?$$

**Options:**

- 1) 11
- 2) 37
- 3) 14
- 4) 35

**Correct Answer: 11**

**QID : 14** - निम्नलिखित समीकरण गलत है। इस समीकरण को सही करने के लिए किन दो चिन्हों को आपस में अदला-बदला करना चाहिए?

$$16 - 2 \div 40 + 4 \times 18 = 40$$

**Options:**

- 1) ÷ और -
- 2) + और x
- 3) + और ÷
- 4) - और +

**Correct Answer: ÷ और -**

**QID : 15** - यदि  $1!9 = 20$ ,  $9!5 = 28$  और  $5!5 = 20$ , तो  $7!3 = ?$  का मान ज्ञात कर।

**Options:**

- 1) 20
- 2) 15

# SSC CHSL (10+2) Printed Study Kit



- 100% CHSL Exam Syllabus Covered
- 5 Books, 1000+ Pages
- 4500+ MCQs
- Solved Papers & Mock Tests (PDF Copy)
- 1 Year Current Affairs (PDF Copy)

**50% OFF**  
₹ 4,000/-  
₹ **1,999/-**

FREE SHIPPING 

for Exam Help Call Us at: +91 8800734161

SSCPORTAL.IN

## What you will get:

- 100% CHSL Exam Syllabus Covered
- 5 Booklets
- More Than 1000+ Pages
- 4500+ MCQs
- Previous Solved Papers
- Current Affairs for Exam
- Guidance & Support from Our Experts

Price of the Kit:

Rs. 4,000

**Rs. 1,999/-**  
(Limited time Offer)

 Buy Online

Net Banking

**Order Online (100% Safe)**

[Click here for Other Payment Options \(Cash/NEFT/etc\)](#)

**FOR MORE DETAILS CLICK HERE**

**50% OFF**

3) 22

4) 24

**Correct Answer: 20**

QID : 16 - निम्नलिखित म से कौन सा पद दी गयी सूची के क्रम के अनुसार है?

PQPQRRQ, PQPQRRPQ, PQRRQPQ, PQRRPQPQ, PRRQPQPQ, \_\_\_\_\_.

Options:

1) PQPQQR

2) RRPQPQPQ

3) PQPQRRQ

4) PQPQRRPQ

**Correct Answer: RRPQPQPQ**

QID : 17 - एक क्रॉस कंट्री रेस स्ट शुरू होता है और 2 कि.मी. पूव म जाता है, फिर वहाँ उत्तर दिशा म एक मोड़ है जहां वह माग 10 कि.मी. तक आगे जाता है, फिर पूव का तरफ एक मोड़ है जहां वह माग आगे 7 कि.मी. तक चला जाता है, फिर एक दाहिना मोड़ है जहां से यह माग अंतस्थल तक पहुंचने के लिए आगे 10 कि.मी. तक चला जाता है। उस शुरुआत के संबंध म अंतस्थल का स्थिति क्या है?

Options:

1) 5 कि.मी. पूव

2) 9 कि.मी. पश्चिम

3) 5 कि.मी. पश्चिम

4) 9 कि.मी. पूव

**Correct Answer: 9 कि.मी. पूव**

QID : 18 - प्रश्न म दो कथन दिये गये ह जिसके आगे दो निष्कर्ष I और II निकाले गये ह। आपको मानना है कि दोनो कथन सत्य है चाहे वह सामान्यतः ज्ञात तथ्या से भिन्न प्रतीत होते ह। आपको निणय करना है का दिए गए निष्कर्षा म से कौन-सा/कौन-से निश्चित रूप से कथन द्वारा सहा निकाला जा सकता है/सकते ह, यदि कोई हो।

कथन I: सभी चैन रस्सियां होती ह

कथन II: कुछ काँड़ियां चैन होती ह

निष्कर्ष I: कुछ रस्सियां काँड़ियां होती ह

निष्कर्ष II: सभी काँड़ियां रस्सियां होती ह

Options:

1) केवल निष्कर्ष I सहा है

2) केवल निष्कर्ष II सहा है

3) दोनो निष्कर्ष I और II सहा है

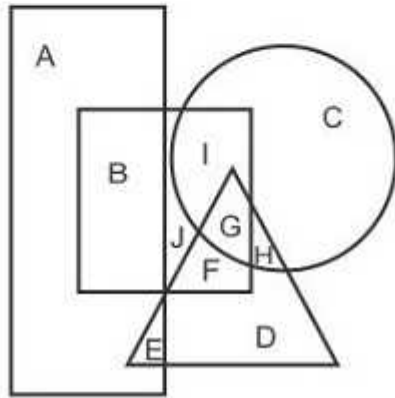
4) ना तो निष्कर्ष I सहा है ना ही निष्कर्ष II

**Correct Answer: केवल निष्कर्ष I सहा है**

QID : 19-

In the following figure, rectangle represents Paramedics, circle represents Athletes, triangle represents Poets and square represents Gymnasts. Which set of letters represents Gymnasts who are both Athletes as well as Poets?

निम्नलिखित आकृति में, आयत पराचिकित्सक को प्रदर्शित करता है, वृत्त एथलीट्स को प्रदर्शित करता है, त्रिभुज कवियों को प्रदर्शित करता है और वर्ग जिम्नास्ट्स को प्रदर्शित करता है। अक्षरों का कौन सा समूह उन जिम्नास्ट्स को प्रदर्शित करता है जो एथलीट्स और कवि दोनों हैं?



Options:

- 1) G
- 2) GH
- 3) IG
- 4) IGH

**Correct Answer: G**

QID : 20 - एक अनुक्रम दिया गया है, जिसमें से एक पद लुप्त है। दिए गए विकल्पों में से वह सही विकल्प चुनिए, जो अनुक्रम को पूरा करे।

HAT, MFY, RKD, WPI, ?

Options:

- 1) YRK
- 2) AWO
- 3) AVM
- 4) BUN

**Correct Answer: BUN**

QID : 21 - निम्नलिखित प्रश्न में दिए गए विकल्पों में से लुप्त अंक ज्ञात कीजिए।

669, 660, 651, 642, 633, ?

Options:

- 1) 622
- 2) 620
- 3) 624
- 4) 618

**Correct Answer: 624**

QID : 22 - नीचे दिए गए प्रश्न में, तीन संख्याओं के चार समूह दिए गए हैं। प्रत्येक समूह में दूसरी तथा तीसरी संख्या पहली संख्या से किसी एक तक/नियम से सम्बंधित है। तीन उसी एक तक/नियम के आधार पर समान हैं। दिए गए विकल्पों में से भिन्न को चुनिए।

Options:

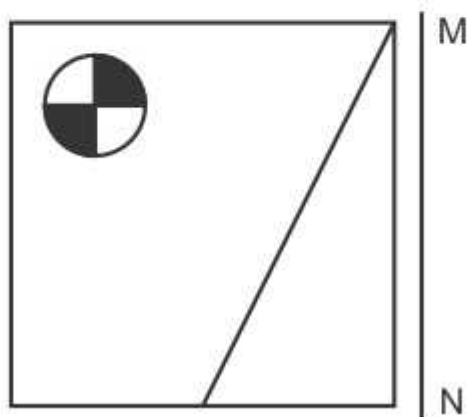
- 1) (49, 45, 39)
- 2) (73, 68, 63)
- 3) (94, 89, 84)
- 4) (66, 61, 56)

**Correct Answer: (49, 45, 39)**

QID : 23 -

If a mirror is placed on the line MN, then which of the answer figures is the right image of the given figure?

यदि एक दर्पण को MN रेखा पर रखा जाए तो दी गयी उत्तर आकृतियों में से कौन-सी आकृति प्रश्न आकृति का सही प्रतिबिम्ब होगी?





Options:

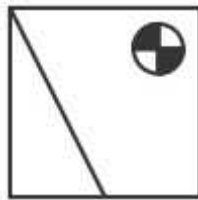
1)



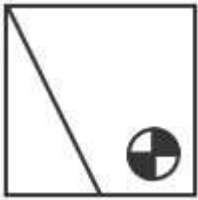
2)



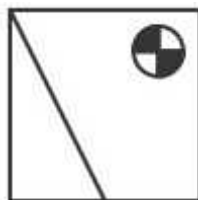
3)



4)



**Correct Answer:**



QID : 24 -

# SSC CHSL(10+2) परीक्षा अध्ययन सामग्री



- 100% CHSL Exam Syllabus Covered
- 5 Books, 900+ Pages
- 2500+ MCQs
- 1 Year Current Affairs (PDF Copy)
- Support & Guidance

**50% OFF**  
₹ 4,000/-  
₹ **1,999/-**

FREE SHIPPING

for Exam Help Call Us at: +91 8800734161

SSCPORTAL.IN

## आप क्या प्राप्त करेंगे?

- माध्यम: हिन्दी
- 100 प्रतिशत पाठ्यक्रम
- 900 से अधिक पृष्ठ
- 2500 से अधिक वस्तुनिष्ठ प्रश्न
- कुल 5 पुस्तिकाएँ
- अध्यायवार M.C.Q
- गणित एवं तार्किक क्षमता को हल करने की सरल विधि
- 5 अभ्यास प्रश्न पत्र (PDF Copy)
- हमारे विशेषज्ञों द्वारा मार्गदर्शन और सहायता

Price of the Kit:

Rs. 4,200

**Rs. 1,999/-**

(Limited time Offer)

 Buy Online

VISA Maestro MasterCard RuPay

Net Banking

**Order Online (100% Safe)**

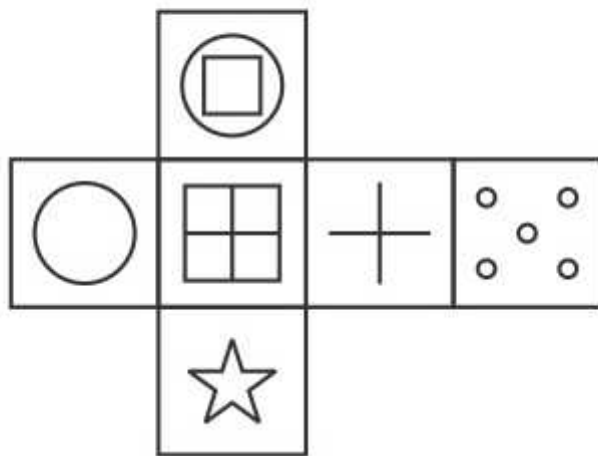
[Click here for Other Payment Options \(Cash/NEFT/etc\)](#)

**FOR MORE DETAILS CLICK HERE**

**50% OFF**

Which of the following cube in the answer figure cannot be made based on the unfolded cube in the question figure?

निम्नलिखित उत्तर आकृति में से कौन सा घन दिए गए प्रश्न आकृति में से खुले घन से बनाया नहीं जा सकता?

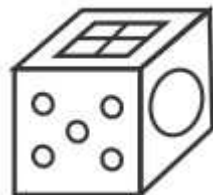


Options:

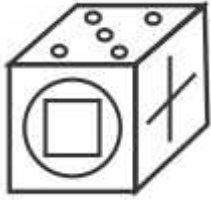
1)



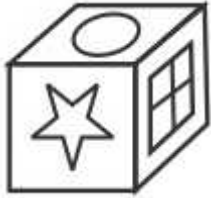
2)



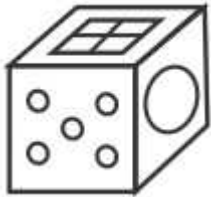
3)



4)



**Correct Answer:**



QID : 25 -

A word is represented by only one set of numbers as given in any one of the alternatives. The sets of numbers given in the alternatives are represented by two classes of alphabets as shown in the given two matrices. The columns and rows of Matrix-I are numbered from 0 to 4 and that of Matrix-II are numbered from 5 to 9. A letter from these matrices can be represented first by its row and next by its column, for example 'C' can be represented by 30, 43 etc and 'S' can be represented by 86, 97 etc. Similarly, you have to identify the set for the word 'VOLT'.

एक शब्द केवल एक संख्या-समूह द्वारा दर्शाया गया है, जैसा कि विकल्पों में से किसी एक में दिया गया है। विकल्पों में दिए गए संख्या-समूह अक्षरों के दो वर्गों द्वारा दर्शाए गए हैं, जैसा कि दिए गए दो आव्यूहों में है। आव्यूह-I के स्तम्भ और पंक्ति की संख्या 0 से 4 और आव्यूह-II की 5 से 9 है। इन आव्यूहों से एक अक्षर को पहले उसकी पंक्ति और बाद में स्तम्भ संख्या द्वारा दर्शाया जा सकता है। उदाहरण के लिए 'C' को 30, 43 आदि द्वारा दर्शाया जा सकता है तथा 'S' को 86, 97 आदि द्वारा दर्शाया जा सकता है। इसी तरह से आपको प्रश्न में दिए शब्द 'VOLT' के लिए समूह को पहचानना है।

Matrix I आव्यूह - I					
	0	1	2	3	4
0	A	F	B	I	M
1	F	C	J	C	B
2	B	G	F	F	F
3	C	L	E	J	B
4	K	A	M	C	E

Matrix II आव्यूह - II					
	5	6	7	8	9
5	V	U	X	Q	X
6	T	V	V	Q	X
7	W	Y	T	X	W
8	Z	S	N	Z	T
9	N	O	S	N	X

Options:

- 1) 67,96,31,65
- 2) 20,89,14,59
- 3) 43,58,31,65
- 4) 30,57,30,68

**Correct Answer: 67,96,31,65**



# SSC EXAMS PRINTED STUDY NOTES

<a href="#">Study Material for SSC CGL (Tier-1) Examination</a>	<a href="#">English</a>	<a href="#">CLICK HERE</a>
<a href="#">Study Kit for SSC CGL (Tier-2) Exam</a>	<a href="#">English</a>	<a href="#">CLICK HERE</a>
<a href="#">Study Kit for SSC CHSL (10+2) Examination</a>	<a href="#">English</a>	<a href="#">CLICK HERE</a>
<a href="#">Study Kit for SSC Stenographers (Grade 'C' &amp; 'D')</a>	<a href="#">English</a>	<a href="#">CLICK HERE</a>
<a href="#">Study Kit for Multitasking (Non-Technical) - MTS</a>	<a href="#">English</a>	<a href="#">CLICK HERE</a>
<a href="#">Study Kit for SSC Constables (GD) Exam</a>	<a href="#">English</a>	<a href="#">CLICK HERE</a>
<a href="#">Study Kit For SSC Sub-Inspectors in Delhi Police, CAPFs, CISF</a>	<a href="#">English</a>	<a href="#">CLICK HERE</a>
<a href="#">Study Kit for SSC Junior Engineer Exam (Paper-1)</a>	<a href="#">English</a>	<a href="#">CLICK HERE</a>
<b>IAS EXAMS STUDY MATERIALS</b>		
<a href="#">Study Kit for IAS (Pre) GENERAL STUDIES Paper-1 (GS)</a>	<a href="#">English</a>	<a href="#">CLICK HERE</a>
<a href="#">Study Kit for IAS (Pre) CSAT Paper-2(Aptitude)</a>	<a href="#">English</a>	<a href="#">CLICK HERE</a>
<a href="#">सामान्य अध्ययन (GS) प्रारंभिक परीक्षा (Pre) पेपर-1</a>	<a href="#">हिन्दी</a>	<a href="#">CLICK HERE</a>
<a href="#">आई. ए. एस. (सी-सैट) प्रारंभिक परीक्षा पेपर -2</a>	<a href="#">हिन्दी</a>	<a href="#">CLICK HERE</a>
<a href="#">Gist of NCERT Study Kit For UPSC Exams</a>	<a href="#">English</a>	<a href="#">CLICK HERE</a>
<a href="#">यूपीएससी परीक्षा के लिए एनसीईआरटी अध्ययन सामग्री</a>	<a href="#">हिन्दी</a>	<a href="#">CLICK HERE</a>