



कर्मचारी चयन आयोग
संयुक्त उच्चतर माध्यमिक स्तर परीक्षा

एस.एस.सी. सीएचएसएल (टियर -1) परीक्षा पेपर 2017 "21 मार्च
2018" सुबह का पाला (तक शक्ति) SSC CHSL (Tier - 1) Online
Exam Paper - 2017 "held on 21 March 2018" Morning Shift
(Reasoning)

QID : 1 - निम्नलिखित प्रश्न में दिए गए विकल्पों में से संबंधित शब्द युग्म को चुनिए।

खरगोश : जानवर :: ? : ?

Options:

- 1) सूर्य : चंद्रमा
- 2) पंचभुज : आकृति
- 3) सिंह : पक्षी
- 4) जानवर : गाय

Correct Answer: पंचभुज : आकृति

QID : 2 - निम्नलिखित प्रश्न में दिए गए विकल्पों में से संबंधित संख्या युग्म को चुनिए।

63 : 36 :: ? : ?

Options:

- 1) 94 : 49

- 2) 35 : 54
- 3) 47 : 72
- 4) 73 : 39

Correct Answer: 94 : 49

QID : 3 - निम्नलिखित प्रश्न में दिए गए विकल्पों में से संबंधित अक्षर/अक्षरों को चुनिए।

ACD : ZXW :: PMN : ?

Options:

- 1) LMN
- 2) MPN
- 3) KOP
- 4) KNM

Correct Answer: KNM

QID : 4 - निम्नलिखित प्रश्न में दिए गए विकल्पों में से विषम शब्द को चुनिए।

Options:

- 1) समचतुर्भुज
- 2)
- 3)
- 4)

Correct Answer: समचतुर्भुज

QID : 5 - नीचे दिए गए प्रश्न में, खरि (-) के बायीं ओर दो संख्या (-) और दो गई संख्या से किसी तक/नियम से सम्बंधित है। तीन उसी एक तक/दिए गए विकल्पों में से भिन्न को चुनिए।

Options:

- 1) 14 – 18
- 2) 42 – 46
- 3) 22 – 28
- 4) 24 – 28

Correct Answer: 22 – 28

QID : 6 - निम्नलिखित प्रश्न में दिए गए विकल्पों में से संबंधित अक्षर/अक्षरों को चुनिए।

Options:

- 1) UQMI
- 2) SOKG
- 3) MIEB
- 4) PLHD

Correct Answer: MIEB

QID : 7 - निम्नलिखित शब्दों को शब्दकोश में क्रमबद्ध करें।

1. Exception
2. Exceptional
3. Exchanging
4. Exchanged
5. Excess

Options:

- 1) 12543
- 2) 21453
- 3) 42531
- 4) 32154

Correct Answer: 12543

QID : 8 - निम्नलिखित प्रश्न में दिए गए क्रम में अंक ज्ञात काजिए।

11, 13, 17, 19, 23, ?

Options:

- 1) 29
- 2) 27
- 3) 31
- 4) 37

Correct Answer: 29

QID : 9 - निम्नलिखित शब्दों में से एक शब्द चुनिए, जो दिए गए विकल्पों में से एक शब्द का उल्टा है।

BEG, DGI, FIK, HKM, ?

Options:

- 1) JNP
- 2) NMO
- 3) JMO
- 4) KLO

Correct Answer: JMO

QID : 10 - , f , , f क्र
द से f i स , मित तथा सौरव के मध्य म , f
- मित ऊपरी छोर पर नहीं है। ऊपर से द स - ?

Options:

- 1) f
- 2) m⁺
- 3)
- 4) ज्ञात नहीं किया जा सकता

Correct Answer: ज्ञात नहीं किया जा सकता

QID : 11 - दिए गए विकल्पों में से वह शब्द चुनिए जो दिए गए शब्द के अक्षरों का प्रयोग करके नहीं

Contemtuous

Options:

- 1) Con
- 2) Tom
- 3) Pretty
- 4) Post

Correct Answer: Pretty

QID : 12 - एक विशिष्ट कोड भाषा में, "DRAPE" को "IWFUJ" के रूप में लिखा जाएगा। "RIGID" को किस प्रकार लिखा जाएगा?

Options:

- 1) CPLPK
- 2) RVCVB
- 3) WNLNI
- 4) GTATK

Correct Answer: WNLNI

QID : 13 - किसी निश्चित कोड भाषा में 'x', '+' को प्रदर्शित करता है, '÷', 'x' को प्रदर्शित करता है, '-', '÷' को प्रदर्शित करता है और '+', '-' को प्रदर्शित करता है। निम्नलिखित प्रश्न का उत्तर ज्ञात करें।

$$4 \times 18 \div 5 - 10 + 8 = ?$$

Options:

- 1) 35
- 2) 22
- 3) 5
- 4) 42

Correct Answer: 5

QID : 14 - निम्नलिखित समीकरण गलत है। इस समीकरण को सही करने के लिए किन दो चिन्हों को

$$12 - 16 \times 25 \div 80 + 10 = 7$$

Options:

- 1) \div x
- 2) - +
- 3) x -
- 4) \div -

Correct Answer: - - +

QID : 15 - $6a1 = 70, 2a3 = 50$ $4a5 = 90, 1a4$ ज्ञात करें।

Options:

- 1) 50
- 2) 30
- 3) 10
- 4) 60

Correct Answer: 50

QID : 16 - निम्नलिखित माला में क्रम क्या है ?

BAAAAAAB, ABAAAAAB, AABAAAAAB, AAABAAAAB, AAAABAAB, _____.

Options:

- 1) AAAAABAB
- 2) AAAAAABB
- 3) BAAAAAAB
- 4) ABAAAAAB

Correct Answer: AAAAABAB

QID : 17 - एक कानदार अपनी टाँलों को भरता है और दक्षिण की तरफ जाने वाले एक गलियारे के माध्यम से 30 मिनट में बाईं ओर म 10 मिनट में, फिर वह अपनी बाईं ओर म 10 मिनट में, फिर वह उत्तर की तरफ म 10 मिनट में, फिर वह

SSC CHSL(10+2) परीक्षा अध्ययन सामग्री



- 100% CHSL Exam Syllabus Covered
- 5 Books, 900+ Pages
- 2500+ MCQs
- 1 Year Current Affairs (PDF Copy)
- Support & Guidance

50% OFF
₹ 4,000/-
₹ **1,999/-**

FREE SHIPPING

for Exam Help Call Us at: +91 8800734161

SSCPORTAL.IN

आप क्या प्राप्त करेंगे?

- माध्यम: हिन्दी
- 100 प्रतिशत पाठ्यक्रम
- 900 से अधिक पृष्ठ
- 2500 से अधिक वस्तुनिष्ठ प्रश्न
- कुल 5 पुस्तिकाएँ
- अध्यायवार M.C.Q
- गणित एवं तार्किक क्षमता को हल करने की सरल विधि
- 5 अभ्यास प्रश्न पत्र (PDF Copy)
- हमारे विशेषज्ञों द्वारा मार्गदर्शन और सहायता

Price of the Kit:

Rs. 4,200

Rs. 1,999/-

(Limited time Offer)

 Buy Online

VISA Maestro MasterCard RuPay

Net Banking

Order Online (100% Safe)

[Click here for Other Payment Options \(Cash/NEFT/etc\)](#)

FOR MORE DETAILS CLICK HERE

50% OFF

फिर वह पश्चिम की तरफ मुड़ जाता है और आगे 45 मी. दूरी चलता है, फिर वह उत्तर की तरफ 20 मी. की राई तक चलता है। वह अब अपनी प्रारंभिक स्थिति के संदभ मी. दूरी पर है ?

Options:

- 1) 35 मी.
- 2) 55 मी.
- 3) 35 मी.
- 4) 55 मी.

Correct Answer: 35 मी.

QID : 18 - प्रश्न में दो निष्कर्ष I और II दिए गए हैं। आपका निर्णय करना है कि दिए गए निष्कर्षों में कौन सा निश्चित रूप से कथन द्वारा सही निकाला जा सकता है।

- I: सभी गहने क्लॉक्स होते हैं।
II: सभी क्लॉक्स गहने होते हैं।

Options:

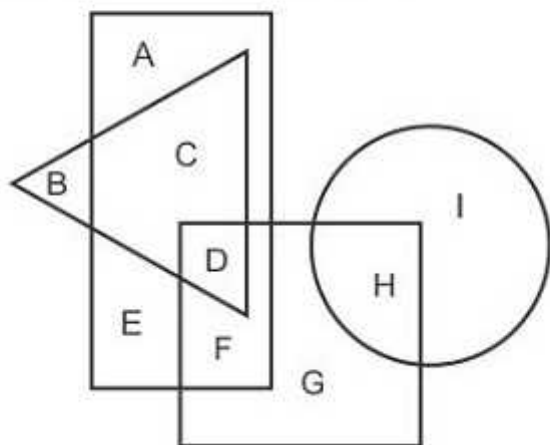
- 1) I और II दोनों सही हैं।
- 2) I सही है, II गलत है।
- 3) I गलत है, II सही है।
- 4) ना तो निष्कर्ष I सही है ना ही निष्कर्ष II सही है।

Correct Answer: I और II दोनों सही हैं।

QID : 19 -

In the following figure, rectangle represents Physicians, circle represents Racers, triangle represents Writers and square represents Mothers. Which set of letters represents Mothers who are not Racers?

निम्नलिखित आकृति में, आयत चिकित्सकों को प्रदर्शित करता है, वृत्त रेसर्स को प्रदर्शित करता है, त्रिभुज राइटर्स को प्रदर्शित करता है और वर्ग माताओं को प्रदर्शित करता है। अक्षरों का कौन सा समूह उन माताओं को प्रदर्शित करता है जो रेसर्स नहीं हैं?



Options:

- 1) FGH
- 2) ECA
- 3) DFG
- 4) DGFI

Correct Answer: DFG

QID : 20 - क्र 1 , प्त है। दिए गए विकल्पों में से सही विकल्प चुनिए।

GLN, HNQ, IPT, JRW, ?

Options:

- 1) KTZ
- 2) KUY
- 3) LTY
- 4) LUZ

Correct Answer: KTZ

QID : 21 - निम्नलिखित प्रश्न में दिए गए संख्याओं में से सही उत्तर अंक ज्ञात कीजिए।

87, 62, 42, 27, 17, ?

Options:

- 1) 7
- 2) 12
- 3) 8
- 4) 10

Correct Answer: 12

QID : 22 - नीचे दिए गए प्रश्न में, एक संख्या प्रत्येक संख्या से किसी एक तक/नियम से सम्बंधित है। तीन उसी एक तक/नियम से सम्बंधित संख्याओं में से सही उत्तर चुनिए।

Options:

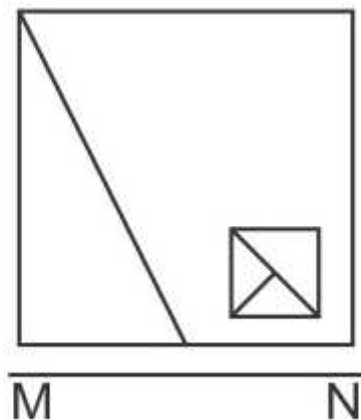
- 1) (14, 29, 43)
- 2) (11, 23, 34)
- 3) (15, 31, 46)
- 4) (21, 42, 64)

Correct Answer: (21, 42, 64)

QID : 23 -

If a mirror is placed on the line MN, then which of the answer figures is the right image of the given figure?

यदि एक दर्पण को MN रेखा पर रखा जाए तो दी गयी उत्तर आकृतियों में से कौन-सी आकृति प्रश्न आकृति का सही प्रतिबिम्ब होगी?

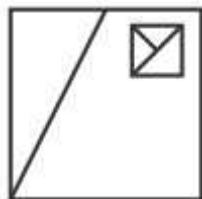


Options:

1)



2)



3)



4)



Correct Answer:



QID : 24 -

SSC CHSL (10+2) Printed Study Kit



- 100% CHSL Exam Syllabus Covered
- 5 Books, 1000+ Pages
- 4500+ MCQs
- Solved Papers & Mock Tests (PDF Copy)
- 1 Year Current Affairs (PDF Copy)

50% OFF
₹ 4,000/-
₹ **1,999/-**

FREE SHIPPING 

for Exam Help Call Us at: +91 8800734161

 **SSCPORTAL.IN**
India's Largest Online Community for SSC CHSL Exam Preparation

What you will get:

- 100% CHSL Exam Syllabus Covered
- 5 Booklets
- More Than 1000+ Pages
- 4500+ MCQs
- Previous Solved Papers
- Current Affairs for Exam
- Guidance & Support from Our Experts

Price of the Kit:

~~Rs. 4,000~~

Rs. 1,999/-
(Limited time Offer)

 **Buy Online**

Net Banking

Order Online (100% Safe)

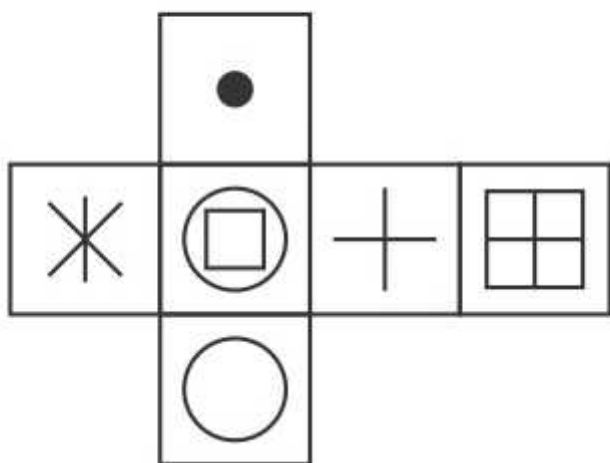
[Click here for Other Payment Options \(Cash/NEFT/etc\)](#)

FOR MORE DETAILS CLICK HERE

50% OFF

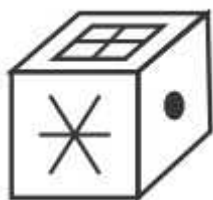
Which of the following cube in the answer figure cannot be made based on the unfolded cube in the question figure?

निम्नलिखित उत्तर आकृति में से कौन सा घन दिए गए प्रश्न आकृति में से खुले घन से बनाया नहीं जा सकता?

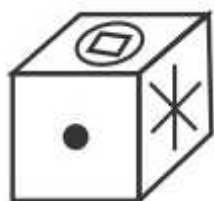


Options:

1)



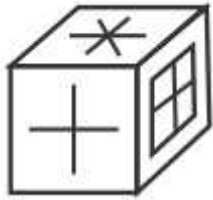
2)



3)



4)



Correct Answer:



QID : 25 -

A word is represented by only one set of numbers as given in any one of the alternatives. The sets of numbers given in the alternatives are represented by two classes of alphabets as shown in the given two matrices. The columns and rows of Matrix-I are numbered from 0 to 4 and that of Matrix-II are numbered from 5 to 9. A letter from these matrices can be represented first by its row and next by its column, for example 'C' can be represented by 10, 34 etc and 'Q' can be represented by 85, 96 etc. Similarly, you have to identify the set for the word 'GOES'.

एक शब्द केवल एक संख्या-समूह द्वारा दर्शाया गया है, जैसा कि विकल्पों में से किसी एक में दिया गया है। विकल्पों में दिए गए संख्या-समूह अक्षरों के दो वर्गों द्वारा दर्शाए गए हैं, जैसा कि दिए गए दो आव्यूहों में है। आव्यूह-I के स्तम्भ और पंक्ति की संख्या 0 से 4 और आव्यूह-II की 5 से 9 है। इन आव्यूहों से एक अक्षर को पहले उसकी पंक्ति और बाद में स्तम्भ संख्या द्वारा दर्शाया जा सकता है। उदाहरण के लिए 'C' को 10, 34 आदि द्वारा दर्शाया जा सकता है तथा 'Q' को 85, 96 आदि द्वारा दर्शाया जा सकता है। इसी तरह से आपको प्रश्न में दिए शब्द 'GOES' के लिए समूह को पहचानना है।

Matrix I आव्यूह - I					
	0	1	2	3	4
0	A	A	J	M	G
1	C	J	H	G	J
2	H	B	L	M	D
3	I	J	L	I	C
4	E	E	D	M	L

Matrix II आव्यूह - II					
	5	6	7	8	9
5	W	V	P	V	P
6	R	S	P	Z	U
7	R	Z	Z	O	T
8	Q	T	N	S	P
9	Y	Q	R	V	X

Options:

- 1) 11,75,12,77
- 2) 32,76,44,95
- 3) 13,78,41,66
- 4) 33,88,21,89

Correct Answer: 13,78,41,66



SSC EXAMS PRINTED STUDY NOTES

Study Material for SSC CGL (Tier-1) Examination	English	CLICK HERE
Study Kit for SSC CGL (Tier-2) Exam	English	CLICK HERE
Study Kit for SSC CHSL (10+2) Examination	English	CLICK HERE
Study Kit for SSC Stenographers (Grade 'C' & 'D')	English	CLICK HERE
Study Kit for Multitasking (Non-Technical) - MTS	English	CLICK HERE
Study Kit for SSC Constables (GD) Exam	English	CLICK HERE
Study Kit For SSC Sub-Inspectors in Delhi Police, CAPFs, CISF	English	CLICK HERE
Study Kit for SSC Junior Engineer Exam (Paper-1)	English	CLICK HERE
IAS EXAMS STUDY MATERIALS		
Study Kit for IAS (Pre) GENERAL STUDIES Paper-1 (GS)	English	CLICK HERE
Study Kit for IAS (Pre) CSAT Paper-2(Aptitude)	English	CLICK HERE
सामान्य अध्ययन (GS) प्रारंभिक परीक्षा (Pre) पेपर-1	हिन्दी	CLICK HERE
आई. ए. एस. (सी-सैट) प्रारंभिक परीक्षा पेपर -2	हिन्दी	CLICK HERE
Gist of NCERT Study Kit For UPSC Exams	English	CLICK HERE
यूपीएससी परीक्षा के लिए एनसीईआरटी अध्ययन सामग्री	हिन्दी	CLICK HERE