



कर्मचारी चयन आयोग  
संयुक्त उच्चतर माध्यमिक स्तर परीक्षा

---

एस.एस.सी. सीएचएसएल (टियर -1) परीक्षा पेपर 2017 "20 मार्च  
2018" दोपहर का पाला (तक शक्ति) SSC CHSL (Tier - 1)  
Online Exam Paper - 2017 "held on 20 March 2018"  
Afternoon Shift (Reasoning)

---

QID : 1 - निम्नलिखित प्रश्न में दिए गए विकल्पों में से संबंधित शब्द युग्म को चुनिए।

पिरामिड : आकृति :: ? : ?

Options:

- 1) शंकु : त्रिभुज
- 2) आकृति : प्रिज़म
- 3) वग : चार
- 4) गोला : आकृति

**Correct Answer: गोला : आकृति**

QID : 2 - निम्नलिखित प्रश्न में दिए गए विकल्पों में से संबंधित संख्या को चुनिए।

14 : 17 :: 16 : ?

Options:

- 1) 19
- 2) 20

3) 22

4) 24

**Correct Answer: 19**

**QID : 3 - निम्नलिखित प्रश्न में दिए गए विकल्पों में से संबंधित अक्षर युग्म को चुनिए।**

**GUN : FTM :: ? : ?**

**Options:**

1) PKR : OJS

2) DTY : CUX

3) DJP : CIO

4) HQA : GPB

**Correct Answer: DJP : CIO**

**QID : 4 - निम्नलिखित प्रश्न में दिए गए विकल्पों में से विषम शब्द युग्म को चुनिए।**

**Options:**

1) चाँदी – धातु

2) प्लैटिनम – धातु

3) ताँबा – धातु

4) धातु – निकल

**Correct Answer: धातु – निकल**

**QID : 5 - नीचे दिए गए प्रश्न में, चार संख्या युग्म दिए गए हैं। (-) के बायीं ओर दी संख्या (-) के दायीं ओर दी गई संख्या से तर्क/नियम से संबंधित है। तीन उसी एक तर्क/नियम के आधार पर समान हैं। दिए गए विकल्पों में से भिन्न को चुनिए।**

**Options:**

1) 3 – 9

2) 5 – 25

3) 7 – 49

4) 10 – 101

**Correct Answer: 10 – 101**

**QID : 6 - निम्नलिखित प्रश्न में दिए गए विकल्पों में से विषम अक्षर/अक्षरों को चुनिए।**

**Options:**

1) RLF

2) VOI

3) WQK

4) MGA

**Correct Answer: VOI**

**QID : 7 - निम्नलिखित शब्दों को शब्दकोश में आने वाले क्रम के अनुसार लिख।**

1. Shore
2. Shift
3. Shimmer
4. Ship
5. Shiny

**Options:**

- 1) 23541
- 2) 12453
- 3) 25413
- 4) 21453

**Correct Answer: 23541**

**QID : 8 - निम्नलिखित प्रश्न में दिए गए विकल्पों में से लुप्त अंक ज्ञात कीजिए।**

**56, 65, 81, 106, ?, 191**

**Options:**

- 1) 142
- 2) 164
- 3) 138
- 4) 154

**Correct Answer: 142**

**QID : 9 - एक अनुक्रम दिया गया है, जिसमें से एक पद लुप्त है। दिए गए विकल्पों में से वह सही विकल्प चुनिए, जो अनुक्रम को पूरा करे।**

**YRST, WPQR, UNOP, SLMN, ?**

**Options:**

- 1) QJKL
- 2) KJLL
- 3) QJLM
- 4) KLJM

**Correct Answer: QJKL**

**QID : 10 - रोहित, पुनीत से लम्बा है परंतु मयंक से छोटा है। रोहन सबसे छोटा है तथा मोहन, रोहित से लम्बा है परंतु सबसे लम्बा नहीं है। सबसे लम्बा कौन है?**

**Options:**

- 1) रोहन
- 2) मयंक
- 3) मोहन
- 4) रोहित

**Correct Answer: मयंक**

QID : 11 - दिए गए विकल्पों में से वह शब्द चुनिए जो दिए गए शब्द के अक्षरों का प्रयोग करके नहीं बनाया जा सकता है।

Unquestionable

Options:

- 1) Able
- 2) Untie
- 3) Question
- 4) Nature

**Correct Answer: Nature**

QID : 12 - एक विशिष्ट कोड भाषा में, "FRUST" को "HTWUV" लिखा जाता है। इस कोड भाषा में "LUKES" को किस प्रकार लिखा जाएगा?

Options:

- 1) MVNHV
- 2) NWMGU
- 3) HUNGM
- 4) GUHVM

**Correct Answer: NWMGU**

QID : 13 - किसी निश्चित कोड भाषा में '-' , '+' को प्रदर्शित करता है, 'x' , 'x' को प्रदर्शित करता है, 'x' , '÷' को प्रदर्शित करता है और '÷' , '-' को प्रदर्शित करता है। निम्नलिखित प्रश्न का उत्तर ज्ञात करें।

$$11 - 18 + 15 \times 10 \div 6 = ?$$

Options:

- 1) 46
- 2) 7
- 3) 47
- 4) 32

**Correct Answer: 32**

QID : 14 - निम्नलिखित समीकरण गलत है। इस समीकरण को सही करने के लिए किन दो चिन्हों को आपस में अदला-बदली करना चाहिए?

$$2 \times 12 + 15 \div 4 - 14 = 33$$

Options:

- 1) + और x
- 2) + और ÷
- 3) - और +
- 4) ÷ और x

**Correct Answer: + और x**

QID : 15 - यदि  $11\$9 = 4$ ,  $15\$2 = 26$  और  $15\$5 = 20$ , तो  $17\$8$  का मान ज्ञात करें।

# SSC CHSL(10+2) परीक्षा अध्ययन सामग्री



- 100% CHSL Exam Syllabus Covered
- 5 Books, 900+ Pages
- 2500+ MCQs
- 1 Year Current Affairs (PDF Copy)
- Support & Guidance

**50% OFF**  
₹ 4,000/-  
₹ **1,999/-**

FREE SHIPPING

for Exam Help Call Us at: +91 8800734161

SSCPORTAL.IN

## आप क्या प्राप्त करेंगे?

- माध्यम: हिन्दी
- 100 प्रतिशत पाठ्यक्रम
- 900 से अधिक पृष्ठ
- 2500 से अधिक वस्तुनिष्ठ प्रश्न
- कुल 5 पुस्तिकाएँ
- अध्यायवार M.C.Q
- गणित एवं तार्किक क्षमता को हल करने की सरल विधि
- 5 अभ्यास प्रश्न पत्र (PDF Copy)
- हमारे विशेषज्ञों द्वारा मार्गदर्शन और सहायता

Price of the Kit:

Rs. 4,200

**Rs. 1,999/-**

(Limited time Offer)

 Buy Online

VISA Maestro MasterCard RuPay

Net Banking

**Order Online (100% Safe)**

[Click here for Other Payment Options \(Cash/NEFT/etc\)](#)

**FOR MORE DETAILS CLICK HERE**

**50% OFF**

**Options:**

- 1) 18
- 2) 10
- 3) 16
- 4) 2

**Correct Answer: 18**

**QID : 16 - निम्नलिखित म से कौन सा पद दी गयी सूची के क्रम के अनुसार है?**

AAAAABAB, AAAABAAB, AAABAAAB, AABAAAAB, ABAAAAAB, \_\_\_\_\_.

**Options:**

- 1) BAAAAAAB
- 2) AAAAAABB
- 3) AAAAABAB
- 4) AAAABAAB

**Correct Answer: BAAAAAAB**

**QID : 17 - एक लक्जरी जहाज बंदरगाह से शुरू होता है और पश्चिम म 35 मील जाता है, फिर वह उत्तर की तरफ मुड़ता है और आगे 10 मील की दूरी तक जाता है, फिर वह पूर्व की तरफ मुड़ जाता है और आगे 20 मील की दूरी तक जाता है, फिर वह अपने दाहिनी ओर मुड़ जाता है और आगे 10 मील की दूरी तक चलता है। बंदरगाह के संबंध म अब यह कहाँ है, जहाँ से इसने चलना शुरू किया था?**

**Options:**

- 1) 55 मील पश्चिम
- 2) 15 मील पश्चिम
- 3) 15 मील पूर्व
- 4) 55 मील पूर्व

**Correct Answer: 15 मील पश्चिम**

**QID : 18 - प्रश्न म दो कथन दिये गये ह जिसके आगे दो निष्कर्ष I और II निकाले गये ह। आपको मानना है कि दोनों कथन सत्य है चाहे वह सामान्यतः ज्ञात तथ्यों से भिन्न प्रतीत होते ह। आपको निणय करना है की दिए गए निष्कर्षों म से कौन-सा/कौन-से निश्चित रूप से कथन द्वारा सही निकाला जा सकता है/सकते ह, यदि कोई हो।**

कथन I: कुछ फोन डिवाइस होते ह

कथन II: सभी मोबाइल फोन होते ह

निष्कर्ष I: सभी डिवाइस मोबाइल होते ह

निष्कर्ष II: कोई भी मोबाइल डिवाइस नहीं होता है

**Options:**

- 1) Only conclusion I follows
- 2) Only conclusion II follows

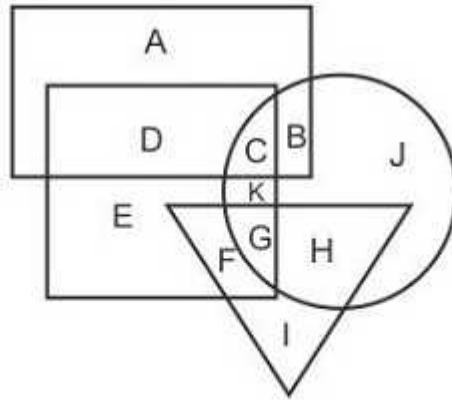
- 3) Both conclusions I and II follow  
 4) Neither conclusion I nor conclusion II follows

**Correct Answer:** ना तो निष्कर्ष I सही है ना ही निष्कर्ष II

**QID : 19 -**

In the following figure, rectangle represents Technicians, circle represents Bikers, triangle represents Tattooists and square represents Fathers. Which set of letters represents Fathers who are not Bikers?

निम्नलिखित आकृति में, आयत तकनीशियनों को प्रदर्शित करता है, वृत्त बाइक्स को प्रदर्शित करता है, त्रिभुज टैटू कलाकारों को प्रदर्शित करता है और वर्ग पिताओं को प्रदर्शित करता है। अक्षरों का कौन सा समूह उन पिताओं को प्रदर्शित करता है जो बाइक्स नहीं है?



**Options:**

- 1) CHG  
 2) DECK  
 3) EKGF  
 4) DEF

**Correct Answer: DEF**

**QID : 20 -** एक अनुक्रम दिया गया है, जिसमें से एक पद लुप्त है। दिए गए विकल्पों में से वह सही विकल्प चुनिए, जो अनुक्रम को पूरा करे।

GMJ, LRO, QWT, VBY, ?

**Options:**

- 1) AGD
- 2) BFD
- 3) AFC
- 4) BGC

**Correct Answer: AGD**

QID : 21 - निम्नलिखित प्रश्न में दिए गए विकल्पों में से लुप्त अंक ज्ञात कीजिए।

60, 53, 47, 42, 38, ?

Options:

- 1) 40
- 2) 36
- 3) 35
- 4) 32

**Correct Answer: 35**

QID : 22 - नीचे दिए गए प्रश्न में, तीन संख्याओं के चार समूह दिए गए हैं। प्रत्येक समूह में दूसरी तथा तीसरी संख्या पहली संख्या से किसी एक तक/नियम से सम्बंधित है। तीन उसी एक तक/नियम के आधार पर समान हैं। दिए गए विकल्पों में से भिन्न को चुनिए।

Options:

- 1) (15, 24, 29)
- 2) (13, 22, 26)
- 3) (53, 62, 66)
- 4) (47, 56, 60)

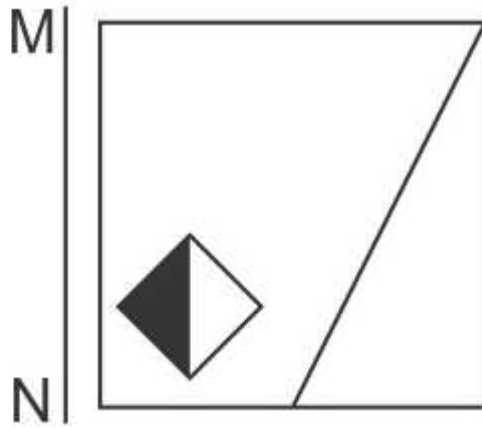
**Correct Answer: (15, 24, 29)**

QID : 23 -



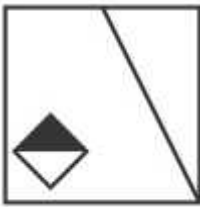
If a mirror is placed on the line MN, then which of the answer figures is the right image of the given figure?

यदि एक दर्पण को MN रेखा पर रखा जाए तो दी गयी उत्तर आकृतियों में से कौन-सी आकृति प्रश्न आकृति का सही प्रतिबिम्ब होगी?



Options:

1)



2)



3)

# SSC CHSL (10+2) Printed Study Kit



- 100% CHSL Exam Syllabus Covered
- 5 Books, 1000+ Pages
- 4500+ MCQs
- Solved Papers & Mock Tests (PDF Copy)
- 1 Year Current Affairs (PDF Copy)

**50% OFF**  
₹ 4,000/-  
₹ **1,999/-**

FREE SHIPPING 

for Exam Help Call Us at: +91 8800734161

 **SSCPORTAL.IN**  
India's Largest Online Community for SSC CHSL Exam Preparation

## What you will get:

- 100% CHSL Exam Syllabus Covered
- 5 Booklets
- More Than 1000+ Pages
- 4500+ MCQs
- Previous Solved Papers
- Current Affairs for Exam
- Guidance & Support from Our Experts

Price of the Kit:

~~Rs. 4,000~~

**Rs. 1,999/-**  
(Limited time Offer)

 **Buy Online**

Net Banking

**Order Online (100% Safe)**

[Click here for Other Payment Options \(Cash/NEFT/etc\)](#)

**FOR MORE DETAILS CLICK HERE**

**50% OFF**



4)



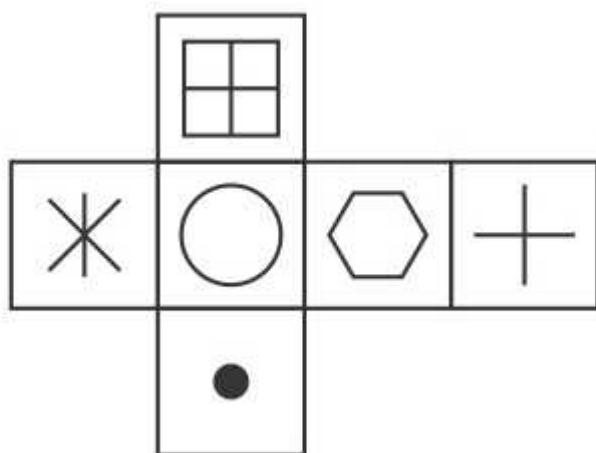
**Correct Answer:**



QID : 24 -

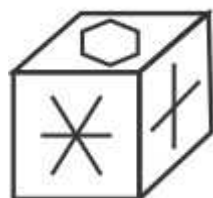
Which of the following cube in the answer figure cannot be made based on the unfolded cube in the question figure?

निम्नलिखित उत्तर आकृति में से कौन सा घन दिए गए प्रश्न आकृति में से खुले घन से बनाया नहीं जा सकता?

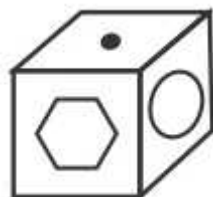


Options:

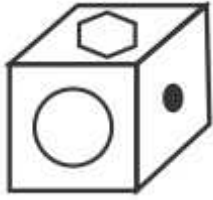
1)



2)



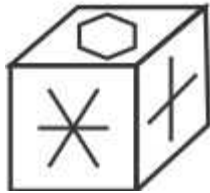
3)



4)



**Correct Answer:**



QID : 25 -

A word is represented by only one set of numbers as given in any one of the alternatives. The sets of numbers given in the alternatives are represented by two classes of alphabets as shown in the given two matrices. The columns and rows of Matrix-I are numbered from 0 to 4 and that of Matrix-II are numbered from 5 to 9. A letter from these matrices can be represented first by its row and next by its column, for example 'H' can be represented by 31, 23 etc and 'W' can be represented by 75, 89 etc. Similarly, you have to identify the set for the word 'LAUD'.

एक शब्द केवल एक संख्या-समूह द्वारा दर्शाया गया है, जैसा कि विकल्पों में से किसी एक में दिया गया है। विकल्पों में दिए गए संख्या-समूह अक्षरों के दो वर्गों द्वारा दर्शाए गए हैं, जैसा कि दिए गए दो आव्यूहों में हैं। आव्यूह-I के स्तम्भ और पंक्ति की संख्या 0 से 4 और आव्यूह-II की 5 से 9 है। इन आव्यूहों से एक अक्षर को पहले उसकी पंक्ति और बाद में स्तम्भ संख्या द्वारा दर्शाया जा सकता है। उदाहरण के लिए 'H' को 31, 23 आदि द्वारा दर्शाया जा सकता है तथा 'W' को 75, 89 आदि द्वारा दर्शाया जा सकता है। इसी तरह से आपको प्रश्न में दिए शब्द 'LAUD' के लिए समूह को पहचानना है।

Matrix I आव्यूह - I					
	0	1	2	3	4
0	A	I	L	F	F
1	B	L	I	H	D
2	E	J	K	A	J
3	M	H	K	E	G
4	I	L	C	K	B

Matrix II आव्यूह - II					
	5	6	7	8	9
5	U	S	O	O	Z
6	X	R	P	S	P
7	W	P	X	V	T
8	R	P	V	O	W
9	S	W	P	N	Z

**Options:**

- 1) 20,87,23,59
- 2) 10,85,24,85
- 3) 41,23,55,14
- 4) 32,69,22,79

**Correct Answer: 41,23,55,14**



# SSC EXAMS PRINTED STUDY NOTES

<a href="#">Study Material for SSC CGL (Tier-1) Examination</a>	<a href="#">English</a>	<a href="#">CLICK HERE</a>
<a href="#">Study Kit for SSC CGL (Tier-2) Exam</a>	<a href="#">English</a>	<a href="#">CLICK HERE</a>
<a href="#">Study Kit for SSC CHSL (10+2) Examination</a>	<a href="#">English</a>	<a href="#">CLICK HERE</a>
<a href="#">Study Kit for SSC Stenographers (Grade 'C' &amp; 'D')</a>	<a href="#">English</a>	<a href="#">CLICK HERE</a>
<a href="#">Study Kit for Multitasking (Non-Technical) - MTS</a>	<a href="#">English</a>	<a href="#">CLICK HERE</a>
<a href="#">Study Kit for SSC Constables (GD) Exam</a>	<a href="#">English</a>	<a href="#">CLICK HERE</a>
<a href="#">Study Kit For SSC Sub-Inspectors in Delhi Police, CAPFs, CISF</a>	<a href="#">English</a>	<a href="#">CLICK HERE</a>
<a href="#">Study Kit for SSC Junior Engineer Exam (Paper-1)</a>	<a href="#">English</a>	<a href="#">CLICK HERE</a>
<b>IAS EXAMS STUDY MATERIALS</b>		
<a href="#">Study Kit for IAS (Pre) GENERAL STUDIES Paper-1 (GS)</a>	<a href="#">English</a>	<a href="#">CLICK HERE</a>
<a href="#">Study Kit for IAS (Pre) CSAT Paper-2(Aptitude)</a>	<a href="#">English</a>	<a href="#">CLICK HERE</a>
<a href="#">सामान्य अध्ययन (GS) प्रारंभिक परीक्षा (Pre) पेपर-1</a>	<a href="#">हिन्दी</a>	<a href="#">CLICK HERE</a>
<a href="#">आई. ए. एस. (सी-सैट) प्रारंभिक परीक्षा पेपर -2</a>	<a href="#">हिन्दी</a>	<a href="#">CLICK HERE</a>
<a href="#">Gist of NCERT Study Kit For UPSC Exams</a>	<a href="#">English</a>	<a href="#">CLICK HERE</a>
<a href="#">यूपीएससी परीक्षा के लिए एनसीईआरटी अध्ययन सामग्री</a>	<a href="#">हिन्दी</a>	<a href="#">CLICK HERE</a>