



कर्मचारी चयन आयोग
संयुक्त उच्चतर माध्यमिक स्तर परीक्षा

एस.एस.सी. सीएचएसएल (टियर -1) परीक्षा पेपर 2017 "17 मार्च
2018" सुबह को पाला (तक शक्ति) SSC CHSL (Tier - 1)
Online Exam Paper - 2017 "held on 17 March 2018"
Morning Shift (Reasoning)

QID : 1 - निम्नलिखित प्रश्न में दिए गए विकल्पों में से संबंधित शब्द युग्म को चुनिए।

चिल्लाना : बोलना :: ? : ?

- 1) पेट्रोल : ईंधन
- 2) प्रकोप : क्रोध
- 3) इबना : जल
- 4) प्रसिद्ध : व्यक्ति

Correct Answer: प्रकोप : क्रोध

QID : 2 - निम्नलिखित प्रश्न में दिए गए विकल्पों में से संबंधित संख्या को चुनिए।

46 : 48 :: 61 : ?

- 1) 67
- 2) 71
- 3) 65
- 4) 63

Correct Answer: 63

QID : 3 - निम्नलिखित प्रश्न में दिए गए विकल्पों में से संबंधित अक्षर/अक्षरों को चुनिए।

VOT : SLQ :: HRX : ?

- 1) EMS
- 2) KOC
- 3) EOU
- 4) RVH

Correct Answer: EOU

QID : 4 - निम्नलिखित प्रश्न में दिए गए विकल्पों में से विषम शब्द युग्म को चुनिए।

- 1) कार – सड़क
- 2) जल – जहाज़
- 3) पटरों – रेलगाड़ी
- 4) आकाश – हवाई जहाज़

Correct Answer: कार – सड़क

QID : 5 - नीचे दिए गए प्रश्न में, चार संख्या युग्म दिए गए हैं। (-) के बायीं ओर दी संख्या (-) के दायीं ओर दी गई संख्या से तक/नियम से संबंधित है। तीन उसी एक तक/नियम के आधार पर समान हैं। दिए गए विकल्पों में से भिन्न को चुनिए।

- 1) 12 – 24
- 2) 14 – 28
- 3) 44 – 88
- 4) 33 – 88

Correct Answer: 33 – 88

QID : 6 - निम्नलिखित प्रश्न में दिए गए विकल्पों में से विषम अक्षर/अक्षरों को चुनिए।

- 1) LFZ
- 2) PJC
- 3) SMG
- 4) XRL

Correct Answer: PJC

QID : 7 - निम्नलिखित शब्दों को शब्दकोश में आने वाले क्रम के अनुसार लिख।

1. Lighten
 2. Liftoff
 3. Lemonade
 4. Leisure
 5. Ladies
- 1) 32451
 - 2) 21345

3) 13245

4) 54321

Correct Answer: 54321

QID : 8 - निम्नलिखित प्रश्न में दिए गए विकल्पों में से लुप्त अंक ज्ञात कीजिए।

23, 24, 26, 27, 29, ?

1) 31

2) 30

3) 33

4) 32

Correct Answer: 30

QID : 9 - एक अनुक्रम दिया गया है, जिसमें से एक पद लुप्त है। दिए गए विकल्पों में से वह सही विकल्प चुनिए, जो अनुक्रम को पूरा करे।

PCM, REO, TGQ, VIS, ?

1) XKU

2) WLV

3) XLV

4) WKU

Correct Answer: XKU

QID : 10 - रोना तथा उसके पिता का वर्तमान आयु का अनुपात 4 : 5 है। आज से 8 वर्ष पश्चात उसके पिता तथा उसके पुत्र का आयु 24 : 9 के अनुपात में होगी। यदि रोना का वर्तमान आयु 32 वर्ष है, तो उसके पुत्र का वर्तमान आयु (वर्षों में) क्या होगी?

1) 12

2) 15

3) 10

4) 8

Correct Answer: 10

QID : 11 - दिए गए विकल्पों में से वह शब्द चुनिए जो दिए गए शब्द के अक्षरों का प्रयोग करके नहीं बनाया जा सकता है।

Preparation

1) Paper

2) Ration

3) Part

4) People

Correct Answer: People

QID : 12 - एक विशिष्ट कोड भाषा में, "PROP" को "67" लिखा जाता है तथा "RATE" को "46" लिखा जाता है। इस कोड भाषा में "MOCK" को किस प्रकार लिखा जाएगा?

- 1) 41
- 2) 40
- 3) 42
- 4) 44

Correct Answer: 44

QID : 13 - किसी निश्चित कोड भाषा में '-' , 'x' को प्रदर्शित करता है, '÷' , '+' को प्रदर्शित करता है, '+' , '÷' को प्रदर्शित करता है और 'x' , '-' को प्रदर्शित करता है। निम्नलिखित प्रश्न का उत्तर ज्ञात कर।

$$35 - 12 + 10 \times 50 \div 14 = ?$$

- 1) 31
- 2) 6
- 3) 27
- 4) 15

Correct Answer: 6

QID : 14 - निम्नलिखित समीकरण गलत है। इस समीकरण को सही करने के लिए किन दो चिह्नों को आपस में अदला-बदला करना चाहिए?

$$16 \div 4 \times 8 - 10 + 14 = 12$$

- 1) x and -
- 2) ÷ and x
- 3) ÷ and -
- 4) - and +

Correct Answer: ÷ और x

QID : 15 - यदि $19!3 = 32$, $13!4 = 18$ और $12!2 = 20$, तो $17!3$ का मान ज्ञात कर।

- 1) 16
- 2) 28
- 3) 4
- 4) 8

Correct Answer: 28

QID : 16 - निम्नलिखित में से कौन सा पद दी गयी सूची के क्रम के अनुसार है?

XZYXYXYXY, XYZYXYXY, XYXZYXYXY, XYXZYXYXY, XYXYXZYXY, _____.

- 1) ZXYXYXYXY
- 2) XZYXYXYXY
- 3) XYZYXYXY
- 4) XYXYXZYXY

Correct Answer: XYXYXZYXY

SSC CHSL(10+2) परीक्षा अध्ययन सामग्री



- 100% CHSL Exam Syllabus Covered
- 5 Books, 900+ Pages
- 2500+ MCQs
- 1 Year Current Affairs (PDF Copy)
- Support & Guidance

50% OFF
₹ 4,000/-
₹ **1,999/-**

FREE SHIPPING

for Exam Help Call Us at: +91 8800734161

SSCPORTAL.IN

आप क्या प्राप्त करेंगे?

- माध्यम: हिन्दी
- 100 प्रतिशत पाठ्यक्रम
- 900 से अधिक पृष्ठ
- 2500 से अधिक वस्तुनिष्ठ प्रश्न
- कुल 5 पुस्तिकाएँ
- अध्यायवार M.C.Q
- गणित एवं तार्किक क्षमता को हल करने की सरल विधि
- 5 अभ्यास प्रश्न पत्र (PDF Copy)
- हमारे विशेषज्ञों द्वारा मार्गदर्शन और सहायता

Price of the Kit:

Rs. 4,200

Rs. 1,999/-

(Limited time Offer)

 Buy Online

VISA Maestro MasterCard RuPay

Net Banking

Order Online (100% Safe)

[Click here for Other Payment Options \(Cash/NEFT/etc\)](#)

FOR MORE DETAILS CLICK HERE

50% OFF

QID : 17 - दो नौसेना जहाज एक ही पोर्ट से निकलते हैं। जहाज A पश्चिम की तरफ 23 कि.मी. तक यात्रा करता है, फिर अपने बाईं तरफ मुड़ जाता है और आगे 19 कि.मी. का यात्रा करता है। जहाज B पश्चिम की तरफ 19 कि.मी. तक यात्रा करता है, फिर वह उत्तर की तरफ मुड़ जाता है और आगे 5 कि.मी. का यात्रा करता है, फिर वह अपने बाएं तरफ मुड़ता है और आगे 4 कि.मी. का यात्रा करता है। जहाज B के संबंध में जहाज A कहाँ है?

- 1) 14 कि.मी. दक्षिण
- 2) 24 कि.मी. उत्तर
- 3) 24 कि.मी. दक्षिण
- 4) 14 कि.मी. उत्तर

Correct Answer: 24 कि.मी. दक्षिण

QID : 18 - प्रश्न में दो कथन दिये गये हैं जिसके आगे दो निष्कर्ष I और II निकाले गये हैं। आपको मानना है कि दोनों कथन सत्य हैं चाहे वह सामान्यतः ज्ञात तथ्यों से भिन्न प्रतीत होते हैं। आपको निष्कर्ष I से कौन-सा/कौन-से निश्चित रूप से कथन द्वारा सही निकाला जा सकता है/सकते हैं, यदि कोई हो।

कथन I: सभी कच्ची चाकू होती हैं

कथन II: कुछ ब्लेड कच्ची होते हैं

निष्कर्ष I: कुछ चाकू ब्लेड होते हैं

निष्कर्ष II: सभी ब्लेड चाकू होते हैं

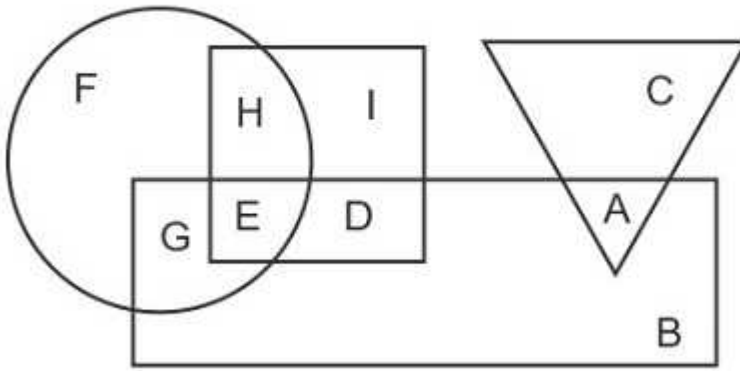
- 1) केवल निष्कर्ष I सही है
- 2) केवल निष्कर्ष II सही है
- 3) दोनों निष्कर्ष I और II सही हैं
- 4) ना तो निष्कर्ष I सही है ना ही निष्कर्ष II

Correct Answer: केवल निष्कर्ष I सही है

QID : 19 -

In the following figure, rectangle represents Cinematographers, circle represents Lyricists, triangle represents Trekkers and square represents Joggers. Which set of letters represents Trekkers who are not Joggers?

निम्नलिखित आकृति में, आयत सिनेमेटोग्राफर को प्रदर्शित करता है, वृत्त गीतकारों को प्रदर्शित करता है, त्रिभुज ट्रेकर्स को प्रदर्शित करता है और वर्ग जॉगर्स को प्रदर्शित करता है। अक्षरों का कौन सा समूह उन ट्रेकर्स को प्रदर्शित करता है जो जॉगर्स नहीं हैं ?



- 1) ID
- 2) AD
- 3) CI
- 4) AC

Correct Answer: AC

QID : 20 - एक अनुक्रम दिया गया है, जिसमें से एक पद लुप्त है। दिए गए विकल्पों में से वह सही विकल्प चुनिए, जो अनुक्रम को पूरा करे।

HOT, GMQ, FKN, EIK, ?

- 1) CHI
- 2) CGH
- 3) DGH
- 4) DHI

Correct Answer: DGH

QID : 21 - निम्नलिखित प्रश्न में दिए गए विकल्पों में से लुप्त अंक ज्ञात कीजिए।

93, 100, 107, 114, ?, 128

- 1) 120
- 2) 121
- 3) 123
- 4) 122

Correct Answer: 121

QID : 22 - नीचे दिए गए प्रश्न में, तीन संख्याओं के चार समूह दिये गए हैं। प्रत्येक समूह में दूसरी तथा तीसरी संख्या पहली संख्या से किसी एक तक/नियम से सम्बंधित है। तीन उसी एक तक/नियम के आधार पर समान हैं। दिए गए विकल्पों में से भिन्न को चुनिए।

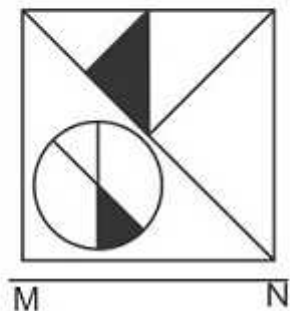
- 1) (10, 20, 30)
- 2) (12, 22, 32)
- 3) (27, 37, 47)
- 4) (19, 29, 49)

Correct Answer: (19, 29, 49)

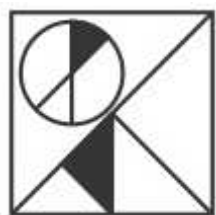
QID : 23 -

If a mirror is placed on the line MN, then which of the answer figures is the right image of the given figure?

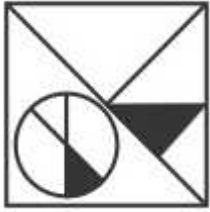
यदि एक दर्पण को MN रेखा पर रखा जाए तो दी गयी उत्तर आकृतियों में से कौन-सी आकृति प्रश्न आकृति का सही प्रतिबिम्ब होगी?



1)



2)



3)



4)



Correct Answer:



QID : 24 -

SSC CHSL (10+2) Printed Study Kit



- 100% CHSL Exam Syllabus Covered
- 5 Books, 1000+ Pages
- 4500+ MCQs
- Solved Papers & Mock Tests (PDF Copy)
- 1 Year Current Affairs (PDF Copy)

50% OFF
₹ 4,000/-
₹ **1,999/-**

FREE SHIPPING 

for Exam Help Call Us at: +91 8800734161

 **SSCPORTAL.IN**
India's Largest Online Community for SSC CHSL Exam Preparation

What you will get:

- 100% CHSL Exam Syllabus Covered
- 5 Booklets
- More Than 1000+ Pages
- 4500+ MCQs
- Previous Solved Papers
- Current Affairs for Exam
- Guidance & Support from Our Experts

Price of the Kit:

Rs. 4,000

Rs. 1,999/-
(Limited time Offer)

 **Buy Online**

Net Banking

Order Online (100% Safe)

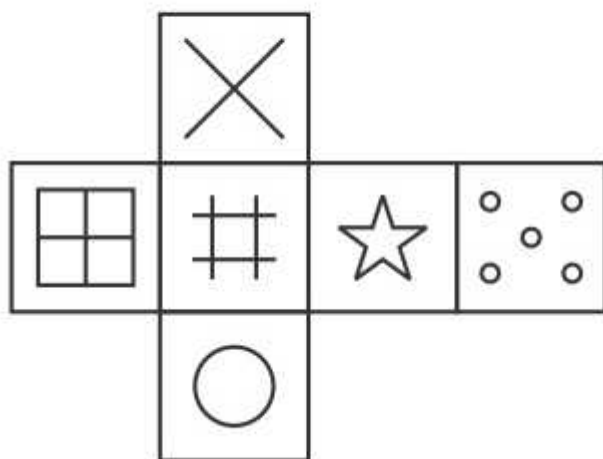
[Click here for Other Payment Options \(Cash/NEFT/etc\)](#)

FOR MORE DETAILS CLICK HERE

50% OFF

Which of the following cube in the answer figure cannot be made based on the unfolded cube in the question figure?


निम्नलिखित उत्तर आकृति में से कौन सा घन दिए गए प्रश्न आकृति में से खुले घन से बनाया नहीं जा सकता?



1)



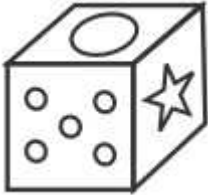
2)



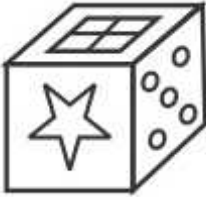
3)



4)



Correct Answer:



QID : 25 -

A word is represented by only one set of numbers as given in any one of the alternatives. The sets of numbers given in the alternatives are represented by two classes of alphabets as shown in the given two matrices. The columns and rows of Matrix-I are numbered from 0 to 4 and that of Matrix-II are numbered from 5 to 9. A letter from these matrices can be represented first by its row and next by its column, for example 'D' can be represented by 31, 43 etc and 'W' can be represented by 76, 57 etc. Similarly, you have to identify the set for the word 'SKIP'.

एक शब्द केवल एक संख्या-समूह द्वारा दर्शाया गया है, जैसा कि विकल्पों में से किसी एक में दिया गया है। विकल्पों में दिए गए संख्या-समूह अक्षरों के दो वर्गों द्वारा दर्शाए गए हैं, जैसा कि दिए गए दो आव्यूहों में है। आव्यूह-I के स्तम्भ और पंक्ति की संख्या 0 से 4 और आव्यूह-II की 5 से 9 है। इन आव्यूहों से एक अक्षर को पहले उसकी पंक्ति और बाद में स्तम्भ संख्या द्वारा दर्शाया जा सकता है। उदाहरण के लिए 'D' को 31, 43 आदि द्वारा दर्शाया जा सकता है तथा 'W' को 76, 57 आदि द्वारा दर्शाया जा सकता है। इसी तरह से आपको प्रश्न में दिए शब्द 'SKIP' के लिए समूह को पहचानना है।

Matrix I आव्यूह - I						Matrix II आव्यूह - II					
	0	1	2	3	4		5	6	7	8	9
0	A	B	F	D	B	5	U	P	W	R	Y
1	K	H	C	K	G	6	O	P	O	U	Z
2	H	C	I	C	I	7	O	W	Y	R	X
3	M	D	J	F	F	8	S	V	N	Z	T
4	A	K	J	D	J	9	N	N	X	Z	Q

- 1) 41,97,23,65
- 2) 44,86,11,56
- 3) 21,98,31,86
- 4) 85,13,24,56

Correct Answer: 85,13,24,56



SSC EXAMS PRINTED STUDY NOTES

Study Material for SSC CGL (Tier-1) Examination	English	CLICK HERE
Study Kit for SSC CGL (Tier-2) Exam	English	CLICK HERE
Study Kit for SSC CHSL (10+2) Examination	English	CLICK HERE
Study Kit for SSC Stenographers (Grade 'C' & 'D')	English	CLICK HERE
Study Kit for Multitasking (Non-Technical) - MTS	English	CLICK HERE
Study Kit for SSC Constables (GD) Exam	English	CLICK HERE
Study Kit For SSC Sub-Inspectors in Delhi Police, CAPFs, CISF	English	CLICK HERE
Study Kit for SSC Junior Engineer Exam (Paper-1)	English	CLICK HERE
IAS EXAMS STUDY MATERIALS		
Study Kit for IAS (Pre) GENERAL STUDIES Paper-1 (GS)	English	CLICK HERE
Study Kit for IAS (Pre) CSAT Paper-2(Aptitude)	English	CLICK HERE
सामान्य अध्ययन (GS) प्रारंभिक परीक्षा (Pre) पेपर-1	हिन्दी	CLICK HERE
आई. ए. एस. (सी-सैट) प्रारंभिक परीक्षा पेपर -2	हिन्दी	CLICK HERE
Gist of NCERT Study Kit For UPSC Exams	English	CLICK HERE
यूपीएससी परीक्षा के लिए एनसीईआरटी अध्ययन सामग्री	हिन्दी	CLICK HERE