



कर्मचारी चयन आयोग
संयुक्त उच्चतर माध्यमिक स्तर परीक्षा

एस.एस.सी. सीएचएसएल (टियर -1) परीक्षा पेपर 2017 "16 मार्च
2018" दोपहर का पालो (तक शक्ति) SSC CHSL (Tier - 1)
Online Exam Paper - 2017 "held on 16 March 2018"
Afternoon Shift (Reasoning)

QID : 1 - निम्नलिखित प्रश्न में दिए गए विकल्पों में से संबंधित शब्द युग्म को चुनिए।

झण्डा : देश :: ? : ?

- 1) उपभोक्ता : वस्त्र
- 2) खतरा : लाल
- 3) वर्दा : विद्यालय
- 4) जाना : हरा

Correct Answer: वर्दा : विद्यालय

QID : 2 - निम्नलिखित प्रश्न में दिए गए विकल्पों में से संबंधित संख्या को चुनिए।

9 : 81 :: 8 : ?

- 1) 64
- 2) 36
- 3) 81
- 4) 45

Correct Answer: 64

QID : 3 - निम्नलिखित प्रश्न में दिए गए विकल्पों में से संबंधित अक्षर/अक्षरों को चुनिए।

KMO : PRT :: LNP : ?

- 1) QSU
- 2) RTV
- 3) QTV
- 4) RSU

Correct Answer: QSU

QID : 4 - निम्नलिखित प्रश्न में दिए गए विकल्पों में से विषम शब्द युग्म को चुनिए।

- 1) पतलून – वस्त्र
- 2) शत्रुमुग – पक्षी
- 3) मेज़ – फर्नीचर
- 4) लेखन सामग्री – कलम

Correct Answer: लेखन सामग्री – कलम

QID : 5 - नीचे दिए गए प्रश्न में, चार संख्या युग्म दिए गए हैं। (-) के बायीं ओर दौ संख्या (-) के दायीं ओर दौ गई संख्या से तर्क/नियम से सम्बंधित है। तीन उसी एक तर्क/नियम के आधार पर समान हैं। दिए गए विकल्पों में से भिन्न को चुनिए।

- 1) 11 – 16
- 2) 23 – 28
- 3) 21 – 26
- 4) 14 – 16

Correct Answer: 14 – 16

QID : 6 - निम्नलिखित प्रश्न में दिए गए विकल्पों में से विषम अक्षर/अक्षरों को चुनिए।

- 1) GHJM
- 2) PQSV
- 3) MNPR
- 4) STVY

Correct Answer: MNPR

QID : 7 - निम्नलिखित शब्दों को शब्दकोश में आने वाले क्रम के अनुसार लिख।

1. Scarecrow
2. Scenery
3. Satisfied
4. Shallow
5. Spelling

- 1) 42315
- 2) 31245
- 3) 12435
- 4) 23451

Correct Answer: 31245

QID : 8 - निम्नलिखित प्रश्न में दिए गए विकल्पों में से लुप्त अंक ज्ञात कीजिए।

11, 14, 19, 22, 27, ?

- 1) 32
- 2) 31
- 3) 30
- 4) 33

Correct Answer: 30

QID : 9 - एक अनुक्रम दिया गया है, जिसमें से एक पद लुप्त है। दिए गए विकल्पों में से वह सही विकल्प चुनिए, जो अनुक्रम को पूरा करे।

SH, QJ, OL, ?, KP

- 1) MN
- 2) LM
- 3) MP
- 4) ST

Correct Answer: MN

QID : 10 - चार गाड़ियाँ में से, T1 का भार, T2 के भार का दोगुना है। T3 का भार, T2 के भार का आधा है। T4, T2 से 25 कि.ग्रा. भारी है परंतु T1 से 25 कि.ग्रा. हल्का है। T4 तथा T3 के भार के मध्य कितना अंतर (कि.ग्रा. में) है?

- 1) 30
- 2) 50
- 3) 25
- 4) 35

Correct Answer: 50

QID : 11 - दिए गए विकल्पों में से वह शब्द चुनिए जो दिए गए शब्द के अक्षरों का प्रयोग करके नहीं बनाया जा सकता है।

Elephant

- 1) Hand
- 2) Leap

- 3) Ant
- 4) Pent

Correct Answer: Hand

QID : 12 - एक विशिष्ट कोड भाषा में, "LAND" को "33" लिखा जाता है तथा "TURN" को "75" लिखा जाता है। इस कोड भाषा में "MALE" को किस प्रकार लिखा जाएगा?

- 1) 33
- 2) 35
- 3) 37
- 4) 40

Correct Answer: 33

QID : 13 - किसी निश्चित कोड भाषा में '-' , '+' को प्रदर्शित करता है, 'x' , 'x' को प्रदर्शित करता है, 'x' , '÷' को प्रदर्शित करता है और '÷' , '-' को प्रदर्शित करता है। निम्नलिखित प्रश्न का उत्तर ज्ञात करें।

$$7 \div 10 - 15 + 6 \times 18 = ?$$

- 1) 1
- 2) 43
- 3) 49
- 4) 2

Correct Answer: 2

QID : 14 - निम्नलिखित समीकरण गलत है। इस समीकरण को सही करने के लिए किन दो चिन्हों को आपस में अदला-बदला करना चाहिए?

$$3 + 4 - 25 \div 2 \times 12 = 41$$

- 1) ÷ और -
- 2) + और ÷
- 3) x और -
- 4) - और +

Correct Answer: x और -

QID : 15 - यदि $20 \& 60 = 8$, $40 \& 80 = 12$ और $10 \& 20 = 3$, तो $20 \& 50 = ?$ का मान ज्ञात करें।

- 1) 18
- 2) 7
- 3) 10
- 4) 17

Correct Answer: 7

QID : 16 - निम्नलिखित में से कौन सा पद दी गयी सूची के क्रम के अनुसार है?

XXXXXXx, XXXXXxX, XXXXxXX, XXXxXXX, XXxXXXX, _____.

SSC CHSL (10+2) Printed Study Kit



- 100% CHSL Exam Syllabus Covered
- 5 Books, 1000+ Pages
- 4500+ MCQs
- Solved Papers & Mock Tests (PDF Copy)
- 1 Year Current Affairs (PDF Copy)

50% OFF
₹ 4,000/-
₹ **1,999/-**

FREE SHIPPING 

for Exam Help Call Us at: +91 8800734161

 **SSCPORTAL.IN**
India's Largest Online Community for SSC CHSL Exam Preparation

What you will get:

- 100% CHSL Exam Syllabus Covered
- 5 Booklets
- More Than 1000+ Pages
- 4500+ MCQs
- Previous Solved Papers
- Current Affairs for Exam
- Guidance & Support from Our Experts

Price of the Kit:

~~Rs. 4,000~~

Rs. 1,999/-
(Limited time Offer)

 **Buy Online**

Net Banking

Order Online (100% Safe)

[Click here for Other Payment Options \(Cash/NEFT/etc\)](#)

FOR MORE DETAILS CLICK HERE

50% OFF

- 1) xXXXXXX
- 2) XXXXXXx
- 3) XxXXXXX
- 4) XXXXXxX

Correct Answer: XxXXXXX

QID : 17 - X और Y दोनों बच्चे एक खेल खेल रहे हैं। वे एक ही बिंदु से शुरू करते हैं। X उत्तर की तरफ 11 मी. चलता है, फिर अपने दाहिनी ओर मुड़ जाता है और आगे 21 मी. चलता है। इसी समय, Y पूव दिशा में 11 मी. चलता है, फिर दक्षिण दिशा में मुड़ जाता है और आगे 5 मी. की दूरी तक चलता है, फिर अपने बाएं मुड़ जाता है और आगे 10 मी. तक चलता है। X की स्थिति के संबंध में अब Y कहाँ है?

- 1) 6 मी. दक्षिण
- 2) 16 मी. उत्तर
- 3) 16 मी. दक्षिण
- 4) 6 मी. उत्तर

Correct Answer: 16 मी. दक्षिण

QID : 18 - प्रश्न में दो कथन दिये गये हैं जिसके आगे दो निष्कर्ष I और II निकाले गये हैं। आपको मानना है कि दोनों कथन सत्य हैं चाहे वह सामान्यतः ज्ञात तथ्यों से भिन्न प्रतीत होते हैं। आपको निगम करना है कि दिए गए निष्कर्षों में से कौन-सा/कौन-से निश्चित रूप से कथन द्वारा सही निकाला जा सकता है/सकते हैं, यदि कोई हो।

कथन I: कुछ बादल कोहरे होते हैं

कथन II: सभी बादल धुंध होते हैं

निष्कर्ष I: कुछ कोहरे धुंध होते हैं

निष्कर्ष II: सभी धुंध कोहरे होती हैं

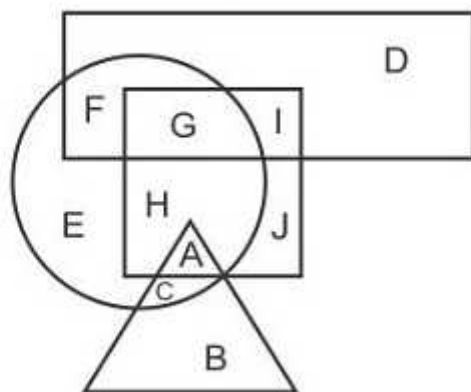
- 1) केवल निष्कर्ष I सही है
- 2) केवल निष्कर्ष II सही है
- 3) दोनों निष्कर्ष I और II सही हैं
- 4) ना तो निष्कर्ष I सही है ना ही निष्कर्ष II

Correct Answer: केवल निष्कर्ष I सही है

QID : 19 -

In the following figure, rectangle represents Psychologists, circle represents Curators, triangle represents Comedians and square represents Indians. Which set of letters represents Indians who are both Curators as well as Psychologists?

निम्नलिखित आकृति में, आयत मनोवैज्ञानिकों को प्रदर्शित करता है, वृत्त क्यूरेटर्स को प्रदर्शित करता है, त्रिभुज हास्य कलाकारों को प्रदर्शित करता है और वर्ग भारतीयों को प्रदर्शित करता है। अक्षरों का कौन सा समूह उन भारतीयों को प्रदर्शित करता है जो क्यूरेटर्स और मनोवैज्ञानिक दोनों हैं?



- 1) G
- 2) IG
- 3) IGH
- 4) G

Correct Answer: G

QID : 20 - एक अनुक्रम दिया गया है, जिसमें से एक पद लुप्त है। दिए गए विकल्पों में से वह सही विकल्प चुनिए, जो अनुक्रम को पूरा करे।

HVG, FTE, DRC, ?, ZNY

- 1) CQB
- 2) AOZ
- 3) HRB
- 4) BPA

Correct Answer: BPA

QID : 21 - निम्नलिखित प्रश्न में दिए गए विकल्पों में से लुप्त अंक ज्ञात कीजिए।

107, 104, 100, 95, ?, 82

- 1) 87
- 2) 89
- 3) 85
- 4) 83

Correct Answer: 89

QID : 22 - नीचे दिए गए प्रश्न में, तीन संख्याओं के चार समूह दिए गए हैं। प्रत्येक समूह में दूसरी तथा तीसरी संख्या पहली संख्या से किसी एक तक/नियम से सम्बंधित है। तीन उसी एक तक/नियम के आधार पर समान हैं। दिए गए विकल्पों में से भिन्न को चुनिए।

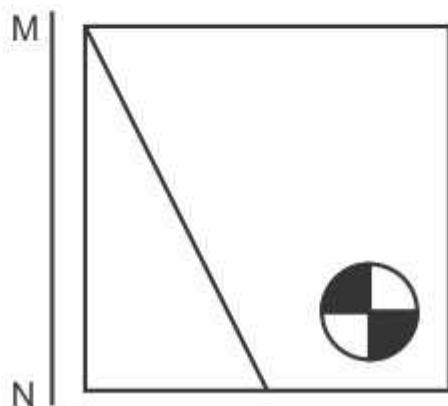
- 1) (14, 29, 30)
- 2) (17, 35, 36)
- 3) (15, 32, 33)
- 4) (21, 43, 44)

Correct Answer: (15, 32, 33)

QID : 23 -

If a mirror is placed on the line MN, then which of the answer figures is the right image of the given figure?

यदि एक दर्पण को MN रेखा पर रखा जाए तो दी गयी उत्तर आकृतियों में से कौन-सी आकृति प्रश्न आकृति का सही प्रतिबिम्ब होगी?



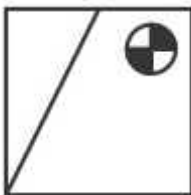
- 1)



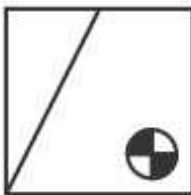
2)



3)



4)



Correct Answer:



QID : 24 -

SSC CHSL(10+2) परीक्षा अध्ययन सामग्री



- 100% CHSL Exam Syllabus Covered
- 5 Books, 900+ Pages
- 2500+ MCQs
- 1 Year Current Affairs (PDF Copy)
- Support & Guidance

50% OFF
₹ 4,000/-
₹ **1,999/-**

FREE SHIPPING

for Exam Help Call Us at: +91 8800734161

SSCPORTAL.IN

आप क्या प्राप्त करेंगे?

- माध्यम: हिन्दी
- 100 प्रतिशत पाठ्यक्रम
- 900 से अधिक पृष्ठ
- 2500 से अधिक वस्तुनिष्ठ प्रश्न
- कुल 5 पुस्तिकायें
- अध्यायवार M.C.Q
- गणित एवं तार्किक क्षमता को हल करने की सरल विधि
- 5 अभ्यास प्रश्न पत्र (PDF Copy)
- हमारे विशेषज्ञों द्वारा मार्गदर्शन और सहायता

Price of the Kit:

Rs. 4,200

Rs. 1,999/-

(Limited time Offer)

 Buy Online

VISA Maestro MasterCard RuPay

Net Banking

Order Online (100% Safe)

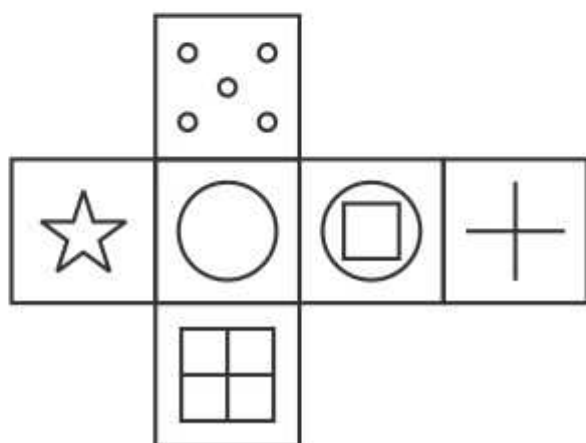
[Click here for Other Payment Options \(Cash/NEFT/etc\)](#)

FOR MORE DETAILS CLICK HERE

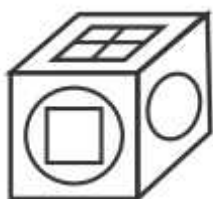
50% OFF

Which of the following cube in the answer figure cannot be made based on the unfolded cube in the question figure?

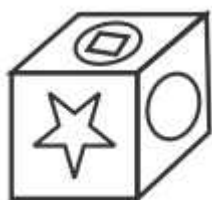
निम्नलिखित उत्तर आकृति में से कौन सा घन दिए गए प्रश्न आकृति में से खुले घन से बनाया नहीं जा सकता?



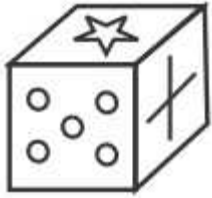
1)



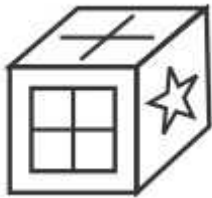
2)



3)



4)



Correct Answer:



QID : 25 -

A word is represented by only one set of numbers as given in any one of the alternatives. The sets of numbers given in the alternatives are represented by two classes of alphabets as shown in the given two matrices. The columns and rows of Matrix-I are numbered from 0 to 4 and that of Matrix-II are numbered from 5 to 9. A letter from these matrices can be represented first by its row and next by its column, for example 'I' can be represented by 30, 42 etc and 'W' can be represented by 87, 96 etc. Similarly, you have to identify the set for the word 'MATH'.

एक शब्द केवल एक संख्या-समूह द्वारा दर्शाया गया है, जैसा कि विकल्पों में से किसी एक में दिया गया है। विकल्पों में दिए गए संख्या-समूह अक्षरों के दो वर्गों द्वारा दर्शाए गए हैं, जैसा कि दिए गए दो आव्यूहों में है। आव्यूह-I के स्तम्भ और पंक्ति की संख्या 0 से 4 और आव्यूह-II की 5 से 9 है। इन आव्यूहों से एक अक्षर को पहले उसकी पंक्ति और बाद में स्तम्भ संख्या द्वारा दर्शाया जा सकता है। उदाहरण के लिए 'I' को 30, 42 आदि द्वारा दर्शाया जा सकता है तथा 'W' को 87, 96 आदि द्वारा दर्शाया जा सकता है। इसी तरह से आपको प्रश्न में दिए शब्द 'MATH' के लिए समूह को पहचानना है।

Matrix I आव्यूह - I					
	0	1	2	3	4
0	C	C	I	G	G
1	D	L	K	J	M
2	I	F	H	E	C
3	I	D	L	H	F
4	A	D	I	A	C

Matrix II आव्यूह - II					
	5	6	7	8	9
5	Y	V	P	N	Z
6	R	Z	V	T	X
7	Y	N	Q	S	S
8	Q	X	W	Q	U
9	Z	W	S	T	N

- 1) 14,43,98,22
- 2) 42,66,34,87
- 3) 22,79,44,85
- 4) 33,76,42,95

Correct Answer: 14,43,98,22



SSC EXAMS PRINTED STUDY NOTES

Study Material for SSC CGL (Tier-1) Examination	English	CLICK HERE
Study Kit for SSC CGL (Tier-2) Exam	English	CLICK HERE
Study Kit for SSC CHSL (10+2) Examination	English	CLICK HERE
Study Kit for SSC Stenographers (Grade 'C' & 'D')	English	CLICK HERE
Study Kit for Multitasking (Non-Technical) - MTS	English	CLICK HERE
Study Kit for SSC Constables (GD) Exam	English	CLICK HERE
Study Kit For SSC Sub-Inspectors in Delhi Police, CAPFs, CISF	English	CLICK HERE
Study Kit for SSC Junior Engineer Exam (Paper-1)	English	CLICK HERE
IAS EXAMS STUDY MATERIALS		
Study Kit for IAS (Pre) GENERAL STUDIES Paper-1 (GS)	English	CLICK HERE
Study Kit for IAS (Pre) CSAT Paper-2(Aptitude)	English	CLICK HERE
सामान्य अध्ययन (GS) प्रारंभिक परीक्षा (Pre) पेपर-1	हिन्दी	CLICK HERE
आई. ए. एस. (सी-सैट) प्रारंभिक परीक्षा पेपर -2	हिन्दी	CLICK HERE
Gist of NCERT Study Kit For UPSC Exams	English	CLICK HERE
यूपीएससी परीक्षा के लिए एनसीईआरटी अध्ययन सामग्री	हिन्दी	CLICK HERE