



कर्मचारी चयन आयोग
संयुक्त उच्चतर माध्यमिक स्तर परीक्षा

एस.एस.सी. सीएचएसएल (टियर -1) परीक्षा पेपर 2017 "15 मार्च
2018" सुबह को पाला (तक शक्ति) SSC CHSL (Tier - 1)
Online Exam Paper - 2017 "held on 15 March 2018"
Morning Shift (Reasoning)

QID : 1 - निम्नलिखित प्रश्न में दिए गए विकल्पों में से संबंधित शब्द युग्म को चुनिए।

दाब : पास्कल :: ? : ?

- 1) लम्बाई : लीटर
- 2) प्रतिरोध : ओम
- 3) लीटर : आयतन
- 4) क्षेत्रफल : सेकण्ट

Correct Answer: Resistance : प्रतिरोध : ओम

QID : 2 - निम्नलिखित प्रश्न में दिए गए विकल्पों में से संबंधित संख्या को चुनिए।

31 : 3 :: 23 : ?

- 1) 7
- 2) 6
- 3) 5
- 4) 8

Correct Answer: No Correct Answer (Benefit to all)

QID : 3 - निम्नलिखित प्रश्न में दिए गए विकल्पों में से संबंधित अक्षर/अक्षरों को चुनिए।

KMN : OQR :: SUV : ?

- 1) VWY
- 2) WXZ
- 3) WYZ
- 4) XYZ

Correct Answer: WYZ

QID : 4 - निम्नलिखित प्रश्न में दिए गए विकल्पों में से विषम शब्द युग्म को चुनिए।

- 1) जनवरी – 31
- 2) जुलाई – 30
- 3) जून – 30
- 4) सितंबर – 30

Correct Answer: जुलाई – 30

QID : 5 - नीचे दिए गए प्रश्न में, चार संख्या युग्म दिए गए हैं। (–) के बायीं ओर दी संख्या (–) के दायीं ओर दी गई संख्या से तक/नियम से संबंधित है। तीन उसी एक तक/नियम के आधार पर समान हैं। दिए गए विकल्पों में से भिन्न को चुनिए।

- 1) 15 – 45
- 2) 11 – 33
- 3) 15 – 55
- 4) 19 – 57

Correct Answer: 15 – 55

QID : 6 - निम्नलिखित प्रश्न में दिए गए विकल्पों में से विषम अक्षर/अक्षरों को चुनिए।

- 1) BGK
- 2) HMR
- 3) LQV
- 4) FKP

Correct Answer: BGK

QID : 7 - दिए गए विकल्पों में से, शब्दकोश के अनुसार, कौन सा शब्द अंतिम स्थान पर आयेगा?

1. Armed
 2. Atlas
 3. Armour
 4. Aspirin
 5. Arrival
- 1) Arrival
 - 2) Atlas
 - 3) Armed
 - 4) Aspirin

Correct Answer: Atlas

QID : 8 - निम्नलिखित प्रश्न में दिए गए विकल्पों में से लुप्त अंक ज्ञात कीजिए।

42, 21, 21, ?, 63, 157.5

- 1) 30.75
- 2) 32.5
- 3) 31.5
- 4) 33.75

Correct Answer: 31.5

QID : 9 - एक अनुक्रम दिया गया है, जिसमें से एक पद लुप्त है। दिए गए विकल्पों में से वह सही विकल्प चुनिए, जो अनुक्रम को पूरा करे।

F, J, M, Q, T, X, ?

- 1) B
- 2) Z
- 3) Y
- 4) A

Correct Answer: A

QID : 10 - छात्रों का एक पंक्ति में, अंकित बायें छोर से 26-वाँ है। पूनम, अंकित से 18 स्थान दायीं ओर है। यदि पूनम दायें छोर से 32-वाँ है, तो दायें छोर से अंकित का स्थान क्या होगा?

- 1) 52
- 2) 51
- 3) 76
- 4) 50

Correct Answer: 50

QID : 11 - दिए गए विकल्पों में से वह शब्द चुनिए जो दिए गए शब्द के अक्षरों का प्रयोग करके नहीं बनाया जा सकता है।

Commensurate

- 1) Rate
- 2) Sure
- 3) Men
- 4) Company

Correct Answer: Company

QID : 12 - एक विशिष्ट कोड भाषा में, "TRUCKS" को "WPXANQ" लिखा जाता है। इस कोड भाषा में "MOPERS" को किस प्रकार लिखा जाएगा?

- 1) XMSCNO
- 2) PMSCUQ

3) MXPMNQ

4) UCSMXQ

Correct Answer: PMSCUQ

QID : 13 - किसी निश्चित कोड भाषा में '-', '+' को प्रदर्शित करता है, 'x', '÷' को प्रदर्शित करता है, 'x', '÷' को प्रदर्शित करता है और '÷', '-' को प्रदर्शित करता है। निम्नलिखित प्रश्न का उत्तर ज्ञात कर।

$$16 \times 4 \div 15 - 9 + 4 = ?$$

1) 10

2) 21

3) 41

4) 25

Correct Answer: 25

QID : 14 - निम्नलिखित समीकरण गलत है। इस समीकरण को सही करने के लिए किन दो चिन्हों को आपस में अदला-बदला करना चाहिए?

$$15 \times 2 + 10 - 8 \div 20 = 15$$

1) - और +

2) ÷ और x

3) + और ÷

4) x और -

Correct Answer: + और ÷

QID : 15 - यदि $15 \div 2 = 26$, $11 \times 3 = 16$ और $10 \div 9 = 2$, तो $11 \times 4 = ?$ का मान ज्ञात कर।

1) 4

2) 6

3) 14

4) 16

Correct Answer: 14

QID : 16 - निम्नलिखित में से कौन सा पद दी गयी सूची के क्रम के अनुसार है?

YXZYXYXY, YXYXZYXY, YXYXYXZY, YZXXYXYXY, YXYZXXYXY, _____.

1) ZYXYXYXY

2) YXZYXYXY

3) YXYXZYXY

4) YXYXYZXXY

Correct Answer: YXYXYZXXY

QID : 17 - दो महिलाएं A और B एक ही स्थान से अपने सुबह के सैर का शुरुआत करती हैं। A उत्तर की तरफ 3 कि.मी. चलती है, फिर पश्चिम की तरफ मुड़ जाती है और 2 कि.मी. दूर तक जाती है, फिर अपने दाहिनी ओर मुड़ जाती है और 5.5 कि.मी. दूर तक जाती है। B पश्चिम की तरफ 4 कि.मी. चलती है, फिर अपने दाहिनी ओर मुड़ जाती है और 8.5 कि.मी. तक दौड़ती है। अब A के संदंभ में B कहाँ है?

SSC CGL Tier-1 Printed Study Kit



- 100% Syllabus Covered
- 12 Books , 1300+ Pages
- 5600+ MCQs
- 08 Year Solved Papers & Mock Tests (PDF Copy)
- 1 year Current Affairs (PDF Copy)

50% OFF

~~₹ 6,000/-~~
₹ 2,999/-

FREE SHIPPING 

for Exam Help Call Us at: +91 8800734161

 **SSCPORTAL.IN**

What you will get:

- 100% Syllabus Covered
- 12 Books
- 1300+ Pages
- 5600+ MCQs
- 8 Year Solved Papers (PDF Copy)
- Five Practice Papers (PDF Copy)
- One Year Current Affairs (PDF Copy)
- Guidance & Support from Our Experts

Price of the Kit:

~~Rs. 6,000~~

Rs. 2,999/-
(Limited time Offer)

 **Buy Online**

Net Banking

Order Online (100% Safe)

[Click here for Other Payment Options \(Cash/NEFT/etc\)](#)

FOR MORE DETAILS CLICK HERE

50% OFF

- 1) 6 कि.मी. पश्चिम
- 2) 2 कि.मी. पूर्व
- 3) 6 कि.मी. पूर्व
- 4) 2 कि.मी. पश्चिम

Correct Answer: 2 कि.मी. पश्चिम

QID : 18 - प्रश्न में दो कथन दिये गये हैं जिसके आगे दो निष्कर्ष I और II निकाले गये हैं। आपको मानना है कि दोनों कथन सत्य हैं चाहे वह सामान्यतः ज्ञात तथ्यों से भिन्न प्रतीत होते हों। आपको निणय करना है कि दिए गए निष्कर्षों में से कौन-सा/कौन-से निश्चित रूप से कथन द्वारा सही निकाला जा सकता है/सकते हैं, यदि कोई हो।

कथन I: कोई भी डबबे जार नहीं होते हैं

कथन II: सभी टिन डबबे होते हैं

निष्कर्ष I: सभी जार टिन होते हैं

निष्कर्ष II: कोई भी टिन जार नहीं होता है

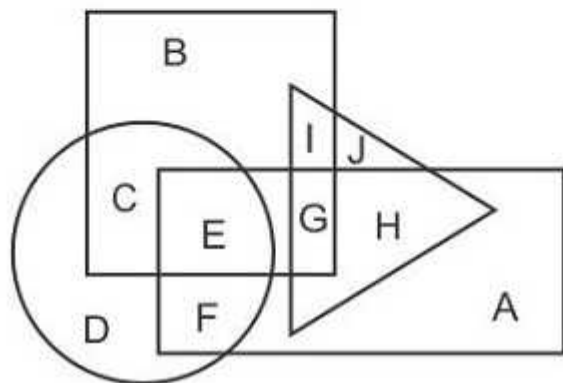
- 1) केवल निष्कर्ष I सही है
- 2) केवल निष्कर्ष II सही है
- 3) दोनों निष्कर्ष I और II सही हैं
- 4) ना तो निष्कर्ष I सही है ना ही निष्कर्ष II

Correct Answer: केवल निष्कर्ष II सही है

QID : 19 -

In the following figure, rectangle represents Plumbers, circle represents Bakers, triangle represents Jugglers and square represents Joggers. Which set of letters represents Plumbers who are either Bakers or Jugglers?

निम्नलिखित आकृति में, आयत प्लंबर्स को प्रदर्शित करता है, वृत्त बेकर्स को प्रदर्शित करता है, त्रिभुज जगलर्स को प्रदर्शित करता है और वर्ग जॉगर्स को प्रदर्शित करता है। अक्षरों का कौन सा समूह उन प्लंबर्स को प्रदर्शित करता है जो या तो बेकर्स हैं या जगलर्स हैं?



- 1) HEG
- 2) AHG
- 3) FEGH
- 4) FE

Correct Answer: FEGH

QID : 20 - एक अनुक्रम दिया गया है, जिसमें से एक पद लुप्त है। दिए गए विकल्पों में से वह सही विकल्प चुनिए, जो अनुक्रम को पूरा करे।

HIG, EFD, BCA, ?, VWU

- 1) ABZ
- 2) XYW
- 3) ZAY
- 4) YZX

Correct Answer: YZX

QID : 21 - निम्नलिखित प्रश्न में दिए गए विकल्पों में से लुप्त अंक ज्ञात कीजिए।

3, 5, 7, 9, ?

- 1) 10
- 2) 11
- 3) 12
- 4) 13

Correct Answer: 11

QID : 22 - नीचे दिए गए प्रश्न में, तीन संख्याओं के चार समूह दिए गए हैं। प्रत्येक समूह में दूसरी तथा तीसरी संख्या पहली संख्या से किसी एक तक/नियम से सम्बंधित है। तीन उसी एक तक/नियम के आधार पर समान हैं। दिए गए विकल्पों में से भिन्न को चुनिए।

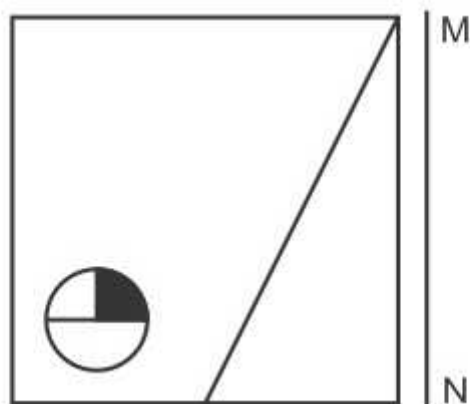
- 1) (23, 28, 33)
- 2) (14, 19, 25)
- 3) (26, 31, 36)
- 4) (17, 22, 27)

Correct Answer: (14, 19, 25)

QID : 23 -

If a mirror is placed on the line MN, then which of the answer figures is the right image of the given figure?

यदि एक दर्पण को MN रेखा पर रखा जाए तो दी गयी उत्तर आकृतियों में से कौन-सी आकृति प्रश्न आकृति का सही प्रतिबिम्ब होगी?



- 1)

कर्मचारी चयन आयोग (CGL) परीक्षा अध्ययन सामग्री



- 100% Syllabus Covered
- 4 Books, 900+ Pages
- 2500+ MCQs
- 08 Year Solved Papers & Mock Tests (PDF Copy)
- 1 year Current Affairs (PDF Copy)

50% OFF

~~₹ 4,200/-~~
₹ 2,100/-

FREE SHIPPING

for Exam Help Call Us at: +91 8800734161

SSCPOTAL.IN

आप क्या प्राप्त करेंगे?

- माध्यम: हिन्दी
- 100% पाठ्यक्रम
- कुल 4 पुस्तिकायें, 900 से अधिक पृष्ठ
- 2,500 से अधिक वस्तुनिष्ठ प्रश्न (MCQ)
- 8 Year Solved Papers (PDF Copy)
- Five Practice Papers (PDF Copy)
- हमारे विशेषज्ञों द्वारा मार्गदर्शन और सहायता

Price of the Kit:

Rs. 4,200

Rs. 2,100/-

(Limited time Offer)

Buy Online

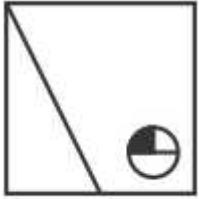
Net Banking

Order Online (100% Safe)

[Click here for Other Payment Options \(Cash/NEFT/etc\)](#)

[FOR MORE DETAILS CLICK HERE](#)

50% OFF



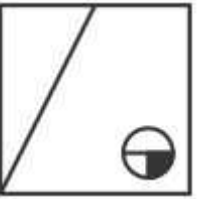
2)



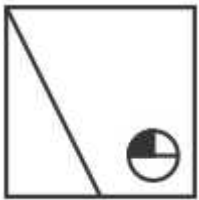
3)



4)



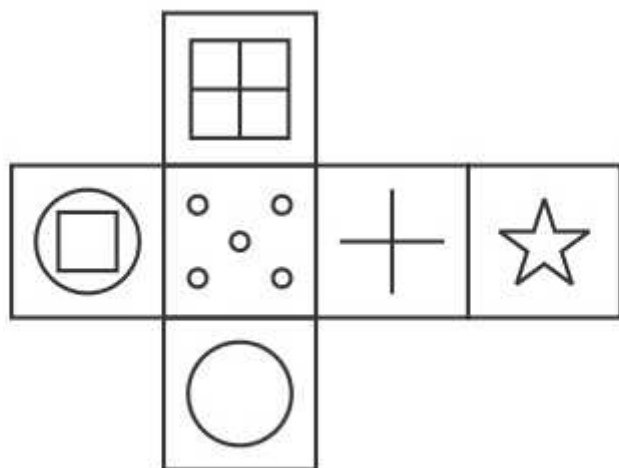
Correct Answer:



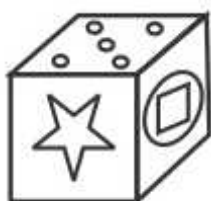
QID : 24 -

Which of the following cube in the answer figure cannot be made based on the unfolded cube in the question figure?

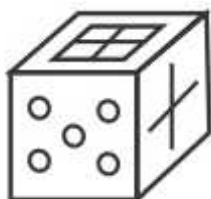
निम्नलिखित उत्तर आकृति में से कौन सा घन दिए गए प्रश्न आकृति में से खुले घन से बनाया नहीं जा सकता?



1)



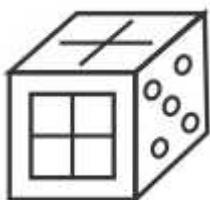
2)



3)



4)



Correct Answer:



QID : 25 -

A word is represented by only one set of numbers as given in any one of the alternatives. The sets of numbers given in the alternatives are represented by two classes of alphabets as shown in the given two matrices. The columns and rows of Matrix-I are numbered from 0 to 4 and that of Matrix-II are numbered from 5 to 9. A letter from these matrices can be represented first by its row and next by its column, for example 'B' can be represented by 34, 42 etc and 'W' can be represented by 97, 89 etc. Similarly, you have to identify the set for the word 'DAMP'.

एक शब्द केवल एक संख्या-समूह द्वारा दर्शाया गया है, जैसा कि विकल्पों में से किसी एक में दिया गया है। विकल्पों में दिए गए संख्या-समूह अक्षरों के दो वर्गों द्वारा दर्शाए गए हैं, जैसा कि दिए गए दो आव्यूहों में है। आव्यूह-I के स्तम्भ और पंक्ति की संख्या 0 से 4 और आव्यूह-II की 5 से 9 है। इन आव्यूहों से एक अक्षर को पहले उसकी पंक्ति और बाद में स्तम्भ संख्या द्वारा दर्शाया जा सकता है। उदाहरण के लिए 'B' को 34, 42 आदि द्वारा दर्शाया जा सकता है तथा 'W' को 97, 89 आदि द्वारा दर्शाया जा सकता है। इसी तरह से आपको प्रश्न में दिए शब्द 'DAMP' के लिए समूह को पहचानना है।

Matrix I आव्यूह - I					
	0	1	2	3	4
0	L	C	L	B	J
1	A	E	K	F	J
2	K	M	I	A	D
3	J	F	M	D	B
4	D	G	B	M	E

Matrix II आव्यूह - II					
	5	6	7	8	9
5	X	O	T	X	S
6	Z	T	T	R	R
7	N	Y	N	T	P
8	T	X	Y	V	W
9	P	S	W	U	X

- 1) 24,10,32,79
- 2) 33,95,24,97
- 3) 32,57,40,55
- 4) 30,55,24,67

Correct Answer: 24,10,32,79



SSC EXAMS PRINTED STUDY NOTES

Study Material for SSC CGL (Tier-1) Examination	English	CLICK HERE
Study Kit for SSC CGL (Tier-2) Exam	English	CLICK HERE
Study Kit for SSC CHSL (10+2) Examination	English	CLICK HERE
Study Kit for SSC Stenographers (Grade 'C' & 'D')	English	CLICK HERE
Study Kit for Multitasking (Non-Technical) - MTS	English	CLICK HERE
Study Kit for SSC Constables (GD) Exam	English	CLICK HERE
Study Kit For SSC Sub-Inspectors in Delhi Police, CAPFs, CISF	English	CLICK HERE
Study Kit for SSC Junior Engineer Exam (Paper-1)	English	CLICK HERE
IAS EXAMS STUDY MATERIALS		
Study Kit for IAS (Pre) GENERAL STUDIES Paper-1 (GS)	English	CLICK HERE
Study Kit for IAS (Pre) CSAT Paper-2(Aptitude)	English	CLICK HERE
सामान्य अध्ययन (GS) प्रारंभिक परीक्षा (Pre) पेपर-1	हिन्दी	CLICK HERE
आई. ए. एस. (सी-सैट) प्रारंभिक परीक्षा पेपर -2	हिन्दी	CLICK HERE
Gist of NCERT Study Kit For UPSC Exams	English	CLICK HERE
यूपीएससी परीक्षा के लिए एनसीईआरटी अध्ययन सामग्री	हिन्दी	CLICK HERE