



कर्मचारी चयन आयोग
संयुक्त उच्चतर माध्यमिक स्तर परीक्षा

एस.एस.सी. सीएचएसएल (टियर -1) परीक्षा पेपर 2017 "14 मार्च
2018" सुबह को पाला (तक शक्ति) SSC CHSL (Tier - 1)
Online Exam Paper - 2017 "held on 14 March 2018"
Morning Shift (Reasoning)

QID : 26 - निम्नलिखित प्रश्न में दिए गए विकल्पों में से संबंधित शब्द युग्म को चुनिए।

थकावट : शक्ति :: ? : ?

Options:

- 1) पहिया : गोल
- 2) गाड़ी : हरा
- 3) ईंधन : पेट्रोल
- 4) सूखा : बाढ़

Correct Answer: सूखा : बाढ़

QID : 27 - निम्नलिखित प्रश्न में दिए गए विकल्पों में से संबंधित संख्या युग्म को चुनिए।

15 : 26 :: ? : ?

Options:

- 1) 39 : 49
- 2) 34 : 45

3) 46 : 55

4) 56 : 69

Correct Answer: 34 : 45

QID : 28 - निम्नलिखित प्रश्न में दिए गए विकल्पों में से संबंधित अक्षर/अक्षरों को चुनिए।

HIK : KLN :: PQS : ?

Options:

1) TUW

2) STV

3) STU

4) TUX

Correct Answer: STV

QID : 29 - निम्नलिखित प्रश्न में दिए गए विकल्पों में से विषम शब्द युग्म को चुनिए।

Options:

1) शोक – काला

2) लाल – खतरा

3) सितारा – रक

4) पहिया – प्रगति

Correct Answer: शोक – काला

QID : 30 - नीचे दिए गए प्रश्न में, चार संख्या युग्म दिए गए हैं। (-) के बायीं ओर दो संख्या (-) के दायीं ओर दो गई संख्या से तर्क/नियम से संबंधित है। तीन उसी एक तर्क/नियम के आधार पर समान हैं। दिए गए विकल्पों में से भिन्न को चुनिए।

Options:

1) 11 – 12

2) 23 – 24

3) 17 – 18

4) 19 – 21

Correct Answer: 19 – 21

QID : 31 - निम्नलिखित प्रश्न में दिए गए विकल्पों में से विषम अक्षर/अक्षरों को चुनिए।

Options:

1) GMS

2) LRX

3) CIP

4) EKQ

Correct Answer: CIP

QID : 32 - दिए गए विकल्पों में से, शब्दकोश के अनुसार, कौन सा शब्द चौथे स्थान पर आयेगा?

1. Friend
2. Fringe
3. Florist
4. Frighten
5. Future

Options:

- 1) Friend
- 2) Fringe
- 3) Frighten
- 4) Future

Correct Answer: Fringe

QID : 33 - निम्नलिखित प्रश्न में दिए गए विकल्पों में से लुप्त अंक ज्ञात कीजिए।

9, 28, 86, 261, 787, ?

Options:

- 1) 2366
- 2) 1795
- 3) 2175
- 4) 2285

Correct Answer: 2366

QID : 34 - एक अनुक्रम दिया गया है, जिसमें से एक पद लुप्त है। दिए गए विकल्पों में से वह सही विकल्प चुनिए, जो अनुक्रम को पूरा करे।

CG, KO, SW, AE, ?

Options:

- 1) JN
- 2) MJ
- 3) IM
- 4) JL

Correct Answer: IM

QID : 35 - मनोज उत्तर की ओर 12 मीटर चलता है। फिर दायीं ओर मुड़ता है तथा 12 मीटर और चलता है। फिर दायीं ओर मुड़ता है तथा 7 मीटर चलकर महाविद्यालय R पर पहुँचता है। वह पुनः अपने दायीं ओर मुड़ता है तथा 12 मीटर चलता है। आरंभिक बिन्दु तथा महाविद्यालय R के मध्य सीधी रेखा दूरी (मीटर म) क्या है?

Options:

- 1) 12 2
- 2) 13
- 3) 14
- 4) 14 3

Correct Answer: 13

QID : 36 - दिए गए विकल्पों में से वह शब्द चुनिए जो दिए गए शब्द के अक्षरों का प्रयोग करके नहीं बनाया जा सकता है।

Xenophobia

Options:

- 1) Phone
- 2) Hope
- 3) Xerox
- 4) Open

Correct Answer: Xerox

QID : 37 - एक विशिष्ट कोड भाषा में, "REGAL" को "TCIYN" लिखा जाता है। इस कोड भाषा में "FARMS" को किस प्रकार लिखा जाएगा?

Options:

- 1) RTHKU
- 2) HYTKU
- 3) GTHSR
- 4) NVKTH

Correct Answer: HYTKU

QID : 38 - किसी निश्चित कोड भाषा में '÷', '+' को प्रदर्शित करता है, '-' , 'x' को प्रदर्शित करता है, '÷', '÷' को प्रदर्शित करता है और 'x', '-' को प्रदर्शित करता है। निम्नलिखित प्रश्न का उत्तर ज्ञात करें।

$$24 \div 14 - 5 + 10 \times 14 = ?$$

Options:

- 1) 39
- 2) 45
- 3) 27

SSC CHSL(10+2) परीक्षा अध्ययन सामग्री



- 100% CHSL Exam Syllabus Covered
- 5 Books, 900+ Pages
- 2500+ MCQs
- 1 Year Current Affairs (PDF Copy)
- Support & Guidance

50% OFF
₹ 4,000/-
₹ **1,999/-**

FREE SHIPPING

for Exam Help Call Us at: +91 8800734161

SSCPORTAL.IN

आप क्या प्राप्त करेंगे?

- माध्यम: हिन्दी
- 100 प्रतिशत पाठ्यक्रम
- 900 से अधिक पृष्ठ
- 2500 से अधिक वस्तुनिष्ठ प्रश्न
- कुल 5 पुस्तिकायें
- अध्यायवार M.C.Q
- गणित एवं तार्किक क्षमता को हल करने की सरल विधि
- 5 अभ्यास प्रश्न पत्र (PDF Copy)
- हमारे विशेषज्ञों द्वारा मार्गदर्शन और सहायता

Price of the Kit:

Rs. 4,200

Rs. 1,999/-

(Limited time Offer)

 Buy Online

VISA Maestro MasterCard RuPay

Net Banking

Order Online (100% Safe)

[Click here for Other Payment Options \(Cash/NEFT/etc\)](#)

FOR MORE DETAILS CLICK HERE

50% OFF

4) 17

Correct Answer: 17

QID : 39 - निम्नलिखित समीकरण गलत है। इस समीकरण को सही करने के लिए किन दो चिन्हों को आपस में अदला-बदला करना चाहिए?

$$12 \times 4 - 6 \div 7 + 18 = 19$$

Options:

- 1) + और \times
- 2) + और \div
- 3) \div और -
- 4) - और +

Correct Answer: \div और -

QID : 40 - यदि $2^5 = 5$, $2^3 = 3$ और $8^4 = 16$, तो $16^8 = ?$ का मान ज्ञात करें।

Options:

- 1) 18
- 2) 14
- 3) 16
- 4) 64

Correct Answer: 64

QID : 41 - निम्नलिखित में से कौन सा पद दी गयी सूची के क्रम के अनुसार है?

XXXXXXY, XXXXXYX, XXXXYXX, XXXYXXX, XXYXXXX, _____.

Options:

- 1) XYXXXXX
- 2) YXXXXXX
- 3) XXXXXXY
- 4) XXXXXYX

Correct Answer: XYXXXXX

QID : 42 - दो वैन X और Y एक ही स्थान से निकलती हैं। X पश्चिम की तरफ 5 कि.मी. यात्रा करती है, फिर अपने बायीं ओर मुड़ जाती है और आगे 3 कि.मी. की यात्रा करती है। Y दक्षिण की तरफ 13 कि.मी. की यात्रा करती है, फिर पश्चिम की तरफ मुड़ जाती है और आगे 5 कि.मी. की यात्रा करती है, फिर अपने बायीं ओर मुड़ जाती है और आगे 7 कि.मी. की यात्रा करती है। X के संबंध में Y अब कहाँ है?

Options:

- 1) 11 कि.मी. दक्षिण

- 2) 17 कि.मी. दक्षिण
- 3) 17 कि.मी. उत्तर
- 4) 11 कि.मी. उत्तर

Correct Answer: 17 कि.मी. दक्षिण

QID : 43 - प्रश्न में दो कथन दिये गये हैं जिसके आगे दो निष्कर्ष I और II निकाले गये हैं। आपको मानना है कि दोनों कथन सत्य हैं चाहे वह सामान्यतः ज्ञात तथ्यों से भिन्न प्रतीत होते हैं। आपको निणय करना है कि दिए गए निष्कर्षों में से कौन-सा/कौन-से निश्चित रूप से कथन द्वारा सही निकाला जा सकता है/सकते हैं, यदि कोई हो।

कथन I: कोई भी फल बेराज नहीं होते

कथन II: कुछ चेरौज फल होती हैं

निष्कर्ष I: सभी बेराज चेरौज होती हैं

निष्कर्ष II: कुछ चेरौज बेराज होती हैं

Options:

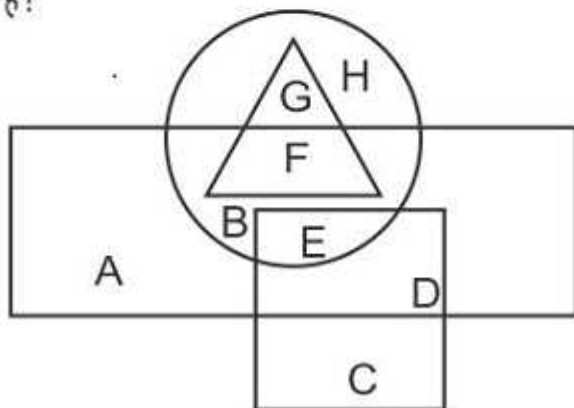
- 1) केवल निष्कर्ष I सही है
- 2) केवल निष्कर्ष II सही है
- 3) दोनों निष्कर्ष I और II सही हैं
- 4) ना तो निष्कर्ष I सही है ना ही निष्कर्ष II

Correct Answer: ना तो निष्कर्ष I सही है ना ही निष्कर्ष II

QID : 44 -

In the following figure, rectangle represents Dieticians, circle represents Racers, triangle represents Singers and square represents Cricketers. Which set of letters represents Dieticians who are either Racers or Singers?

निम्नलिखित आकृति में, आयत आहार विशेषज्ञों को प्रदर्शित करता है, वृत्त रेसर्स को प्रदर्शित करता है, त्रिभुज गायकों को प्रदर्शित करता है और वर्ग क्रिकेट खिलाड़ियों को प्रदर्शित करता है। अक्षरों का कौन सा समूह उन आहार विशेषज्ञों को प्रदर्शित करता है, जो या तो रेसर्स हैं या गायक हैं?



Options:

- 1) BED
- 2) GH
- 3) FBE
- 4) ABC

Correct Answer: FBE

Candidate Answer: FBE

QID : 45 -एक अनुक्रम दिया गया है, जिसमें से एक पद लुप्त है। दिए गए विकल्पों में से वह सही विकल्प चुनिए, जो अनुक्रम को पूरा करे।

ARC, XOZ, ULW, ?, OFQ

Options:

- 1) RIT
- 2) KFT

3) RAK

4) SJQ

Correct Answer: RIT

QID : 46 - निम्नलिखित प्रश्न में दिए गए विकल्पों में से लुप्त अंक ज्ञात कीजिए।

152, 164, 176, 188, ?, 212

Options:

1) 196

2) 202

3) 200

4) 210

Correct Answer: 200

QID : 47 - नीचे दिए गए प्रश्न में, तीन संख्याओं के चार समूह दिए गए हैं। प्रत्येक समूह में दूसरी तथा तीसरी संख्या पहली संख्या से किसी एक तक/नियम से सम्बंधित है। तीन उसी एक तक/नियम के आधार पर समान हैं। दिए गए विकल्पों में से भिन्न को चुनिए।

Options:

1) (63, 74, 85)

2) (97, 108, 119)

3) (92, 103, 116)

4) (74, 85, 96)

Correct Answer: (92, 103, 116)

QID : 48 -

SSC CHSL (10+2) Printed Study Kit



- 100% CHSL Exam Syllabus Covered
- 5 Books, 1000+ Pages
- 4500+ MCQs
- Solved Papers & Mock Tests (PDF Copy)
- 1 Year Current Affairs (PDF Copy)

50% OFF
₹ 4,000/-
₹ **1,999/-**

FREE SHIPPING 

for Exam Help Call Us at: +91 8800734161

 **SSCPORTAL.IN**
India's Largest Online Community for SSC CHSL Exam Preparation

What you will get:

- 100% CHSL Exam Syllabus Covered
- 5 Booklets
- More Than 1000+ Pages
- 4500+ MCQs
- Previous Solved Papers
- Current Affairs for Exam
- Guidance & Support from Our Experts

Price of the Kit:

~~Rs. 4,000~~

Rs. 1,999/-
(Limited time Offer)

 **Buy Online**

Net Banking

Order Online (100% Safe)

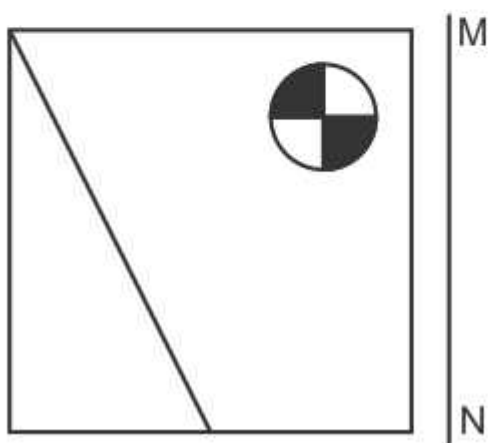
[Click here for Other Payment Options \(Cash/NEFT/etc\)](#)

FOR MORE DETAILS CLICK HERE

50% OFF

If a mirror is placed on the line MN, then which of the answer figures is the right image of the given figure?

यदि एक दर्पण को MN रेखा पर रखा जाए तो दी गयी उत्तर आकृतियों में से कौन-सी आकृति प्रश्न आकृति का सही प्रतिबिम्ब होगी?

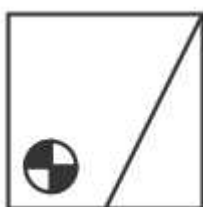


Options:

1)



2)



3)



4)

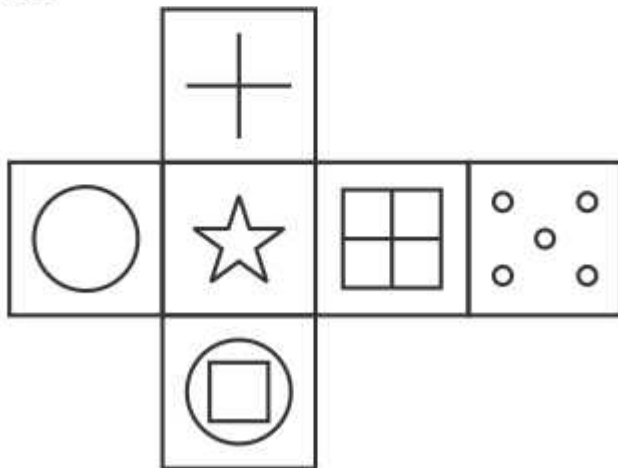


Correct Answer:

QID : 49 -

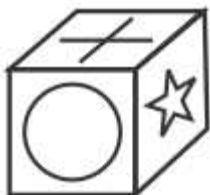
Which of the following cube in the answer figure cannot be made based on the unfolded cube in the question figure?

निम्नलिखित उत्तर आकृति में से कौन सा घन दिए गए प्रश्न आकृति में से खुले घन से बनाया नहीं जा सकता?



Options:

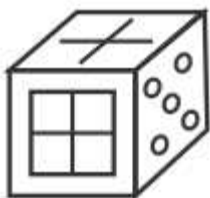
1)



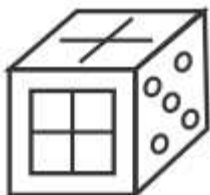
2)



3)



4)



Correct Answer:

QID : 50 -

A word is represented by only one set of numbers as given in any one of the alternatives. The sets of numbers given in the alternatives are represented by two classes of alphabets as shown in the given two matrices. The columns and rows of Matrix-I are numbered from 0 to 4 and that of Matrix-II are numbered from 5 to 9. A letter from these matrices can be represented first by its row and next by its column, for example 'G' can be represented by 31, 43 etc and 'Z' can be represented by 97, 69 etc. Similarly, you have to identify the set for the word 'LATE'.

एक शब्द केवल एक संख्या-समूह द्वारा दर्शाया गया है, जैसा कि विकल्पों में से किसी एक में दिया गया है। विकल्पों में दिए गए संख्या-समूह अक्षरों के दो वर्गों द्वारा दर्शाए गए हैं, जैसा कि दिए गए दो आव्यूहों में है। आव्यूह-I के स्तम्भ और पंक्ति की संख्या 0 से 4 और आव्यूह-II की 5 से 9 है। इन आव्यूहों से एक अक्षर को पहले उसकी पंक्ति और बाद में स्तम्भ संख्या द्वारा दर्शाया जा सकता है। उदाहरण के लिए 'G' को 31, 43 आदि द्वारा दर्शाया जा सकता है तथा 'Z' को 97, 69 आदि द्वारा दर्शाया जा सकता है। इसी तरह से आपको प्रश्न में दिए शब्द 'LATE' के लिए समूह को पहचानना है।

Matrix I आव्यूह - I					
	0	1	2	3	4
0	C	L	H	M	J
1	E	M	I	G	K
2	E	H	I	A	M
3	F	G	B	F	F
4	F	B	J	G	L

Matrix II आव्यूह - II					
	5	6	7	8	9
5	X	O	Q	X	P
6	X	Q	O	P	Z
7	W	O	S	S	X
8	R	X	U	U	S
9	Y	T	Z	U	N

Options:

- 1) 44,23,96,20
- 2) 13,96,14,57
- 3) 22,96,43,95
- 4) 41,77,30,59

Correct Answer: 44,23,96,20



SSC EXAMS PRINTED STUDY NOTES

Study Material for SSC CGL (Tier-1) Examination	English	CLICK HERE
Study Kit for SSC CGL (Tier-2) Exam	English	CLICK HERE
Study Kit for SSC CHSL (10+2) Examination	English	CLICK HERE
Study Kit for SSC Stenographers (Grade 'C' & 'D')	English	CLICK HERE
Study Kit for Multitasking (Non-Technical) - MTS	English	CLICK HERE
Study Kit for SSC Constables (GD) Exam	English	CLICK HERE
Study Kit For SSC Sub-Inspectors in Delhi Police, CAPFs, CISF	English	CLICK HERE
Study Kit for SSC Junior Engineer Exam (Paper-1)	English	CLICK HERE
IAS EXAMS STUDY MATERIALS		
Study Kit for IAS (Pre) GENERAL STUDIES Paper-1 (GS)	English	CLICK HERE
Study Kit for IAS (Pre) CSAT Paper-2(Aptitude)	English	CLICK HERE
सामान्य अध्ययन (GS) प्रारंभिक परीक्षा (Pre) पेपर-1	हिन्दी	CLICK HERE
आई. ए. एस. (सी-सैट) प्रारंभिक परीक्षा पेपर -2	हिन्दी	CLICK HERE
Gist of NCERT Study Kit For UPSC Exams	English	CLICK HERE
यूपीएससी परीक्षा के लिए एनसीईआरटी अध्ययन सामग्री	हिन्दी	CLICK HERE