



कर्मचारी चयन आयोग
संयुक्त उच्चतर माध्यमिक स्तर परीक्षा

एस.एस.सी. सीएचएसएल (टियर -1) परीक्षा पेपर 2017 "12 मार्च
2018" शाम को पाली (तक शक्ति) SSC CHSL (Tier - 1)
Online Exam Paper - 2017 "held on 12 March 2018"
Evening Shift (Reasoning)

QID : 1 - निम्नलिखित प्रश्न में दिए गए विकल्पों में से संबंधित शब्द युग्म को चुनिए।

वस्त्र : दर्ज़ा :: ? : ?

Options:

- 1) जूते : मोची
- 2) भोजन : खाना
- 3) फर्नाचर : निमाता
- 4) मिस्त्री : दावार

Correct Answer: जूते : मोची

QID : 2 - निम्नलिखित प्रश्न में दिए गए विकल्पों में से संबंधित संख्या युग्म को चुनिए।

46 : 52 :: ? : ?

Options:

- 1) 93 : 99
- 2) 44 : 52

3) 54 : 64

4) 53 : 58

Correct Answer: 93 : 99

QID : 3 - निम्नलिखित प्रश्न में दिए गए विकल्पों में से संबंधित अक्षर/अक्षरों को चुनिए।

RAM : NWI :: LIP : ?

Options:

1) HEL

2) LQV

3) HAP

4) PET

Correct Answer: HEL

QID : 4- निम्नलिखित प्रश्न में दिए गए विकल्पों में से विषम शब्द युग्म को चुनिए।

Options:

1) Cow – Grass

2) Monkey – Banana

3) Rabbit – Carrot

4) Dog – Bark

Correct Answer: Dog – Bark

QID : 5 - नीचे दिए गए प्रश्न में, चार संख्या युग्म दिए गए हैं। (-) के बायीं ओर दो संख्या (-) के दायीं ओर दो गई संख्या से तक/नियम से संबंधित हैं। तीन उसी एक तक/नियम के आधार पर समान हैं। दिए गए विकल्पों में से भिन्न को चुनिए।

Options:

1) 11 – 121

2) 13 – 169

3) 19 – 361

4) 17 – 279

Correct Answer: 17 – 279

QID : 6 - निम्नलिखित प्रश्न में दिए गए विकल्पों में से विषम अक्षर/अक्षरों को चुनिए।

Options:

1) FDB

2) LJI

3) SQO

4) ZXV

Correct Answer: LJI

QID : 7 - दिए गए विकल्पों में से, शब्दकोश के अनुसार, कौन सा शब्द अंतिम स्थान पर आयेगा?

1. Choir
2. Choice
3. Chunk
4. Cheer
5. Church

Options:

- 1) Choir
- 2) Church
- 3) Cheer
- 4) Chunk

Correct Answer: Church

QID : 8 - निम्नलिखित प्रश्न में दिए गए विकल्पों में से लुप्त अंक ज्ञात कीजिए।

12, 17, 34, ?, 78, 83, 166

Options:

- 1) 36
- 2) 33
- 3) 39
- 4) 45

Correct Answer: 39

QID : 9 - एक अनुक्रम दिया गया है, जिसमें से एक पद लुप्त है। दिए गए विकल्पों में से वह सही विकल्प चुनिए, जो अनुक्रम को पूरा करे।

W, T, Q, N, ?

Options:

- 1) K
- 2) J
- 3) I
- 4) L

Correct Answer: K

QID : 10 - लड़कियों का एक पंक्ति में, अमित ऊपर से 12-वाँ तथा रतन नीचे से 15-वाँ है। वे अपना स्थान परस्पर आपस में बदल लेते हैं। रतन अब नीचे से 37-वाँ हो जाता है। पंक्ति में कुल कितने लड़के हैं?

Options:

- 1) 48
- 2) 49
- 3) 100
- 4) 47

Correct Answer: 48

QID : 11 - दिए गए विकल्पों में से वह शब्द चुनिए जो दिए गए शब्द के अक्षरों का प्रयोग करके नहीं बनाया जा सकता है।

Expenditure

Options:

- 1) Pen
- 2) Expect
- 3) Turn
- 4) End

Correct Answer: Expect

QID : 12 - एक विशिष्ट कोड भाषा में, "LUNGS" को "OWQIV" लिखा जाता है। इस कोड भाषा में "HEART" को किस प्रकार लिखा जाएगा?

Options:

- 1) GDTJV
- 2) KGDTW
- 3) JGDTW
- 4) GHEWT

Correct Answer: KGDTW

QID : 13 - किसी निश्चित कोड भाषा में '+' , '-' को प्रदर्शित करता है, 'x' को प्रदर्शित करता है, '÷' , 'x' को प्रदर्शित करता है और 'x', '-' को प्रदर्शित करता है। निम्नलिखित प्रश्न का उत्तर ज्ञात करें।

$$9 \div 16 - 25 + 10 \times 20 = ?$$

Options:

- 1) 50
- 2) 29
- 3) 37
- 4) 43

Correct Answer: 29

QID : 14 - निम्नलिखित समीकरण गलत है। इस समीकरण को सही करने के लिए किन दो चिन्हों को आपस में अदला-बदला करना चाहिए?

$$4 - 10 \div 5 \times 4 + 12 = 16$$

SSC CHSL (10+2) Printed Study Kit



- 100% CHSL Exam Syllabus Covered
- 5 Books, 1000+ Pages
- 4500+ MCQs
- Solved Papers & Mock Tests (PDF Copy)
- 1 Year Current Affairs (PDF Copy)

50% OFF
₹ 4,000/-
₹ **1,999/-**

FREE SHIPPING 

for Exam Help Call Us at: +91 8800734161

 **SSCPORTAL.IN**
India's Largest Online Community for SSC CHSL Exam Preparation

What you will get:

- 100% CHSL Exam Syllabus Covered
- 5 Booklets
- More Than 1000+ Pages
- 4500+ MCQs
- Previous Solved Papers
- Current Affairs for Exam
- Guidance & Support from Our Experts

Price of the Kit:

~~Rs. 4,000~~

Rs. 1,999/-
(Limited time Offer)

 **Buy Online**

Net Banking

Order Online (100% Safe)

[Click here for Other Payment Options \(Cash/NEFT/etc\)](#)

FOR MORE DETAILS CLICK HERE

50% OFF

Options:

- 1) ÷ और -
- 2) + और ÷
- 3) x और -
- 4) - और +

Correct Answer: x और

QID : 15 - यदि $70!10 = -7$, $70!5 = -14$ और $40!4 = -10$, तो $20!2$ का मान ज्ञात कर।

Options:

- 1) 30
- 2) -10
- 3) 12
- 4) -24

Correct Answer: -10

QID : 16 - निम्नलिखित म से कौन सा पद दी गयी सूची के क्रम के अनुसार है?

aBABABAB, AbABABAB, ABaBABAB, ABAbABAB, ABABaBAB, _____.

Options:

- 1) ABABABaB
- 2) ABABAbAB
- 3) aBABABAB
- 4) AbABABAB

Correct Answer: ABABAbAB

QID : 17 - एक महिला अपने घर से निकलती है और उत्तर का तरफ 2 कि.मी. का दूर तक जाती है, तब वह पूव दिशा म मुड़ जाती है और आगे 9 कि.मी. तक चलती है, तब वह दक्षिण का तरफ मुड़ जाती है और 1 कि.मी. तक चलती है, फिर वह पश्चिम का तरफ मुड़ जाती है और आगे 2 कि.मी. तक चलती है, फिर वह अपने बाएं तरफ मुड़ती है और एक कुएं तक पहुंचने के लिए आगे 1 कि.मी. तक चलती है। उस कुएं के संदभ म उसका घर कहां है?

Options:

- 1) 11 कि.मी. पश्चिम
- 2) 7 कि.मी. पूव
- 3) 7 कि.मी. पश्चिम
- 4) 11 कि.मी. पूव

Correct Answer: 7 कि.मी. पश्चिम

QID : 18 - प्रश्न म दो कथन दिये गये ह जिसके आगे दो निष्कर्ष I और II निकाले गये ह। आपको मानना है कि दोनों कथन सत्य है चाहे वह सामान्यतः ज्ञात तथ्या से भिन्न प्रतीत होते ह। आपको निणय करना है का दिए गए निष्कर्ष म से कौन-सा/कौन-से निश्चित रूप से कथन द्वारा सहा निकाला जा सकता है/सकते ह, यदि कोई हो।

कथन I: कोई भी सिगार सिगरेट नहीं होता है
कथन II: सभी तंबाकू सिगार होते हैं
निष्कर्ष I: कुछ सिगरेट तंबाकू होती हैं
निष्कर्ष II: कोई भी तंबाकू सिगरेट नहीं होता है

Options:

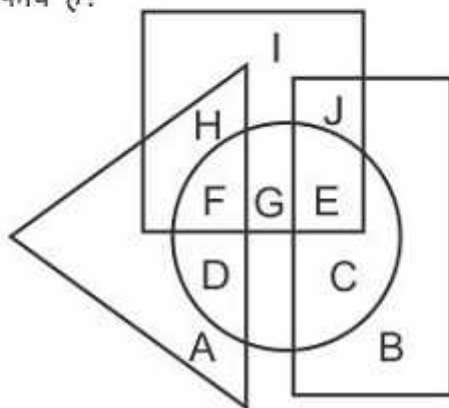
- 1) केवल निष्कर्ष I सही है
- 2) केवल निष्कर्ष II सही है
- 3) दोनों निष्कर्ष I और II सही हैं
- 4) ना तो निष्कर्ष I सही है ना ही निष्कर्ष II

Correct Answer: केवल निष्कर्ष II सही है

QID : 19 -

In the following figure, rectangle represents Therapists, circle represents Floral designers, triangle represents Poets and square represents Football players. Which set of letters represents Therapists who are either Floral designers or Poets?

निम्नलिखित आकृति में, आयत चिकित्सक को प्रदर्शित करता है, वृत्त पुष्प डिजाइनरों को प्रदर्शित करता है, त्रिभुज कवियों को प्रदर्शित करता है और वर्ग फुटबॉल खिलाड़ियों को प्रदर्शित करता है। अक्षरों का कौन सा समूह उन चिकित्सकों को प्रदर्शित करता है जो या तो पुष्प डिजाइनर हैं या कवि हैं?



Options:

- 1) FD
- 2) EC
- 3) FGE
- 4) DC

Correct Answer: EC

QID : 20 - एक अनुक्रम दिया गया है, जिसमें से एक पद लुप्त है। दिए गए विकल्पों में से वह सही विकल्प चुनिए, जो अनुक्रम को पूरा करे।

POT, OMS, NKR, MIQ, ?

Options:

- 1) LGP
- 2) KGO
- 3) LHP
- 4) KHO

Correct Answer: LGP

QID : 21 - निम्नलिखित प्रश्न में दिए गए विकल्पों में से लुप्त अंक ज्ञात कीजिए।

64, 75, 86, 97, ?, 119

Options:

- 1) 118
- 2) 108
- 3) 98
- 4) 109

Correct Answer: 108

QID : 22 - नीचे दिए गए प्रश्न में, तीन संख्याओं के चार समूह दिये गए हैं। प्रत्येक समूह में दूसरी तथा तीसरी संख्या पहली संख्या से किसी एक तक/नियम से सम्बंधित है। तीन उसी एक तक/नियम के आधार पर समान हैं। दिए गए विकल्पों में से भिन्न को चुनिए।

Options:

- 1) (3, 9, 27)
- 2) (6, 18, 56)
- 3) (7, 21, 63)
- 4) (8, 24, 72)

Correct Answer: (6, 18, 56)

QID : 23 -

SSC CHSL(10+2) परीक्षा अध्ययन सामग्री



- 100% CHSL Exam Syllabus Covered
- 5 Books, 900+ Pages
- 2500+ MCQs
- 1 Year Current Affairs (PDF Copy)
- Support & Guidance

50% OFF
₹ 4,000/-
₹ **1,999/-**

FREE SHIPPING

for Exam Help Call Us at: +91 8800734161

SSCPORTAL.IN

आप क्या प्राप्त करेंगे?

- माध्यम: हिन्दी
- 100 प्रतिशत पाठ्यक्रम
- 900 से अधिक पृष्ठ
- 2500 से अधिक वस्तुनिष्ठ प्रश्न
- कुल 5 पुस्तिकाएँ
- अध्यायवार M.C.Q
- गणित एवं तार्किक क्षमता को हल करने की सरल विधि
- 5 अभ्यास प्रश्न पत्र (PDF Copy)
- हमारे विशेषज्ञों द्वारा मार्गदर्शन और सहायता

Price of the Kit:

Rs. 4,200

Rs. 1,999/-

(Limited time Offer)

 Buy Online

VISA Maestro MasterCard RuPay

Net Banking

Order Online (100% Safe)

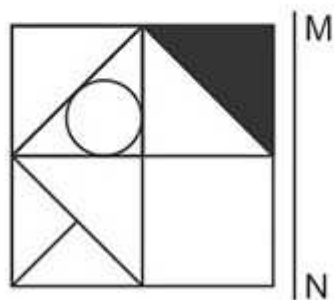
[Click here for Other Payment Options \(Cash/NEFT/etc\)](#)

FOR MORE DETAILS CLICK HERE

50% OFF

If a mirror is placed on the line MN, then which of the answer figures is the right image of the given figure?

यदि एक दर्पण को MN रेखा पर रखा जाए तो दी गयी उत्तर आकृतियों में से कौन-सी आकृति प्रश्न आकृति का सही प्रतिबिम्ब होगी?



Options:

1)



2)



3)



4)



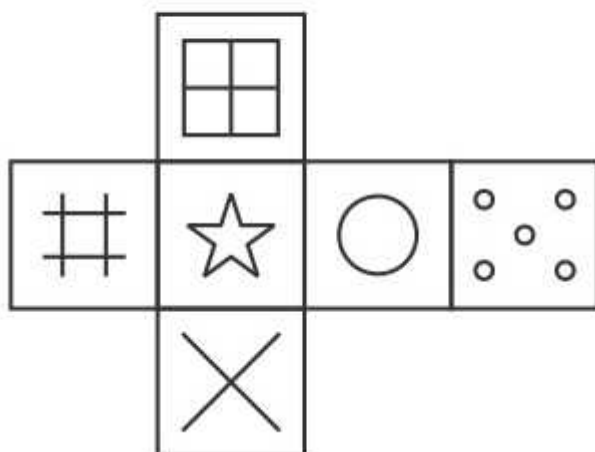
Correct Answer:



QID : 24 -

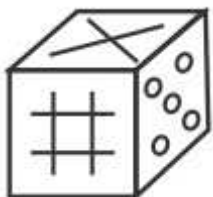
Which of the following cube in the answer figure cannot be made based on the unfolded cube in the question figure?

निम्नलिखित उत्तर आकृति में से कौन सा घन दिए गए प्रश्न आकृति में से खुले घन से बनाया नहीं जा सकता?

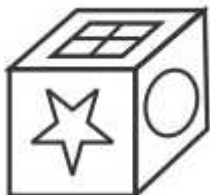


Options:

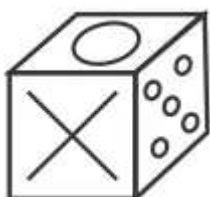
1)



2)



3)



4)



Correct Answer:



QID : 25 -

A word is represented by only one set of numbers as given in any one of the alternatives. The sets of numbers given in the alternatives are represented by two classes of alphabets as shown in the given two matrices. The columns and rows of Matrix-I are numbered from 0 to 4 and that of Matrix-II are numbered from 5 to 9. A letter from these matrices can be represented first by its row and next by its column, for example 'E' can be represented by 12, 34 etc and 'W' can be represented by 56, 97 etc. Similarly, you have to identify the set for the word 'SOAK'.

एक शब्द केवल एक संख्या-समूह द्वारा दर्शाया गया है, जैसा कि विकल्पों में से किसी एक में दिया गया है। विकल्पों में दिए गए संख्या-समूह अक्षरों के दो वर्गों द्वारा दर्शाए गए हैं, जैसा कि दिए गए दो आव्यूहों में है। आव्यूह-I के स्तम्भ और पंक्ति की संख्या 0 से 4 और आव्यूह-II की 5 से 9 है। इन आव्यूहों से एक अक्षर को पहले उसकी पंक्ति और बाद में स्तम्भ संख्या द्वारा दर्शाया जा सकता है। उदाहरण के लिए 'E' को 12, 34 आदि द्वारा दर्शाया जा सकता है तथा 'W' को 56, 97 आदि द्वारा दर्शाया जा सकता है। इसी तरह से आपको प्रश्न में दिए शब्द 'SOAK' के लिए समूह को पहचानना है।

Matrix I आव्यूह - I						Matrix II आव्यूह - II					
	0	1	2	3	4		5	6	7	8	9
0	C	H	E	I	M	5	Z	W	Y	O	Z
1	A	L	E	K	F	6	Q	P	N	P	T
2	B	L	E	M	C	7	Q	O	Z	W	Q
3	G	J	C	K	E	8	S	V	Q	N	O
4	F	C	G	C	I	9	R	Z	W	Z	X

Options:

- 1) 20,75,20,97
- 2) 44,95,32,66
- 3) 31,87,33,65
- 4) 85,58,10,13

Correct Answer: 85,58,10,13



SSC EXAMS PRINTED STUDY NOTES

Study Material for SSC CGL (Tier-1) Examination	English	CLICK HERE
Study Kit for SSC CGL (Tier-2) Exam	English	CLICK HERE
Study Kit for SSC CHSL (10+2) Examination	English	CLICK HERE
Study Kit for SSC Stenographers (Grade 'C' & 'D')	English	CLICK HERE
Study Kit for Multitasking (Non-Technical) - MTS	English	CLICK HERE
Study Kit for SSC Constables (GD) Exam	English	CLICK HERE
Study Kit For SSC Sub-Inspectors in Delhi Police, CAPFs, CISF	English	CLICK HERE
Study Kit for SSC Junior Engineer Exam (Paper-1)	English	CLICK HERE
IAS EXAMS STUDY MATERIALS		
Study Kit for IAS (Pre) GENERAL STUDIES Paper-1 (GS)	English	CLICK HERE
Study Kit for IAS (Pre) CSAT Paper-2(Aptitude)	English	CLICK HERE
सामान्य अध्ययन (GS) प्रारंभिक परीक्षा (Pre) पेपर-1	हिन्दी	CLICK HERE
आई. ए. एस. (सी-सैट) प्रारंभिक परीक्षा पेपर -2	हिन्दी	CLICK HERE
Gist of NCERT Study Kit For UPSC Exams	English	CLICK HERE
यूपीएससी परीक्षा के लिए एनसीईआरटी अध्ययन सामग्री	हिन्दी	CLICK HERE