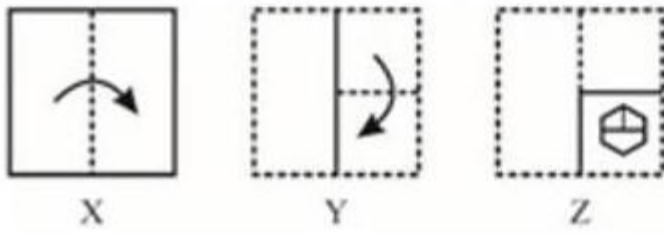




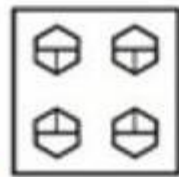
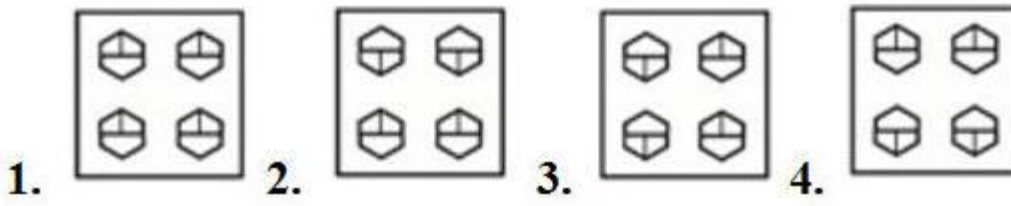
कर्मचारी चयन आयोग
संयुक्त उच्चतर माध्यमिक स्तर परीक्षा

एस.एस.सी. सीएचएसएल (टियर -1) परीक्षा पेपर 2018 "11 जुलाई 2019" शाम की पाली (तर्क शक्ति) SSC CHSL (Tier - 1) Online Exam Paper - 2018 "held on 11 July 2019" Evening Shift (Reasoning)

Q1. एक कागज को मोड़कर काट दिया जाता है, जैसा की नीचे दिखाया गया है जब इस कागज को खोला जाएगा तो यह कैसा दिखाई देगा?



Options:



Correct Answer:

Q2. उस संख्या-युग्म का चयन करें जिसमें दो संख्याएँ उसी तरह से संबंधित हैं जैसे कि निम्नलिखित संख्या-युग्म की दो संख्याएँ संबंधित हैं।

20 : 30

Options:

1. 16 : 36
2. 12 : 23
3. 30 : 42
4. 6 : 14

Correct Answer: 30 : 42

**Q3. उस समुच्चय का चयन करें जिसमें संख्याएँ उसी तरह से संबंधित हैं जैसे कि निम्नलिखित समुच्चय की संख्याएँ संबंधित हैं।
(35, 48, 83)**

Options:

1. (15, 25, 41)
2. (25, 49, 91)
3. (15, 24, 39)
4. (24, 49, 75)

Correct Answer: (15, 24, 39)

Q4. अगर दर्पण को आकृति के दाईं ओर रखा जाए, तो दी गई आकृति की सही दर्पण छवि को चुनें।



Options:

- 1.
- 2.
- 3.
- 4.



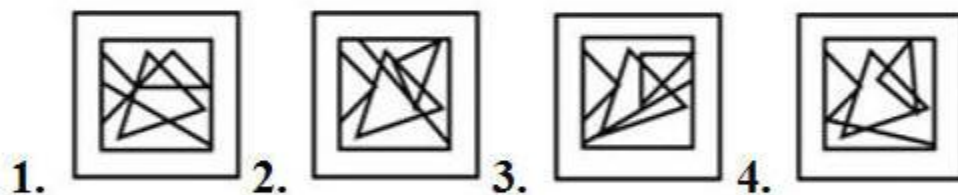
Correct Answer:

Q5. उस विकल्प को चुनें जिसे घुमाई गयी आकृति अंतर्निहित है।
(आकृति को घुमाने की अनुमति नहीं है)।



X

Options:



Correct Answer:

Q6. श्याम रिया का भाई है। मोहिनी अनुज की माता है। रिया राम की बेटी है। अनुज श्याम का भाई है। मोहिनी का राम से क्या संबंध है?

Options:

1. बहन
2. पत्नी
3. माता
4. बेटी

Correct Answer: पत्नी

Q7. एक कोड भाषा में, THRUST को UJUYYXZ लिखा जाता है। उस भाषा में WOOD को कैसे लिखा जाएगा?

Options:

1. XQRI
2. XQRH
3. XQSH
4. XORH

Correct Answer: XQRH

Q8. 'Dice' is related to 'Cube' in the same way as 'Ball' is related to '_____'.

Options:

1. Cube
2. Line
3. Cone
4. Sphere

Correct Answer: Sphere

Q9. यदि 10 नवंबर 2018 को शनिवार था, तो 15 अगस्त 2017 को सप्ताह का कौन-सा दिन था?

Options:

1. रविवार
2. मंगलवार
3. सोमवार
4. शुक्रवार

Correct Answer: मंगलवार

Q10. Select the set in which the numbers are related in the same way as are the numbers of the following set.

(10, 32, 54)

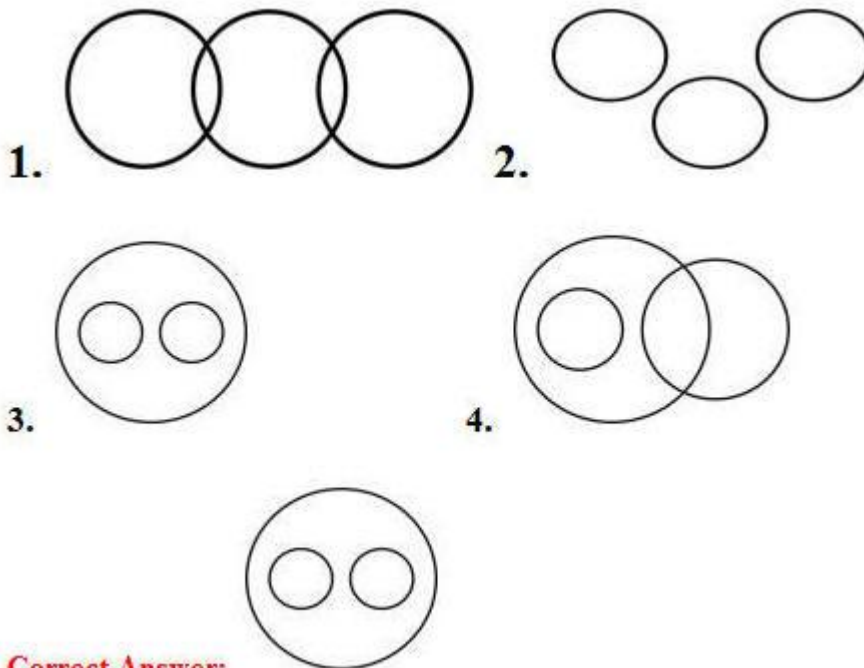
Options:

1. (35, 57, 79)
2. (16, 37, 56)
3. (25, 47, 77)
4. (15, 49, 37)

Correct Answer: (35, 57, 79)

Q11. उस वेन आरेख का चयन करें जो निम्नलिखित वर्गों के बीच के संबंध को सबसे अच्छा दर्शाता है।

वकील, वास्तुकार, मनुष्य



Correct Answer:

SSC CHSL (10+2) Printed Study Kit



- 100% CHSL Exam Syllabus Covered
- 5 Books, 1000+ Pages
- 4500+ MCQs
- Solved Papers & Mock Tests (PDF Copy)
- 1 Year Current Affairs (PDF Copy)

50% OFF
₹ 4,000/-
₹ **1,999/-**

FREE SHIPPING 

for Exam Help Call Us at: +91 8800734161

 **SSCPORTAL.IN**
India's Largest Online Community for SSC CHSL Exam Preparation

What you will get:

- 100% CHSL Exam Syllabus Covered
- 5 Booklets
- More Than 1000+ Pages
- 4500+ MCQs
- Previous Solved Papers
- Current Affairs for Exam
- Guidance & Support from Our Experts

Price of the Kit:

~~Rs. 4,000~~

Rs. 1,999/-
(Limited time Offer)

 **Buy Online**

Net Banking

Order Online (100% Safe)

[Click here for Other Payment Options \(Cash/NEFT/etc\)](#)

[FOR MORE DETAILS CLICK HERE](#)

50% OFF

Q12. निम्नलिखित चार अक्षर-समूहों में से तीन अक्षर-समूह एक निश्चित तरीके से एक जैसे हैं और एक अलग है। उस अलग अक्षर-समूह को चुनिए।

Options:

1. NRV
2. DHL
3. FKM
4. PTX

Correct Answer: FKM

Q13. निम्नलिखित समीकरण को सही बनाने के लिए इसमें किन दो चिह्नों को एक-दूसरे से बदलना होगा?

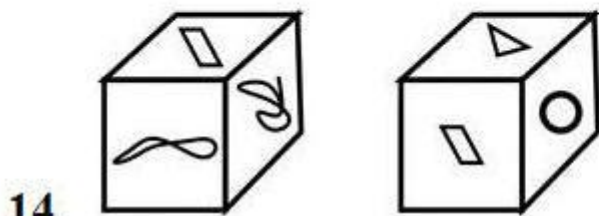
$$10 + 18 - 20 \times 100 \div 5 = 27$$

Options:

1. + और -
2. + और ÷
3. × और ÷
4. × और -

Correct Answer: × और ÷

एक ही पासे की दो अलग-अलग स्थितियों को नीचे दर्शाया गया है। उस पैटर्न को चुन फलक पर होगा।



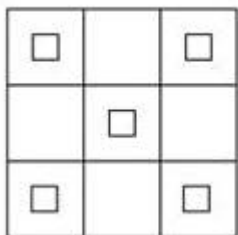
Options:

1.  2.  3.  4. 

Correct Answer:



Q15. नीचे दी गई आकृति में कितने वर्ग मौजूद हैं ?



Options:

1. 21
2. 17
3. 19
4. 23

Correct Answer: 19

SSC CHSL(10+2) परीक्षा अध्ययन सामग्री



- 100% CHSL Exam Syllabus Covered
- 5 Books, 900+ Pages
- 2500+ MCQs
- 1 Year Current Affairs (PDF Copy)
- Support & Guidance

50% OFF
~~₹ 4,000/-~~
₹ 1,999/-

FREE SHIPPING

for Exam Help Call Us at: +91 8800734161

SSCPORTAL.IN

आप क्या प्राप्त करेंगे?

- माध्यम: हिन्दी
- 100 प्रतिशत पाठ्यक्रम
- 900 से अधिक पृष्ठ
- 2500 से अधिक वस्तुनिष्ठ प्रश्न
- कुल 5 पुस्तिकायें
- अध्यायवार M.C.Q
- गणित एवं तार्किक क्षमता को हल करने की सरल विधि
- 5 अभ्यास प्रश्न पत्र (PDF Copy)
- हमारे विशेषज्ञों द्वारा मार्गदर्शन और सहायता

Price of the Kit:

~~Rs. 4,200~~

Rs. 1,999/-

(Limited time Offer)

 [Buy Online](#)

VISA Maestro MasterCard RuPay

Net Banking

Order Online (100% Safe)

[Click here for Other Payment Options \(Cash/NEFT/etc\)](#)

FOR MORE DETAILS CLICK HERE

50% OFF

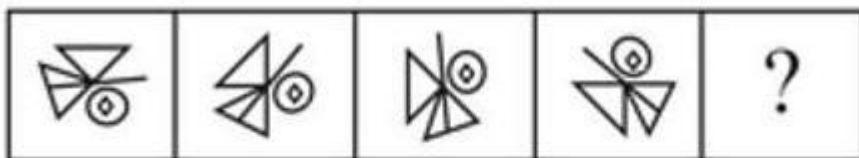
Q16. निम्नलिखित चार शब्दों में से तीन शब्द एक निश्चित तरीके से एक जैसे हैं और एक अलग है। उस अलग शब्द को चुनिए।

Options:

1. टमाटर
2. आलू
3. अंडा
4. प्याज़

Correct Answer: अंड

Q17. उस उत्तर आकृति को चुनें जो नीचे दी गई समस्या आकृति श्रृंखला में अगले स्थान पर आएगी



Options:

- 1.
- 2.
- 3.
- 4.



Correct Answer:

Q18. निम्नलिखित चार संख्याओं में से तीन संख्याएं एक निश्चित तरीके से एक जैसी हैं और एक संख्या अलग है। वह संख्या चुनें जो अन्य से अलग है।

Options:

1. 7815
2. 8715
3. 8915
4. 6915

Correct Answer: 8915

Q19. Arrange the following words as they appear in the English Dictionary.

1. Chairman
2. Challan
3. Chaos
4. Champion
5. Changing

Options:

1. 1, 2, 4, 5, 3
2. 1, 3, 4, 2, 5
3. 1, 2, 3, 4, 5
4. 1, 4, 2, 3, 5

Correct Answer: 1, 2, 4, 5, 3

Q20. उस विकल्प का चयन करें जो तीसरे अक्षर-युग्म से उसी तरह संबंधित है जैसे दूसरा अक्षर-युग्म पहले अक्षर-युग्म से संबंधित है।
FU : UF :: RS : ?

Options:

1. IH
2. IP

3. GH
4. JH

Correct Answer: IH

**Q21. निम्नलिखित श्रृंखला में कौन-सा शब्द-युग्म प्रश्न चिह्न (?) के स्थान पर आएगा?
KH, ? , QN, WT, EB**

Options:

1. LN
2. NJ
3. MJ
4. MK

Correct Answer: MJ

**Q22. निम्नलिखित श्रृंखलामें कौन-सी संख्या प्रश्न चिह्न (?) के स्थान पर आएगी?
2, 3, 8, 31, ?**

Options:

1. 95
2. 134
3. 105
4. 154

Correct Answer: 154

Q23. तीन कथन दिए गए हैं, इसके बाद तीन निष्कर्ष I, II और III दिए गए हैं। कथनों को सत्य मानते हुए भले ही वे आम तौर पर ज्ञात तथ्यों से अलग हों, यह निर्णय लीजिए कि कौन-सा/से निष्कर्ष कथनों का तार्किक रूप से अनुसरण करता है/करते हैं।

कथन:

सभी चाकू कुल्हाड़ियाँ हैं।
सभी कुल्हाड़ियाँ तलवारें हैं।
सभी आरियाँ तलवारें हैं।

निष्कर्ष:

- I. सभी तलवारें चाकू हैं।
- II. कुछ तलवारें कुल्हाड़ियाँ हैं।
- III. कुछ तलवारें आरियाँ हैं।

Options:

1. केवल निष्कर्ष II और III अनुसरण करते हैं।
2. केवल निष्कर्ष I अनुसरण करता है।
3. केवल निष्कर्ष I और II अनुसरण करते हैं।
4. सभी निष्कर्ष अनुसरण करते हैं।

Correct Answer: केवल निष्कर्ष II और III अनुसरण करते हैं।

Q24. यदि WIND को 414923 रूप में कोडबद्ध किया जाता है और CARDS को 1941813 रूप में कोडबद्ध किया जाता है तो ORIENT को कैसे कोडबद्ध किया जाएगा?

Options:

1. 2013591815
2. 2014581815
3. 2014591815
4. 1518951420

Correct Answer: 2014591815

Q25. उस विकल्प को चुनें जो तीसरे अक्षर-युग्म से उसी तरह संबंधित है जैसे दूसरा अक्षर-युग्म पहले अक्षर-युग्म से संबंधित है।

GP : TK :: DR ?

Options:

1. VU
2. WX
3. IW
4. WI

Correct Answer: WI



Study Material for SSC CGL (Tier-1) Examination	English	CLICK HERE
Study Kit for SSC CGL (Tier-2) Exam	English	CLICK HERE
Study Kit for SSC CHSL (10+2) Examination	English	CLICK HERE
Study Kit for SSC Stenographers (Grade 'C' & 'D')	English	CLICK HERE
Study Kit for Multitasking (Non-Technical) - MTS	English	CLICK HERE
Study Kit for SSC Constables (GD) Exam	English	CLICK HERE
Study Kit For SSC Sub-Inspectors in Delhi Police, CAPFs, CISF	English	CLICK HERE
Study Kit for SSC Junior Engineer Exam (Paper-1)	English	CLICK HERE
IAS EXAMS STUDY MATERIALS		
Study Kit for IAS (Pre) GENERAL STUDIES Paper-1 (GS)	English	CLICK HERE
Study Kit for IAS (Pre) CSAT Paper-2(Aptitude)	English	CLICK HERE
सामान्य अध्ययन (GS) प्रारंभिक परीक्षा (Pre) पेपर-1	हिन्दी	CLICK HERE
आई. ए. एस. (सी-सैट) प्रारंभिक परीक्षा पेपर -2	हिन्दी	CLICK HERE
Gist of NCERT Study Kit For UPSC Exams	English	CLICK HERE
यूपीएससी परीक्षा के लिए एनसीईआरटी अध्ययन सामग्री	हिन्दी	CLICK HERE