



कर्मचारी चयन आयोग
संयुक्त उच्चतर माध्यमिक स्तर परीक्षा

एस.एस.सी. सीएचएसएल (टियर -1) परीक्षा पेपर 2017 "10 मार्च
2018" सुबह की पाली (तक शक्ति) SSC CHSL (Tier - 1)
Online Exam Paper - 2017 "held on 10 March 2018"
Morning Shift (Reasoning)

QID : 1 - निम्नलिखित प्रश्न में दिए गए विकल्पों में से संबंधित शब्द युग्म को चुनिए।

ट्रक : वाहन :: ? : ?

Options:

- 1) कार : सड़क
- 2) सड़क : पत्थर
- 3) स्कूटर : पहिया
- 4) हरा : रंग

Correct Answer: हरा : रंग

QID : 2 - निम्नलिखित प्रश्न में दिए गए विकल्पों में से संबंधित संख्या को चुनिए।

446 : 443 :: 552 : ?

Options:

- 1) 445
- 2) 549
- 3) 543
- 4) 551

Correct Answer: No Correct Answer (Benefit to all)

QID : 3 - निम्नलिखित प्रश्न में दिए गए विकल्पों में से संबंधित अक्षर/अक्षरों को चुनिए।

HER : SVI :: MET : ?

Options:

- 1) AVT
- 2) RKG
- 3) NVG
- 4) LVA

Correct Answer: NVG

QID : 4 - निम्नलिखित प्रश्न में दिए गए विकल्पों में से विषम शब्द युग्म को चुनिए।

Options:

- 1) रोगी - चिकित्सक
- 2) अपराधी - पुलिस
- 3) विद्यार्थी - अध्यापक
- 4) जानवर - पक्षी

Correct Answer: जानवर - पक्षी

QID : 5 - नीचे दिए गए प्रश्न में, चार संख्या युग्म दिए गए हैं। (-) के बायीं ओर दी संख्या (-) के दायीं ओर दी गई संख्या से तक/नियम से संबंधित है। तीन उसी एक तक/नियम के आधार पर समान हैं। दिए गए विकल्पों में से भिन्न को चुनिए।

Options:

- 1) 10 - 14
- 2) 14 - 18
- 3) 12 - 16
- 4) 16 - 24

Correct Answer: 16 - 24

QID : 6 - निम्नलिखित प्रश्न में दिए गए विकल्पों में से विषम अक्षर/अक्षरों को चुनिए।

Options:

- 1) CDFI
- 2) RSUX
- 3) JKMP
- 4) FGJM

Correct Answer: FGJM

QID : 7 - निम्नलिखित शब्दों को शब्दकोश में आने वाले क्रम के अनुसार लिखिए।

1. Jumbo Jet
2. Juggling
3. Justice

4. Jewel
5. Jealous

Options:

- 1) 54213
- 2) 23415
- 3) 12345
- 4) 42315

Correct Answer: 54213

QID : 8 - निम्नलिखित प्रश्न में दिए गए विकल्पों में से लुप्त अंक ज्ञात कीजिए।

5, 9, 13, 17, 21, ?

Options:

- 1) 32
- 2) 26
- 3) 25
- 4) 29

Correct Answer: 25

QID : 9 - एक अनुक्रम दिया गया है, जिसमें से एक पद लुप्त है। दिए गए विकल्पों में से वह सही विकल्प चुनिए, जो अनुक्रम को पूरा करे।

XJ, WL, VN, UP, ?

Options:

- 1) TU
- 2) TR
- 3) ST
- 4) SU

Correct Answer: TR

QID : 10 - लड़कों का एक पंक्ति में, राहुल का स्थान दायें छोर से 39-वाँ है तथा पंकज का स्थान बायें छोर से 53-वाँ है। उनके स्थानों को परस्पर बदलने के पश्चात्, राहुल का स्थान दायें छोर से 64-वाँ हो जाता है। पंक्ति में कितने लड़के हैं?

Options:

- 1) 118
- 2) 117
- 3) 116
- 4) 120

Correct Answer: 116

QID : 11 - दिए गए विकल्पों में से वह शब्द चुनिए जो दिए गए शब्द के अक्षरों का प्रयोग करके नहीं बनाया जा सकता है।

Ranking

Options:

- 1) Ink
- 2) Rain
- 3) King
- 4) Acting

Correct Answer: Acting

QID : 12 - एक विशिष्ट कोड भाषा में, "PRANK" को "RUESQ" लिखा जाता है। इस कोड भाषा में "RATES" को किस प्रकार लिखा जाएगा?

Options:

- 1) XDTYF
- 2) ZFTDX
- 3) FDXTZ
- 4) TDXJY

Correct Answer: TDXJY

QID : 13 - किसी निश्चित कोड भाषा में '-' , '+' को प्रदर्शित करता है, 'x' , 'x' को प्रदर्शित करता है, 'x' , '÷' को प्रदर्शित करता है और '÷' , '-' को प्रदर्शित करता है। निम्नलिखित प्रश्न का उत्तर ज्ञात कर।

$$10 + 20 \times 10 \div 20 - 8 = ?$$

Options:

- 1) 43
- 2) 9
- 3) 30
- 4) 8

Correct Answer: 8

QID : 14 - निम्नलिखित समीकरण गलत है। इस समीकरण को सही करने के लिए किन दो चिन्हों को आपस में अदला-बदला करना चाहिए?

$$16 \div 8 - 5 \times 2 + 6 = 9$$

Options:

- 1) + और x
- 2) + और ÷
- 3) - और +
- 4) ÷ और x

Correct Answer: + और x

QID : 15 - यदि $4!4 = 4$, $14!2 = 8$ और $10!18 = 14$, तो $2!6$ का मान ज्ञात कर।

Options:

- 1) 4
- 2) 8

SSC CHSL (10+2) Printed Study Kit



- 100% CHSL Exam Syllabus Covered
- 5 Books, 1000+ Pages
- 4500+ MCQs
- Solved Papers & Mock Tests (PDF Copy)
- 1 Year Current Affairs (PDF Copy)

50% OFF
~~₹ 4,000/-~~
₹ 1,999/-

FREE SHIPPING 

for Exam Help Call Us at: +91 8800734161

SSCPORTAL.IN

What you will get:

- 100% CHSL Exam Syllabus Covered
- 5 Booklets
- More Than 1000+ Pages
- 4500+ MCQs
- Previous Solved Papers
- Current Affairs for Exam
- Guidance & Support from Our Experts

Price of the Kit:

~~Rs. 4,000~~

Rs. 1,999/-
(Limited time Offer)

 Buy Online

Net Banking

Order Online (100% Safe)

[Click here for Other Payment Options \(Cash/NEFT/etc\)](#)

FOR MORE DETAILS CLICK HERE

50% OFF

3) 18

4) 12

Correct Answer: 4

QID : 16 - निम्नलिखित म से कौन सा पद दी गयी सूची के क्रम के अनुसार है?

BAAAAA, AAAAAAB, ABAAAA, AAAABA, AABAAA, _____.

Options:

1) ABAAABA

2) AAAABAA

3) BAAAAA

4) AAAABA

Correct Answer: AAAABAA

QID : 17 - एक नदी दो कस्बा A और B को जोड़ती है। यह कस्बा A से दक्षिण की तरफ 37 मील की दूरी तक बहती है, फिर यह पश्चिम की तरफ मुड़ जाती है और आगे 23 मील तक बहती जाती है, फिर यह उत्तर की तरफ मुड़ती है और आगे 40 मील की दूरी तक बहती है, फिर यह अपने दाहिनी ओर मुड़ जाती है और 23 मील दूर स्थित शहर B तक पहुंचती है। शहर B के संबंध में शहर A कहाँ है?

Options:

1) 3 मील दक्षिण

2) 13 मील दक्षिण

3) 3 मील उत्तर

4) 13 मील उत्तर

Correct Answer: 3 मील दक्षिण

QID : 18 - प्रश्न में दो कथन दिये गये हैं जिसके आगे दो निष्कर्ष I और II निकाले गये हैं। आपको मानना है कि दोनों कथन सत्य हैं चाहे वह सामान्यतः ज्ञात तथ्यों से भिन्न प्रतीत होते हैं। आपको निणय करना है कि दिए गए निष्कर्षों में से कौन-सा/कौन-से निश्चित रूप से कथन द्वारा सही निकाला जा सकता है/सकते हैं, यदि कोई हो।

कथन I: सभी मोबाइल फोन होते हैं

कथन II: सभी फोन डिवाइस होते हैं

निष्कर्ष I: कुछ फोन डिवाइस होते हैं

निष्कर्ष II: कोई भी डिवाइस फोन नहीं होते

Options:

1) केवल निष्कर्ष I सही है

2) केवल निष्कर्ष II सही है

3) दोनों निष्कर्ष I और II सही हैं

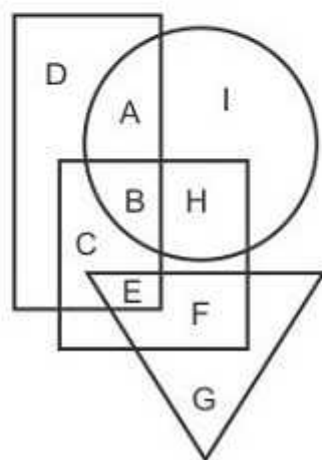
4) ना तो निष्कर्ष I सही है ना ही निष्कर्ष II

Correct Answer: केवल निष्कर्ष I सही है

QID : 19 -

In the following figure, rectangle represents Engineers, circle represents Art critics, triangle represents Comedians and square represents Asians. Which set of letters represents Asians who are both Art critics as well as Engineers?

निम्नलिखित आकृति में, आयत इंजीनियरों को प्रदर्शित करता है, वृत्त कला समीक्षकों को प्रदर्शित करता है, त्रिभुज हास्य अभिनेताओं को प्रदर्शित करता है और वर्ग एशियाई को प्रदर्शित करता है। अक्षरों का कौन सा समूह उन एशियाईयों को प्रदर्शित करता है, जो कला समीक्षकों और इंजीनियर्स दोनों हैं?



Options:

- 1) ECB
- 2) AB
- 3) B
- 4) BH

Correct Answer: B

QID : 20 - एक अनुक्रम दिया गया है, जिसमें से एक पद लुप्त है। दिए गए विकल्पों में से वह सही विकल्प चुनिए, जो अनुक्रम को पूरा करे।

PEN, MBK, JYH, GVE, ?

Options:

- 1) ESB
- 2) DRC
- 3) DSB
- 4) ERC

Correct Answer: DSB

QID : 21 - निम्नलिखित प्रश्न में दिए गए विकल्पों में से लुप्त अंक ज्ञात कीजिए।

101, 97, 93, 89, ?, 81

Options:

- 1) 85
- 2) 84
- 3) 83
- 4) 86

Correct Answer: 85

QID : 22 - नीचे दिए गए प्रश्न में, तीन संख्याओं के चार समूह दिये गए हैं। प्रत्येक समूह में दूसरी तथा तीसरी संख्या पहली संख्या से किसी एक तक/नियम से सम्बंधित है। तीन उसी एक तक/नियम के आधार पर समान हैं। दिए गए विकल्पों में से भिन्न को चुनिए।

Options:

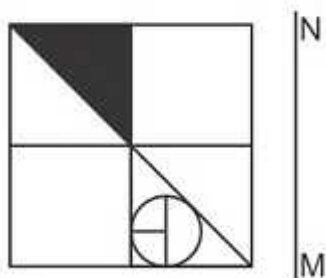
- 1) (2, 22, 222)
- 2) (3, 33, 333)
- 3) (1, 11, 111)
- 4) (4, 44, 4444)

Correct Answer: (4, 44, 4444)

QID : 23 -

If a mirror is placed on the line MN, then which of the answer figures is the right image of the given figure?

यदि एक दर्पण को MN रेखा पर रखा जाए तो दी गयी उत्तर आकृतियों में से कौन-सी आकृति प्रश्न आकृति का सही प्रतिबिम्ब होगी?



Options:

- 1)

SSC CHSL(10+2) परीक्षा अध्ययन सामग्री



- 100% CHSL Exam Syllabus Covered
- 5 Books, 900+ Pages
- 2500+ MCQs
- 1 Year Current Affairs (PDF Copy)
- Support & Guidance

50% OFF
₹ 4,000/-
₹ **1,999/-**

FREE SHIPPING

for Exam Help Call Us at: +91 8800734161

SSCPORTAL.IN

आप क्या प्राप्त करेंगे?

- माध्यम: हिन्दी
- 100 प्रतिशत पाठ्यक्रम
- 900 से अधिक पृष्ठ
- 2500 से अधिक वस्तुनिष्ठ प्रश्न
- कुल 5 पुस्तिकायें
- अध्यायवार M.C.Q
- गणित एवं तार्किक क्षमता को हल करने की सरल विधि
- 5 अभ्यास प्रश्न पत्र (PDF Copy)
- हमारे विशेषज्ञों द्वारा मार्गदर्शन और सहायता

Price of the Kit:

Rs. 4,200

Rs. 1,999/-

(Limited time Offer)

 Buy Online

VISA Maestro MasterCard RuPay

Net Banking

Order Online (100% Safe)

[Click here for Other Payment Options \(Cash/NEFT/etc\)](#)

FOR MORE DETAILS CLICK HERE

50% OFF



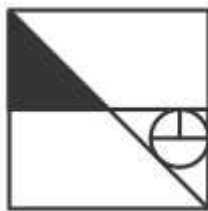
2)



3)



4)



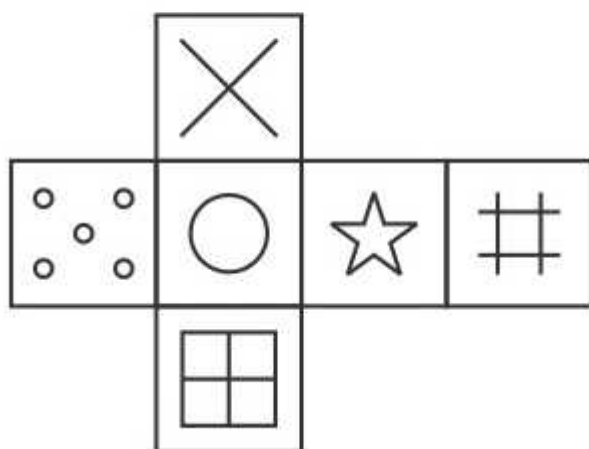
Correct Answer:



QID : 24 -

Which of the following cube in the answer figure cannot be made based on the unfolded cube in the question figure?

निम्नलिखित उत्तर आकृति में से कौन सा घन दिए गए प्रश्न आकृति में से खुले घन से बनाया नहीं जा सकता?



Options:

1)



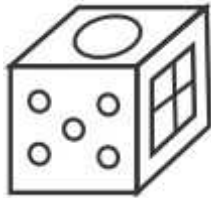
2)



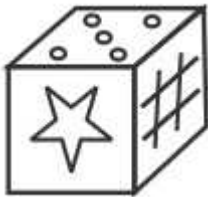
3)



4)



Correct Answer:



QID : 25 -

A word is represented by only one set of numbers as given in any one of the alternatives. The sets of numbers given in the alternatives are represented by two classes of alphabets as shown in the given two matrices. The columns and rows of Matrix-I are numbered from 0 to 4 and that of Matrix-II are numbered from 5 to 9. A letter from these matrices can be represented first by its row and next by its column, for example 'A' can be represented by 31, 23 etc and 'P' can be represented by 86, 97 etc. Similarly, you have to identify the set for the word 'KILT'.

एक शब्द केवल एक संख्या-समूह द्वारा दर्शाया गया है, जैसा कि विकल्पों में से किसी एक में दिया गया है। विकल्पों में दिए गए संख्या-समूह अक्षरों के दो वर्गों द्वारा दर्शाए गए हैं, जैसा कि दिए गए दो आव्यूहों में है। आव्यूह-I के स्तम्भ और पंक्ति की संख्या 0 से 4 और आव्यूह-II की 5 से 9 है। इन आव्यूहों से एक अक्षर को पहले उसकी पंक्ति और बाद में स्तम्भ संख्या द्वारा दर्शाया जा सकता है। उदाहरण के लिए 'A' को 31, 23 आदि द्वारा दर्शाया जा सकता है तथा 'P' को 86, 97 आदि द्वारा दर्शाया जा सकता है। इसी तरह से आपको प्रश्न में दिए शब्द 'KILT' के लिए समूह को पहचानना है।

| Matrix I आव्यूह - I | | | | | | Matrix II आव्यूह - II | | | | | |
|------------------------|---|---|---|---|---|--------------------------|---|---|---|---|---|
| | 0 | 1 | 2 | 3 | 4 | | 5 | 6 | 7 | 8 | 9 |
| 0 | H | J | F | F | I | 5 | Z | V | Q | Y | X |
| 1 | C | D | F | M | H | 6 | Y | U | W | V | X |
| 2 | B | H | D | A | B | 7 | V | Z | T | V | T |
| 3 | K | A | L | K | C | 8 | Y | P | R | W | W |
| 4 | F | J | I | F | J | 9 | N | R | P | T | X |

Options:

- 1) 33,86,33,78
- 2) 14,58,22,56
- 3) 30,42,32,77
- 4) 21,79,42,97

Correct Answer: 30,42,32,77



SSC EXAMS PRINTED STUDY NOTES

| | | |
|---|-------------------------|----------------------------|
| Study Material for SSC CGL (Tier-1) Examination | English | CLICK HERE |
| Study Kit for SSC CGL (Tier-2) Exam | English | CLICK HERE |
| Study Kit for SSC CHSL (10+2) Examination | English | CLICK HERE |
| Study Kit for SSC Stenographers (Grade 'C' & 'D') | English | CLICK HERE |
| Study Kit for Multitasking (Non-Technical) - MTS | English | CLICK HERE |
| Study Kit for SSC Constables (GD) Exam | English | CLICK HERE |
| Study Kit For SSC Sub-Inspectors in Delhi Police, CAPFs, CISF | English | CLICK HERE |
| Study Kit for SSC Junior Engineer Exam (Paper-1) | English | CLICK HERE |
| IAS EXAMS STUDY MATERIALS | | |
| Study Kit for IAS (Pre) GENERAL STUDIES Paper-1 (GS) | English | CLICK HERE |
| Study Kit for IAS (Pre) CSAT Paper-2(Aptitude) | English | CLICK HERE |
| सामान्य अध्ययन (GS) प्रारंभिक परीक्षा (Pre) पेपर-1 | हिन्दी | CLICK HERE |
| आई. ए. एस. (सी-सैट) प्रारंभिक परीक्षा पेपर -2 | हिन्दी | CLICK HERE |
| Gist of NCERT Study Kit For UPSC Exams | English | CLICK HERE |
| यूपीएससी परीक्षा के लिए एनसीईआरटी अध्ययन सामग्री | हिन्दी | CLICK HERE |