



एस.एस.सी. सीएचएसएल (टियर -1) परीक्षा पेपर 2018 "10 जुलाई 2019" दोपहर की पाली (तर्क शक्ति) SSC CHSL (Tier - 1) Online Exam Paper - 2018 "held on 10 July 2019" Afternoon Shift (Reasoning)

**Q1. उस समुच्चय को चुनें जिसमें संख्याएँ उसी तरह संबंधित हैं जैसे कि निम्नलिखित समुच्चय की संख्याएँ संबंधित हैं।
(15, 49, 151)**

Options:

1. (6, 18, 37)
2. (17, 55, 155)
3. (5, 19, 61)
4. (25, 79, 137)

Correct answer: (5, 19, 61)

Q2. उस संख्या-युग्म को चुनें जिसमें दो संख्याएँ उसी तरह संबंधित हैं जैसे कि निम्नलिखित संख्या-युग्म की दो संख्याएँ

संबंधित हैं।

8 : 72

Options:

1. 12 : 144
2. 15 : 625
3. 11 : 132
4. 13 : 156

Correct answer: 11 : 132

Q3. निम्नलिखित चार संख्याओं में से तीन संख्याएं एक निश्चित तरीके से एक जैसी हैं और एक अलग है। वह संख्या चुनें जो अन्य संख्याओं से अलग हैं।

Options:

1. 459
2. 189
3. 259
4. 639

Correct answer: 259

**Q4. निम्नलिखित श्रृंखला में प्रश्न चिन्ह (?) के स्थान पर कौन सा अक्षर-युग्म आएगा?
HE, ? , NK, TQ, BY**

Options:

1. JG
2. JH
3. IK
4. IG

Correct answer: JG

Q5. एक कोड भाषा में, ROCKET को TEKROC लिखा जाता है। उसी भाषा में DRIVER को कैसे लिखा जाएगा?

Options:

1. REUDRI
2. RFVDRI
3. REVDRI
4. REVDRJ

Correct answer: REVDRI

Q6. उस शब्द-युग्म को चुनें जिसमें दो शब्द उसी तरह संबंधित हैं जैसे निम्नलिखित शब्द-युग्म में दो शब्द संबंधित हैं।

मुंबई : राजधानी

Options:

1. येन : मुद्रा
2. पहाड़ी : ऊँची
3. दिल्ली : ताजमहल
4. न्यूयॉर्क : चीन

Correct answer: येन : मुद्रा

Q7. S बेटा है M का। R पिता है Q और A का। A बेटा है M की। A का S से क्या संबंध है?

Options:

1. चाची
2. बहन
3. बेटा
4. माता

Correct answer: बहन

Q8. यदि EAST को 180 के रूप में कोडबद्ध किया गया है और NORTH को 375 के रूप में कोडबद्ध किया गया है, तो उसी कोड भाषा में SOUTH को कैसे कोडबद्ध किया जाएगा?

Options:

1. 83
2. 415
3. 332
4. 625

Correct answer: 415

Q9. निम्नलिखित शब्दों को उसी तार्किक क्रम में लगाएँ जिस क्रम में वे अंग्रेजी शब्दकोश में आएँगे।

1. Jacklight
2. Jacket
3. Jade
4. Joker
5. Jampacked

Options:

1. 2, 3, 1, 4, 5
2. 1, 2, 3, 4, 5
3. 3, 1, 2, 5, 4
4. 2, 1, 3, 5, 4

Correct answer: 2, 1, 3, 5, 4

Q10. अगर 1 जनवरी 2017 को रविवार था, तो 31 दिसंबर 2017 को सप्ताह का कौन सा दिन था?

Options:

1. रविवार
2. सोमवार
3. शुक्रवार
4. मंगलवार

Correct answer: रविवार

**Q11. निम्नलिखित श्रृंखला में प्रश्न चिन्ह (?) के स्थान पर कौन-सी संख्या आएगी?
12, 22, 42, 72, ?**

Options:

1. 112
2. 102
3. 92
4. 122

Correct answer: 112

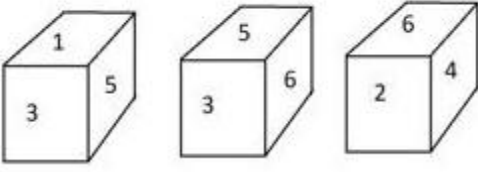
Q12. निम्नलिखित चार अक्षर-समूहों में से तीन अक्षर-समूह एक निश्चित तरीके से एक जैसे हैं और एक अलग है। उस अलग अक्षर समूह को चुनें ।

Options:

1. KOS
2. BFJ
3. DGL
4. MQU

Correct answer: DGL

Q13. एक पासे की तीन अलग अलग स्थितियाँ नीचे दिखाई गई हैं संख्या के सामने वाले फलक पर कौनसी संख्या आएगी?

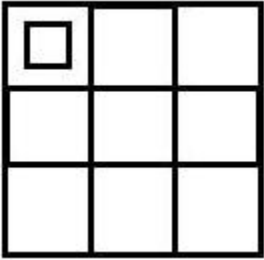


Options:

1. 4
2. 5
3. 3
4. 1

Correct answer: 1

Q14. नीचे दी गई आकृति में कितने वर्ग मौजूद हैं ?



Options:

1. 16
2. 15
3. 12
4. 10

Correct answer: 15

Q15. शहद' का संबंध 'मधुमक्खी' से उसी तरह है जैसे 'अंडे' का संबंध '_____ ' से है।

Options:

1. जर्दी
2. लार्वा

SSC CHSL (10+2) Printed Study Kit



- 100% CHSL Exam Syllabus Covered
- 5 Books, 1000+ Pages
- 4500+ MCQs
- Solved Papers & Mock Tests (PDF Copy)
- 1 Year Current Affairs (PDF Copy)

50% OFF
₹ 4,000/-
₹ **1,999/-**

FREE SHIPPING 

for Exam Help Call Us at: +91 8800734161

SSCPORTAL.IN

What you will get:

- 100% CHSL Exam Syllabus Covered
- 5 Booklets
- More Than 1000+ Pages
- 4500+ MCQs
- Previous Solved Papers
- Current Affairs for Exam
- Guidance & Support from Our Experts

Price of the Kit:

Rs. 4,000

Rs. 1,999/-

(Limited time Offer)



Net Banking

Order Online (100% Safe)

[Click here for Other Payment Options \(Cash/NEFT/etc\)](#)

[FOR MORE DETAILS CLICK HERE](#)



3. औओलोजी
4. पक्षी

Correct answer: पक्षी

**Q16. उस समुच्चय को चुनें जिसमें संख्याएँ उसी तरह संबंधित हैं जैसे कि निम्नलिखित समुच्चय की संख्याएँ संबंधित हैं।
(16, 64, 320)**

Options:

1. (15, 45, 180)
2. (15, 60, 310)
3. (10, 40, 200)
4. (25, 75, 125)

Correct answer: (10, 40, 200)

**Q17. निम्नलिखित समीकरण को सही बनाने के लिए इसमें किन दो चिन्हों को आपस में बदलना चाहिए?
 $35 + 7 - 5 \times 2 \div 25 = 20$**

Options:

1. + और -
2. + और ÷
3. × और -
4. × और ÷

Correct answer: + और ÷

Q18. निम्नलिखित चार शब्दों में से तीन शब्द निश्चित तरीके से एक जैसे हैं और एक अलग है। उस अलग शब्द को चुनें।

Options:

1. लेखन सामग्री (स्टेशनरी)
2. श्यामपट्ट (ब्लैक बोर्ड)
3. डस्टर
4. चाक

Correct answer: लेखन सामग्री (स्टेशनरी)

Q19. तीन कथन दिए गए हैं, जिनके बाद तीन निष्कर्ष I, II और III दिए गए हैं। कथनों को सत्य मानते हुए, भले ही वे आम तौर पर ज्ञात तथ्यों से अलग लगते हों, यह निर्णय लीजिए कि कौन सा/से निष्कर्ष, कथनों का तार्किक रूप से अनुसरण करता है/करते हैं।

कथन:

- सभी मुर्गियाँ अंडे हैं।
- कोई पक्षी अंडे नहीं हैं।
- सभी अंडे शेर हैं।

निष्कर्ष:

- I. सभी मुर्गियाँ शेर हैं।
- II. कुछ शेर मुर्गियाँ हैं।
- III. कोई अंडे पक्षी नहीं हैं।

Options:

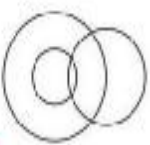

1. केवल निष्कर्ष I और II अनुसरण करते हैं।
2. केवल निष्कर्ष I अनुसरण करता है।
3. या तो निष्कर्ष II या III अनुसरण करते हैं।
4. सभी निष्कर्ष अनुसरण करते हैं।

Correct answer: सभी निष्कर्ष अनुसरण करते हैं।

Q20. उस वेण आरेख का चयन करें जो निम्नलिखित वर्गों के बीच के संबंध को सबसे अच्छा दर्शाता है।

फूल, गुलाब, पीला

options:



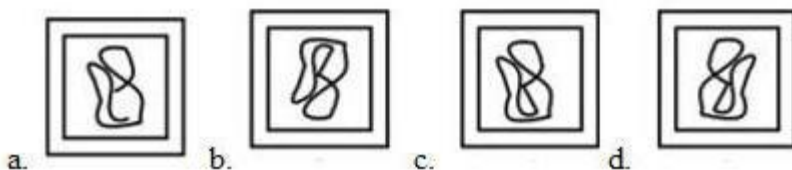
Correct answer:

Q21. उस विकल्प को चुनें जिसमें दी गयी आकृति अंतर्निहित है। (आकृति को घुमाने की अनुमति नहीं है)।



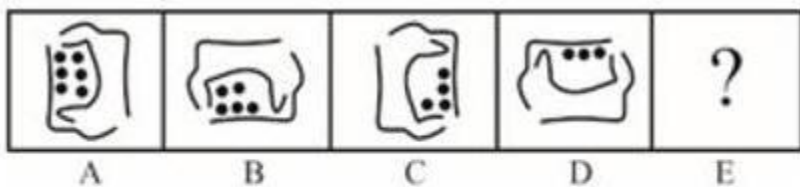
X

options:

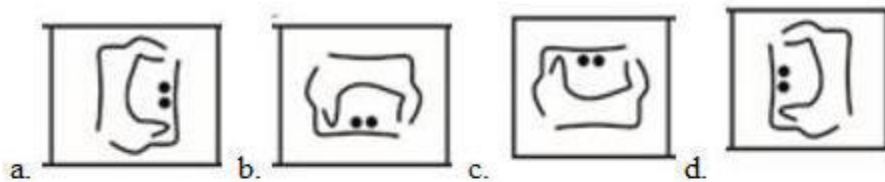


Correct answer:

Q22. उस उत्तर आकृति को चुनें हो नीचे दी गई समस्या आकृति श्रंखला में अगले स्थान पर आएगी



options:



Correct answer:

Q23. उस विकल्प को चुनें जो तीसरे अक्षर-युग्म से उसी तरह संबंधित है जैसे दूसरा अक्षर-युग्म पहले अक्षर-युग्म से संबंधित है।

GI : KN :: PQ : ?

Options:

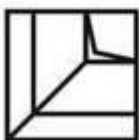
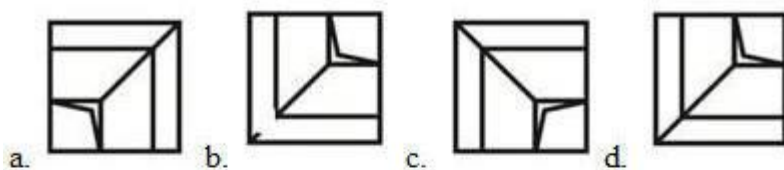
1. UV
2. TV
3. VT
4. TX

Correct answer: TV

Q24. अगर दर्पण को आकृति के बाईं ओर रखा जाए, तो दी गई आकृति की सही दर्पण छवि को चुनें ।



options:



Correct answer:

Q25. एक कागज को मोड़कर काट दिया जाता है, जैसा की नीचे दिखाया गया है जब इस कागज को खोला जाएगा तो यह कैसा दिखाई देगा?

SSC CHSL(10+2) परीक्षा अध्ययन सामग्री



- 100% CHSL Exam Syllabus Covered
- 5 Books, 900+ Pages
- 2500+ MCQs
- 1 Year Current Affairs (PDF Copy)
- Support & Guidance

50% OFF
₹ 4,000/-
₹ **1,999/-**

FREE SHIPPING

for Exam Help Call Us at: +91 8800734161

SSCPORTAL.IN

आप क्या प्राप्त करेंगे?

- माध्यम: हिन्दी
- 100 प्रतिशत पाठ्यक्रम
- 900 से अधिक पृष्ठ
- 2500 से अधिक वस्तुनिष्ठ प्रश्न
- कुल 5 पुस्तिकायें
- अध्यायवार M.C.Q
- गणित एवं तार्किक क्षमता को हल करने की सरल विधि
- 5 अभ्यास प्रश्न पत्र (PDF Copy)
- हमारे विशेषज्ञों द्वारा मार्गदर्शन और सहायता

Price of the Kit:

Rs. 4,200

Rs. 1,999/-

(Limited time Offer)

 Buy Online

VISA Maestro MasterCard RuPay

Net Banking

Order Online (100% Safe)


[Click here for Other Payment Options \(Cash/NEFT/etc\)](#)

FOR MORE DETAILS CLICK HERE

50% OFF



X



Y



Z

options:



a.



b.



c.



d.



Correct answer:



SSC EXAMS PRINTED STUDY NOTES

Study Material for SSC CGL (Tier-1) Examination	English	CLICK HERE
Study Kit for SSC CGL (Tier-2) Exam	English	CLICK HERE
Study Kit for SSC CHSL (10+2) Examination	English	CLICK HERE
Study Kit for SSC Stenographers (Grade 'C' & 'D')	English	CLICK HERE
Study Kit for Multitasking (Non-Technical) - MTS	English	CLICK HERE
Study Kit for SSC Constables (GD) Exam	English	CLICK HERE
Study Kit For SSC Sub-Inspectors in Delhi Police, CAPFs, CISF	English	CLICK HERE
Study Kit for SSC Junior Engineer Exam (Paper-1)	English	CLICK HERE
IAS EXAMS STUDY MATERIALS		
Study Kit for IAS (Pre) GENERAL STUDIES Paper-1 (GS)	English	CLICK HERE
Study Kit for IAS (Pre) CSAT Paper-2(Aptitude)	English	CLICK HERE
सामान्य अध्ययन (GS) प्रारंभिक परीक्षा (Pre) पेपर-1	हिन्दी	CLICK HERE
आई. ए. एस. (सी-सैट) प्रारंभिक परीक्षा पेपर -2	हिन्दी	CLICK HERE
Gist of NCERT Study Kit For UPSC Exams	English	CLICK HERE
यूपीएससी परीक्षा के लिए एनसीईआरटी अध्ययन सामग्री	हिन्दी	CLICK HERE