



कर्मचारी चयन आयोग
संयुक्त उच्चतर माध्यमिक स्तर परीक्षा

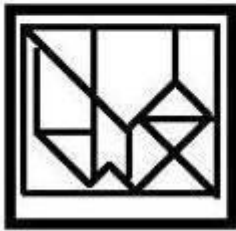
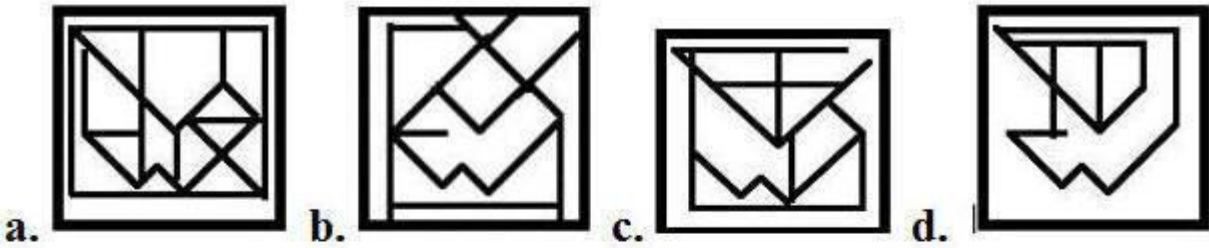
एस.एस.सी. सीएचएसएल (टियर -1) परीक्षा पेपर 2018 "08 जुलाई 2019" प्रथम की पाली (तर्क शक्ति) SSC CHSL (Tier - 1) Online Exam Paper - 2018 "held on 08 July 2019" Morning Shift (Reasoning)

Q1. उस विकल्प का चयन करें जिसमें चित्र-एक्स अंतर्निहित है। (आकृति को घुमाने की अनुमति नहीं है)



Figure-X

Options:



Correct answer:

Q2. निम्नलिखित गतिविधियों को एक तार्किक और सार्थक क्रम में व्यवस्थित करें।

1. विवाह सभागृह निश्चित करना
2. विवाह का दिन तय करना
3. मेहमानों को आमंत्रित करना
4. विवाह समारोह संपन्न होना
5. निमंत्रण कार्ड की छपाई करना

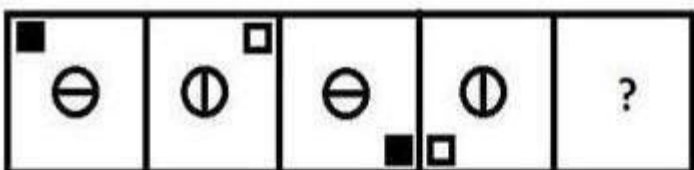
Options:

1. 2, 1, 5, 3, 4
2. 2, 1, 3, 4, 5

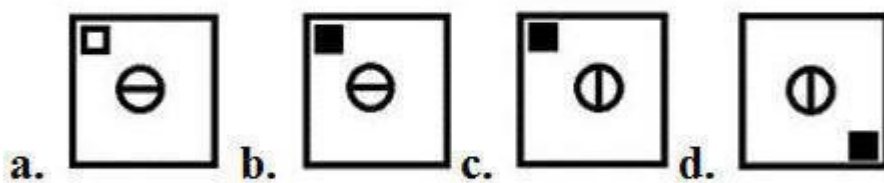
- 3. 2, 1, 3, 5, 4
- 4. 1, 2, 3, 5, 4

Correct answer: 2, 1, 5, 3, 4

Q3. उस आकृति का चयन करें जो नीचे दी गई आकृति श्रृंखला में अगले स्थान पर आएगी।

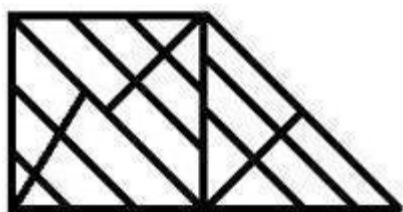


Options



Correct answer:

Q4. दी गई आकृति में कितने त्रिभुज मौजूद हैं?



Options:

- 1. 29
- 2. 30

- 3. 27
- 4. 28

Correct answer: 27

Q5. एक कोड भाषा में, CARNIVAL को LPYAJYTG के रूप में लिखा जाता है। उस भाषा में DISTANCE को कैसे लिखा जाएगा?

Options:

- 1. RQGBDAMY
- 2. RPGBCZLY
- 3. RQGBCALY
- 4. SQHBCALZ

Correct answer: RQGBCALY

Q6. निम्नलिखित चार शब्दों में से तीन शब्द एक निश्चित तरीके से एक जैसे हैं और एक अलग है। उस अलग शब्द को चुनिए।

Options:

- 1. विटामिन्स
- 2. ऊर्जा
- 3. कार्बोहाइड्रेट
- 4. प्रोटीन

Correct answer: ऊर्जा

Q7. ऐसे अक्षरों के संयोजन का चयन करें जो कि दी गई अक्षर श्रृंखला के रिक्त स्थानों में क्रमिक रूप से रखे जाने पर श्रृंखला

को पूरा करेगा।

t s m _ _ n q _ _ s m m n _ _ s t _ m m n _ q s

Options:

1. nmstnqns
2. mnstnqsn
3. mmstmqtn
4. mnstnqmn

Correct answer: mnstnqsn

Q8. उस शब्द-युग्म का चयन करें जिसमें दो शब्द उसी तरह से संबंधित हैं जैसे निम्नलिखित शब्द-युग्म में दो शब्द संबंधित हैं।

व्यायाम : स्वस्थता

Options:

1. उपचार : स्वास्थ्य लाभ
2. शौक : इंटरनेट
3. शिक्षा : संस्थान
4. एकता : युद्ध

Correct answer: उपचार : स्वास्थ्य लाभ

Q9. तीन मित्रों A, B और C के पास अलग-अलग राशि हैं। यदि B, A से ₹ 7 लेता है, तो B के पास C के बराबर राशि होगी। B और C के पास कुल मिला कर ₹ 157 हैं। C के पास कितने रुपये हैं?

Options:

1. 81
2. 82

3. 80
4. 83

Correct answer: 82

Q10. अगर एक दर्पण को आकृति के दाईं ओर रखा जाये तो दिए गए चित्र की सही दर्पण छवि का चयन करें।

GJ753fgQ

Options:

a. **Qgƒɛɹ∟∩** b. **Qgƒɛɹ∟∩**

c. **Qgƒɛɹ∟∩** d. **Ɔgƒɛɹ∟∩**

Qgƒɛɹ∟∩

Correct answer:

Q11. दो कथन दिए गए हैं, इसके बाद तीन निष्कर्ष I, II और III दिए गए हैं। कथनों को सत्य मानते हुए, भले ही वे आम तौर पर ज्ञात तथ्यों से अलग हों, यह निर्णय लीजिए कि कौन-सा/से निष्कर्ष कथनों का तार्किक रूप से अनुसरण करता है/करते हैं।

कथन:

सभी उपकरण पेचकस हैं।

सभी मशीनें उपकरण हैं।

निष्कर्ष:

I. कुछ पेचकस उपकरण हैं।

SSC CHSL (10+2) Printed Study Kit



FREE SHIPPING

- 100% CHSL Exam Syllabus Covered
- 5 Books, 1000+ Pages
- 4500+ MCQs
- Solved Papers & Mock Tests (PDF Copy)
- 1 Year Current Affairs (PDF Copy)

50% OFF
~~₹ 4,000/-~~
₹ 1,999/-

for Exam Help Call Us at: +91 8800734161

SSCPORTAL.IN

What you will get:

- 100% CHSL Exam Syllabus Covered
- 5 Booklets
- More Than 1000+ Pages
- 4500+ MCQs
- Previous Solved Papers
- Current Affairs for Exam
- Guidance & Support from Our Experts

Price of the Kit:

~~Rs. 4,000~~

Rs. 1,999/-
(Limited time Offer)

 Buy Online

VISA Maestro MasterCard RuPay

Net Banking

Order Online (100% Safe)

[Click here for Other Payment Options \(Cash/NEFT/etc\)](#)

[FOR MORE DETAILS CLICK HERE](#)

50% OFF

- II. कुछ पेचकस मशीन हैं।
- III. सभी उपकरण मशीन हैं।

Options:

- 1. केवल निष्कर्ष I और III अनुसरण करते हैं।
- 2. सभी निष्कर्ष अनुसरण करते हैं।
- 3. केवल निष्कर्ष II और III अनुसरण करते हैं।
- 4. केवल निष्कर्ष I और II अनुसरण करते हैं।

Correct answer: केवल निष्कर्ष I और II अनुसरण करते हैं।

Q12. उस समुच्चय का चयन करें जिसमें संख्याएँ उसी तरह से संबंधित हैं जैसे कि निम्नलिखित समुच्चय की संख्याएँ संबंधित हैं।

(8, 27, 64)

Options:

- 1. (343, 512, 729)
- 2. (125, 636, 864)
- 3. (216, 343, 529)
- 4. (49, 64, 81)

Correct answer: (343, 512, 729)

Q13. उस समुच्चय का चयन करें जिसमें संख्याएँ उसी तरह से संबंधित हैं जैसे कि निम्नलिखित समुच्चय की संख्याएँ संबंधित हैं।

(4, 41, 5)

Options:

- 1. (2, 21, 4)
- 2. (6, 85, 8)

3. (5, 61, 6)
4. (7, 81, 9)

Correct answer: (5, 61, 6)

Q14. निम्नलिखित में से कौन-सी चिह्न-श्रृंखला प्रश्न चिह्नों के स्थान पर रखने से दिए गए समीकरण को सही प्रकार से हल करेगी?

$$1105 ? 65 ? 835 ? 25 ? 5 = 727$$

Options:

1. $\times, -, +, \div$
2. $+, -, \times, \div$
3. $\div, +, -, \times$
4. $+, \div, -, \times$

Correct answer: $\div, +, -, \times$

Q15. उस विकल्प का चयन करें जो तीसरे अक्षर-समूह से उसी तरह संबंधित है जैसे दूसरा अक्षर-समूह पहले अक्षर-समूह से संबंधित है।

KSOE : MQQC :: ACZN : ?

Options:

1. CABK
2. DAFL
3. CBBL
4. CABL

Correct answer: CABL

Q16. यदि FINANCIAL को 695153913 के रूप में कोडबद्ध किया जाता है, तो LUCRATIVE को कैसे कोडबद्ध किया जाएगा?

Options:

1. 333912945
2. 333912955
3. 433922945
4. 343912945

Correct answer: 333912945

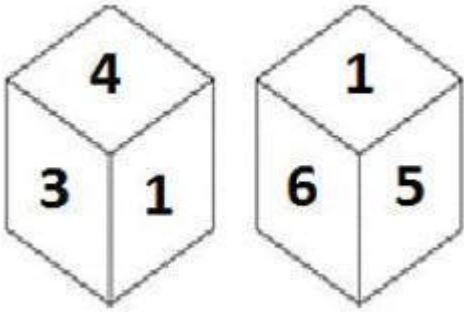
**Q17. निम्नलिखित श्रृंखला में कौन-सी संख्या प्रश्न चिह्न (?) के स्थान पर आएगी?
25, 42, 67, 101, 145, ?**

Options:

1. 199
2. 200
3. 202
4. 201

Correct answer: 200

Q18. एक ही पासे की दो अलग-अलग स्थितियों नीचे दर्शाया गया हैं, जिनके छह फलकों पर 1 से 6 संख्याएँ अंकित हैं। '1' संख्या वाले फलक के सामने वाली संख्या ज्ञात कीजिए।



Options:

1. 4
2. 5
3. 2
4. 3

Correct answer: 2

Q19. उस संख्या-युग्म का चयन करें जिसमें दो संख्याएँ उसी तरह से संबंधित हैं जैसे कि निम्नलिखित संख्या-युग्म की दो संख्याएँ संबंधित हैं।

12 : 102

Options:

1. 6 : 52
2. 16 : 218
3. 14 : 126
4. 8 : 68

Correct answer: 8 : 68

Q20. 'हार्ट' का संबंध 'परिसंचरण' से उसी तरह है जैसे 'फेफड़ों' का संबंध '_____ ' से है।

Options:

1. उत्सर्जन
2. पसलियाँ
3. श्वसन
4. ऑक्सीजन

Correct answer: श्वसन

Q21. निम्नलिखित चार संख्याओं में से तीन संख्या एक निश्चित तरीके से एक जैसे हैं और एक अलग है। उस अलग संख्या चयन कीजिए।

Options:

1. 191
2. 173
3. 171
4. 193

Correct answer: 171

Q22. $A + B$ का अर्थ है 'A माता है B की'

$A - B$ का अर्थ है 'A पति है B का'

$A \times B$ का अर्थ है 'A बेटा है B का'

$A \div B$ का अर्थ है 'A भाई है B का'

यदि $Q \div U \times K \times H - D + J$ है, तो K किस प्रकार संबंधित है J से?

Options:

1. बहन
2. पिता

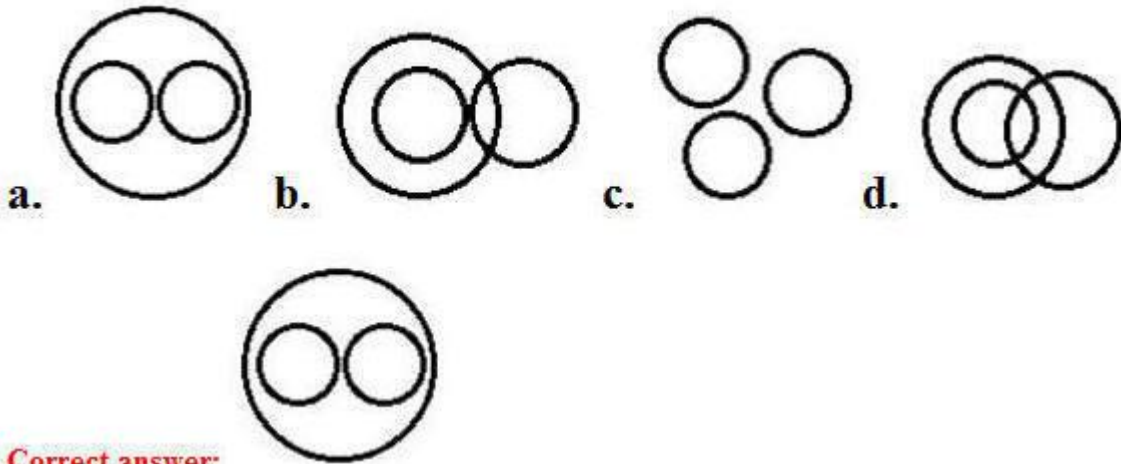
3. चाचा
4. भाई

Correct answer: भाई


Q23. उस वेन आरेख का चयन करें जो निम्नलिखित वग के बीच के संबंध को सबसे अच्छा दर्शाता है।

मोबाइल फोन, इलेक्ट्रॉनिक उपकरण, लैपटॉप

Options:



Correct answer:



Q24. निम्नलिखित चार अक्षर-समूहों में से तीन अक्षर-समूह एक निश्चित तरीके से एक जैसे हैं और एक अलग है। उस अलग अक्षर-समूह को चुनिए।

Options:

1. DFHJ
2. JLNP
3. BDGJ
4. VXZB

Correct answer: BDGJ

SSC CHSL(10+2) परीक्षा अध्ययन सामग्री



- 100% CHSL Exam Syllabus Covered
- 5 Books, 900+ Pages
- 2500+ MCQs
- 1 Year Current Affairs (PDF Copy)
- Support & Guidance

50% OFF
~~₹ 4,000/-~~
₹ 1,999/-

FREE SHIPPING 

for Exam Help Call Us at: +91 8800734161

 **SSCPORTAL.IN**

आप क्या प्राप्त करेंगे?

- माध्यम: हिन्दी
- 100 प्रतिशत पाठ्यक्रम
- 900 से अधिक पृष्ठ
- 2500 से अधिक वस्तुनिष्ठ प्रश्न
- कुल 5 पुस्तिकायें
- अध्यायवार M.C.Q
- गणित एवं तार्किक क्षमता को हल करने की सरल विधि
- 5 अभ्यास प्रश्न पत्र (PDF Copy)
- हमारे विशेषज्ञों द्वारा मार्गदर्शन और सहायता

Price of the Kit:

~~Rs. 4,200~~

Rs. 1,999/-

(Limited time Offer)

 **Buy Online**

Net Banking

Order Online (100% Safe)

[Click here for Other Payment Options \(Cash/NEFT/etc\)](#)

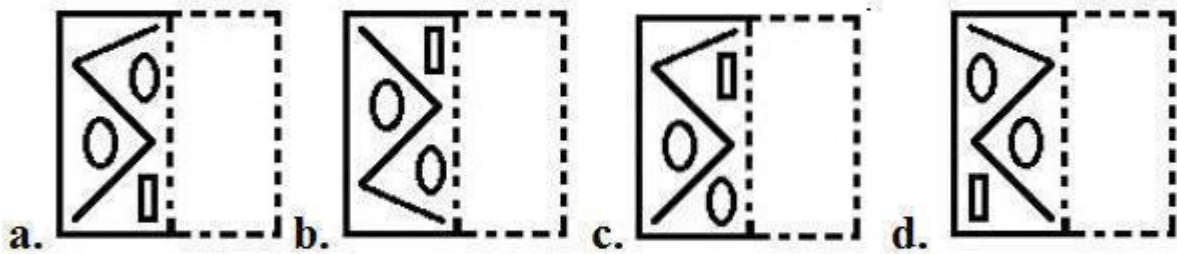
FOR MORE DETAILS CLICK HERE

50% OFF

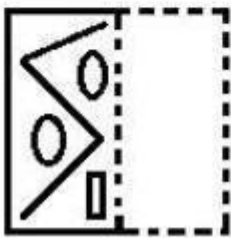
Q25. एक पारदश शीट का चित्र एक पैटर्न के साथ नीचे दिया गया है। उस विकल्प का चयन करें जो यह दिखाता है कि बिंदीदार रेखा पर पारदश शीट को मोड़ने पर पैटर्न कैसा दिखाई देगा।



Options :



Correct answer:





Study Material for SSC CGL (Tier-1) Examination	English	CLICK HERE
Study Kit for SSC CGL (Tier-2) Exam	English	CLICK HERE
Study Kit for SSC CHSL (10+2) Examination	English	CLICK HERE
Study Kit for SSC Stenographers (Grade 'C' & 'D')	English	CLICK HERE
Study Kit for Multitasking (Non-Technical) - MTS	English	CLICK HERE
Study Kit for SSC Constables (GD) Exam	English	CLICK HERE
Study Kit For SSC Sub-Inspectors in Delhi Police, CAPFs, CISF	English	CLICK HERE
Study Kit for SSC Junior Engineer Exam (Paper-1)	English	CLICK HERE
IAS EXAMS STUDY MATERIALS		
Study Kit for IAS (Pre) GENERAL STUDIES Paper-1 (GS)	English	CLICK HERE
Study Kit for IAS (Pre) CSAT Paper-2(Aptitude)	English	CLICK HERE
सामान्य अध्ययन (GS) प्रारंभिक परीक्षा (Pre) पेपर-1	हिन्दी	CLICK HERE
आई. ए. एस. (सी-सैट) प्रारंभिक परीक्षा पेपर -2	हिन्दी	CLICK HERE
Gist of NCERT Study Kit For UPSC Exams	English	CLICK HERE
यूपीएससी परीक्षा के लिए एनसीईआरटी अध्ययन सामग्री	हिन्दी	CLICK HERE