



कर्मचारी चयन आयोग
संयुक्त उच्चतर माध्यमिक स्तर परीक्षा

एस.एस.सी. सीएचएसएल (टियर -1) परीक्षा पेपर 2018 "04
जुलाई 2019" दोपहर की पाली (तर्क शक्ति) SSC CHSL (Tier -
1) Online Exam Paper - 2018 "held on 04 July 2019"
Afternoon Shift (Reasoning)

Q1. ऋषभ नमिता का इकलौता भाई है। ऋषभ की पत्नी मृदुका एक
भाई सोनू है। इलैना नमिता की इकलौती भतीजी है। सोनू इलैना से
किस प्रकार संबंधित है।

Options :

1. मामा
2. भाई
3. चाचा
4. पिता

Correct Answer: मामा

Q2. अक्षरों के उस संयोजन को चुनें जो दी गई अक्षर श्रृंखलाके रिक्त स्थानों में क्रमानुसार भरे जाने पर श्रृंखलाको पूरा करेगा।

U _ _ R P K Q _ U K D _ P K _ R _ K D R _ K _ R

Options :

1. KQPRQUPQ
2. KDRRUURQ
3. KDRRQUPQ
4. KDRRQPPR

Correct Answer: KDRRQUPQ

Q3. उस समुच्चय को चुनें जिसमें संख्याएँ उसी तरह संबंधित हैं जैसे कि निम्नलिखित समुच्चय की संख्याएँ संबंधित हैं।

8, 6, 28

Options :

1. 7, 2, 45
2. 12, 6, 98
3. 6, 4, 30
4. 10, 5, 85

Correct Answer: 7, 2, 45

Q4. निम्नलिखित चार शब्दों में से तीन शब्द एक निश्चित तरीके से एक जैसे हैं और एक अलग है। उस अलग शब्द को चुनें।

Options :

1. चप्पलें
2. जूते
3. सैंडल
4. कमीज़

Correct Answer: कमीज़

Q5. एक कोड भाषा में, 'HEDONISM' को 'QFGJOUKP' लिखा जाता है। उसी भाषा में 'PROFITED' को कैसे लिखा जाएगा?

Options :

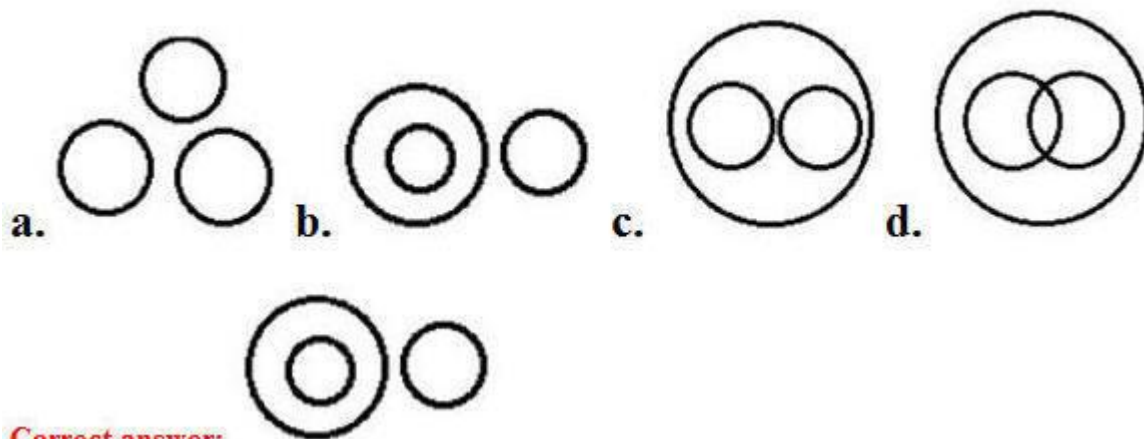
1. HQTRFGVK
2. GSQRFGUK
3. HQTSEFFVK
4. HQTREGVL

Correct Answer: HQTRFGVK

Q6. उस वेन आरेख का चयन करे जो निम्नलिखित वर्गों के बीच के सम्बन्ध को सबसे अच्छा दर्शाता है |

सिक्किम, मणिपुर, इम्फाल

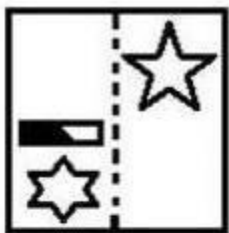
Options :



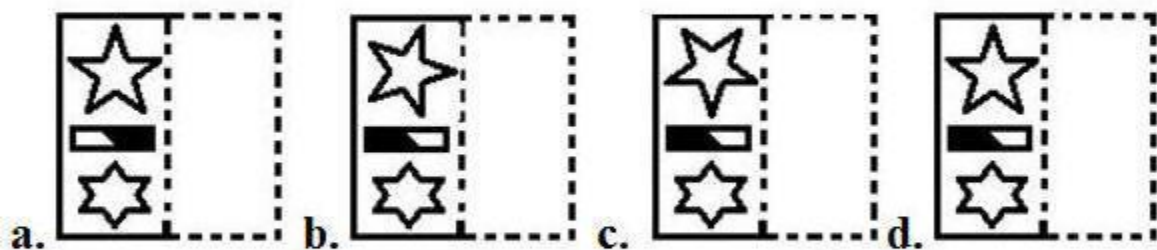
Correct answer:

Q7. एक पैटर्न वाली पारदर्शी शीट की आकृति नीचे दी गई है | ज्ञात करे कि दिए गए चार विकल्पों में से कौन-सा दिखता है

कि पारदर्शी शीट को बिंदीदार रेखा से मोड़ने पर पैटर्न कैसा दिखाई देगा ?



Options :



Correct answer:

Q8. निम्नलिखित चार अक्षर-समूहों में से तीन अक्षर समूह एक निश्चित तरीके से एक जैसे हैं और एक अलग है। उस अलग अक्षर समूह को चुनें।

Options :

1. DGMJ
2. KNTQ
3. PSZV
4. SVBY

SSC CHSL (10+2) Printed Study Kit



- 100% CHSL Exam Syllabus Covered
- 5 Books, 1000+ Pages
- 4500+ MCQs
- Solved Papers & Mock Tests (PDF Copy)
- 1 Year Current Affairs (PDF Copy)

50% OFF
₹ 4,000/-
₹ **1,999/-**

FREE SHIPPING 

for Exam Help Call Us at: +91 8800734161

 **SSCPORTAL.IN**
India's Largest Online Community for SSC CHSL Exam Preparation

What you will get:

- 100% CHSL Exam Syllabus Covered
- 5 Booklets
- More Than 1000+ Pages
- 4500+ MCQs
- Previous Solved Papers
- Current Affairs for Exam
- Guidance & Support from Our Experts

Price of the Kit:

~~Rs. 4,000~~

Rs. 1,999/-
(Limited time Offer)

 **Buy Online**

Net Banking

Order Online (100% Safe)

[Click here for Other Payment Options \(Cash/NEFT/etc\)](#)

[FOR MORE DETAILS CLICK HERE](#)

50% OFF

Correct Answer: PSZV

Q9. दो वर्ष पहले एक पुरुष अपने पुत्र की आयु से छह गुना बड़ा था। 18 वर्ष में, वह अपने पुत्र की आयु से दोगुना हो जाएगा। पुरुष और उसके पुत्र की वर्तमान आयु क्या है?

Options :

1. 32 और 13 वर्ष
2. 32 और 7 वर्ष
3. 34 और 9 वर्ष
4. 34 और 7 वर्ष

Correct Answer: 32 और 7 वर्ष

Q10. दिए गए समीकरण को सही करने के लिए किन दो संकेतों को आपस में बदलना होगा।

$$14 + 4 \div 5 - 18 \times 2 = 25$$

Options :

1. \times और $+$
2. \times और $-$
3. \div और $+$
4. \times और \div

Correct Answer: \times और \div

Q11. एक कोड भाषा में, COLD को ALHY के रूप में लिखा जाता है। तो उसी कोड भाषा में IRON को कैसे लिखा जाएगा?

Options :

1. FOKI
2. GOKI
3. GUKI
4. GPKI

Correct Answer: GOKI

Q12. उस शब्द-युग्म को चुनें जिसमें दो शब्द उसी तरह संबंधित हैं जैसे निम्नलिखित शब्द-युग्म में दो शब्द संबंधित हैं।

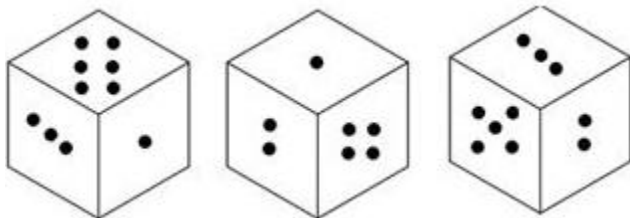
वेटर : परोसना

Options :

1. मैकेनिक : मरम्मत
2. वकील : कानूनी
3. इंजीनियर : तकनीकी
4. वास्तुकार : फैशन

Correct Answer: मैकेनिक : मरम्मत

Q13. एक ही पासे की तीन अलग-अलग स्थितिया दिखाई गई है | पासे के छह फलको पर एक से लेकर छह बिंदु हैं जब निचले फलक पर छह बिन्दुएँ होंगी, तो ऊपरी फलक पर कितनी बिन्दुएँ होंगी ?



Options :

1. 5

2. 2
3. 3
4. 4

Correct answer : 2

Q14. निम्नलिखित समीकरण को सही बनाने के लिए इसमें किन दो संख्याओं को आपस में बदलना चाहिए?

$$618 + 37 \times 12 - 703 \div 14 = 767$$

Options:

1. 703 और 12
2. 618 और 14
3. 12 और 37
4. 14 और 37

Correct Answer: 14 और 37

Q15. निम्नलिखित श्रृंखलामें अगले स्थान पर आने वाले विकल्प का चयन कीजिए।

FBA, IGE, LLI, OQM, ?

Options:

1. RUP
2. RVQ
3. RVP
4. QVQ

Correct Answer: RVQ

Q16. उस संख्या-युग्म को चुनें जिसमें दो संख्याएँ उसी तरह संबंधित हैं जैसे निम्नलिखित संख्या-युग्म की दो संख्याएँ संबंधित हैं।

4 : 49

Options:

1. 6 : 64
2. 7 : 100
3. 5 : 81
4. 8 : 144

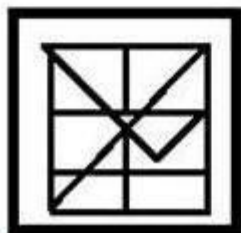
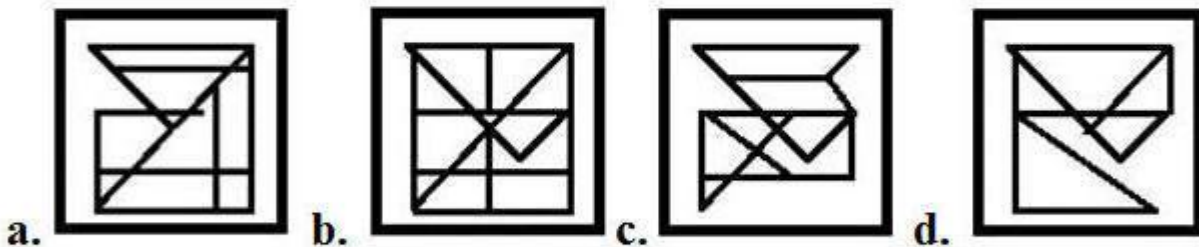
Correct Answer: 7 : 100

Q17. उस विकल्प को चुने जिसमें उसके एक भाग के रूप में नीचे दी गई आकृति अंतर्निहित है।



Figure-X

Options:



Correct answer:

Q18. नीचे दिए गई आकृति में कितने त्रिभुज मौजूद हैं?

SSC CHSL(10+2) परीक्षा अध्ययन सामग्री



- 100% CHSL Exam Syllabus Covered
- 5 Books, 900+ Pages
- 2500+ MCQs
- 1 Year Current Affairs (PDF Copy)
- Support & Guidance

50% OFF
~~₹ 4,000/-~~
₹ 1,999/-

FREE SHIPPING

for Exam Help Call Us at: +91 8800734161

SSCPORTAL.IN

आप क्या प्राप्त करेंगे?

- माध्यम: हिन्दी
- 100 प्रतिशत पाठ्यक्रम
- 900 से अधिक पृष्ठ
- 2500 से अधिक वस्तुनिष्ठ प्रश्न
- कुल 5 पुस्तिकाएँ
- अध्यायवार M.C.Q
- गणित एवं तार्किक क्षमता को हल करने की सरल विधि
- 5 अभ्यास प्रश्न पत्र (PDF Copy)
- हमारे विशेषज्ञों द्वारा मार्गदर्शन और सहायता

Price of the Kit:

~~Rs. 4,200~~

Rs. 1,999/-

(Limited time Offer)

 [Buy Online](#)

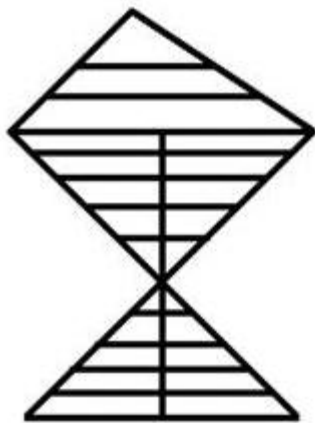
Net Banking

Order Online (100% Safe)


[Click here for Other Payment Options \(Cash/NEFT/etc\)](#)

FOR MORE DETAILS CLICK HERE

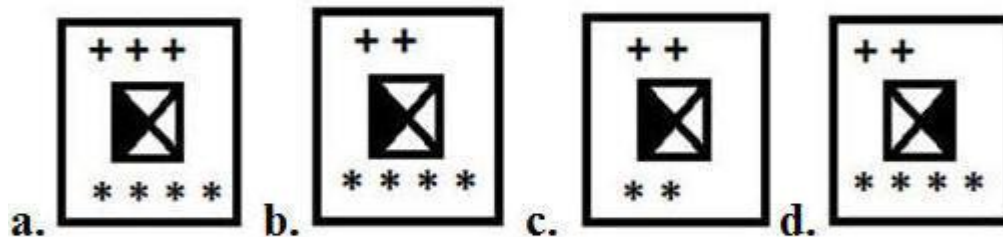
50% OFF



Q19. नीचे दी गई आकृति श्रृंखला में अगले स्थान पर आन वाली आकृति को चुने ।



Options :



Correct answer:

Q20. अगर 'TRANSFER' को '2018114196518' कोडबद्ध किया गया है, तो उसी भाषा में 'INCLUDED' को कैसे कोडबद्ध किया जाएगा?

Options:

1. 81431222353
2. 18231220454
3. 91331121454
4. 91431221454

Correct Answer: 91431221454

Q21. यदि 'E' को '5' के रूप में कोडबद्ध किया जाता है और 'PEN' को '35' के रूप में कोडबद्ध किया जाता है तो 'PAGE' को किस रूप में कोडबद्ध किया जाएगा?

Options:

1. 36
2. 27
3. 28
4. 29

Correct Answer: 29

**Q22. निम्नलिखित श्रृंखलामें कौन सी संख्या प्रश्न चिन्ह (?) के स्थान पर आएगी?
7, 11, ?, 31, 47**

Options:

1. 5
2. 55
3. 19
4. 29

Correct Answer: 19

Q23. निम्नलिखित वाक्यांशों के तार्किक और सार्थक क्रम को इंगित करने वाले सही विकल्प को चुनें।

1. दुनिया
2. मुंबई
3. गेटवे ऑफ इंडिया
4. एशिया
5. महाराष्ट्र
6. भारत

Options:

1. 3, 2, 5, 6, 1, 4
2. 3, 2, 5, 6, 4, 1
3. 3, 2, 5, 4, 6, 1
4. 3, 2, 6, 5, 4, 1

Correct Answer: 3, 2, 5, 6, 4, 1

Q24. निम्नलिखित चार संख्याओं में से तीन संख्याएं एक निश्चित तरीके से एक जैसी हैं और एक संख्या अलग है। वह संख्या चुनें जो अन्य संख्याओं से अलग है।

Options:

1. 97
2. 89
3. 83
4. 99

Correct Answer: 99

Q25. अगर दर्पण को दी गई आकृति के दाईं ओर रखा जाए, तो आकृति की सही दर्पण छवि को चुने।

Y R e d f 8 7 5

Options :

a. **5 7 8 f b e R Y**

b. **5 7 8 f p e R Y**

c. **5 7 8 f b e R Y**

d. **5 7 8 f b e R Y**

Correct answer: 5 7 8 f b e R Y



Study Material for SSC CGL (Tier-1) Examination	English	CLICK HERE
Study Kit for SSC CGL (Tier-2) Exam	English	CLICK HERE
Study Kit for SSC CHSL (10+2) Examination	English	CLICK HERE
Study Kit for SSC Stenographers (Grade 'C' & 'D')	English	CLICK HERE
Study Kit for Multitasking (Non-Technical) - MTS	English	CLICK HERE
Study Kit for SSC Constables (GD) Exam	English	CLICK HERE
Study Kit For SSC Sub-Inspectors in Delhi Police, CAPFs, CISF	English	CLICK HERE
Study Kit for SSC Junior Engineer Exam (Paper-1)	English	CLICK HERE
IAS EXAMS STUDY MATERIALS		
Study Kit for IAS (Pre) GENERAL STUDIES Paper-1 (GS)	English	CLICK HERE
Study Kit for IAS (Pre) CSAT Paper-2(Aptitude)	English	CLICK HERE
सामान्य अध्ययन (GS) प्रारंभिक परीक्षा (Pre) पेपर-1	हिन्दी	CLICK HERE
आई. ए. एस. (सी-सैट) प्रारंभिक परीक्षा पेपर -2	हिन्दी	CLICK HERE
Gist of NCERT Study Kit For UPSC Exams	English	CLICK HERE
यूपीएससी परीक्षा के लिए एनसीईआरटी अध्ययन सामग्री	हिन्दी	CLICK HERE