

Q.1 दिए गए चार शब्दों में से तीन किसी न किसी प्रकार संगत हैं और एक असंगत है। उस असंगत शब्द का चयन करें।

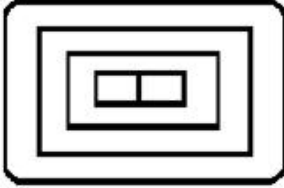
- Ans
- 1. फारेनहाइट
  - 2. केल्विन
  - 3. सेल्सियस
  - 4. पास्कल

Question ID : 8161613183

Status : Answered

Chosen Option : 4

Q.2 नीचे दी गई आकृति में आयतों की संख्या बताएं।



- Ans
- 1. 5
  - 2. 3
  - 3. 6
  - 4. 4

Question ID : 8161613187

Status : Answered

Chosen Option : 3

Q.3 दिए गए पैटर्न का ध्यानपूर्वक अध्ययन करें और उस संख्या का चयन करें जो इस में प्रश्न-चिह्न (?) के स्थान पर रखी जा सकती है।

2 10 18

3 30 84

4 68 ?

- Ans
- 1. 512
  - 2. 264
  - 3. 260
  - 4. 256

Question ID : 8161613170

Status : Answered

Chosen Option : 2

Q.4 दिए गए चार अक्षर-समूहों में से तीन किसी न किसी प्रकार संगत हैं और एक असंगत है। उस असंगत अक्षर-समूह का चयन करें।

- Ans
- 1. DHLN
  - 2. EIMQ
  - 3. BFJN
  - 4. CGKO

Question ID : 8161613182

Status : Answered

Chosen Option : 1

Q.5 उस संख्या का चयन करें जिसे निम्नलिखित श्रेणी में प्रश्न-चिह्न (?) के स्थान पर रखा जा सकता है।

0, 2, 10, 30, ?, 130, 222

- Ans
- 1. 72
  - 2. 64
  - 3. 68
  - 4. 60

Question ID : 8161613176

Status : Answered

Chosen Option : 3

Q.6 दिए गए पैटर्न का ध्यानपूर्वक अध्ययन करें और उस संख्या का चयन करें जो इसमें प्रश्न-चिह्न (?) के स्थान पर रखी जा सकती है।

9, 12, 48

17, 20, 80

33, 36, ?

- Ans
- 1. 118
  - 2. 110
  - 3. 144
  - 4. 120

Question ID : 8161613171

Status : Answered

Chosen Option : 3

Q.7 उन अक्षरों का चयन करें जो निम्नलिखित श्रेणी में आए प्रश्न-चिह्नों (?) के स्थान पर क्रमशः आएँगे।

AG, GL, MQ, S?, ?A

- Ans
- 1. T और Y
  - 2. V और Z
  - 3. V और Y
  - 4. U और Y

Question ID : 8161613179

Status : Answered

Chosen Option : 3

Q.8 दिए गए कथनों और निष्कर्षों को ध्यान से पढ़ें। यह मानते हुए कि कथनों में दी गई जानकारी सही है, भले ही वह आम तौर पर स्थापित तथ्यों से भिन्न दिखाई देती है, तय कीजिए कि कौन सा/से निष्कर्ष तर्कसंगत रूप से इन कथनों का अनुसरण करता/करते है/हैं।

कथन:

- I. सभी कीबोर्ड माउस हैं।
- II. कुछ माउस प्रिंटर हैं।

निष्कर्ष:

1. कोई प्रिंटर कीबोर्ड नहीं है।
2. कुछ प्रिंटर माउस हैं।
3. सभी प्रिंटर माउस हैं।
4. कोई कीबोर्ड प्रिंटर नहीं है।

- Ans
- 1. केवल निष्कर्ष 3 अनुसरण करता है।
  - 2. केवल निष्कर्ष 2 अनुसरण करता है।
  - 3. केवल निष्कर्ष 1 अनुसरण करता है।
  - 4. केवल निष्कर्ष 4 अनुसरण करता है।

Question ID : 8161613184

Status : Answered

Chosen Option : 2

Q.9 नीचे चार शब्द दिए गए हैं, जिनमें से तीन किसी न किसी प्रकार संगत हैं और एक असंगत है। उस असंगत शब्द का चयन करें।

- Ans
- 1. आलू
  - 2. गाजर
  - 3. मूली
  - 4. मटर

Question ID : 8161613181

Status : Answered

Chosen Option : 4

Q.10 उस सही विकल्प का चयन करें जो निम्नलिखित शब्दों को एक तार्किक और अर्थपूर्ण क्रम में व्यवस्थित करता है।

1. गेहूँ का पौधा
2. रोटी
3. बीज
4. आटा

- Ans
- 1. 3, 1, 4, 2
  - 2. 2, 1, 3, 4
  - 3. 1, 2, 4, 3
  - 4. 1, 3, 4, 2

Question ID : 8161613174

Status : Answered

Chosen Option : 4

Q.11 एक ही पासे की तीन अलग-अलग स्थितियाँ दर्शाई गई हैं। उस अक्षर का चयन करें जो 'f' वाले फलक के विपरीत फलक पर होगा।



- Ans
- 1. d
  - 2. a
  - 3. g
  - 4. h

Question ID : 8161613185

Status : Answered

Chosen Option : 2

Q.12 जय, उस गीतांजलि के पति हैं जो दीपाली की बहन हैं। दीपाली विजय की पुत्री है। सरिता रोहित की सास हैं। हरीश चंदर जय के पिता हैं और सरिता विजय की पत्नी हैं। विजय और सरिता की केवल दो पुत्रियाँ हैं। रोहित का विजय से क्या संबंध है?

- Ans
- 1. भाई
  - 2. पिता
  - 3. पुत्र
  - 4. दामाद

Question ID : 8161613180

Status : Answered

Chosen Option : 4

Q.13 निम्नलिखित समीकरण को संतुलित करने के लिए किन दो चिह्नों को आपस में बदलना होगा?

$$5 \times 4 + 12 - 3 \div 6 = 18$$

- Ans
- 1. + और -
  - 2. ÷ और ×
  - 3. × और +
  - 4. ÷ और -

Question ID : 8161613168

Status : Answered

Chosen Option : 4

Q.14 चार संख्या-युग्म दिए गए हैं जिन में से तीन किसी न किसी प्रकार संगत हैं और एक असंगत है। उस असंगत संख्या-युग्म का चयन करें।

- Ans
- 1. 182 : 13
  - 2. 156 : 12
  - 3. 309 : 17
  - 4. 132 : 11

Question ID : 8161613173

Status : Answered

Chosen Option : 3

Q.15 उस विकल्प का चयन करें जिसका तीसरी संख्या से वही संबंध है जो दूसरी संख्या का पहली संख्या से है।

6 : 252 :: 5 : ?

- Ans
- 1. 100
  - 2. 25
  - 3. 150
  - 4. 125

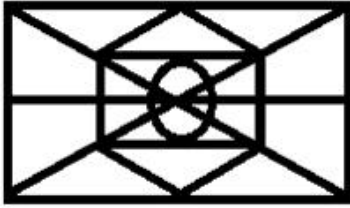
Question ID : 8161613169

Status : Answered

Chosen Option : 3

Q.16 उस विकल्प का चयन करें जो दिए गए चित्र में अंतर्निहित है।

(घुमाने की अनुमति नहीं)



Ans

- 1.
- 2.
- 3.
- 4.

Question ID : 8161613188

Status : Answered

Chosen Option : 1

Q.17 निम्नलिखित श्रेणी में अगले क्रम पर आने वाले पद का चयन करें।

EB, HC, KD, NE, QF, ?

- Ans
- 1. VH
  - 2. SG
  - 3. UH
  - 4. TG

Question ID : 8161613177

Status : Answered

Chosen Option : 4

Q.18 एक कंपनी में तीन विभाग हैं- IT, HR और हेल्पडेस्क। IT विभाग में 125 कर्मचारी हैं और HR विभाग में कर्मचारियों की संख्या IT के कुल कर्मचारियों का  $\frac{1}{5}$  भाग है। हेल्पडेस्क विभाग में IT और HR में काम कर रहे कुल कर्मचारियों से 20 कर्मचारी कम हैं। तीनों विभागों में काम करने वाले कर्मचारियों की कुल संख्या क्या है?

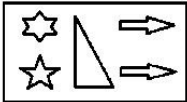
- Ans
- 1. 150
  - 2. 170
  - 3. 280
  - 4. 180

Question ID : 8161613167

Status : Answered

Chosen Option : 3

Q.19 दी गई आकृति की उस सही दर्पण-छवि का चुनाव करें जो आकृति के दाईं ओर दर्पण रखे जाने पर बनेगी?



Ans

- 1.
- 2.
- 3.
- 4.

Question ID : 8161613190

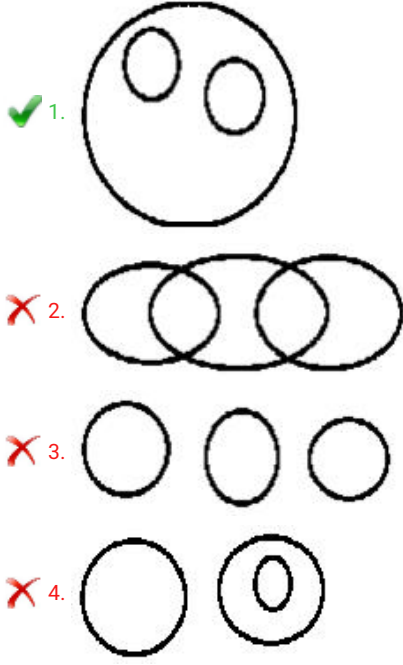
Status : Answered

Chosen Option : 3

Q.20 उस वेन आरेख का चयन करें जो दिए गए वर्गों के बीच संबंधों को सर्वोत्तम ढंग से दर्शाता है।

देवनागरी, हिंदी, संस्कृत

Ans



Question ID : 8161613191

Status : Answered

Chosen Option : 1

Q.21 उस विकल्प का चयन करें जिसका तीसरे पद से वही संबंध है जो दूसरे पद का पहले पद से है।

जूता : चमड़ा :: कागज : ?

Ans

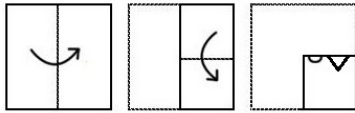
- ✗ 1. मुद्रक
- ✗ 2. प्लास्टिक
- ✗ 3. पुस्तक
- ✓ 4. लकड़ी

Question ID : 8161613178

Status : Answered

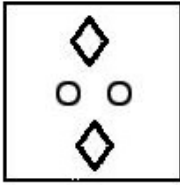
Chosen Option : 4

Q.22 दी गई आकृतियों में कागज को मोड़ने और मोड़े गए कागज को काटने का तरीका दर्शाया गया है। कागज को खोलने पर यह कैसा दिखाई देगा?

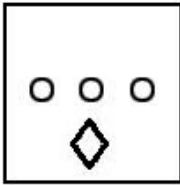


Ans


✗ 1.



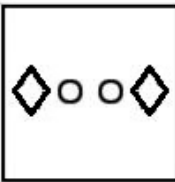
✗ 2.



✗ 3.



✓ 4.



Question ID : 8161613189

Status : Answered

Chosen Option : 4

Q.23 उस संख्या का चयन करें जो निम्नलिखित श्रेणी में अगले क्रम पर आएगी।

386, 401, 417, 434, ?

Ans

✗ 1. 552

✓ 2. 452

✗ 3. 351

✗ 4. 451

Question ID : 8161613172

Status : Answered

Chosen Option : 2



Q.24 उस पद का चयन करें जिसे निम्नलिखित श्रेणी में प्रश्नचिह्न (?) के स्थान पर रखा जा सकता है।

BK, FJ, JI, NH, ?, VF


- Ans
- 1. RE
  - 2. SE
  - 3. SG
  - 4. RG

Question ID : 8161613175

Status : Answered

Chosen Option : 4

Q.25 उस विकल्प-आकृति का चयन करें जो दी गई आकृति-श्रृंखला में रिक्त स्थान पर रखने पर उसे पूरा करेगी।



Ans

- 1.
- 2.
- 3.
- 4.

Question ID : 8161613186

Status : Answered

Chosen Option : 2