

Section : General Intelligence

Q.1 1 से 100 तक सभी प्राकृतिक संख्याओं को लिखते समय, हम कितनी बार 6 लिखते हैं?

- Ans
- 1. 21
 - 2. 19
 - 3. 20
 - 4. 18

Question ID : 4244291240
Status : Answered
Chosen Option : 2

Q.2 उस विकल्प का चयन करें, जिसका तीसरी संख्या से वही संबंध है जो दूसरी संख्या का पहली संख्या से है।

29 : 838 :: 14 : ?

- Ans
- 1. 199
 - 2. 193
 - 3. 196
 - 4. 195

Question ID : 4244291242
Status : Answered
Chosen Option : 2

Q.3 चार अक्षर-समूह दिए गए हैं, जिनमें से तीन किसी न किसी तरह से संगत हैं और एक असंगत है। असंगत अक्षर-समूह का चयन करें।

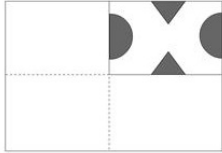
- Ans
-  1. FX
 -  2. ET
 -  3. CK
 -  4. DP

Question ID : 4244291255

Status : Not Answered

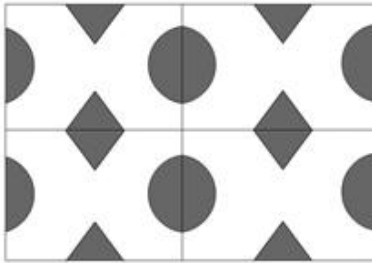
Chosen Option : --

Q.4 नीचे दी गई आकृतियों में कागज के एक टुकड़े को मोड़ने का क्रम और काटने की विधि दर्शाई गई है। यह कागज खोलने पर कैसा दिखाई देगा?




Ans

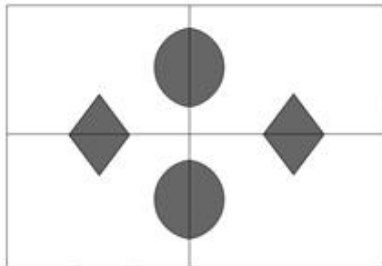
✓ 1.



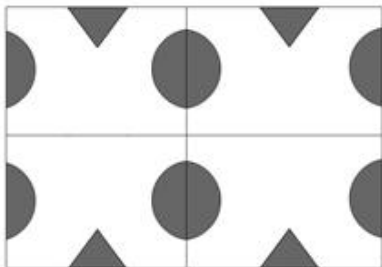
✗ 2.



✗ 3.



✗ 4.



Question ID : 4244291262

Status : Answered

Chosen Option : 1

Q.5 दिए गए पैटर्न का ध्यानपूर्वक अध्ययन करें और उस संख्या का चयन करें जिससे प्रश्न चिह्न (?) को बदला जा सकता है।

4 (15) 1; 7 (22) 3; ? (57) 4

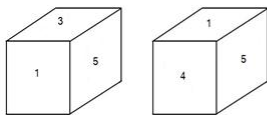
- Ans
- 1. 16
 - 2. 11
 - 3. 12
 - 4. 14

Question ID : 4244291247

Status : Answered

Chosen Option : 2

Q.6 एक ही पासे की दो भिन्न-भिन्न स्थितियों को दर्शाया गया है। उस संख्या का चयन करें, जो संख्या 4 वाले फलक के विपरीत फलक पर होगी।



- Ans
- 1. 2
 - 2. 1
 - 3. 3
 - 4. 6

Question ID : 4244291258

Status : Answered

Chosen Option : 3

Q.7 दिए गए कथनों और निष्कर्षों को ध्यान से पढ़ें। यह मानते हुए कि कथनों में दी गई जानकारी सही है, भले ही वह आम तौर पर स्थापित तथ्यों से भिन्न दिखाई देती है, तय कीजिए कि कौन सा/से निष्कर्ष तर्कसंगत रूप से इन कथनों का अनुसरण करता है/करते हैं।

कथन:

1. अधिकांश शिक्षक महिलाएं हैं।
2. कुछ महिलाएं प्रबंधक हैं।

निष्कर्ष:

- I. कुछ प्रबंधक महिलाएं हैं।
- II. कुछ शिक्षक प्रबंधक हैं।

- Ans
- 1. निष्कर्ष I और II दोनों अनुसरण करते हैं।
 - 2. केवल निष्कर्ष I अनुसरण करता है।
 - 3. ना तो निष्कर्ष I अनुसरण करता है और ना ही II अनुसरण करता है।
 - 4. केवल निष्कर्ष II अनुसरण करता है।

Question ID : 4244291257

Status : Answered

Chosen Option : 1

Q.8 किसी निश्चित कूट भाषा में, VICTORY को XGERQPA लिखा जाता है। उसी भाषा में KINDLE को क्या लिखा जाएगा?

- Ans
- 1. IKLFJG
 - 2. BEDRVH
 - 3. MGPBNC
 - 4. SOWNEQ

Question ID : 4244291248
Status : Answered
Chosen Option : 3

Q.9 उस अक्षर-समूह का चयन करें, जो निम्नलिखित श्रेणी में प्रश्न चिह्न (?) के स्थान पर आ सकता है।
BDF, DHL, FLR, ?

- Ans
- 1. HPX
 - 2. HPY
 - 3. HOX
 - 4. IQY

Question ID : 4244291252
Status : Answered
Chosen Option : 1

Q.10 किसी निश्चित कूट भाषा में, PARK को 6739, ROAD को 3574, POND को 6584 और LANE को 2781 लिखा जाता है। उसी भाषा में LORD को क्या लिखा जाएगा?

- Ans
- 1. 7432
 - 2. 5213
 - 3. 5304
 - 4. 2534

Question ID : 4244291249
Status : Answered
Chosen Option : 4

Q.11 निम्नलिखित में से कौन-सा विकल्प निम्नलिखित गुण वाले संख्या त्रय(number triad) का उदाहरण नहीं है?

1. तीसरी संख्या के अंकों का योगफल पहली संख्या के अंकों के योगफल का दोगुना होता है।
2. दूसरी संख्या के अंकों का योगफल पहली संख्या के अंकों के योगफल का तीन गुना होता है।

- Ans
- 1. (400, 660, 800)
 - 2. (200, 600, 300)
 - 3. (201, 702, 303)
 - 4. (111, 207, 222)

Question ID : 4244291244
Status : Answered
Chosen Option : 2

Q.12 चार शब्द दिए गए हैं, जिनमें से तीन किसी न किसी तरह से संगत हैं और एक असंगत है। असंगत शब्द का चयन करें।

- Ans
- 1. फ्लोरीन
 - 2. आयोडीन
 - 3. ब्रोमीन
 - 4. आयरन

Question ID : 4244291256
Status : Answered
Chosen Option : 4

Q.13 A और B, C के भाई हैं। B, D और E का पुत्र है। D, F की पुत्री है। P, E का ससुर है। Q, F का पुत्र है। A का P से क्या संबंध है?

- Ans
- 1. पुत्री
 - 2. पिता
 - 3. नाती
 - 4. पुत्र

Question ID : 4244291253
Status : Answered
Chosen Option : 3

Q.14 उस विकल्प का चयन करें, जिसका तीसरे शब्द से वही संबंध है, जो दूसरे शब्द का पहले शब्द से है।
मलेरिया : परजीवी :: पेट का अल्सर : ?

- Ans
- 1. प्रोटोजोआ
 - 2. परजीवी
 - 3. कीट
 - 4. बैक्टीरिया

Question ID : 4244291254
Status : Marked For Review
Chosen Option : 1

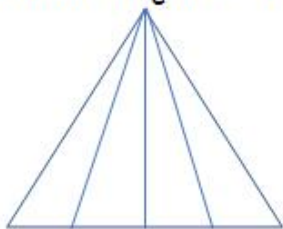
Q.15 वह संख्या ज्ञात करें, जो निम्नलिखित श्रेणी से संबंधित नहीं है।

1, 4, 9, 15, 25, 36

- Ans
- 1. 25
 - 2. 4
 - 3. 9
 - 4. 15

Question ID : 4244291246
Status : Answered
Chosen Option : 4

Q.16 निम्नलिखित आकृति में त्रिभुजों की संख्या ज्ञात करें।



- Ans
- 1. 14
 - 2. 12
 - 3. 8
 - 4. 10

Question ID : 4244291260
Status : Answered
Chosen Option : 4

Q.17 चार संख्या त्रय (number triad) दी गई हैं, जिनमें से तीन किसी न किसी तरह से संगत हैं और एक असंगत है। असंगत संख्या त्रय (number triad) का चयन करें।

- Ans
- 1. (326, 654, 981)
 - 2. (291, 438, 657)
 - 3. (273, 546, 819)
 - 4. (192, 384, 576)

Question ID : 4244291243
Status : Not Answered
Chosen Option : --

Q.18 चिह्न '+' और 'x' और संख्या '4' और '8' को आपस में बदलने पर प्राप्त होने वाले संतुलित समीकरण का चयन करें।

- Ans
- 1. $2 \times 4 + 8 = 34$
 - 2. $12 \times 4 + 8 = 34$
 - 3. $6 + 8 \times 4 = 38$
 - 4. $4 + 8 \times 2 = 32$

Question ID : 4244291241
Status : Answered
Chosen Option : 1

Q.19 निम्नलिखित श्रेणी में प्रश्न-चिह्न (?) के स्थान पर आने वाली संख्या का चयन करें।

6, 10, 18, 34, ?

- Ans
- 1. 64
 - 2. 66
 - 3. 68
 - 4. 70

Question ID : 4244291245
Status : Answered
Chosen Option : 2

Q.20 जो संबंध 'निकट दृष्टि दोष' का 'आंख' से है, वही 'पायरिया' का '_____' से है।

- Ans
- 1. मसूड़े
 - 2. फेफड़ा
 - 3. अमाशय
 - 4. मस्तिष्क

Question ID : 4244291251
Status : Answered
Chosen Option : 1

Q.21 आकृति के दाईं ओर दर्पण रखे जाने पर दी गई आकृति का सही दर्पण प्रतिबिंब कौन सा होगा?

SEA

Ans

✓ 1.

A \overline{E} S

✗ 2.

AES

✗ 3.

SE \overline{A}

✗ 4.


A \overline{E} S

Question ID : 4244291263

Status : Answered

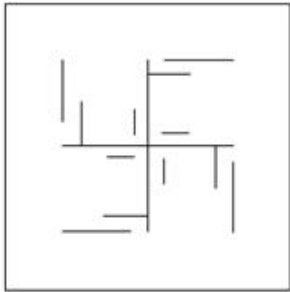
Chosen Option : 1

Q.22 उस विकल्प का चयन करें, जिसमें दी गई आकृति अंतर्निहित (embedded) है। (घुमाने की अनुमति नहीं है)

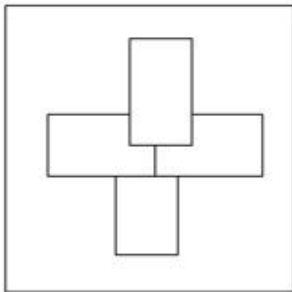


Ans

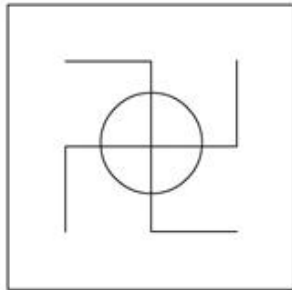
✗ 1.



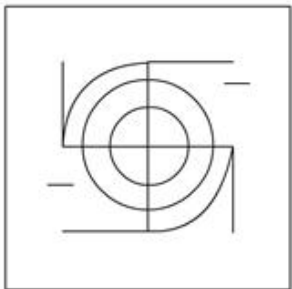
✗ 2.



✗ 3.

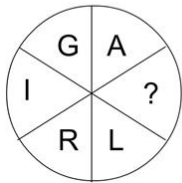


✓ 4.



Question ID : 4244291261
Status : Answered
Chosen Option : 4

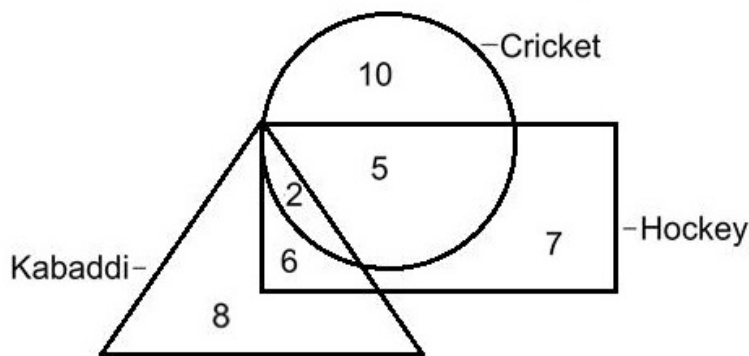
Q.23 दिए गए पैटर्न का ध्यानपूर्वक अध्ययन करें और उस अक्षर का चयन करें, जो इसमें प्रश्न चिह्न (?) के स्थान पर आ सकता है।



- Ans
- 1. S
 - 2. J
 - 3. R
 - 4. K

Question ID : 4244291250
 Status : Not Answered
 Chosen Option : --

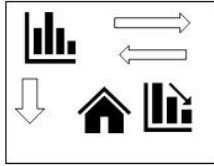
Q.24 निम्नलिखित आरेख को ध्यान से देखें और दिए गए प्रश्न का उत्तर दें।
 उन छात्रों की संख्या ज्ञात करें, जो तीन में से कोई दो खेल खेलते हैं।



- Ans
- 1. 13
 - 2. 9
 - 3. 15
 - 4. 11

Question ID : 4244291264
 Status : Answered
 Chosen Option : 4

Q.25 आकृति के दाईं ओर दर्पण रखे जाने पर दी गई आकृति का सही दर्पण प्रतिबिंब कौन सा होगा?

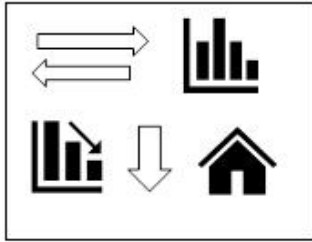


Ans

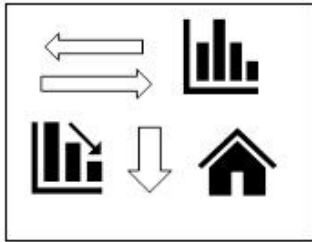
✓ 1.



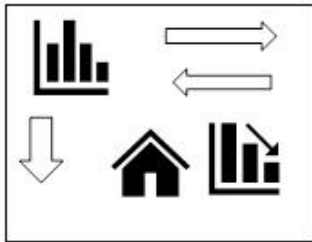
✗ 2.



✗ 3.



✗ 4.



Question ID : 4244291259

Status : Answered

Chosen Option : 1