

Section : General Intelligence

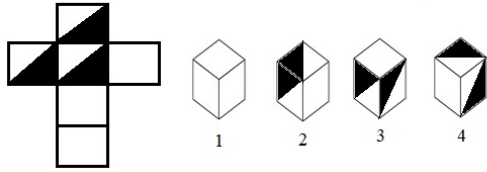
Q.1 उस विकल्प का चयन करें जिसका तीसरी संख्या से वही संबंध है जो दूसरी संख्या का पहली संख्या से है।

14 : 182 :: 22 : ?

- Ans
- 1. 244
 - 2. 444
 - 3. 482
 - 4. 462

Question ID : 4244291344
Status : Answered
Chosen Option : 4

Q.2 उस आकृति (1 से 4 आकृतियों में से) का चयन कीजिए जिसे दी गई शीट को रेखाओं पर मोड़कर बनाया जा सकता है।



- Ans
- 1. केवल आकृतियां 3 और 4
 - 2. केवल आकृति 4
 - 3. केवल आकृतियां 1 और 2
 - 4. केवल आकृति 2

Question ID : 4244291359

Status : Not Answered

Chosen Option : --

Q.3 एक कूट भाषा में 'MENTION' को 'NEITNOM' लिखा जाता है। उसी भाषा में 'PATTERN' को क्या लिखा जाएगा?

- Ans
- 1. LSOIANN
 - 2. NAETTRP
 - 3. DOEECTS
 - 4. RESWNDU

Question ID : 4244291351

Status : Answered

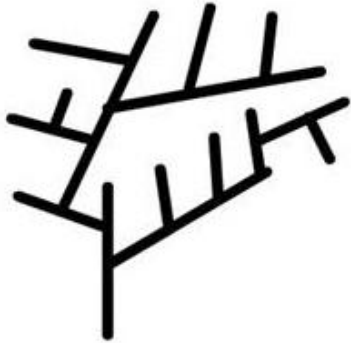
Chosen Option : 2

Q.4 उस विकल्प का चयन कीजिए जिसमें दी गई आकृति अंतर्निहित है। (घुमाने की अनुमति नहीं है)



Ans


X 1.



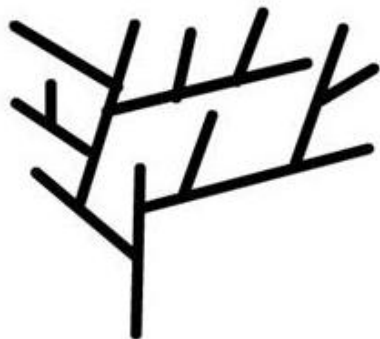
X 2.



✓ 3.



X 4.



Question ID : 4244291362

Status : Answered

Chosen Option : 3

Q.5 उस संख्या को पहचानें जो निम्नलिखित श्रेणी से संबंधित नहीं है।

81, 54, 36, 27, 22

- Ans
- 1. 54
 - 2. 22
 - 3. 27
 - 4. 36

Question ID : 4244291347
Status : Answered
Chosen Option : 2

Q.6 एक निश्चित कूट भाषा में 'DEAF' को 'HJGM' लिखा जाता है। उसी भाषा में 'CALM' को क्या लिखा जाएगा?

- Ans
- 1. G C Y Z
 - 2. G F R T
 - 3. F B X Y
 - 4. E B X Y

Question ID : 4244291349
Status : Answered
Chosen Option : 2

Q.7 संख्याओं के चार समुच्चय दिए गए हैं, जिनमें से तीन किसी न किसी तरह से समान हैं और एक असंगत है। उस असंगत समुच्चय का चयन करें।

- Ans
- 1. (84, 116, 181)
 - 2. (44, 89, 179)
 - 3. (71, 108, 182)
 - 4. (35, 81, 173)

Question ID : 4244291345
Status : Not Answered
Chosen Option : --

Q.8 चार शब्द दिए गए हैं, जिनमें से तीन किसी न किसी तरह से संगत हैं और एक असंगत है। उस असंगत शब्द का चयन करें।

- Ans
- 1. नाभिकीय ईंधन
 - 2. प्राकृतिक गैस
 - 3. कोयला
 - 4. जैवभार

Question ID : 4244291357
Status : Answered
Chosen Option : 3

Q.9 निम्नलिखित श्रेणी में प्रश्न-चिह्न (?) के स्थान पर आनेवाली संख्या का चयन करें।

2, 3, 6, 15, ?, 157.5, 630

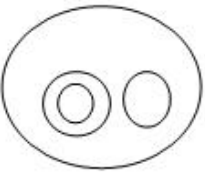
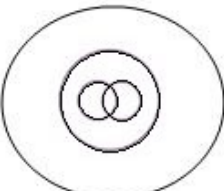
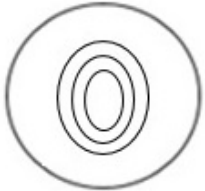
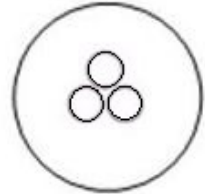
- Ans
- 1. 48
 - 2. 54
 - 3. 49
 - 4. 45

Question ID : 4244291346
Status : Answered
Chosen Option : 4

Q.10 उस वेन आरेख का चयन कीजिए जो दिए गए वर्गों के मध्य संबंधों का सर्वश्रेष्ठ निरूपण करता है।

भौतिक विज्ञान, विज्ञान, जीवविज्ञान, जंतुविज्ञान

Ans

- 1. 
- 2. 
- 3. 
- 4. 

Question ID : 4244291365
Status : Answered
Chosen Option : 1

Q.11 निम्नलिखित शब्दों के सही क्रम का चयन कीजिए (किसी फूल के भीतर से बाहर के प्रजनन तंत्र पर आधारित)।

1. अंडाशय
2. वर्तिकाग्र
3. बीजांड
4. पंखुड़ी

- Ans
- 1. 2, 1, 3, 4
 - 2. 4, 3, 2, 1
 - 3. 3, 2, 1, 4
 - 4. 3, 1, 2, 4

Question ID : 4244291348
Status : Answered
Chosen Option : 4

Q.12 एक निश्चित कूट भाषा में 'BOOK' को 139 और 'PEN' को 302 लिखा जाता है। उसी भाषा में 'COPY' को क्या लिखा जाएगा?

- Ans
- 1. 167
 - 2. 2822
 - 3. 279
 - 4. 2547

Question ID : 4244291350
Status : Not Answered
Chosen Option : --

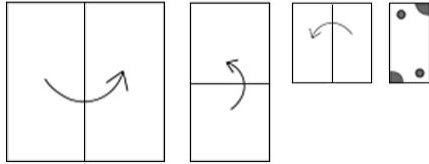
Q.13 उस विकल्प आकृति का चयन कीजिए जो निम्न श्रृंखला में प्रश्नवाचक चिह्न के स्थान पर आ सकती है।



- Ans
- 1. ● ○ ● ● ● ○ ● ● ●
 - 2. ● ○ ● ○ ● ○ ● ○ ●
 - 3. ● ○ ● ○ ● ○ ● ○ ○
 - 4. ● ○ ● ○ ● ○ ● ● ○


Question ID : 4244291360
Status : Answered
Chosen Option : 2

Q.14 नीचे दी गई आकृतियों में कागज के एक टुकड़े को मोड़ने का क्रम और काटने का तरीका दिखाया गया है। यह कागज खोलने पर कैसा दिखाई देगा?




Ans


✗ 1.




✓ 2.



✗ 3.



✗ 4.



Question ID : 4244291363

Status : Answered

Chosen Option : 4

Q.15 उस विकल्प का चयन करें जिसमें शब्दों का आपस में वही संबंध है जो दिए गए शब्द-युग्म के शब्दों के बीच है।

दूरी : किलोमीटर

- Ans
- 1. आयतन : लीटर
 - 2. बुशेल : मक्का
 - 3. ख्याति : टेलीविज़न
 - 4. भार : पैमाना

Question ID : 4244291355
Status : Answered
Chosen Option : 3

Q.16 उस विकल्प का चयन करें जिसका तीसरी संख्या से वही संबंध है जो दूसरी संख्या का पहली संख्या से है।

132 : 156 :: 462 : ?

- Ans
- 1. 503
 - 2. 506
 - 3. 505
 - 4. 484

Question ID : 4244291343
Status : Answered
Chosen Option : 2

Q.17 G is the grandfather of S. B has only two sons E and F. A and B are the only sons of G. Who is the father of S?

- Ans
- 1. B
 - 2. E
 - 3. A
 - 4. F

Question ID : 4244291354
Status : Answered
Chosen Option : 3

Q.18 चार अक्षर-समूह दिए गए हैं, जिनमें से तीन किसी न किसी तरह से संगत हैं और एक असंगत है। उस असंगत अक्षर-समूह का चयन कीजिए।

- Ans
- 1. HGIFJ
 - 2. TUSVR
 - 3. DCEBF
 - 4. RQSPT

Question ID : 4244291356
Status : Answered
Chosen Option : 2

Q.19 दिए गए कथनों को ध्यान से पढ़ें। कथनों में दी गई जानकारी को सही मानते हुए बताइए कि इन कथनों के आधार पर कौन सा निष्कर्ष सही है।

कथन :

1. राम सोमवार को गणित की कक्षा में जाता है।
2. वह शुक्रवार को साहित्य की कक्षा में जाता है।
3. वह जिस दिन इतिहास की कक्षा में जाता है उससे ठीक पहले वाले दिन वह गिटार की कक्षा में जाता है।
4. वह साहित्य की कक्षा में जाने से 2 दिन पहले इतिहास की कक्षा में जाता है।

- Ans
- 1. राम इतिहास की कक्षा में शनिवार को जाता है।
 - 2. राम रविवार को गिटार की कक्षा में जाता है।
 - 3. राम शनिवार को गिटार की कक्षा में जाता है।
 - 4. राम मंगलवार को गिटार की कक्षा में जाता है।

Question ID : 4244291358

Status : Answered

Chosen Option : 4

Q.20 अक्षरों के उस संयोजन का चयन करें जिसे दी गई अक्षर-श्रृंखला में क्रमिक रूप से रखने पर श्रृंखला पूरी हो जाएगी।

a b b _ b _ _ b a b _ _ b a b b b b _ _

- Ans
- 1. a b b a a b b
 - 2. a b b a b a b
 - 3. a b b a a a b
 - 4. b a b b a a b

Question ID : 4244291353

Status : Not Answered

Chosen Option : --

Q.21 निम्नलिखित समीकरण में 'a + b' का मान कितना होगा?

$$[4(3 + \{9 \times 6 \div 3 + \{12 \div (1 \div 1 \times 3)\})] = 5^a \times 2^b$$

- Ans
- 1. 5
 - 2. 7
 - 3. 4
 - 4. 6

Question ID : 4244291342

Status : Answered

Chosen Option : 3

Q.22 उस विकल्प का चयन करें, जिसका तीसरे शब्द से वही संबंध है, जो दूसरे शब्द का पहले शब्द से है।

सबसे लंबा दिन : जून :: सबसे छोटा दिन : ?

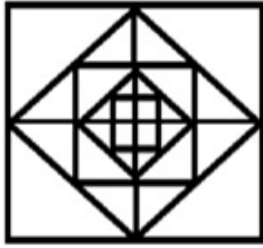
- Ans
- 1. जनवरी
 - 2. फरवरी
 - 3. नवंबर
 - 4. दिसंबर

Question ID : 4244291352

Status : Answered

Chosen Option : 4

Q.23 दी गई आकृति में वर्गों की संख्या बताइए।



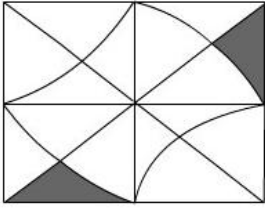
- Ans
- 1. 16
 - 2. 17
 - 3. 12
 - 4. 13

Question ID : 4244291361

Status : Answered

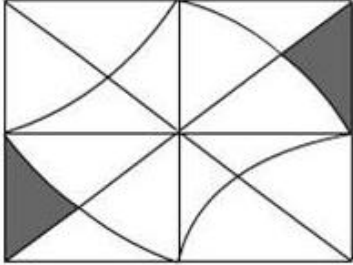
Chosen Option : 2

Q.24 दी गई आकृति के दाईं ओर दर्पण रखे जाने पर, उसका सही प्रतिबिंब कौन सा होगा?

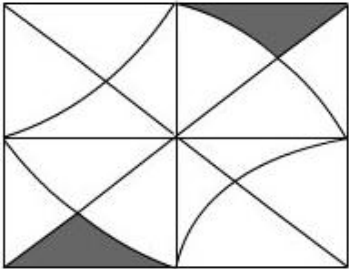


Ans

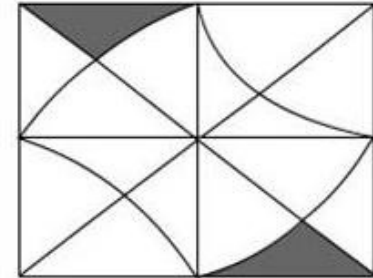
✗ 1.



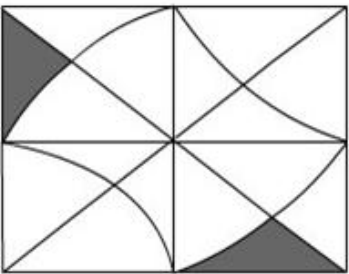
✗ 2.



✗ 3.



✓ 4.



Question ID : 4244291364
Status : Answered
Chosen Option : 4

Q.25 एक कंपनी में कोई व्यक्ति ₹6,000 प्रतिमाह के वेतन पर नियोजित है। वह पूरे वर्ष के दौरान 15 दिनों के लिए कार्य से अनुपस्थित रहा। यदि उसके वेतन में से हर अवकाश के लिए ₹200 की कटौती होती है, तो बताइए कि वह वर्ष के अंत में कुल कितना धन अर्जित करेगा?

Ans 1. ₹72,000

2. ₹75,000

3. ₹69,000

4. ₹70,000

Question ID : 4244291341

Status : Answered

Chosen Option : 3