

Q.1 एक निश्चित कूट भाषा में, THAILAND को VFCGNYPB लिखा जाता है। उसी कूट भाषा में SRILANKA को कैसे लिखा जाएगा?

- Ans
- 1. UQKKCMMZ
 - 2. UTKNCMMZ
 - 3. UPKJCLMY
 - 4. TQJKBPJC

Question ID : 424429944
Status : Answered
Chosen Option : 3

Q.2 Four words have been given, out of which three are alike in some manner and one is different. Select the odd one.

- Ans
- 1. Den
 - 2. Stable
 - 3. Barrack
 - 4. Burrow

Question ID : 424429952
Status : Answered
Chosen Option : 3

Q.3 निम्नलिखित शब्दों को तार्किक और अर्थपूर्ण क्रम में व्यवस्थित करें।

- 1. गला
- 2. मूत्राशय
- 3. पुतली
- 4. यकृत
- 5. कर्णपालि

- Ans
- 1. 3-5-1-2-4
 - 2. 5-3-1-2-4
 - 3. 5-3-1-4-2
 - 4. 3-5-1-4-2

Question ID : 424429943
Status : Answered
Chosen Option : 3

Q.4 उस संख्या का चयन करें जो निम्न श्रेणी में प्रश्नवाचक चिह्न (?) के स्थान पर आ सकती है।

99, 82, 63, 50, 35, ?

- Ans
- 1. 26
 - 2. 27
 - 3. 24
 - 4. 25

Question ID : 424429941

Status : Answered

Chosen Option : 1

Q.5 उस विकल्प का चयन करें जिसमें संख्याओं के मध्य वही संबंध है जो दिए गए समुच्चय की संख्याओं के मध्य है।

(25, 20, 16)

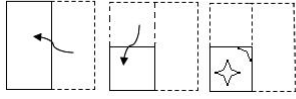
- Ans
- 1. (30, 17, 10)
 - 2. (32, 16, 8)
 - 3. (34, 19, 9)
 - 4. (28, 18, 12)

Question ID : 424429940

Status : Answered

Chosen Option : 4

Q.6 निम्न आकृतियों में एक कागज़ को मोड़ने का क्रम और मुड़े हुए कागज़ को काटने की विधि दर्शाई गई है। कागज़ को पुनः खोलने पर यह कैसा दिखाई देगा?




Ans


✓ 1.




✗ 2.



✗ 3.



✗ 4.



Question ID : 424429958

Status : Answered

Chosen Option : 1

Q.7 रमन की आयु उसकी पुत्री श्रुति की आयु की दोगुनी है। यदि दस वर्ष पहले रमन की आयु श्रुति की आयु की तीन गुना थी, तो श्रुति की वर्तमान में आयु क्या है?

Ans

✗ 1. 12 वर्ष

✗ 2. 11 वर्ष

✓ 3. 20 वर्ष

✗ 4. 8 वर्ष

Question ID : 424429936

Status : Answered

Chosen Option : 3

Q.8 उस विकल्प का चयन करें जिसमें दिया गया चित्र अन्तर्निहित है।(घुमाने की अनुमति नहीं है)



Ans

✗ 1.



✗ 2.



✓ 3.



✗ 4.



Question ID : 424429957

Status : Answered

Chosen Option : 3

Q.9 यदि '-' का अर्थ गुणा है, '×' का अर्थ जोड़ है, '+' का अर्थ घटाना है, और '÷' अर्थ भाग है, तो निम्न में से कौन सा समीकरण सही है?

Ans

✗ 1. $8 + 3 \div 16 \times 36 - 6 = 14$

✓ 2. $8 - 3 \div 16 \times 36 + 6 = 14$

✗ 3. $8 \times 3 \div 16 + 36 - 6 = 14$

✗ 4. $8 \div 3 - 16 + 36 \times 6 = 14$

Question ID : 424429937

Status : Answered

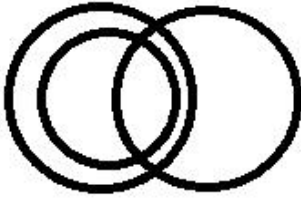
Chosen Option : 2

Q.10 उस वेन आरेख का चयन करें जो दिए गए वर्गों के बीच संबंध को सर्वोत्तम ढंग से दर्शाता है।

मेज, ट्रांजिस्टर, फर्नीचर

Ans

✗ 1.



✓ 2.



✗ 3.



✗ 4.



Question ID : 424429960

Status : Answered

Chosen Option : 2

Q.11 एक निश्चित कूट भाषा में, RAMP को 46 के रूप में और HORSE को 63 के रूप में कूटबद्ध किया जाता है। उसी कूट भाषा में CARPENTER को किस प्रकार कूटबद्ध किया जाएगा?

Ans

✓ 1. 98

✗ 2. 102

✗ 3. 96

✗ 4. 100

Question ID : 424429945

Status : Answered

Chosen Option : 1

Q.12 उस विकल्प का चयन करें जिसका तीसरे अक्षर-समूह से वही संबंध है जो दूसरे अक्षर-समूह का पहले अक्षर-समूह से है।

RICH : IRXS :: BOOK : ?

Ans

✓ 1. YLLP

✗ 2. ZLLH

✗ 3. XKKO

✗ 4. DQQM

Question ID : 424429946

Status : Answered

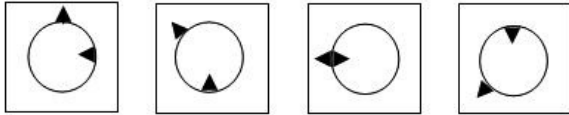
Chosen Option : 1

Q.13 अनीता, बबीता की बहन है और धर्मेन्द्र, सुषमा का भाई है। यदि सुषमा, अनीता की बहन है, तो बबीता, सुषमा से किस प्रकार से संबंधित है?

- Ans
- 1. दी गई जानकारी अधूरी है
 - 2. भाई
 - 3. बहन
 - 4. चाची / मामी

Question ID : 424429949
Status : Answered
Chosen Option : 3

Q.14 उस विकल्प आकृति का चयन करें जो निम्न श्रेणी में अगले स्थान पर आएगी।



Ans

- 1.
- 2.
- 3.
- 4.

Question ID : 424429955
Status : Answered
Chosen Option : 3

Q.15 उस संख्या का चयन करें जो निम्न श्रेणी में प्रश्नवाचक चिह्न (?) के स्थान पर आ सकती है।

33, 53, 61, 85, 97, ?, 141

- Ans
- ✗ 1. 113
 - ✗ 2. 123
 - ✗ 3. 121
 - ✓ 4. 125

Question ID : 424429942

Status : Answered

Chosen Option : 4

Q.16 यदि दर्पण को चित्र के दाईं ओर रखा गया हो, तो दी गई आकृति के सही दर्पण प्रतिबिम्ब का चयन करें।



Ans

- ✓ 1.
- ✗ 2.
- ✗ 3.
- ✗ 4.

Question ID : 424429959

Status : Answered

Chosen Option : 1

Q.17 उस विकल्प का चयन करें जिसमें संख्याओं के मध्य वही संबंध है, जो दिए गए समुच्चय की संख्याओं के मध्य है।

(12, 48, 8)

- Ans
- ✗ 1. (16, 64, 13)
 - ✗ 2. (19, 57, 15)
 - ✓ 3. (15, 45, 12)
 - ✗ 4. (18, 54, 13)

Question ID : 424429939

Status : Answered

Chosen Option : 4

Q.18 नीचे दिए गए कथनों और निष्कर्षों को ध्यानपूर्वक पढ़ें। यह मानते हुए कि कथन में दी गई जानकारी सही है, भले ही यह सामान्य रूप से ज्ञात तथ्यों से भिन्न प्रतीत होती हो, यह निर्धारित करें कि दिए गए निष्कर्षों में से कौन सा/से, कथनों का तार्किक रूप से अनुसरण करता है / करते हैं।

कथन:

1. कुछ बसें ट्रक हैं।
2. सभी ट्रक बसें हैं।

निष्कर्ष:

- I कुछ बसें बसें हैं।
- II सभी बसें बसें हैं।

Ans

1. केवल निष्कर्ष II अनुसरण करता है।
2. केवल निष्कर्ष I अनुसरण करता है।
3. केवल निष्कर्ष I और II अनुसरण करते हैं।
4. निष्कर्ष I या II में से कोई एक अनुसरण करता है।

Question ID : 424429953

Status : Answered

Chosen Option : 2

Q.19 'घर' का 'नींव' से वही संबंध है, जो 'पेड़' का ' _____ ' से।

Ans

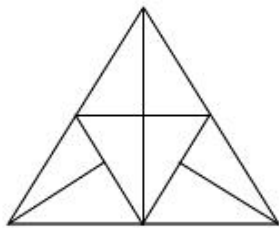
1. मिट्टी
2. जड़
3. तना
4. शाखा

Question ID : 424429947

Status : Answered

Chosen Option : 2

Q.20 दिए गए चित्र में कितने त्रिभुज निहित हैं?



Ans

1. 12
2. 15
3. 13
4. 17

Question ID : 424429956

Status : Answered

Chosen Option : 4

Q.21 चार अक्षर-समूह दिए गए हैं, जिनमें से तीन किसी प्रकार समान हैं और एक असंगत है। उस असंगत अक्षर-समूह का चयन करें।

- Ans
- 1. TQNKH
 - 2. VSPMJ
 - 3. ROLIF
 - 4. YWUSQ

Question ID : 424429951
Status : Answered
Chosen Option : 1

Q.22 उस विकल्प का चयन करें जिसमें शब्दों के बीच वही संबंध है जो दिए गए शब्द-युग्म के शब्दों के बीच है।

कठोर : लचीला

- Ans
- 1. जिम्मेदार : जोशीला
 - 2. साहसी : हिम्मती
 - 3. व्याकुल : अवसाद ग्रस्त
 - 4. अधिकारवादी : उदार

Question ID : 424429950
Status : Answered
Chosen Option : 4

Q.23 अक्षरों के उस संयोजन का चयन करें जिसे दी गई अक्षर-श्रेणी में रिक्त स्थानों में क्रमानुसार रखने पर श्रेणी पूरी हो जाएगी।

a _ cdeacdd _ acdeea _ _ deac _ _ e

- Ans
- 1. ceaccd
 - 2. bbbcbd
 - 3. ceacce
 - 4. aaaccd

Question ID : 424429948
Status : Not Answered
Chosen Option : --

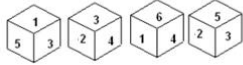
Q.24 उस विकल्प का चयन करें जिसमें संख्याओं के बीच वही संबंध है जो दिए गए संख्या-युग्म की संख्याओं के बीच है।

2197 : 1331

- Ans
- 1. 729 : 343
 - 2. 343 : 125
 - 3. 512 : 216
 - 4. 1331 : 729

Question ID : 424429938
Status : Answered
Chosen Option : 4

Q.25 एक ही पासे की चार अलग-अलग स्थितियां दर्शाई गई हैं। उस संख्या का चयन करें जो पासे के '1' अंकित फलक से विपरीत फलक पर होगी।



- Ans
- 1. 4
 - 2. 5
 - 3. 6
 - 4. 2

Question ID : 424429954
Status : Answered
Chosen Option : 4