

Section : General Intelligence

Q.1 चार संख्या-युग्म दिए गए हैं, जिनमें से तीन किसी न किसी प्रकार संगत हैं और एक असंगत है। उस असंगत संख्या-युग्म का चयन करें।

- Ans  1. 13 : 175
 2. 11 : 122
 3. 5 : 26
 4. 4 : 17

Question ID : 8161611950
Status : Answered
Chosen Option : 1

Q.2 उस विकल्प का चयन करें जिसमें समुच्चय की संख्याओं के बीच वही संबंध है जो संबंध दिए गए समुच्चय की संख्याओं के बीच है।

(14, 24, 84)

- Ans
- 1. (16, 20, 160)
 - 2. (12, 60, 186)
 - 3. (18, 30, 135)
 - 4. (22, 34, 176)

Question ID : 8161611947
Status : Not Answered
Chosen Option : --

Q.3 एक निश्चित कूट भाषा में, 'SHARP' को '73' लिखा जाता है। उसी भाषा में 'AUDIT' क्या लिखा जाएगा?

- Ans
- 1. 72
 - 2. 84
 - 3. 80
 - 4. 76

Question ID : 8161611953
Status : Answered
Chosen Option : 4

Q.4 उस विकल्प का चुनाव करें जिसमें दी गई आकृति X अंतर्निहित है। (घुमाने की अनुमति नहीं है)

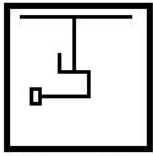
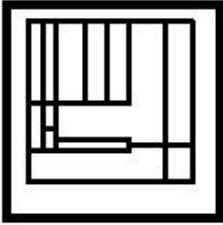


Figure X

Ans

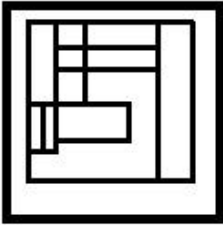
✗ 1.



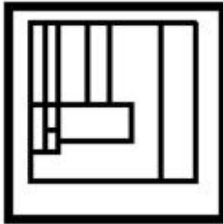
✗ 2.



✗ 3.



✓ 4.



Question ID : 8161611965

Status : Answered

Chosen Option : 3

Q.5 उस विकल्प का चयन करें जो तीसरी संख्या से उसी प्रकार संबंधित है जिस प्रकार दूसरी संख्या पहली संख्या से और छठी संख्या पाँचवीं संख्या से संबंधित है।

27 : 6 :: 8 : ? :: 64 : 8

Ans ✓ 1. 4

✗ 2. 1

✗ 3. 2

✗ 4. 3

Question ID : 8161611946

Status : Answered

Chosen Option : 3

Q.6 चार अक्षर-समूह दिए गए हैं जिनमें से तीन किसी न किसी प्रकार संगत हैं और एक असंगत है। उस असंगत अक्षर-समूह का चयन करें।

- Ans
- 1. SUWY
 - 2. YACF
 - 3. LNPR
 - 4. ZBDF

Question ID : 8161611959

Status : Answered

Chosen Option : 2

Q.7 दी गई आकृति के दाईं ओर एक ऊर्ध्वाधर दर्पण रखे जाने पर बनने वाले दर्पण-प्रतिबिंब का चयन करें।



Ans

- 1.
- 2.
- 3.
- 4.

Question ID : 8161611967

Status : Answered

Chosen Option : 4

Q.8 उस सही विकल्प का चुनाव करें जो निम्नलिखित शब्दों को एक तार्किक और अर्थपूर्ण क्रम में व्यवस्थित करता हो।

1. पुरस्कार
2. प्रतियोगिता
3. निर्णायकों द्वारा मूल्यांकन
4. विजेता
5. प्रतिभागी

- Ans
- 1. 5, 3, 2, 1, 4
 - 2. 5, 2, 4, 3, 1
 - 3. 1, 2, 3, 5, 4
 - 4. 5, 2, 3, 4, 1

Question ID : 8161611951

Status : Answered

Chosen Option : 4

Q.9 चार शब्द दिए गए हैं जिनमें से तीन किसी न किसी प्रकार संगत हैं और एक असंगत है। उस असंगत शब्द का चयन करें।

- Ans
- 1. सेकंड
 - 2. घंटा
 - 3. समय
 - 4. मिनट

Question ID : 8161611960
Status : Answered
Chosen Option : 3

Q.10 उस विकल्प का चयन करें जिसका तीसरे शब्द से वही संबंध है जो दूसरे शब्द का पहले शब्द से है।

पेंटिंग : कलर :: होमवर्क : ?

- Ans
- 1. विद्यालय
 - 2. स्याही
 - 3. नोटबुक
 - 4. शिक्षक

Question ID : 8161611955
Status : Answered
Chosen Option : 3

Q.11 नीचे दर्शाई गई आकृतियों में किसी कागज़ को मोड़ने के क्रम और मोड़े गए कागज़ को काटने की विधि को दर्शाया गया है। खोले जाने पर यह कागज़ कैसा दिखाई देगा?



- Ans
- 1.
 - 2.
 - 3.
 - 4.

Question ID : 8161611966
Status : Answered
Chosen Option : 4

Q.12 अक्षरों के उस संयोजन का चयन करें जिसके अक्षर दी गई अक्षर-श्रृंखला के रिक्त स्थानों में क्रमानुसार रखे जाने पर श्रृंखला को पूरा करेंगे।

U _ D _ U P _ M _ P D M U _ D M

- Ans
- 1. UMDUD
 - 2. MPUDU
 - 3. PMUPD
 - 4. PMDUP

Question ID : 8161611956

Status : Answered

Chosen Option : 4

Q.13 उस विकल्प का चयन करें जिसमें समुच्चय की संख्याओं के बीच वही संबंध है जो संबंध दिए गए समुच्चय की संख्याओं के बीच है।

(11, 15, 400)

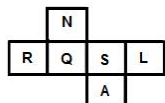
- Ans
- 1. (20, 22, 870)
 - 2. (10, 12, 244)
 - 3. (12, 17, 493)
 - 4. (18, 24, 786)

Question ID : 8161611948

Status : Not Answered

Chosen Option : --

Q.14 दी गई शीट को मोड़कर एक घन बनाया गया है। इस प्रकार बनाए हुए घन में 'L' अक्षर वाले फलक के विपरीत फलक पर कौन सा अक्षर होगा?



- Ans
- 1. Q
 - 2. S
 - 3. N
 - 4. R

Question ID : 8161611962

Status : Answered

Chosen Option : 1

Q.15 उस विकल्प का चयन करें जो तीसरे अक्षर-समूह से उसी प्रकार संबंधित है जिस प्रकार दूसरा अक्षर-समूह पहले अक्षर-समूह से संबंधित है।

UBQ : XET :: NKE : ?

- Ans
- 1. QNH
 - 2. QMH
 - 3. QNG
 - 4. PNH

Question ID : 8161611954
Status : Answered
Chosen Option : 1

Q.16 निम्नलिखित समीकरण में चिह्न (+) के स्थान पर रखे जाने और समीकरण को संतुलित करने वाले गणितीय चिहनों के सही संयोजन का चयन करें।

$15 * 4 * 26 * 2 * 7 * 66$

- Ans
- 1. +, ×, ÷, -, =
 - 2. ×, +, ÷, -, =
 - 3. ×, +, -, ÷, =
 - 4. +, ×, -, ÷, =

Question ID : 8161611945
Status : Answered
Chosen Option : 2

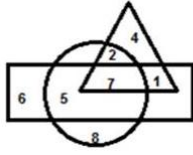
Q.17 उस संख्या का चयन करें जो निम्नलिखित श्रेणी में प्रश्न-चिह्न (?) का स्थान ले सकती है।

19, 20, 24, 51, 67, ?

- Ans
- 1. 195
 - 2. 191
 - 3. 192
 - 4. 190

Question ID : 8161611949
Status : Answered
Chosen Option : 2

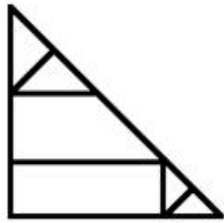
Q.18 दिए गए वेन आरेख में 'वृत्त' 'खिलाड़ियों' का प्रतिनिधित्व करता है, 'त्रिभुज' 'स्नातकों' का प्रतिनिधित्व करता है और 'आयत' 'प्रबंधकों' का प्रतिनिधित्व करता है। कौन सी संख्या उस क्षेत्र को दर्शाती है, जो ऐसे स्नातक खिलाड़ियों का प्रतिनिधित्व करता है जो प्रबंधक नहीं हैं?



- Ans
- 1. 5
 - 2. 2
 - 3. 1
 - 4. 7

Question ID : 8161611968
Status : Answered
Chosen Option : 2

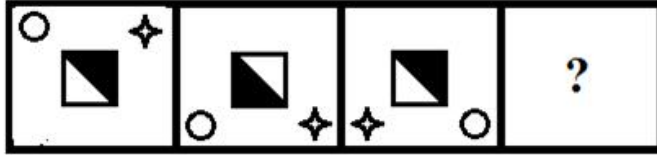
Q.19 नीचे दी गई आकृति में कितने त्रिभुज हैं?



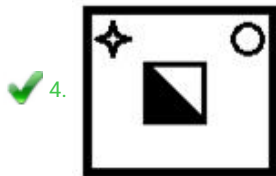
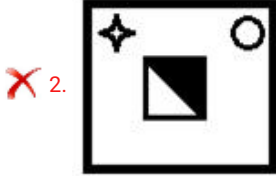
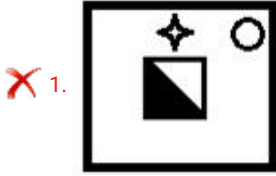
- Ans
- 1. 7
 - 2. 10
 - 3. 8
 - 4. 9

Question ID : 8161611964
Status : Answered
Chosen Option : 3

Q.20 उस आकृति का चयन करें जो दी गई श्रृंखला में अगले क्रम पर आएगी।



Ans



Question ID : 8161611963

Status : Answered

Chosen Option : 4

Q.21 एक निश्चित कूट भाषा में, 'WARDEN' को 'SIJWFB' लिखा जाता है। उस भाषा में 'OFFICE' को क्या लिखा जाएगा?

Ans ✗ 1. JGNKKS

✓ 2. JHNKKT

✗ 3. KHNJJT

✗ 4. JHOKKU

Question ID : 8161611952

Status : Answered

Chosen Option : 3

Q.22 दिए गए कथनों और निष्कर्षों को ध्यानपूर्वक पढ़ें। यह मानते हुए कि कथनों में दी गयी जानकारी सत्य है, भले ही यह आम तौर पर स्थापित तथ्यों से भिन्न दिखाई देती है, यह निर्णय लें कि दिए गए निष्कर्षों में से कौन सा/से निष्कर्ष कथनों का तार्किक रूप से अनुसरण करता/करते है/हैं।

कथन:

सभी स्पीकर, यंत्र हैं।

सभी यंत्र, तार हैं।

निष्कर्ष:

- I. कुछ तार, यंत्र हैं।
- II. कोई भी स्पीकर, तार नहीं है।
- III. कुछ स्पीकर, तार नहीं हैं।

- Ans
1. निष्कर्ष I और III दोनों अनुसरण करते हैं।
 2. केवल निष्कर्ष I अनुसरण करता है।
 3. केवल निष्कर्ष III अनुसरण करता है।
 4. निष्कर्ष I, II और III सभी अनुसरण करते हैं।

Question ID : 8161611961

Status : Answered

Chosen Option : 1

Q.23 उस शब्द-युग्म का चयन करें जिसके दोनों शब्दों के बीच वही संबंध है, जो संबंध दिए गए शब्द-युग्म के दोनों शब्दों के बीच है।

प्रवेश-पत्र : परीक्षा

- Ans
1. यात्री : बस स्टैंड
 2. मौसम : जाड़ा
 3. टिकट : रेल-यात्रा
 4. होटल : रसोइया

Question ID : 8161611958

Status : Answered

Chosen Option : 4

Q.24 हिम्मत, कविता के पति हैं। शारदा, रवि की बेटी है जिसकी पत्नी केतकी है। कविता, शारदा की बहन है। रवि का हिम्मत से क्या संबंध है?





- Ans
1. ससुर
 2. भाई
 3. पिता
 4. चाचा

Question ID : 8161611957

Status : Answered

Chosen Option : 1

Q.25 एक कक्षा में, प्रत्येक विद्यार्थी ने तीन रचनात्मक गतिविधियों जैसे लोकगीत, कथक और क्विज प्रतियोगिता में से किसी एक में भाग लिया। कुल विद्यार्थियों में से 22% ने लोकगीत में भाग लिया। शेष विद्यार्थियों में से 25% ने कथक में भाग लिया। बाद में बचे विद्यार्थियों ने क्विज प्रतियोगिता में भाग लिया। क्विज प्रतियोगिता में कितने प्रतिशत विद्यार्थियों ने भाग लिया?

- Ans
-  1. 41.5%
 -  2. 58.5%
 -  3. 30.6%
 -  4. 53%

Question ID : 8161611944

Status : Answered

Chosen Option : 1