

Q.1 नीचे दिए गए कथनों और निष्कर्षों को ध्यानपूर्वक पढ़ें। यह मानते हुए कि कथन में दी गई जानकारी सही है, भले ही यह सामान्य रूप से ज्ञात तथ्यों से भिन्न प्रतीत होती हो, यह निर्धारित करें कि दिए गए निष्कर्षों में से कौन सा/से, कथनों का तार्किक रूप से अनुसरण करता है/करते हैं।

कथन:

1. कुछ पेड़ सिल्वर ओक हैं।
2. कुछ सिल्वर ओक लंबी वस्तुएँ हैं।

निष्कर्ष:

- I. कुछ लंबी वस्तुएँ सिल्वर ओक हैं।
- II. सभी लंबी वस्तुएँ पेड़ हैं।

Ans

- ✓ 1. केवल निष्कर्ष I अनुसरण करता है।
- ✗ 2. न तो निष्कर्ष I और नही निष्कर्ष II अनुसरण करता है।
- ✗ 3. केवल निष्कर्ष II अनुसरण करता है।
- ✗ 4. निष्कर्ष I और II अनुसरण करते हैं।

Question ID : 4244291054

Status : Answered

Chosen Option : 1

Q.2 एक निश्चित कूट भाषा में GOGGLE को IMIENC लिखा जाता है। तो उसी कूटभाषा में PENCIL को क्या लिखा जाएगा?

Ans

- ✗ 1. RGPEKN
- ✓ 2. RCPAKJ
- ✗ 3. NCLAGJ
- ✗ 4. NGLEGN

Question ID : 4244291045

Status : Answered

Chosen Option : 2

Q.3 निम्नलिखित नामों को तार्किक और अर्थपूर्ण क्रम में व्यवस्थित करें।

1. मोजे
2. गले की टाई
3. पट्टा
4. चश्मा
5. बाजूबंद

- Ans
- 1. 4-2-3-1-5
 - 2. 4-2-5-3-1
 - 3. 4-2-3-5-1
 - 4. 4-3-2-5-1

Question ID : 4244291044
Status : Answered
Chosen Option : 3

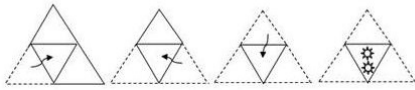
Q.4 उस संख्या का चयन करें जो निम्न श्रेणी में प्रश्नवाचक चिन्ह (?) के स्थान पर आ सकती है।

80, 79, 75, 66, ? , 25

- Ans
- 1. 50
 - 2. 54
 - 3. 46
 - 4. 57

Question ID : 4244291042
Status : Answered
Chosen Option : 1

Q.5 निम्न आकृतियों में एक कागज़ को मोड़ने का क्रम और मुड़े हुए कागज़ को काटने की विधि दर्शाई गई है। कागज़ को पुनः खोलने पर यह कैसा दिखाई देगा?



Ans


✓ 1.



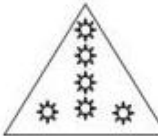
✗ 2.



✗ 3.



✗ 4.



Question ID : 4244291059

Status : Answered

Chosen Option : 1

Q.6 यदि किसी कोडित भाषा में 'ORAL' को '1518112' लिखा जाता है, तो उसी कोडित भाषा में 'WRITTEN' को इस प्रकार से लिखा जाएगा:

Ans ✗ 1. 231892020614

✓ 2. 231892020514

✗ 3. 221792020514

✗ 4. 221891919514

Question ID : 4244291049

Status : Answered

Chosen Option : 2

Q.7 'Advocate' is related to 'Client' in the same way as 'Doctor' is related to '_____'.
'

Ans ✗ 1. Disease

✓ 2. Patient

✗ 3. Treatment

✗ 4. Nurse

Question ID : 4244291048

Status : Answered

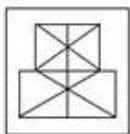
Chosen Option : 2

Q.8 उस विकल्प का चयन करें जिस में दिया गया चित्र अन्तर्निहित है। (घुमाने की अनुमति नहीं है)

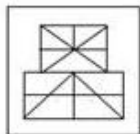


Ans

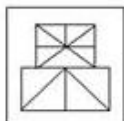
✗ 1.



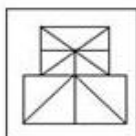
✗ 2.



✗ 3.



✓ 4.



Question ID : 4244291058

Status : Answered

Chosen Option : 4

Q.9 एक निश्चित कूटभाषा में COBBLER को 130 के रूप में कूटबद्ध किया जाता है और TABLE को 93 के रूप में कूटबद्ध किया जाता है, तो इसी भाषा में ALMIRAH को किस रूप में कूटबद्ध किया जाएगा?

Ans

✗ 1. 129

✗ 2. 127

✓ 3. 125

✗ 4. 123

Question ID : 4244291046

Status : Not Answered

Chosen Option : --

Q.10 एक लड़के से परिचय कराते हुए रितिका ने कहा 'यह मेरे पिता के इकलौते पुत्र का पुत्र है।' तो रितिका का उस लड़के की माँ से क्या संबंध है?

Ans

✗ 1. मौसेरी बहन

✗ 2. बुआ

✓ 3. ननद

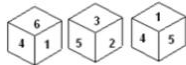
✗ 4. बहन

Question ID : 4244291050

Status : Answered

Chosen Option : 2

Q.11 एक ही पासे की तीन अलग-अलग स्थितियां दर्शायी गई हैं। उस संख्या का चयन करें जो पासे के '5' अंकित फलक के विपरीत फलक पर होगी।



- Ans
- 1. 3
 - 2. 2
 - 3. 4
 - 4. 6

Question ID : 4244291055
Status : Answered
Chosen Option : 4

Q.12 निम्नलिखित समीकरण को संतुलित करने के लिए किन दो संख्याओं को आपस में बदलना चाहिए?

$$36 \div 6 - 15 \times 2 + 48 = 14$$

- Ans
- 1. 36 और 48
 - 2. 48 और 15
 - 3. 6 और 14
 - 4. 2 और 6

Question ID : 4244291038
Status : Answered
Chosen Option : 1


Q.13 उस विकल्प का चयन करें जिसमें संख्याओं के मध्य वही संबंध है, जो संख्याओं के दिए गए समुच्चय की संख्याओं के मध्य है।

(26, 144, 18)

- Ans
- 1. (28, 190, 16)
 - 2. (32, 196, 24)
 - 3. (21, 108, 12)
 - 4. (18, 120, 13)

Question ID : 4244291041
Status : Not Answered
Chosen Option : --

Q.14 नीचे दी गई आकृति में कुल कितने त्रिभुज निहित हैं?



- Ans
- 1. 22
 - 2. 18
 - 3. 16
 - 4. 20

Question ID : 4244291057
Status : Answered
Chosen Option : 4

Q.15 उस विकल्प का चयन करें जिसका तीसरे अक्षर-समूह से वही संबंध है जो दूसरे अक्षर-समूह का पहले अक्षर-समूह से है।

JAPAN : NAQAJ :: INDIA : ?

- Ans
- 1. AIDNI
 - 2. DNIAI
 - 3. AIENI
 - 4. NIEAI

Question ID : 4244291047
Status : Answered
Chosen Option : 3

Q.16 उस विकल्प का चयन करें जो तीसरे पद से उसी प्रकार संबंधित हो जिस प्रकार दूसरा पद पहले पद से संबंधित है।

MAKE : AEKM :: JUST : _____

- Ans
- 1. UTJS
 - 2. UTSS
 - 3. UJTS
 - 4. JSTU

Question ID : 4244291053
Status : Answered
Chosen Option : 1

Q.17 उस वेन आरेख का चयन करें जो दिए गए वर्गों के बीच के संबंध को सर्वोत्तम ढंग से दर्शाता है।

पिता, पुरुष, भाई

Ans



Question ID : 4244291061

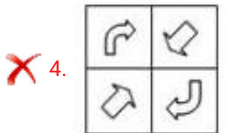
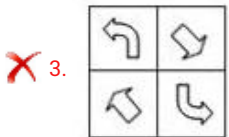
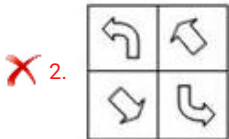
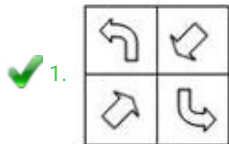
Status : Answered

Chosen Option : 2

Q.18 यदि दर्पण को चित्र के दाईं ओर रखा गया हो, तो दिए गए चित्र के सही दर्पण प्रतिबिम्ब का चयन करें।



Ans



Question ID : 4244291060

Status : Answered

Chosen Option : 1

Q.19 रेलगाड़ी 'A', 80 km/h की चाल से चलती है और सुबह 11.00 बजे 'X' स्टेशन से चलना आरंभ करती है। रेलगाड़ी 'B' उसी दिन सुबह 11:15 बजे 'X' स्टेशन से उसी दिशा में चलना आरंभ करती है। 60 km की दूरी पर स्थित स्टेशन 'Y' पर, रेलगाड़ी 'A' से मिलने के लिए रेलगाड़ी 'B' की चाल क्या होनी चाहिए?

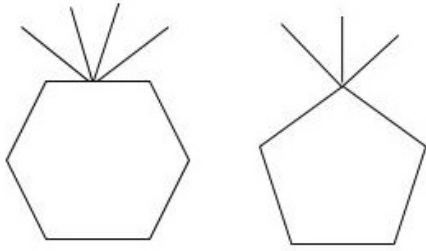
- Ans
- 1. 110 km/h
 - 2. 125 km/h
 - 3. 115 km/h
 - 4. 120 km/h

Question ID : 4244291037

Status : Answered

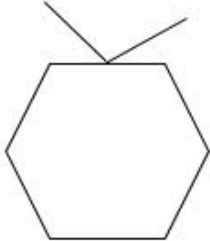
Chosen Option : 4

Q.20 उस विकल्प का चयन करें जो निम्न श्रेणी में अगले स्थान पर आयेगा।

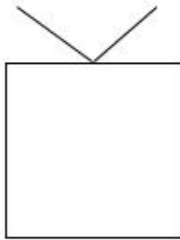


Ans

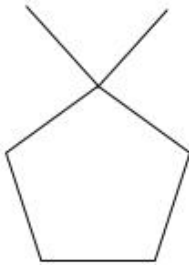
✗ 1.



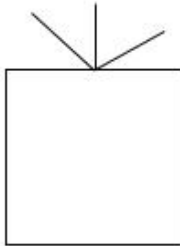
✓ 2.



✗ 3.



✗ 4.



Question ID : 4244291056

Status : Answered

Chosen Option : 2

Q.21 उस विकल्प का चयन करें जिसमें संख्याओं के बीच वही संबंध है जो दिए गए संख्या-युग्म की संख्याओं के बीच में है।

512 : 64

- Ans
- 1. 1331 : 144
 - 2. 1331 : 121
 - 3. 1000 : 81
 - 4. 1728 : 121

Question ID : 4244291039

Status : Answered

Chosen Option : 2

Q.22 उस विकल्प का चयन करें जिसमें संख्याओं के मध्य वही संबंध है, जो संख्याओं के दिए गए समुच्चय की संख्याओं के मध्य है।

(31, 18, 7)

- Ans
- 1. (70, 38, 20)
 - 2. (72, 34, 15)
 - 3. (90, 54, 12)
 - 4. (64, 50, 40)

Question ID : 4244291040

Status : Not Answered

Chosen Option : --

Q.23 निम्नलिखित श्रृंखला में प्रश्न चिह्न (?) का स्थान ले सकने वाली संख्या का चयन करें।

1, 27, 125, 343, 729, ?

- Ans
- 1. 1029
 - 2. 1525
 - 3. 1331
 - 4. 1244

Question ID : 4244291043

Status : Answered

Chosen Option : 3

Q.24 चार अक्षर-समूह दिए गए हैं, जिन में से तीन किसी प्रकार समान हैं और एक असंगत है। उस असंगत अक्षर-समूह का चयन करें।

- Ans
- 1. FHJLN
 - 2. SQOMK
 - 3. PRTVX
 - 4. KMOQS

Question ID : 4244291052

Status : Answered

Chosen Option : 2

Q.25 Select the option in which the words share the same relationship as that shared by the given pair of words.

Phobia : Fear

- Ans**
- 1. Dyslexia : Disability
 - 2. Cough : Infection
 - 3. Amnesia : Forgetting
 - 4. Dengue : Mosquitoes

Question ID : 4244291051

Status : Answered

Chosen Option : 3