

Section : General Intelligence

Q.1 उस विकल्प का चयन करें, जिसमें शब्दों के बीच वही संबंध है, जो संबंध दिए गए शब्द-युग्म के शब्दों के बीच है।
कुर्सी : फर्नीचर

- Ans
- 1. साइकिल : यात्रा
 - 2. पेंसिल : लकड़ी
 - 3. लिखने का कागज : लेखन सामग्री (स्टेशनरी)
 - 4. आसन (सीट) : आवरण (कवर)

Question ID : 42442941
Status : Answered
Chosen Option : 3

Q.2 किसी निश्चित कूट भाषा में, MUSIC को 60 और TUNE को 56 लिखा जाता है। उसी भाषा में LYRIC को क्या लिखा जाएगा?

- Ans
- 1. 67
 - 2. 65
 - 3. 62
 - 4. 63

Question ID : 42442936

Status : **Not Attempted and Marked For Review**

Chosen Option : --

Q.3 अक्षरों के उस समूह का चयन करें, जिसे अक्षर श्रृंखला में रिक्त स्थानों पर क्रमिक रूप से भरे जाने पर श्रृंखला पूरी हो जाएगी।

e_geef_gg_ee_f_ggg

- Ans
- 1. f, f, e, f, f
 - 2. g, f, e, f, f
 - 3. f, g, f, g, g
 - 4. f, f, f, f, f

Question ID : 42442938

Status : **Not Attempted and Marked For Review**

Chosen Option : --

Q.4 A और B किसी काम को क्रमशः 30 दिन और 18 दिन में पूरा कर सकते हैं। A अकेले काम करना शुरू करता है, 6 दिन बाद B उसके साथ जुड़ता है जो काम खत्म होने तक A के साथ काम करता है। बताएं की कुल कितने दिनों में काम पूरा होगा?

- Ans
- 1. 9
 - 2. 15
 - 3. 17
 - 4. 12

Question ID : 42442933

Status : **Answered**

Chosen Option : 2

Q.5 दर्पण को दाईं ओर रखे जाने पर दी गई अक्षरांकीय आकृति की सही दर्पण छवि कौन सी होगी?

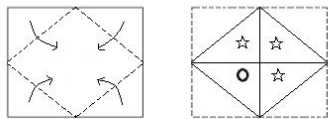
AHTOITG46Q34

Ans

- ✓ 1. 4EQ04CITIOHTA
- ✗ 2. 4E094GLIOHTV
- ✗ 3. 4EQ04CITIOHTA
- ✗ 4. 4E094GLIOHTV

Question ID : 42442950
 Status : Answered
 Chosen Option : 1

Q.6 एक कागज़ को मोड़ा और काटा गया है, जैसा कि नीचे दी गई आकृतियों में दर्शाया गया है। यह कागज़ खोले जाने पर कैसा दिखाई देगा?



Ans

- ✗ 1.
- ✗ 2.
- ✗ 3.
- ✓ 4.

Question ID : 42442949
 Status : Answered
 Chosen Option : 4

Q.7 अक्षरों के उस संयोजन का चयन करें, जिसे निम्नलिखित अक्षर श्रृंखला में रिक्त स्थानों पर क्रमिक रूप से भरे जाने पर श्रृंखला पूरी हो जाएगी।

ab _ _ cba _ _ dd _ _ abcd _ baa _ _ _ cba

- Ans
- 1. acbdecdeaacecdd
 - 2. abeaacdecdecdd
 - 3. cddabccbadcbcd
 - 4. abbaacdecdecdd

Question ID : 42442939
Status : Answered
Chosen Option : 3

Q.8 दिए गए समीकरण को संतुलित करने के लिए किन दो गणितीय चिहनों और संख्याओं को आपस में बदलना होगा?

$$16 \times 18 + 2 - 14 + 3 = 38$$

- Ans
- 1. 16 और 3, - और ÷
 - 2. 16 और 14, - और ×
 - 3. 14 और 18, + और ×
 - 4. 14 और 18, + और -

Question ID : 42442931
Status : Not Attempted and Marked For Review
Chosen Option : --

Q.9 उस समुच्चय का चयन करें, जिसमें संख्याओं के बीच वही संबंध है, जो संबंध दिए गए समुच्चय की संख्याओं के बीच है।

(2, 6, 32)

- Ans
- 1. (8, 18, 80)
 - 2. (4, 12, 36)
 - 3. (9, 13, 43)
 - 4. (4, 8, 34)

Question ID : 42442930
Status : Not Attempted and Marked For Review
Chosen Option : --

Q.10 उस विकल्प का चयन करें, जिसका तीसरी संख्या से वही संबंध है, जो संबंध दूसरी संख्या का पहली संख्या से है।
9 : 121 :: 7 : ?

- Ans
- 1. 79
 - 2. 105
 - 3. 102
 - 4. 81

Question ID : 42442929
Status : Answered
Chosen Option : 4

Q.11 Select the option that is related to the third letter-cluster in the same way as the second letter-cluster is related to the first letter-cluster.
INTEX : EINTX :: SMALL : ?

- Ans
- 1. AJKLM
 - 2. ALLMS
 - 3. ALMLV
 - 4. LLAMV

Question ID : 42442937
Status : Not Attempted and Marked For Review
Chosen Option : --

Q.12 उस विकल्प का चयन करें, जिसमें दी गई आकृति अंतर्निहित है। (घुमाने की अनुमति नहीं है)



- Ans
- 1.
 - 2.
 - 3.
 - 4.

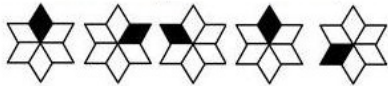
Question ID : 42442948
Status : Answered
Chosen Option : 3

Q.13 शीला ने यह कहते हुए राहुल का परिचय करवाया, "उसकी बहन मेरी माँ की एकमात्र बेटी है"। राहुल और शीला दोनों में परस्पर क्या संबंध है?

- Ans
- 1. चचेरे/ममेरे/फुफेरे भाई बहन
 - 2. चाचा - भतीजी/ मामा - भांजी
 - 3. भाई - बहन
 - 4. बेटा-माँ

Question ID : 42442940
Status : Answered
Chosen Option : 3

Q.14 उस विकल्प-आकृति का चयन करें, जो निम्नलिखित श्रृंखला में अगले स्थान पर आएगी।



- Ans
- 1.
 - 2.
 - 3.
 - 4.

Question ID : 42442946
Status : Answered
Chosen Option : 2

Q.15 उस संख्या का चयन करें जो निम्नलिखित श्रेणी में प्रश्न चिह्न (?) के स्थान पर आ सके।
2, 8, 15, 24, 36, 52, ?

- Ans
- 1. 78
 - 2. 63
 - 3. 83
 - 4. 73

Question ID : 42442932
Status : Answered
Chosen Option : 4

Q.16 In a certain code language, 'APRICOT' is written as 'GLXRIKZ' then how will 'ORANGE' be written in the same code language?

- Ans
- 1. VTNZHM
 - 2. LIZMTV
 - 3. LHZMSV
 - 4. VTMZIL

Question ID : 42442943

Status : **Not Attempted and Marked For Review**

Chosen Option : --

Q.17 चार अक्षर-युग्म दिए गए हैं, जिसमें से तीन किसी न किसी प्रकार संगत हैं और एक असंगत है। उस असंगत अक्षर-युग्म का चयन करें।

- Ans
- 1. BE
 - 2. AY
 - 3. OM
 - 4. US

Question ID : 42442942

Status : **Answered**

Chosen Option : 1

Q.18 किसी निश्चित कूट भाषा में, PAGER को MIDOO लिखा जाता है। उसी भाषा में ANGEL को क्या लिखा जाएगा?


- Ans
- 1. ILVDN
 - 2. AOIDK
 - 3. IKDOI
 - 4. AVIDI

Question ID : 42442935

Status : **Answered**

Chosen Option : 3

Q.19 यदि नीचे दी गई आकृति को एक घन का रूप देने के लिए मोड़ा जाता है, तो 2 बिंदु दर्शा रहे फलक के विपरीत फलक पर कितने बिंदु होंगे?



- Ans
- 1. 1
 - 2. 4
 - 3. 3
 - 4. 6

Question ID : 42442945

Status : **Answered**

Chosen Option : 1

Q.20 दिए गए समीकरण को संतुलित करने के लिए किन दो गणितीय चिहनों को आपस में बदलना होगा?

$$4 \div 6 + 9 - 48 \times 8 = 27$$

- Ans
- 1. \div और $+$
 - 2. \div और \times
 - 3. $+$ और $-$
 - 4. $+$ और \times

Question ID : 42442928

Status : Answered

Chosen Option : 2

Q.21 Arrange the following words in a logical and meaningful order.

1. Letter
2. Satellite
3. Telephone
4. Smartphone

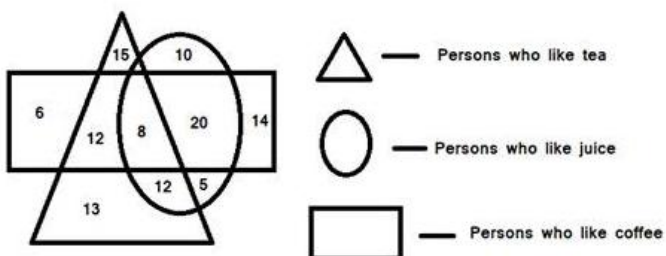
- Ans
- 1. 3, 2, 1, 4
 - 2. 4, 3, 1, 2
 - 3. 1, 3, 4, 2
 - 4. 3, 1, 2, 4

Question ID : 42442934

Status : Answered

Chosen Option : 3

Q.22 नीचे दर्शाए गए आरेख का अध्ययन करें और दिए गए प्रश्न का उत्तर दें।



कितने लोग चाय और कॉफी दोनों पसंद करते हैं लेकिन जूस पसंद नहीं करते?

- Ans
- 1. 8
 - 2. 12
 - 3. 20
 - 4. 22

Question ID : 42442951

Status : Answered

Chosen Option : 2

Q.23 ऋषभ 10 वर्ष की आयु का एक लड़का है। यदि उसकी माँ उससे 20 वर्ष बड़ी हैं और उसके पिता से 6 वर्ष छोटी हैं, तो उसके पिता की आयु कितनी है?

- Ans
- 1. 26 वर्ष
 - 2. 36 वर्ष
 - 3. 30 वर्ष
 - 4. 34 वर्ष

Question ID : 42442927

Status : Answered

Chosen Option : 2

Q.24 दिए गए कथनों और निष्कर्षों को ध्यान से पढ़ें। यह मानते हुए कि कथनों में दी गई जानकारी सही है, भले ही वह आम तौर पर स्थापित तथ्यों से भिन्न दिखाई देती हो, यह निर्णय लें कि कौन सा/से निष्कर्ष तर्कसंगत रूप से इन कथनों का अनुसरण करता/करते है/हैं।

कथन:

1. सभी दरवाजे, शिक्षक हैं।
2. सभी शिक्षक, प्याले हैं।

निष्कर्ष:

- I. सभी प्याले, दरवाजे हैं।
- II. सभी दरवाजे, प्याले हैं।
- III. सभी शिक्षक, दरवाजे हैं।
- IV. कुछ प्याले, शिक्षक हैं।

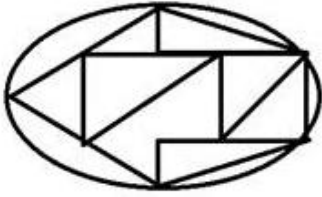
- Ans
- 1. केवल निष्कर्ष I अनुसरण करता है।
 - 2. केवल निष्कर्ष II और निष्कर्ष IV अनुसरण करते हैं।
 - 3. केवल निष्कर्ष I और निष्कर्ष III अनुसरण करते हैं।
 - 4. केवल निष्कर्ष I और निष्कर्ष II अनुसरण करते हैं।

Question ID : 42442944

Status : Answered

Chosen Option : 2

Q.25 दी गई आकृति में कितने त्रिभुज हैं?



- Ans
- ✓ 1. 8
 - ✗ 2. 10
 - ✗ 3. 13
 - ✗ 4. 12

Question ID : 42442947

Status : Not Answered

Chosen Option : --