

Section : General Intelligence

Q.1 उस संख्या का चयन करें, जो इस श्रेणी में प्रश्न-चिह्न (?) के स्थान पर आ सकती है।

25, 5, 49, 10, 81, 20, 121, ?

- Ans
- 1. 40
 - 2. 30
 - 3. 25
 - 4. 35

Question ID : 8161611514

Status : Answered

Chosen Option : 1

Q.2 उस संख्या का चयन करें, जो निम्नलिखित श्रेणी में प्रश्न-चिह्न (?) के स्थान पर आ सकती है।

10, 26, 50, 82, ?

- Ans
- 1. 101
 - 2. 169
 - 3. 121
 - 4. 122

Question ID : 8161611512

Status : Answered

Chosen Option : 4

Q.3 अक्षरों के उस संयोजन का चयन करें, जिसे अक्षर श्रृंखला में रिक्त स्थानों पर क्रमिक रूप से भरे जाने पर श्रृंखला पूरी हो जाएगी।

rtx_sx_z_txy_ _ yz

- Ans
- 1. yxyrs
 - 2. yyrxs
 - 3. sysyx
 - 4. yyrsx

Question ID : 8161611517

Status : Answered

Chosen Option : 4

Q.4 यदि एक दर्पण को प्रश्न आकृति में PQ रेखा पर रखा जाए, तो दी हुई कौन-सी उत्तर आकृति, प्रश्न आकृति की सही दर्पण छवि होगी?

प्रश्न आकृति:



- Ans
- 1.
 - 2.
 - 3.
 - 4.

Question ID : 8161611530

Status : Answered

Chosen Option : 3

Q.5 किसी निश्चित कूट भाषा में, OPERATION को POFQBSJNO लिखा जाता है। उसी भाषा में INVISIBLE को क्या लिखा जाएगा?

- Ans
- 1. JMWHTHCID
 - 2. JMUHTHCKD
 - 3. HNWHTHCKF
 - 4. JMWHTHCKF

Question ID : 8161611515

Status : Answered

Chosen Option : 4

Q.6 उत्तर आकृतियों में से उस आकृति का चयन करें, जिसे प्रश्न आकृति के रिक्त स्थान पर रखने से पैटर्न पूरा हो जाएगा।

प्रश्न आकृति:



Ans



Question ID : 8161611526

Status : Answered

Chosen Option : 3

Q.7 किसी निश्चित कूट भाषा में 214673 को SEARCH और 73456 को CHAIR और 961473 को PREACH लिखा जाता है। उसी भाषा में 734673 को क्या लिखा जाएगा?

Ans

1. CHARH

2. RHACRH

3. CHARCH

4. CARRCH

Question ID : 8161611516

Status : Answered

Chosen Option : 3

Q.8 उस विकल्प का चयन करें, जिसमें शब्दों का आपस में वही संबंध है, जो दिए गए शब्द-युग्म के शब्दों के बीच है।

जहाज : नाविक

Ans

1. जेल : जज

2. प्रयोगशाला : वैज्ञानिक

3. डॉक्टर : इंजीनियर

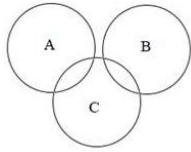
4. अधिवक्ता : कार्यालय

Question ID : 8161611523

Status : Answered

Chosen Option : 2

Q.9 दिए गए वेन आरेख में, A को दूध पसंद है, B को ब्रेड पसंद है और C को गोश्त पसंद है। किसे सभी दी गई खाद्य वस्तुएं पसंद हैं?



- Ans
- 1. B और C दोनों को
 - 2. केवल B को
 - 3. केवल C को
 - 4. A और B दोनों को

Question ID : 8161611531

Status : Answered

Chosen Option : 3

Q.10 दिए गए पैटर्न का सावधानीपूर्वक अध्ययन करें, और उस संख्या का चयन करें, जो प्रश्न-चिह्न (?) के स्थान पर आ सकती है।

13	108	26	55	?	157
11		9		14	

- Ans
- 1. 72
 - 2. 52
 - 3. 32
 - 4. 39

Question ID : 8161611510

Status : Answered

Chosen Option : 4

Q.11 उस विकल्प का चयन करें, जिसका तीसरी संख्या से वही संबंध है, जो दूसरी संख्या का पहली संख्या से है।

19 : 23 :: 97 : ?

- Ans
- 1. 101
 - 2. 77
 - 3. 91
 - 4. 94

Question ID : 8161611509

Status : Answered

Chosen Option : 1

Q.12 दिए गए कथन और निष्कर्ष को ध्यान से पढ़ें। यह मानते हुए कि कथनों में दी गई जानकारी सही है, भले ही वह आम तौर पर स्थापित तथ्यों से भिन्न दिखाई देती हो, तय कीजिए कि कौन सा/से निष्कर्ष तर्कसंगत रूप से इन कथनों का अनुसरण करता/करते हैं/हैं।

कथन:

1. कुछ बिल्लियां, कुत्ते हैं।
2. कुछ पेड़, कुत्ते हैं।

निष्कर्ष:

- I. कुछ कुत्ते बिल्लियां हैं।
- II. कुछ बिल्लियां पेड़ हैं।

- Ans
1. या तो निष्कर्ष I या II अनुसरण करता है।
 2. केवल निष्कर्ष II अनुसरण करता है।
 3. केवल निष्कर्ष I अनुसरण करता है।
 4. दोनों निष्कर्ष I और II अनुसरण करते हैं।

Question ID : 8161611524

Status : Answered

Chosen Option : 3

Q.13 दिए गए समीकरण को संतुलित करने के लिए, किन दो चिहनों को आपस में बदलना होगा?

$$(72 \div 18) + 30 \times 8 - 4 = 20$$

- Ans
1. + और ×
 2. + और -
 3. × और ÷
 4. + और ÷

Question ID : 8161611508

Status : Answered

Chosen Option : 4

Q.14 निम्नलिखित श्रृंखला में प्रश्न-चिह्न (?) के स्थान पर आने वाले अक्षर का चयन करें।

BYT, WUQ, RQN, MMK, ?

- Ans
1. GIH
 2. HJI
 3. HIH
 4. IHJ

Question ID : 8161611520

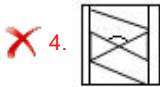
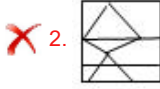
Status : Answered

Chosen Option : 3

Q.15 दिए गए विकल्पों में से उस आकृति का चयन करें, जिसमें दी गई प्रश्न आकृति अंतर्निहित है।
(घुमाने की अनुमति नहीं है)

A

Ans



Question ID : 8161611528

Status : Answered

Chosen Option : 3

Q.16 चार संख्याएँ दी गई हैं, जिनमें से तीन किसी न किसी तरह से संगत हैं और एक असंगत है। असंगत संख्या का चयन करें।

Ans

1. 14978

2. 12326

3. 52477

4. 11982

Question ID : 8161611513

Status : Answered

Chosen Option : 3

Q.17 उस विकल्प का चयन करें, जिसका तीसरे पद से वही संबंध है, जो दूसरे पद का पहले पद से है।

H18J : J22L :: P34R : ?

Ans

1. R36T

2. R36S

3. T38V

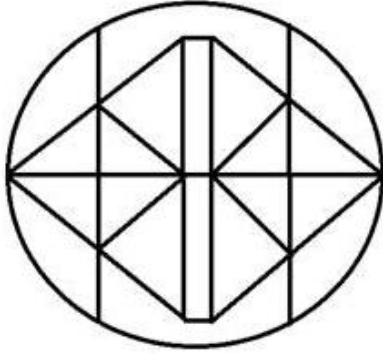
4. R38T

Question ID : 8161611518

Status : Answered

Chosen Option : 4

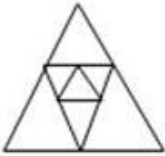
Q.18 दी गई आकृति में कितने त्रिभुज हैं?



- Ans
- 1. 26
 - 2. 24
 - 3. 22
 - 4. 28

Question ID : 8161611525
Status : Answered
Chosen Option : 2

Q.19 दी गई आकृति में त्रिभुजों की संख्या ज्ञात कीजिए।



- Ans
- 1. 9
 - 2. 17
 - 3. 7
 - 4. 13

Question ID : 8161611527
Status : Answered
Chosen Option : 1

Q.20 उस विकल्प का चयन करें, जिसका तीसरे शब्द से वही संबंध है, जो दूसरे शब्द का पहले शब्द से है।

मकखन : दूध :: तेल : ?

- Ans
- 1. बीज
 - 2. पेड़
 - 3. जड़
 - 4. तेल का कारखाना

Question ID : 8161611521
Status : Answered
Chosen Option : 1

Q.21 उस अक्षर-समूह का चयन करें, जो निम्नलिखित श्रेणी से संबंधित नहीं है।

DE, GH, JK, NM, PQ

- Ans
- 1. GH
 - 2. JK
 - 3. NM
 - 4. PQ

Question ID : 8161611522
Status : Answered
Chosen Option : 3

Q.22 निम्नलिखित श्रृंखला में प्रश्न-चिह्न (?) के स्थान पर आने वाले अक्षर का चयन करें।

L, M, O, K, R, I, U, ?

- Ans
- 1. J
 - 2. R
 - 3. P
 - 4. G


Question ID : 8161611519
Status : Answered
Chosen Option : 4

Q.23 एक माँ, उसकी बेटी और उसके बेटे की आयु का योग 96 वर्ष है। 5 वर्ष बाद उनकी आयु का योग क्या होगा?

- Ans
- 1. 111
 - 2. 110
 - 3. 105
 - 4. 101

Question ID : 8161611507
Status : Answered
Chosen Option : 1

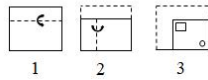
Q.24 दिए गए पैटर्न का सावधानीपूर्वक अध्ययन करें, और उस संख्या का चयन करें, जो प्रश्न-चिह्न (?) के स्थान पर आ सकती है।



- Ans**
- 1. 15
 - 2. 19
 - 3. 21
 - 4. 11

Question ID : 8161611511
 Status : Answered
 Chosen Option : 3

Q.25 नीचे दी गई प्रश्न आकृति में कागज के एक टुकड़े को मोड़ने का क्रम और काटने की विधि दी गई है। उत्तर आकृतियों में से उस विकल्प का चयन करें, जो यह दर्शाता हो कि कागज खोलने पर कैसा दिखाई देगा?



- Ans**
- 1.
 - 2.
 - 3.
 - 4.

Question ID : 8161611529
 Status : Answered
 Chosen Option : 2