

Q.1 निम्नलिखित शब्दों को तार्किक और सार्थक अनुक्रम में व्यवस्थित करें।

1. क्विंटल
2. किलो ग्राम
3. ग्राम
4. मिली ग्राम
5. टन

- Ans
- 1. 4-3-2-1-5
 - 2. 4-3-2-5-1
 - 3. 4-2-3-1-5
 - 4. 4-2-3-5-1

Question ID : 424429741

Status : Answered

Chosen Option : 1

Q.2 उस विकल्प का चयन करें जिसका तीसरे पद से वही संबंध है जो दूसरे पद का पहले पद से है।

KLEN : EKNL :: GHIS : ?

- Ans
- 1. IGHS
 - 2. IHSG
 - 3. IHGS
 - 4. IGSH

Question ID : 424429745

Status : Answered

Chosen Option : 4

Q.3 निम्नलिखित श्रृंखला में प्रश्नचिह्न (?) का स्थान ले सकने वाली संख्या का चयन करें।

5, 5, 15, 75, 525, ?

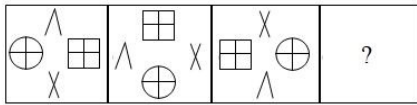
- Ans
- 1. 1050
 - 2. 1575
 - 3. 4725
 - 4. 2625

Question ID : 424429739

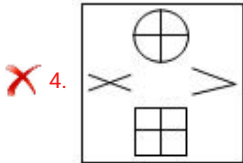
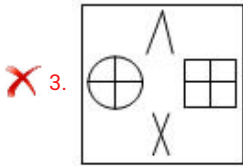
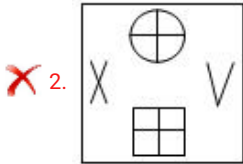
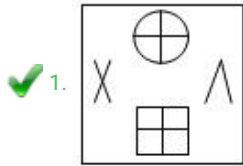
Status : Answered

Chosen Option : 3

Q.4 उस उत्तर आकृति का चयन करें जो निम्नलिखित प्रश्न आकृति में प्रश्न चिह्न (?) के स्थान पर आएगी।



Ans

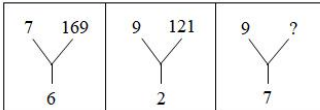


Question ID : 424429753

Status : Answered

Chosen Option : 1

Q.5 दिए गए पैटर्न का ध्यानपूर्वक अध्ययन करें और उस संख्या का चयन करें जो इसमें प्रश्न चिह्न (?) के स्थान पर आएगी।



Ans

✗ 1. 81

✗ 2. 196

✗ 3. 289

✓ 4. 256

Question ID : 424429737

Status : Answered

Chosen Option : 4

Q.6 नीचे दिए गए कथनों और निष्कर्षों को ध्यानपूर्वक पढ़ें। यह मानते हुए कि कथनों में दी गयी जानकारी सत्य है, भले ही यह आम तौर पर स्थापित तथ्यों से भिन्न प्रतीत होती हो, यह निर्णय करें कि दिए गए निष्कर्षों में से कौन से निष्कर्ष कथन का तार्किक रूप से अनुसरण करते हैं।

कथन:

1. सभी वर्ग आयत हैं।
2. सभी आयत बहुभुज हैं।

निष्कर्ष:

- I. वर्ग बहुभुज नहीं है।
- II. वर्ग आयत और बहुभुज दोनों हैं।

Ans

1. केवल निष्कर्ष II अनुसरण करता है।
2. केवल निष्कर्ष I अनुसरण करता है।
3. न तो निष्कर्ष I और न ही II अनुसरण करता है।
4. निष्कर्ष I और II दोनों अनुसरण करते हैं।

Question ID : 424429751

Status : Answered

Chosen Option : 1

Q.7 चार शब्द दिए गए हैं, जिन में से तीन किसी तरह से समान हैं और एक असंगत है। असंगत शब्द का चयन करें।

Ans

1. खाने की मेज
2. अलमारी
3. अध्ययन मेज़
4. पानी का फिल्टर

Question ID : 424429750

Status : Answered

Chosen Option : 4

Q.8 उस अक्षर का चयन करें जो निम्नलिखित श्रेणी में प्रश्न चिह्न (?) के स्थान पर आएगा।

A, D, B, F, D, I, G, ?, K

Ans

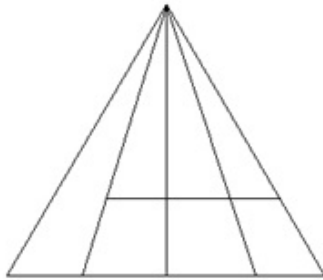
1. J
2. N
3. E
4. M

Question ID : 424429746

Status : Answered

Chosen Option : 4

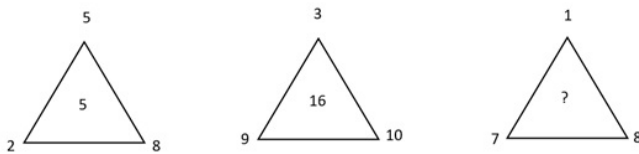
Q.9 दी गई आकृति में कितने त्रिभुज हैं?



- Ans
- 1. 13
 - 2. 18
 - 3. 16
 - 4. 21

Question ID : 424429754
 Status : Answered
 Chosen Option : 3

Q.10 निम्नलिखित आकृति श्रृंखला में प्रश्नचिह्न (?) का स्थान ले सकने वाली संख्या का चयन करें।



- Ans
- 1. 11
 - 2. 5
 - 3. 16
 - 4. 14

Question ID : 424429738
 Status : Not Attempted and Marked For Review
 Chosen Option : --

Q.11 अक्षरों के उस संयोजन का चयन करें जो निम्न अक्षर श्रृंखला में दिए गए रिक्त स्थानों में बाएं से दाएं क्रमिक रूप से रखे जाने पर श्रृंखला को पूरा करेंगे।

a _ cd _ cba _ bcddc _ a

- Ans
- 1. adcb
 - 2. aaba
 - 3. bdab
 - 4. babd

Question ID : 424429744
 Status : Answered
 Chosen Option : 3

Q.12 जब लक्ष्मी ने महेश को देखा, तो उसने कहा, "वह मेरी पुत्री के पिता के ससुर का पुत्र है"। महेश का लक्ष्मी से क्या संबंध है?

- Ans
- 1. पुत्र
 - 2. भाई
 - 3. भतीजा/भांजा
 - 4. मामा/मौसा

Question ID : 424429747
Status : Answered
Chosen Option : 2

Q.13 एक निश्चित कूट भाषा में NEPOLIAN को MCQQKGBP के रूप में लिखा जाता है। उसी कूटभाषा में MOHANDEV को कैसे लिखा जाएगा?

- Ans
- 1. LMICMBFX
 - 2. LMICMBXF
 - 3. NQICMBFX
 - 4. NQGCLBFX

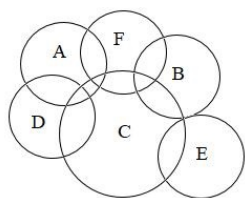
Question ID : 424429742
Status : Answered
Chosen Option : 3

Q.14 उस विकल्प का चयन करें जिसका तीसरी संख्या से वही संबंध है जो दूसरी संख्या का पहली संख्या से है।
215 : 125 :: 415 : ?

- Ans
- 1. 145
 - 2. 250
 - 3. 625
 - 4. 154

Question ID : 424429736
Status : Answered
Chosen Option : 1

Q.15 दिए गए वेन आरेख में विभिन्न भागों द्वारा विभिन्न जानवरों को दर्शाया गया है। 'A' कुत्तों को दर्शाता है, 'B' बिल्लियों को दर्शाता है, 'C' मछलियों को दर्शाता है, 'D' नेवलों को दर्शाता है, 'E' चूहों को दर्शाता है और 'F' खरगोशों को दर्शाता है। कौन सा विकल्प केवल कुत्तों, मछलियों और नेवलों के समूह को दर्शाता है?



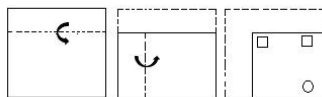
- Ans
- 1. D
 - 2. A
 - 3. F
 - 4. C

Question ID : 424429758

Status : Answered

Chosen Option : 1

Q.16 दिए गए प्रश्नचित्र में कागज को मोड़ने का क्रम और मोड़े गए कागज को काटने की विधि दर्शायी गई है। कागज को पुनः खोलने पर यह कैसा दिखाई देगा?



Ans

- 1.
- 2.
- 3.
- 4.

Question ID : 424429756

Status : Answered

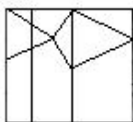
Chosen Option : 2

Q.17 उस उत्तर आकृति का चयन करें जिसमें प्रश्न आकृति अंतर्निहित है।
(घुमाने की अनुमति नहीं है)

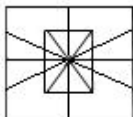


Ans

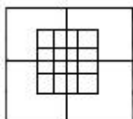
✗ 1.



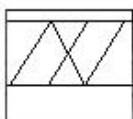
✓ 2.



✗ 3.



✗ 4.



Question ID : 424429755

Status : Answered

Chosen Option : 2

Q.18 एक परिवार में, श्रीमान और श्रीमती गजानन की पाँच पुत्रियाँ हैं और प्रत्येक पुत्री का एक भाई है। परिवार में कितने व्यक्ति हैं?

Ans

✗ 1. 9

✗ 2. 6

✓ 3. 8

✗ 4. 5

Question ID : 424429734

Status : Answered

Chosen Option : 3

Q.19 एक निश्चित कूटभाषा में, 458693 को 367784 के रूप में कूटबद्ध किया गया है। उसी भाषा में 742351 को कैसे कूटबद्ध किया जाएगा?

Ans

✗ 1. 863442

✗ 2. 655442

✓ 3. 651442

✗ 4. 651462

Question ID : 424429743

Status : Answered

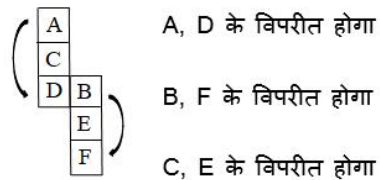
Chosen Option : 3

Q.20 चार अक्षर-समूहों के युग्म दिए गए हैं, इनमें से तीन किसी न किसी प्रकार से समान हैं जब कि चौथा अन्य से अलग है। अन्य से अलग अक्षर-समूह युग्म का चयन करें।

- Ans
- ✗ 1. KITE : TIEK
 - ✗ 2. FIRU : RIUF
 - ✗ 3. MANY : NAYM
 - ✓ 4. LICK : ILCK

Question ID : 424429749
 Status : Answered
 Chosen Option : 4

Q.21 उस उत्तर आकृति का चयन करें, जो दी गई शीट को रेखाओं पर मोड़कर बनायी जा सकती है।



Ans

- ✗ 1.
- ✓ 2.
- ✗ 3.
- ✗ 4.

Question ID : 424429752
 Status : Answered
 Chosen Option : 2

Q.22 उस विकल्प का चयन करें जिसका तीसरे शब्द से वही संबंध है जो दूसरे शब्द का पहले शब्द से है।

कार : गैराज :: हवाई जहाज : ?

- Ans
- 1. आकाश
 - 2. विमान दौड़ पट्टी
 - 3. हैंगर
 - 4. विमान-चालक

Question ID : 424429748
Status : Answered
Chosen Option : 3

Q.23 दिए गए समीकरण को संतुलित करने के लिए किन दो चिहनों को परस्पर बदला जाना चाहिए?

$$(560 \div 80) + 90 \times 8 - 38 = 600$$

- Ans
- 1. \times और $+$
 - 2. \div और $-$
 - 3. $+$ और \div
 - 4. $+$ और $-$

Question ID : 424429735
Status : Answered
Chosen Option : 1

Q.24 यदि प्रश्न आकृति में एक दर्पण को रेखा PQ पर रखा जाता है, तो कौन सी उत्तर आकृति प्रश्न आकृति का सही दर्पण प्रतिबिंब है?





- Ans
- 1.
 - 2.
 - 3.
 - 4.

Question ID : 424429757
Status : Answered
Chosen Option : 3

Q.25 चार संख्याएं दी गई हैं, जिनमें से तीन किसी तरह से समान हैं और एक असंगत है। असंगत संख्या का चयन करें।

Ans  1. 2306

 2. 1331

 3. 1728

 4. 2197

Question ID : 424429740

Status : Answered

Chosen Option : 1