



Section : General Intelligence


Q.1 उस विकल्प का चयन करें जिसमें संख्याएँ उसी प्रकार संबंधित हैं जिस प्रकार दिए गए समुच्चय की संख्याएँ संबंधित हैं।

(26, 63, 124)

Ans  1. (125, 216, 343)

 2. (63, 124, 215)

 3. (63, 123, 213)

 4. (126, 217, 344)

Question ID : 8161612867

Status : Answered

Chosen Option : 2

Q.2 Select the option in which the words share the same relationship as that shared by the given pair of words.

Syringe : Piston

- Ans
- 1. Vehicle : Passenger
  - 2. Bulb : Light
  - 3. Tyre : Tube
  - 4. Balloon : Air

Question ID : 8161612878

Status : Answered

Chosen Option : 4

Q.3 Select the option that is related to the third letter-cluster in the same way as the second letter-cluster is related to the first letter-cluster.

STOP : HGLK :: LAMB : ?

- Ans
- 1. PYOX
  - 2. OZNY
  - 3. NCOD
  - 4. JYKZ

Question ID : 8161612874

Status : Not Answered

Chosen Option : --

Q.4 दर्पण को आकृति के दाईं ओर रखे जाने पर, दी गई आकृति के सही दर्पण प्रतिबिंब का चयन करें।



Ans

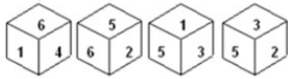
- 1.
- 2.
- 3.
- 4.

Question ID : 8161612887

Status : Answered

Chosen Option : 4

Q.5 Four different positions of the same dice are shown. Select the number that will be on the face opposite to the face having number '6'.



- Ans
- 1. 1
  - 2. 5
  - 3. 3
  - 4. 2

Question ID : 8161612882  
Status : Answered  
Chosen Option : 3

Q.6 किसी निश्चित कूट भाषा में, HIMACHAL को LAHCAMIH लिखा जाता है। उसी भाषा में MAGNETIC को क्या लिखा जाएगा?

- Ans
- 1. ETICNGAM
  - 2. CIETNGAM
  - 3. GAMNECIT
  - 4. CITENGAM

Question ID : 8161612872  
Status : Answered  
Chosen Option : 4

Q.7 Select the option in which the numbers are related in the same way as are the numbers of the following set.  
(11, 57, 8)

- Ans
- 1. (18, 89, 15)
  - 2. (15, 81, 12)
  - 3. (15, 38, 13)
  - 4. (12, 64, 10)

Question ID : 8161612868  
Status : Not Answered  
Chosen Option : --

Q.8 दिए गए कथनों और निष्कर्षों को ध्यानपूर्वक पढ़ें। यह मानते हुए कि कथनों में दी गई जानकारी सही है, भले ही वह आम तौर पर स्थापित तथ्यों से भिन्न प्रतीत होती है, निर्णय करें कि कौन सा/से निष्कर्ष तर्कसंगत रूप से इन कथनों का अनुसरण करता है / करते हैं।

कथन:

1. सभी कारें, मोटरें हैं।
2. सभी मोटरें, साइकिलें हैं।

निष्कर्ष:

- I. सभी साइकिलें, कारें हैं।
- II. सभी कारें, साइकिलें हैं।

- Ans
1. केवल निष्कर्ष I अनुसरण करता है।
  2. न तो निष्कर्ष I और न ही निष्कर्ष II अनुसरण करता है।
  3. केवल निष्कर्ष II अनुसरण करता है।
  4. निष्कर्ष I और II दोनों अनुसरण करते हैं।

Question ID : 8161612881

Status : Answered

Chosen Option : 4

Q.9 Which letter will replace the question mark (?) to complete the following series?

F, I, M, ?, X

- Ans
1. Q
  2. T
  3. R
  4. S

Question ID : 8161612871

Status : Answered

Chosen Option : 3

Q.10 Select the option in which the numbers share the same relationship as that shared by the given pair of numbers.

12 : 64

- Ans
1. 13 : 65
  2. 11 : 56
  3. 16 : 76
  4. 14 : 72

Question ID : 8161612866

Status : Answered

Chosen Option : 4

Q.11 Which letter-cluster will replace the question mark (?) to complete the following series?

PGD, SEE, VCF, ?, ?

- Ans
- 1. YAD, BYH
  - 2. YAG, BYH
  - 3. ZBD, CYI
  - 4. YAH, BZH

Question ID : 8161612876

Status : Answered

Chosen Option : 2

Q.12 In a certain code language, TIFFIN is coded as 67 and BOX is coded as 44. How will CARDBOARD be coded as in that language?

- Ans
- 1. 69
  - 2. 67
  - 3. 66
  - 4. 64

Question ID : 8161612873

Status : Answered

Chosen Option : 1

Q.13 एक महिला का परिचय देते हुए, रमन ने कहा, "ये मेरे पिताजी के ससुर की पत्नी हैं"। उस महिला का रमन से क्या संबंध है?

- Ans
- 1. मौसी
  - 2. नानी
  - 3. दादी
  - 4. सास

Question ID : 8161612877

Status : Answered

Chosen Option : 2

Q.14 'अंपायर' का 'पिच' से वही संबंध है जो 'मेकेनिक' का '\_\_\_\_\_ ' से है।

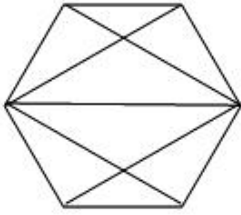
- Ans
- 1. मशीन
  - 2. पान (स्पैनर)
  - 3. मरम्मत
  - 4. गैराज

Question ID : 8161612875

Status : Answered

Chosen Option : 4

Q.15 How many triangles are present in the following figure?



- Ans
- 1. 14
  - 2. 16
  - 3. 18
  - 4. 12

Question ID : 8161612884  
Status : Answered  
Chosen Option : 1

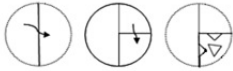
Q.16 Select the number that can replace the question mark (?) in the following series.

2, 2, 6, 10, 22, 42, ?

- Ans
- 1. 86
  - 2. 84
  - 3. 64
  - 4. 82

Question ID : 8161612869  
Status : Answered  
Chosen Option : 4

**Q.17** The sequence of folding a piece of paper and the manner in which the folded paper has been cut is shown in the following figures. How would this paper look when unfolded?



**Ans**

1.



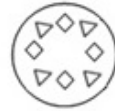
2.



3.



4.



Question ID : 8161612886

Status : Answered

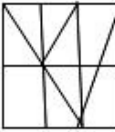
Chosen Option : 2

**Q.18** उस विकल्प का चयन करें जिसमें दी गई आकृति अंतर्निहित है। (घुमाने की अनुमति नहीं है)



**Ans**

1.



2.



3.



4.



Question ID : 8161612885

Status : Not Answered

Chosen Option : --

Q.19 Study the given pattern carefully and select the number that can replace the question mark (?) in it.

150	25	100
132	22	88
162	?	108

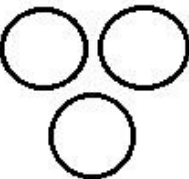
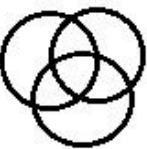
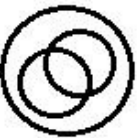

- Ans
- 1. 29
  - 2. 27
  - 3. 24
  - 4. 30

Question ID : 8161612864  
Status : Not Answered  
Chosen Option : --

Q.20 उस वेन आरेख का चयन करें जो दिए गए वर्गों के बीच के संबंध को सर्वोत्तम ढंग से दर्शाता है।

फल, खाद्य पदार्थ, कुकीज़

Ans

- 1. 
- 2. 
- 3. 
- 4. 

Question ID : 8161612888  
Status : Answered  
Chosen Option : 4



Q.21 If '+' means '×'; '×' means '-'; '-' means '+' and '÷' means '÷'. Then find the value of following expression.

$$18 + 2 - 5 \times 6 \div 4 = ?$$

- Ans
- 1. 47
  - 2. 43
  - 3. 45
  - 4. 12.5

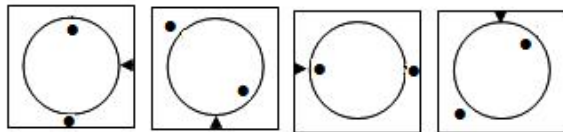
Question ID : 8161612870  
Status : Answered  
Chosen Option : 2

Q.22 Four letter-clusters have been given, out of which three are alike in some manner and one is different. Select the odd letter-cluster.

- Ans
- 1. NKHEB
  - 2. SPMJG
  - 3. FHLQR
  - 4. UROLI

Question ID : 8161612879  
Status : Answered  
Chosen Option : 3

Q.23 Select the option figure that will come next in the following series.



- Ans
- 1.
  - 2.
  - 3.
  - 4.

Question ID : 8161612883  
Status : Answered  
Chosen Option : 4

Q.24 Which two signs should be interchanged in the following equation to make it correct?

$$78 \div 6 \times 4 - 3 + 9 = 10$$

- Ans
- 1.  $\div$  and  $+$
  - 2.  $-$  and  $\times$
  - 3.  $+$  and  $-$
  - 4.  $\times$  and  $\div$

Question ID : 8161612865  
Status : Answered  
Chosen Option : 2

Q.25 Four letter-clusters have been given, out of which three are alike in some manner and one is different. Select the odd letter-cluster.

- Ans
- 1. ILPU
  - 2. YVRO
  - 3. ORVA
  - 4. ADHM

Question ID : 8161612880  
Status : Answered  
Chosen Option : 2