

Section : General Intelligence

Q.1 चार अक्षर-समूह दिए गए हैं, जिनमें से तीन किसी न किसी प्रकार संगत हैं और एक असंगत है। उस असंगत अक्षर-समूह का चयन करें।

- Ans
- 1. CUX
  - 2. BIZ
  - 3. ABY
  - 4. MOW

Question ID : 8161612778  
Status : Answered  
Chosen Option : 3

Q.2 उस विकल्प का चयन करें, जिसका तीसरे शब्द से वही संबंध है, जो संबंध दूसरे शब्द का पहले शब्द से है।

विद्यालय : शिक्षा :: अस्पताल : ?

- Ans
- 1. रोग
  - 2. पुस्तकें
  - 3. डॉक्टर
  - 4. चिकित्सा

Question ID : 8161612777

Status : Answered

Chosen Option : 4

Q.3 आज अरुण अपना जन्मदिन मना रहा है। अपने अगले जन्मदिन पर, वह अपनी 12 वर्ष पहले की आयु की दोगुनी आयु का हो जाएगा। अरुण की वर्तमान आयु कितनी है?

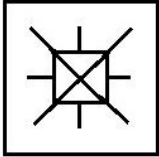
- Ans
- 1. 24 वर्ष
  - 2. 27 वर्ष
  - 3. 25 वर्ष
  - 4. 26 वर्ष

Question ID : 8161612763

Status : Answered

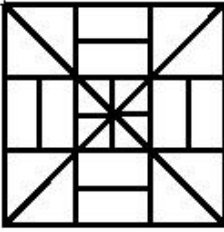
Chosen Option : 3

Q.4 उस विकल्प का चयन करें जिसमें दी गई आकृति अंतर्निहित है। (घुमाने की अनुमति नहीं है)

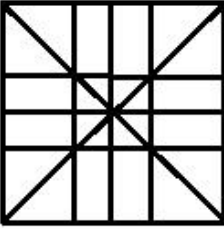


Ans

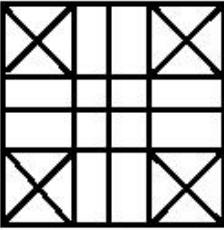
✗ 1.



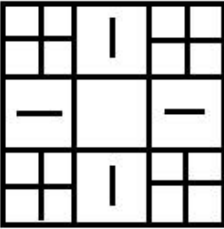
✓ 2.



✗ 3.



✗ 4.



Question ID : 8161612782

Status : Answered

Chosen Option : 2

Q.5 चार शब्द दिए गए हैं, जिनमें से तीन किसी न किसी प्रकार संगत हैं और एक असंगत है। उस असंगत शब्द का चयन करें।

Ans

✗ 1. सृजन करना

✗ 2. एकत्र करना

✓ 3. तोड़ना

✗ 4. निर्माण

Question ID : 8161612779

Status : Answered

Chosen Option : 3

Q.6 दिए गए कथनों और निष्कर्षों को ध्यान से पढ़ें। यह मानते हुए कि कथनों में दी गई जानकारी सही है, भले ही वह आम तौर पर स्थापित तथ्यों से भिन्न दिखाई देती हो, निर्णय लें कि कौन सा/से निष्कर्ष तर्कसंगत रूप से इन कथनों का अनुसरण करता है / करते हैं।

कथन:

1. कुछ मछलियाँ, घोड़े हैं।
2. कुछ घोड़े, पतंगें हैं।

निष्कर्ष:

- I. कुछ घोड़े, मछलियाँ हैं।
- II. कुछ पतंगें, मछलियाँ हैं।
- III. कुछ पतंगें, घोड़े हैं।

Ans

1. निष्कर्ष I, II और III सभी अनुसरण करते हैं।
2. केवल निष्कर्ष II और निष्कर्ष IV अनुसरण करते हैं।
3. केवल निष्कर्ष I और निष्कर्ष III अनुसरण करते हैं।
4. केवल निष्कर्ष I और निष्कर्ष II अनुसरण करते हैं।

Question ID : 8161612780

Status : Answered

Chosen Option : 3

Q.7 दिए गए समीकरण को संतुलित करने के लिए किन दो संख्याओं को आपस में बदलना होगा?

$$3 \times 9 + 5 - 18 + 7 = 24$$

Ans

1. 3 और 5
2. 5 और 7
3. 18 और 9
4. 9 और 7

Question ID : 8161612764

Status : Answered

Chosen Option : 4

Q.8 दर्पण को दी गई आकृति के दाईं ओर रखे जाने पर, निम्नलिखित में से कौन सा विकल्प दी गई आकृति की सही दर्पण छवि है?

aeugh!#%428ghr

Ans

- 1.
- 2.
- 3.
- 4.

Question ID : 8161612786

Status : Answered

Chosen Option : 2

Q.9 यदि किसी निश्चित कूट भाषा में, PATNA 260 और GOA 69 लिखा जाता है। तो उसी भाषा में RANCHI को क्या लिखा जाएगा?

- Ans
- 1. 360
  - 2. 135
  - 3. 620
  - 4. 318

Question ID : 8161612772  
Status : Answered  
Chosen Option : 4

Q.10 किसी निश्चित कूट भाषा में, 'STYLE' को '181924114' लिखा जाता है। उसी भाषा में 'FIRST' को क्या लिखा जाएगा?

- Ans
- 1. 69181920
  - 2. 58171820
  - 3. 58181920
  - 4. 58171819

Question ID : 8161612770  
Status : Answered  
Chosen Option : 4

Q.11 अक्षरों के उस संयोजन का चयन करें, जिसे अक्षर श्रृंखला में रिक्त स्थानों पर क्रमिक रूप से भरे जाने पर श्रृंखला पूरी हो जाएगी।

a \_ dda \_ cb \_ \_ cac \_ da \_

- Ans
- 1. cbcaddabdc
  - 2. bddacbdbcd
  - 3. bdddcbdacc
  - 4. bddaccbbdd

Question ID : 8161612775  
Status : Answered  
Chosen Option : 1

Q.12 नीचे दी गई आकृतियों में कागज को मोड़ने का क्रम और काटने की विधि दर्शाई गई है। यह कागज खोले जाने पर कैसा दिखाई देगा?



Ans

1.



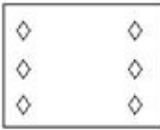
2.



3.



4.



Question ID : 8161612785

Status : Answered

Chosen Option : 3

Q.13 किसी निश्चित कूट भाषा में, TIGER को ROEIP लिखा जाता है। उसी भाषा में LION को क्या लिखा जाएगा?

Ans

1. JOUR

2. JOUL

3. JOIL

4. JOMR

Question ID : 8161612771

Status : Answered

Chosen Option : 4

Q.14 चार संख्या-युग्म दिए गए हैं, जिनमें से तीन किसी न किसी प्रकार संगत हैं और एक असंगत है। उस असंगत संख्या-युग्म का चयन करें।

Ans

1. 24 : 529

2. 25 : 676

3. 30 : 961

4. 21 : 484

Question ID : 8161612769

Status : Answered

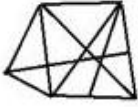
Chosen Option : 1

Q.15 उस विकल्प का चयन करें जिसमें दी गई आकृति अंतर्निहित है। (घुमाने की अनुमति नहीं है)



Ans

✓ 1.



✗ 2.



✗ 3.



✗ 4.



Question ID : 8161612784

Status : Answered

Chosen Option : 1

Q.16 चार अक्षर-समूह दिए गए हैं, जिनमें से तीन किसी न किसी प्रकार संगत हैं और एक असंगत है। उस असंगत अक्षर-समूह का चयन करें।

Ans

✗ 1. VXAE

✓ 2. UQNL

✗ 3. LNQU

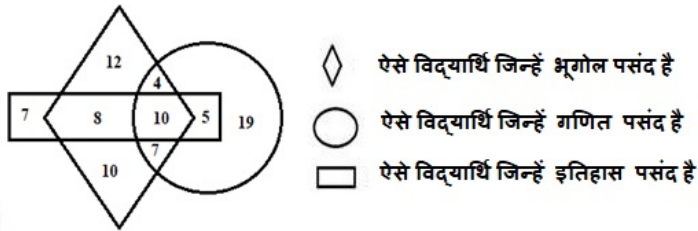
✗ 4. YADH

Question ID : 8161612774

Status : Answered

Chosen Option : 2

Q.17 निम्नलिखित आरेख पर ध्यान दें।



कितने विद्यार्थियों को भूगोल और गणित दोनों पसंद हैं, किंतु इतिहास पसंद नहीं है?

- Ans
- 1. 4
  - 2. 7
  - 3. 11
  - 4. 21

Question ID : 8161612787

Status : Answered

Chosen Option : 3

Q.18 A, M का पति है, जो N की भाभी है। N, R और U की बेटी है। M, U की पुत्रवधू है। A, U से कैसे संबंधित है?

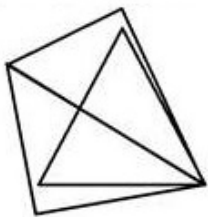
- Ans
- 1. भाई
  - 2. पिता
  - 3. साला
  - 4. बेटा

Question ID : 8161612776

Status : Answered

Chosen Option : 4

Q.19 दी गई आकृति में कितने त्रिभुज हैं?



- Ans
- 1. 7
  - 2. 3
  - 3. 6
  - 4. 5

Question ID : 8161612783

Status : Answered

Chosen Option : 4



Q.20 उस समुच्चय का चयन करें, जिसमें संख्याओं के बीच वही संबंध है, जो संबंध नीचे दिए गए समुच्चय की संख्याओं के बीच है।

(6, 18, 162)

- Ans
- 1. (3, 18, 36)
  - 2. (5, 15, 80)
  - 3. (4, 12, 34)
  - 4. (4, 8, 32)

Question ID : 8161612766  
Status : Answered  
Chosen Option : 4

Q.21 उस विकल्प का चयन करें, जिसका तीसरे अक्षर-समूह से वही संबंध है, जो संबंध दूसरे अक्षर-समूह का पहले अक्षर-समूह से है।

PURPLE : OWOTGK :: GREEN : ?

- Ans
- 1. FTBII
  - 2. FTBBI
  - 3. FTBIJ
  - 4. FTBJI

Question ID : 8161612773  
Status : Answered  
Chosen Option : 1

Q.22 उस संख्या का चयन करें, जो निम्नलिखित श्रृंखला में प्रश्न-चिह्न (?) के स्थान पर आ सकती हो।

0, 1, 1, 3, 2, ? , 3, 13, 4, 21

- Ans
- 1. 3
  - 2. 2
  - 3. 7
  - 4. 0

Question ID : 8161612768  
Status : Answered  
Chosen Option : 3

Q.23 उस समुच्चय का चयन करें, जिसमें संख्याओं के बीच वही संबंध है, जो संबंध नीचे दिए गए समुच्चय की संख्याओं के बीच है।

(8, 6, 9)

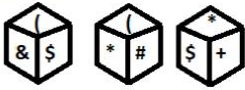
- Ans
- 1. (4, 2, 6)
  - 2. (5, 3, 3)
  - 3. (2, 1, 3)
  - 4. (3, 3, 6)

Question ID : 8161612767

Status : Answered

Chosen Option : 1

Q.24 एक पासे की तीन विभिन्न स्थितियाँ दर्शाई गई हैं। पासे पर '(' दर्शाने वाले फलक के विपरीत फलक पर कौन सा चिह्न होगा?



- Ans
- 1. +
  - 2. #
  - 3. \$
  - 4. \*

Question ID : 8161612781

Status : Answered

Chosen Option : 1

Q.25 उस विकल्प का चयन करें, जिसका तीसरी संख्या से वही संबंध है, जो संबंध दूसरी संख्या का पहली संख्या से है।  
3 : 25 :: 1 : ?

- Ans
- 1. 8
  - 2. 9
  - 3. 10
  - 4. 6

Question ID : 8161612765

Status : Answered

Chosen Option : 2