

Section : General Intelligence

Q.1 दिए गए कथनों और निष्कर्षों को ध्यान से पढ़ें। यह मानते हुए कि कथनों में दी गई जानकारी सही है, भले ही वह आम तौर पर स्थापित तथ्यों से भिन्न दिखाई देती है, तय कीजिए कि कौन सा/से निष्कर्ष तर्कसंगत रूप से इन कथनों का अनुसरण करता/करते है/हैं।

कथन:

सभी लड़के रोबोट हैं।

सभी लड़कियां रोबोट हैं।

निष्कर्ष:

I. कुछ रोबोट लड़के हैं।

II. कोई भी रोबोट लड़की नहीं है।

III. कुछ रोबोट लड़कियां हैं।

Ans

1. केवल निष्कर्ष I और II अनुसरण करते हैं।

2. सभी निष्कर्ष I, II और III अनुसरण करते हैं।

3. केवल निष्कर्ष I और III अनुसरण करते हैं।

4. केवल निष्कर्ष III अनुसरण करता है।

Question ID : 8161612679

Status : Answered

Chosen Option : 3

Q.2 कौन सा विकल्प दिए गए शब्दों को उस सही क्रम में दर्शाता है, जिस क्रम में वे अंग्रेजी शब्दकोश में दिखाई देंगे?

1. Dovetail

2. Domestic

3. Dominate

4. Donate

5. Dorsal

Ans

1. 2, 4, 3, 5, 1

2. 1, 3, 5, 4, 2

3. 2, 3, 4, 5, 1

4. 2, 3, 4, 1, 5

Question ID : 8161612669

Status : Answered

Chosen Option : 3

Q.3 'नागालैंड', 'कोहिमा' से उसी प्रकार संबंधित है जिस प्रकार 'असम', '_____' से संबंधित है।

- Ans
- 1. ईटानगर
 - 2. असमिया
 - 3. दिसपुर
 - 4. कोंकणी

Question ID : 8161612673
Status : Answered
Chosen Option : 3

Q.4 उस विकल्प का चयन करें जो तीसरे अक्षर-समूह से उसी प्रकार संबंधित है जिस प्रकार दूसरा अक्षर-समूह पहले अक्षर-समूह से संबंधित है।

KRZ : HOW :: CUX : ?

- Ans
- 1. YSU
 - 2. ZRU
 - 3. YTU
 - 4. ZTV

Question ID : 8161612672
Status : Answered
Chosen Option : 2

Q.5 क्रमिक रूप से + चिहनों को बदलने और निम्नलिखित समीकरण को संतुलित करने के लिए गणितीय चिहनों के सही संयोजन का चयन करें।

$11 + 15 + 78 + 6 + 18 + 160$

- Ans
- 1. $\times, +, \div, -, =$
 - 2. $+, \times, -, \div, =$
 - 3. $\times, +, -, \div, =$
 - 4. $+, \times, \div, -, =$

Question ID : 8161612663
Status : Answered
Chosen Option : 1

Q.6 उस विकल्प का चयन करें जिसमें शब्दों के बीच वही संबंध है, जो संबंध दिए गए शब्द-युग्म के शब्दों के बीच है।

गेहूँ : अनाज

- Ans
- 1. चाय : कॉफी
 - 2. शहर : यातायात
 - 3. दालचीनी : मसाले
 - 4. विजेता : पुरस्कार

Question ID : 8161612676
Status : Answered
Chosen Option : 3

Q.7 उस विकल्प का चयन करें जिसमें संख्याएँ उसी प्रकार संबंधित हैं जिस प्रकार दिए गए समुच्चय में संख्याएँ संबंधित हैं।

(789, 501, 645)

- Ans
- 1. (701, 538, 600)
 - 2. (645, 705, 573)
 - 3. (455, 573, 514)
 - 4. (224, 640, 330)

Question ID : 8161612665
Status : Not Answered
Chosen Option : --

Q.8 चार संख्या-युग्म दिए गए हैं, जिनमें से तीन किसी प्रकार संगत हैं और एक असंगत है। उस असंगत संख्या-युग्म का चयन करें।

- Ans
- 1. 11 : 142
 - 2. 14 : 210
 - 3. 22 : 506
 - 4. 17 : 306

Question ID : 8161612668
Status : Answered
Chosen Option : 1

Q.9 उस विकल्प-आकृति का चयन करें जो दी गई आकृति X में अंतर्निहित है।

(घुमाने की अनुमति नहीं है)



Figure X

- Ans
- 1.
 - 2.
 - 3.
 - 4.

Question ID : 8161612683
Status : Answered
Chosen Option : 4

Q.10 उस विकल्प का चयन करें जिसमें संख्याएँ उसी प्रकार संबंधित हैं जिस प्रकार दिए गए समुच्चय में संख्याएँ संबंधित हैं।

(13, 17, 442)

- Ans
- 1. (15, 14, 415)
 - 2. (11, 19, 628)
 - 3. (17, 21, 367)
 - 4. (18, 15, 540)

Question ID : 8161612666
Status : Answered
Chosen Option : 4

Q.11 यदि 29 जनवरी 2003 को बुधवार हो, तो 26 फरवरी 2005 को सप्ताह का कौन सा दिन होगा?

- Ans
- 1. शुक्रवार
 - 2. रविवार
 - 3. गुरुवार
 - 4. शनिवार

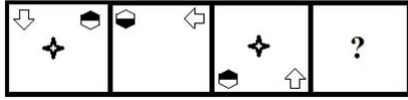
Question ID : 8161612662
Status : Marked For Review
Chosen Option : 3

Q.12 Four words have been given, out of which three are alike in some manner and one is different. Select the odd one.

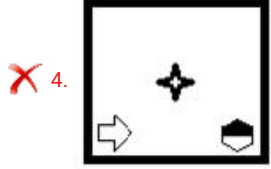
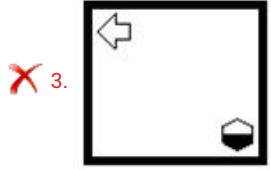
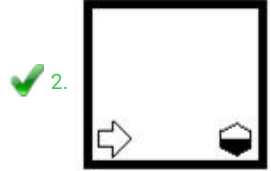
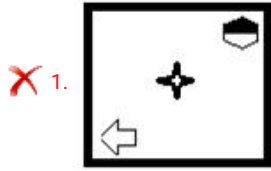
- Ans
- 1. Spoon
 - 2. Knife
 - 3. Fork
 - 4. Spade

Question ID : 8161612678
Status : Answered
Chosen Option : 1

Q.13 उस विकल्प-आकृति का चयन करें जो नीचे दी गई आकृति-श्रृंखला में प्रश्न चिह्न (?) के स्थान पर आ सकती है।



Ans



Question ID : 8161612681

Status : Marked For Review

Chosen Option : 2

Q.14 एक निश्चित कूट भाषा में 'BEAUTY' को 'ZUVBFC' के रूप में लिखा जाता है। उसी कूट भाषा में 'MARTYR' को क्या लिखा जाएगा?

- Ans
- ✗ 1. TXURBN
 - ✗ 2. SYUSDM
 - ✓ 3. SZUSBN
 - ✗ 4. SZUQDN

Question ID : 8161612670

Status : Answered

Chosen Option : 3

Q.15 उस संख्या का चयन करें जो निम्नलिखित श्रेणी में प्रश्न चिह्न (?) के स्थान पर आ सकती है।

65, 70, 80, 95, 115, ?, 170

- Ans
- ✗ 1. 130
 - ✗ 2. 165
 - ✓ 3. 140
 - ✗ 4. 145

Question ID : 8161612667

Status : Answered

Chosen Option : 3

Q.16 उस अक्षर का चयन करें जो निम्नलिखित श्रेणी में प्रश्न चिह्न (?) के स्थान पर आ सकता है।

K, B, N, D, Q, F, T, H, ?

- Ans
- 1. J
 - 2. K
 - 3. V
 - 4. W

Question ID : 8161612674

Status : Answered

Chosen Option : 4

Q.17 उस विकल्प का चयन करें जो तीसरी संख्या से उसी प्रकार संबंधित है जिस प्रकार दूसरी संख्या पहली संख्या से संबंधित है और छठी संख्या पाँचवीं संख्या से संबंधित है।

8 : 81 :: 12 : ? :: 11 : 144

- Ans
- 1. 144
 - 2. 169
 - 3. 196
 - 4. 256

Question ID : 8161612664

Status : Answered

Chosen Option : 2

Q.18 चार अक्षर-समूह दिए गए हैं, जिनमें से तीन किसी प्रकार संगत हैं और एक असंगत है। उस असंगत अक्षर-समूह का चयन करें।

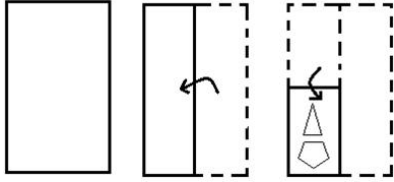
- Ans
- 1. NTZ
 - 2. BGQ
 - 3. FLR
 - 4. LRX

Question ID : 8161612677

Status : Answered

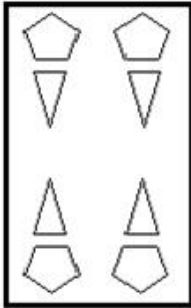
Chosen Option : 2

Q.19 नीचे दी गई आकृतियों में एक कागज़ को मोड़ने का क्रम और मुड़े हुए कागज़ को काटने का ढंग दर्शाया गया है।
विकल्प आकृतियों में से चयन करें कि पुनः खोले जाने पर यह कागज़ कैसा दिखाई देगा?

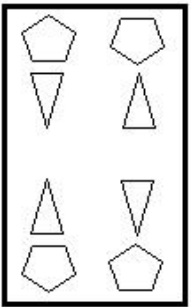


Ans

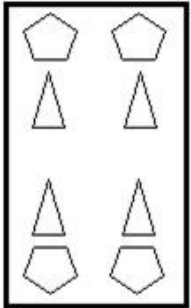
✓ 1.



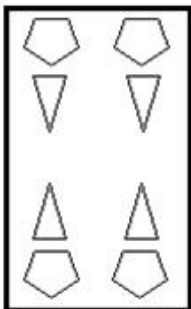
✗ 2.



✗ 3.



✗ 4.



Question ID : 8161612684

Status : Answered

Chosen Option : 1

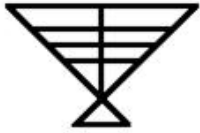
Q.20 A + B का अर्थ है 'A, B की माँ हैं';
A - B का अर्थ है 'A, B की बहन है';
A × B का अर्थ है 'A, B का पुत्र है';
A ÷ B का अर्थ है 'A, B के पिता हैं'।

यदि $K + U - T \times R \div M$ है, तो K का M से क्या संबंध है?

- Ans
- 1. पत्नी
 - 2. नानी
 - 3. बहन
 - 4. माँ

Question ID : 8161612675
Status : Answered
Chosen Option : 4

Q.21 दी गई आकृति में कितने त्रिभुज हैं?



- Ans
- 1. 11
 - 2. 15
 - 3. 14
 - 4. 13

Question ID : 8161612682
Status : Marked For Review
Chosen Option : 4

Q.22 एक निश्चित कूट भाषा में, 'REQUIRE' को '100' के रूप में कूटबद्ध किया जाता है। उसी भाषा में 'ARRANGE' को किस रूप में कूटबद्ध किया जाएगा?

- Ans
- 1. 77
 - 2. 71
 - 3. 68
 - 4. 88

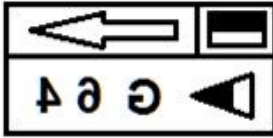
Question ID : 8161612671
Status : Answered
Chosen Option : 2

Q.23 एक दर्पण को दी गई आकृति के दाईं ओर रखे जाने पर दी गई आकृति के सही दर्पण छवि का चयन करें।

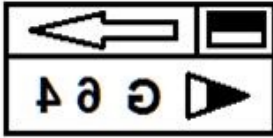


Ans

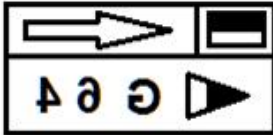
✗ 1.



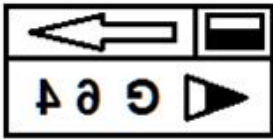
✓ 2.



✗ 3.



✗ 4.

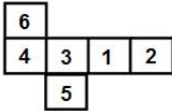


Question ID : 8161612685

Status : Answered

Chosen Option : 2

Q.24 दी गई शीट को मोड़कर एक घन बनाया गया है। इस प्रकार बनाए गए घन में निम्नलिखित में से कौन सा संख्या-युग्म विपरीत फलकों पर होगा?



Ans

✗ 1. 1 और 6

✗ 2. 6 और 3

✗ 3. 1 और 5

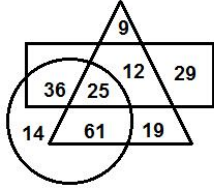
✓ 4. 2 और 3

Question ID : 8161612680

Status : Answered

Chosen Option : 4

Q.25 दिए गए वेन आरेख में, यदि 'वृत्त' 'वरिष्ठ वकीलों' को दर्शाता है, 'त्रिभुज' 'पिताओं' को दर्शाता है और 'आयत' 'भारतीयों' को दर्शाता है, तो कितने भारतीय वरिष्ठ वकील ऐसे हैं जो पिता नहीं हैं?



- Ans
- 1. 61
 - 2. 12
 - 3. 25
 - 4. 36

Question ID : 8161612686

Status : Answered

Chosen Option : 4