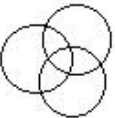
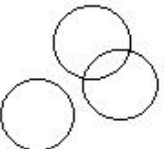




Section : General Intelligence

Q.1 उस वेन आरेख का चयन करें, जो दिए गए वर्गों के बीच के संबंध को सर्वोत्तम ढंग से दर्शाता है।

रेंगनेवाले जंतु, स्तनधारी, छिपकली

Ans

- 1. 
- 2. 
- 3. 
- 4. 

Question ID : 424429455
Status : Answered
Chosen Option : 1

Q.2 उस विकल्प का चुनाव करें, जिसमें संख्याओं का आपस में वही संबंध है, जो दिए गए समुच्चय की संख्याओं के बीच है।

(3, 68, 5)

- Ans
- 1. (2, 72, 10)
 - 2. (4, 64, 5)
 - 3. (2, 10, 1)
 - 4. (5, 95, 8)

Question ID : 424429435

Status : Answered

Chosen Option : 3

Q.3 उन गणितीय चिहनों के सही संयोजन का चुनाव करें, जिन्हें A की जगह क्रमिक रूप से बाएं से दाएं रखने पर समीकरण संतुलित हो जाएगा।

26 A 2 A 3 A 3 A 13

- Ans
- 1. \div , \times , $=$, \times
 - 2. \div , \times , $=$, $-$
 - 3. \times , $=$, $-$, \div
 - 4. \times , \div , $+$, $=$

Question ID : 424429432

Status : Answered

Chosen Option : 1

Q.4 किसी निश्चित कूट भाषा में, N को 30 और COT को 78 लिखा जाता है। उसी भाषा में PET को क्या लिखा जाएगा?

- Ans
- 1. 70
 - 2. 41
 - 3. 100
 - 4. 84

Question ID : 424429440

Status : Answered

Chosen Option : 4

Q.5 अक्षरों के उस संयोजन का चयन करें, जिसे अक्षर श्रृंखला में रिक्त स्थानों पर क्रमिक रूप बाएं से दाएं से भरे जाने पर श्रृंखला पूरी हो जाएगी।

aba_ccdab_b__ dababc__

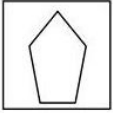
- Ans
- 1. baccdd
 - 2. bacacd
 - 3. caccdd
 - 4. abdccd

Question ID : 424429443

Status : Answered

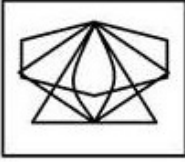
Chosen Option : 2

Q.6 उस विकल्प का चयन करें, जिस में दी गई प्रश्न आकृति अंतर्निहित है। (घुमाने की अनुमति नहीं है)



Ans

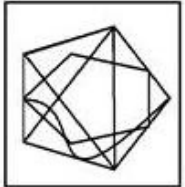
✗ 1.



✗ 2.



✗ 3.



✓ 4.



Question ID : 424429452

Status : Answered

Chosen Option : 4

Q.7 उस विकल्प का चयन करें, जिसका तीसरे अक्षर-समूह से वही संबंध है, जो दूसरे अक्षर-समूह का पहले अक्षर-समूह से है।

GOAT : DQYW :: TRES : ?

Ans

✗ 1. PSBU

✗ 2. RSDW

✓ 3. QTCV

✗ 4. HUMO

Question ID : 424429441

Status : Answered

Chosen Option : 3

Q.8 चार अक्षर-समूह दिए गए हैं, जिनमें से तीन किसी न किसी तरह से संगत हैं और एक असंगत है। उस असंगत अक्षर-समूह का चयन करें।

- Ans
- ✓ 1. TUGD
 - ✗ 2. ADZW
 - ✗ 3. EGV T
 - ✗ 4. NOML

Question ID : 424429446

Status : Answered

Chosen Option : 1

Q.9 दिए गए कथनों और निष्कर्षों को ध्यान से पढ़ें। यह मानते हुए कि कथनों में दी गई जानकारी सही है, भले ही वह आम तौर पर स्थापित तथ्यों से भिन्न दिखाई देती है, तब कीजिए कि कौन सा/से निष्कर्ष तर्कसंगत रूप से इन कथनों का अनुसरण करता/करते है/हैं।

कथन:

1. सभी फलियाँ, मांस हैं।
2. सभी रोटियाँ, मांस हैं।

निष्कर्ष:

- I. कुछ फलियाँ, रोटियाँ हैं।
- II. कुछ रोटियाँ, फलियाँ हैं।

- Ans
- ✗ 1. केवल निष्कर्ष I अनुसरण करता है।
 - ✗ 2. निष्कर्ष I और II दोनों अनुसरण करते हैं।
 - ✗ 3. निष्कर्ष I या II में से कोई एक अनुसरण करता है।
 - ✓ 4. निष्कर्ष I और II में से कोई भी अनुसरण नहीं करता है।

Question ID : 424429448

Status : Answered

Chosen Option : 4

Q.10 एक ही पासे की तीन अलग-अलग स्थितियाँ दिखाई गई हैं। उस संख्या का चयन करें, जो संख्या 1 वाले फलक के विपरीत फलक पर होगी।



- Ans
- ✗ 1. 5
 - ✗ 2. 4
 - ✗ 3. 3
 - ✓ 4. 6

Question ID : 424429449

Status : Answered

Chosen Option : 4

Q.11 उस विकल्प का चयन करें, जिसका तीसरे शब्द से वही संबंध है जो दूसरे शब्द का पहले शब्द से है।

कार्य : जूल :: क्षेत्रफल : ?

- Ans
- 1. परिमाण
 - 2. लंबाई
 - 3. रेडियन
 - 4. हेक्टेयर

Question ID : 424429442
Status : Answered
Chosen Option : 2

Q.12 चार संख्याएं दी गई हैं, जिन में से तीन किसी न किसी तरह से संगत हैं और एक असंगत है। उस असंगत संख्या का चयन करें।

- Ans
- 1. 268
 - 2. 212
 - 3. 124
 - 4. 255

Question ID : 424429437
Status : Answered
Chosen Option : 4

Q.13 चार अक्षर-समूह दिए गए हैं, जिनमें से तीन किसी न किसी तरह से संगत हैं और एक असंगत है। उस असंगत अक्षर-समूह का चयन करें।

- Ans
- 1. TVW
 - 2. LNP
 - 3. DFH
 - 4. FHJ

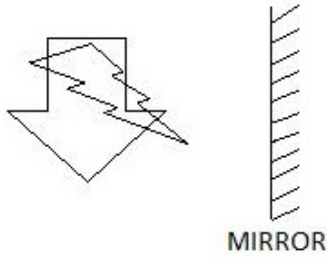
Question ID : 424429444
Status : Answered
Chosen Option : 1

Q.14 उस विकल्प का चुनाव करें, जिसमें संख्याओं का आपस में वही, जो दिए गए समुच्चय की संख्याओं के बीच है।
(7, 15, 31)

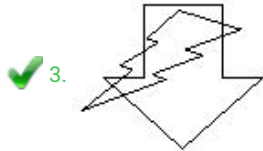
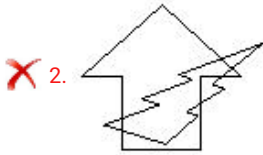
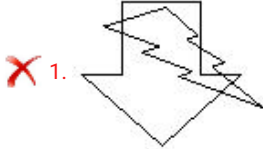
- Ans
- 1. (6, 13, 21)
 - 2. (3, 7, 15)
 - 3. (2, 17, 14)
 - 4. (5, 625, 6)

Question ID : 424429434
Status : Answered
Chosen Option : 2

Q.15 दी गई आकृति के सही दर्पण-प्रतिबिंब का चयन करें।

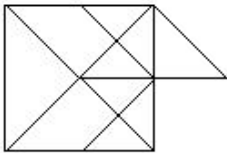


Ans



Question ID : 424429454
Status : Answered
Chosen Option : 3

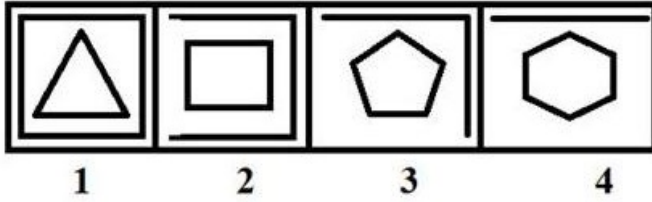
Q.16 दी गई आकृति में कितने त्रिभुज हैं?



- Ans
- ✗ 1. 21
 - ✗ 2. 18
 - ✓ 3. 20
 - ✗ 4. 22

Question ID : 424429451
Status : Answered
Chosen Option : 2

Q.17 उस आकृति का चयन करें, जो आकृति श्रृंखला में अगले क्रम पर आएगी:



Ans

- ✓ 1.
- ✗ 2.
- ✗ 3.
- ✗ 4.

Question ID : 424429450
Status : Answered
Chosen Option : 1

Q.18 निम्नलिखित शब्दों को एक तार्किक और अर्थपूर्ण क्रम में व्यवस्थित करें।

1. फ्लैट
2. गली
3. कमरा
4. अपार्टमेंट
5. शहर

- Ans
- 1. 3, 1, 4, 2, 5
 - 2. 3, 5, 1, 4, 2
 - 3. 3, 4, 1, 2, 5
 - 4. 5, 4, 3, 2, 1

Question ID : 424429438
Status : Answered
Chosen Option : 1

Q.19 उस विकल्प का चयन करें, जिस में संख्याओं का आपस में वही संबंध है, जो दिए गए संख्या-युग्म की संख्याओं के बीच है।

8 : 49

- Ans
- 1. 9 : 87
 - 2. 15 : 210
 - 3. 13 : 170
 - 4. 12 : 121

Question ID : 424429433
Status : Answered
Chosen Option : 4

Q.20 किसी निश्चित कूट भाषा में, 'BROWSE' को 'GUYQTD' लिखा जाता है। उसी भाषा में 'AMALGAM' को क्या लिखा जाएगा?

- Ans
- 1. OCINCOC
 - 2. CONCICO
 - 3. DPMDGCP
 - 4. PMDGCPD

Question ID : 424429439
Status : Answered
Chosen Option : 1

Q.21 दिशा का वेतन प्रतिमा के वेतन से ₹3000 अधिक है। दिशा और प्रतिमा के वेतन का अनुपात क्रमशः 17 : 15 है। प्रतिमा का वेतन कितना है?

- Ans
- 1. ₹26,750
 - 2. ₹22,500
 - 3. ₹25,500
 - 4. ₹27,250

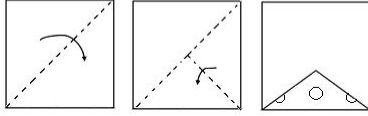
Question ID : 424429436
Status : Answered
Chosen Option : 2

Q.22 चार शब्द दिए गए हैं, जिनमें से तीन किसी न किसी तरह से संगत हैं और एक असंगत है। असंगत शब्द का चयन करें।

- Ans
- 1. उछलना
 - 2. चहचहाना
 - 3. हिनहिनाना
 - 4. मिमियाना

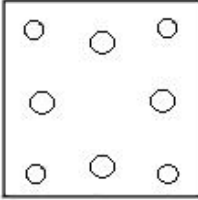
Question ID : 424429447
Status : Answered
Chosen Option : 1

Q.23 नीचे दी गई आकृतियों में कागज के एक टुकड़े को मोड़ने का क्रम और काटने की विधि दी गई है। यह कागज खोलने पर कैसा दिखाई देगा?

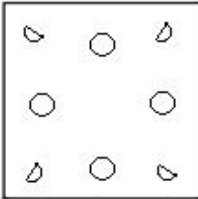


Ans

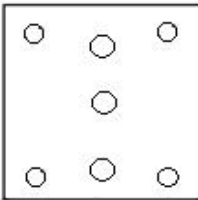
✓ 1.



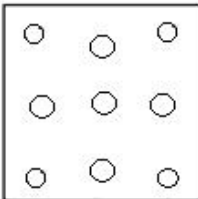
✗ 2.



✗ 3.



✗ 4.



Question ID : 424429453

Status : Answered

Chosen Option : 1

Q.24 उस विकल्प का चयन करें, जिसमें शब्दों का आपस में वही संबंध है, जो दिए गए शब्द-युग्म के शब्दों के बीच है।

गाय : दूध

Ans

✗ 1. चिड़िया : उड़ना

✗ 2. चील : झपटना

✗ 3. बकरी : मिमियाना

✓ 4. मुर्गी : अंडा

Question ID : 424429445

Status : Answered

Chosen Option : 4

Q.25 जॉन पिछले महीने तक ₹80 प्रति लीटर की दर से पेट्रोल खरीद रहा था। अब वह इसे ₹85 प्रति लीटर की दर से खरीदता है। पिछले महीने की तुलना में पेट्रोल की दर में कितने प्रतिशत की वृद्धि हुई?

- Ans
- ✓ 1. 6.25%
 - ✗ 2. 8.35%
 - ✗ 3. 10%
 - ✗ 4. 5.5%

Question ID : 424429431
Status : Answered
Chosen Option : 1