

Q.1 निम्नलिखित श्रेणी को पूरा करें।

7, 16, 34, 70, \_\_\_\_, \_\_\_\_

- Ans
- 1. 142, 286
  - 2. 144, 286
  - 3. 142, 294
  - 4. 144, 292

Question ID : 8161612465  
Status : Answered  
Chosen Option : 1

Q.2 X, A की माँ है। Y, B की बुआ है। R, B के पिता हैं। A और Z बहनें हैं। B, Z का भाई है। R का X से क्या संबंध है?

- Ans
- 1. बेटा
  - 2. पिता
  - 3. ससुर
  - 4. पति

Question ID : 8161612473  
Status : Answered  
Chosen Option : 4

Q.3 यदि '+' का अर्थ 'से विभाजित', '-' का अर्थ 'में जोड़ा गया', 'x' का अर्थ 'से घटाया गया', और '÷' का अर्थ 'से गुणा' है, तो निम्नलिखित व्यंजक का मान ज्ञात करें।

$$[(32 \times 24) - (4 \div 3)] + (3 - 2) \div 3$$

- Ans
- 1. 12
  - 2. 10
  - 3. 6
  - 4. 8

Question ID : 8161612461  
Status : Answered  
Chosen Option : 1

Q.4 दिए गए कथनों और निष्कर्षों को ध्यान से पढ़ें। यह मानते हुए कि कथनों में दी गई जानकारी सत्य है, भले ही वह सामान्य रूप से ज्ञात तथ्यों से भिन्न प्रतीत होती हो, निर्णय लें कि दिए गए निष्कर्षों में से कौनसा/से निष्कर्ष कथनों का तार्किक रूप से अनुसरण करता/करते है/हैं।

कथन:

1. सभी तोते, कबूतर हैं।
2. कोई कबूतर, मेज़ नहीं है।

निष्कर्ष:

- I. सभी कबूतर, मेज़ें हैं।
- II. कोई भी तोता, मेज़ नहीं है।

Ans

- ✓ 1. केवल निष्कर्ष II अनुसरण करता है।
- ✗ 2. या तो निष्कर्ष I या II अनुसरण करता है।
- ✗ 3. केवल निष्कर्ष I अनुसरण करता है।
- ✗ 4. निष्कर्ष I और II दोनों अनुसरण करते हैं।

Question ID : 8161612477

Status : Answered

Chosen Option : 1

Q.5 उस विकल्प का चयन करें, जो तीसरे अक्षर-समूह से उसी प्रकार संबंधित है जिस प्रकार दूसरा अक्षर-समूह पहले अक्षर-समूह से संबंधित है।

LAME : OXPB :: TREE : ?

Ans

- ✗ 1. QUBH
- ✗ 2. UMFA
- ✓ 3. WOHB
- ✗ 4. VNGB

Question ID : 8161612470

Status : Answered

Chosen Option : 3

Q.6 चार संख्या-युग्म दिए गए हैं, जिनमें से तीन किसी न किसी प्रकार संगत हैं और एक असंगत है। उस असंगत संख्या-युग्म का चयन करें।

Ans

- ✗ 1. 7-50
- ✓ 2. 6-35
- ✗ 3. 4-17
- ✗ 4. 5-26

Question ID : 8161612466

Status : Answered

Chosen Option : 2

Q.7 उस अक्षर संयोजन का चयन करें, जिसे दी गई अक्षर-श्रृंखला के रिक्त स्थान में बाएं से दाएं क्रमिक रूप से रखने पर श्रृंखला पूरी हो जाएगी।

\_ \_ bc \_ daabc \_ \_ a \_ \_ ccd

- Ans
- 1. accdaac
  - 2. accdcb
  - 3. aaccdab
  - 4. cacdcab

Question ID : 8161612472  
Status : Answered  
Chosen Option : 3

Q.8 उस विकल्प का चयन करें जो तीसरे पद से उसी प्रकार संबंधित हो जिस प्रकार दूसरा पद पहले पद से संबंधित है।

EASY : IETZ :: LAKE : \_\_\_\_\_

- Ans
- 1. PELI
  - 2. MELI
  - 3. MBLI
  - 4. PBKL

Question ID : 8161612476  
Status : Answered  
Chosen Option : 1

Q.9 चार अक्षर-समूह दिए गए हैं, जिनमें से तीन किसी न किसी प्रकार संगत हैं और एक असंगत है। उस असंगत अक्षर-समूह का चयन करें।

- Ans
- 1. WVUT
  - 2. MLKJ
  - 3. TSRQ
  - 4. PONL


Question ID : 8161612475  
Status : Answered  
Chosen Option : 4

Q.10 किसी निश्चित कूटभाषा में, 'LOCKER' को 'OLXPVI' लिखा जाता है। उसी कूटभाषा में 'GLOBAL' को क्या लिखा जाएगा?

- Ans
- 1. HUYPRE
  - 2. TOLYZO
  - 3. JOREDO
  - 4. UPMZAP

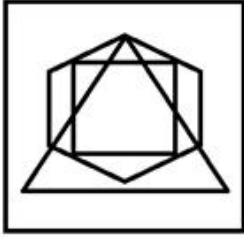
Question ID : 8161612468  
Status : Answered  
Chosen Option : 2

Q.11 उस विकल्प का चयन करें, जिस में दी गई आकृति अंतर्निहित है। (घुमाने की अनुमति नहीं है)

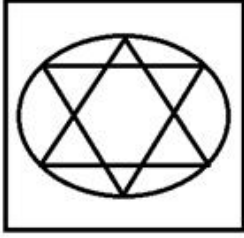


Ans

✗ 1.



✗ 2.



✓ 3.



✗ 4.



Question ID : 8161612481

Status : Answered

Chosen Option : 3

Q.12 उस अक्षर-युग्म का चयन करें, जो निम्नलिखित श्रृंखला में प्रश्नवाचक चिह्न (?) के स्थान पर हो सकती है।

AZ, CX, EV, ? IR

Ans

✗ 1. FT

✓ 2. GT

✗ 3. HT

✗ 4. GS

Question ID : 8161612474

Status : Answered

Chosen Option : 2

Q.13 उस विकल्प का चयन करें, जिसमें संख्याओं में वही संबंध है, जो संबंध दिए गए समुच्चय की संख्याओं में है।

(5, 6, 61)

- Ans
- ✓ 1. (3, 4, 25)
  - ✗ 2. (3, 8, 24)
  - ✗ 3. (9, 4, 26)
  - ✗ 4. (5, 2, 49)

Question ID : 8161612463

Status : Answered

Chosen Option : 1

Q.14 शिखा की तस्वीर दिखाते हुए पारुल ने कहा, "वह मेरे पिता के इकलौते बेटे की दादी हैं।" शिखा पारुल से कैसे संबंधित है?

- Ans
- ✗ 1. बहू
  - ✗ 2. बहन
  - ✗ 3. मां
  - ✓ 4. दादी

Question ID : 8161612471

Status : Answered

Chosen Option : 4

Q.15 दिए गए शब्दों को तार्किक और अर्थपूर्ण क्रम में व्यवस्थित करें।

- 1. कंधा
- 2. जांघ
- 3. पेट
- 4. छाती
- 5. चेहरा
- 6. गर्दन

- Ans
- ✗ 1. 2, 4, 6, 1, 3, 2
  - ✗ 2. 5, 6, 1, 2, 3, 4
  - ✗ 3. 5, 6, 3, 4, 1, 2
  - ✓ 4. 5, 6, 1, 4, 3, 2

Question ID : 8161612467

Status : Answered

Chosen Option : 4

Q.16 उस विकल्प का चयन करें, जिसमें संख्याओं में वही संबंध है, जो संबंध दिए गए समुच्चय की संख्याओं में है।

(9, 217, 8)

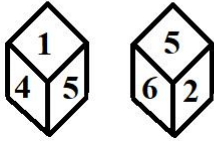
- Ans  1. (4, 37, 3)  
 2. (5, 625, 6)  
 3. (3, 49, 2)  
 4. (2, 76, 5)

Question ID : 8161612464

Status : Not Answered

Chosen Option : --

Q.17 एक ही पासे की दो स्थितियाँ दर्शायी गई हैं। उस संख्या का चयन करें जो संख्या 5 दर्शाने वाले फलक के विपरीत फलक पर होगी।



- Ans  1. 4  
 2. 3  
 3. 6  
 4. 1

Question ID : 8161612478

Status : Answered

Chosen Option : 2

Q.18 11 विद्यार्थियों वाली एक कक्षा में 6 लड़के हैं। कक्षा का मॉनिटर बनाने के लिए यादृच्छिक रूप से एक विद्यार्थी को चुना जाना है। किसी लड़की के कक्षा का मॉनिटर होने की प्रायिकता क्या है?

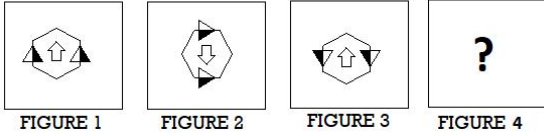
- Ans  1. 1  
 2.  $\frac{6}{11}$   
 3.  $\frac{7}{11}$   
 4.  $\frac{5}{11}$

Question ID : 8161612460

Status : Answered

Chosen Option : 4

Q.19 उस विकल्प आकृति का चयन करें, जो निम्नलिखित श्रृंखला में प्रश्नवाचक चिह्न (?) के स्थान पर आ सकती है।



Ans

- ✗ 1.
- ✗ 2.
- ✗ 3.
- ✓ 4.

Question ID : 8161612479  
Status : Answered  
Chosen Option : 4

Q.20 किसी निश्चित कूटभाषा में, NIB को 112 और COB को 122 लिखा जाता है। उसी कूटभाषा में JET को क्या लिखा जाएगा?

- ✗ 1. 119
- ✓ 2. 92
- ✗ 3. 81
- ✗ 4. 102

Question ID : 8161612469  
Status : Not Answered  
Chosen Option : --

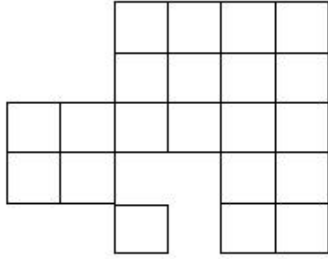
Q.21 उस विकल्प का चयन करें, जिसमें संख्याओं में वही संबंध है, जो संबंध दिए गए संख्या-युग्म की संख्याओं में है।

34 : 210

- ✗ 1. 47 : 282
- ✗ 2. 38 : 236
- ✓ 3. 66 : 402
- ✗ 4. 54 : 100

Question ID : 8161612462  
Status : Answered  
Chosen Option : 2

Q.22 दी गई आकृति में कितने वर्ग हैं?



- Ans
- 1. 29
  - 2. 33
  - 3. 34
  - 4. 32

Question ID : 8161612480  
Status : Answered  
Chosen Option : 4

Q.23 उस वेन आरेख का चयन करें, जो नीचे दिए गए वर्गों के बीच संबंध को सर्वोत्तम ढंग से दर्शाता है।

चंडीगढ़, भारत, सियोल

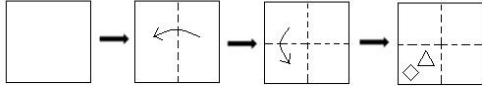
Ans

- 1.
- 2.
- 3.
- 4.

Question ID : 8161612484  
Status : Answered  
Chosen Option : 4

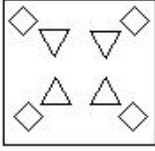


Q.24 काराज के एक टुकड़े को मोड़ने का क्रम और मोड़े गए काराज को काटने की विधि निम्नलिखित आकृतियों में दर्शायी गई है। काराज को खोलने पर यह कैसा दिखाई देगा?

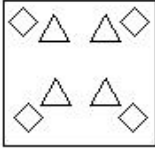


Ans

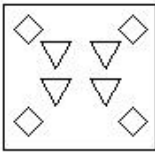
✓ 1.



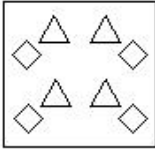
✗ 2.



✗ 3.



✗ 4.

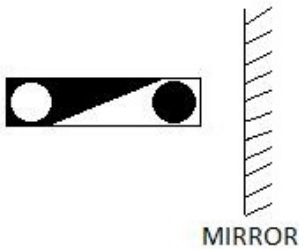


Question ID : 8161612482

Status : Answered

Chosen Option : 1

Q.25 दी गई आकृति की सही दर्पण छवि का चयन करें।



Ans

✗ 1.



✓ 2.



✗ 3.



✗ 4.



Question ID : 8161612483

Status : Answered

Chosen Option : 2