



कर्मचारी चयन आयोग संयुक्त स्नातक स्तरीय परीक्षा

एस.एस.सी. सीजीएल (टियर -1) परीक्षा पेपर 2017 "11अगस्त
2017" दोपहर की पाली (तर्क शक्ति) SSC CGL (Tier - 1) Online
Exam Paper - 2017 "held on 11August 2017" Afternoon
Shift (Reasoning)

QID : 101 - निम्नलिखित प्रश्न में दिए गए विकल्पों में से संबंधित शब्द युग्म को चुनिए।

हृदय : अंग :: ? : ?

Options:

- 1) हड्डी : कैल्सियम
- 2) आँखे : अंग
- 3) टाँग : पैर
- 4) कान : इंद्रियाँ

Correct Answer: आँखे : अंग

QID : 102 - निम्नलिखित प्रश्न में दिए गए विकल्पों में से संबंधित अक्षरों को चुनिए।

BPTW : CQUX :: CHNS : ?

Options:

- 1) DIST
- 2) DIOT
- 3) BGOT
- 4) DSTO

Correct Answer: DIOT

QID : 103 - निम्नलिखित प्रश्न में दिए गए विकल्पों में से संबंधित संख्या को चुनिए।

48 : 63 :: 80 : ?

Options:

- 1) 97
- 2) 98
- 3) 99
- 4) 101

Correct Answer: 99

QID : 104 - निम्नलिखित प्रश्न में दिए गए विकल्पों में से विषम शब्द युग्म को चुनिए।

Options:

- 1) पंचांग : तिथि
- 2) डेयरी : दूध
- 3) कापी : नोट्स
- 4) खाते : प्रविष्टियाँ

Correct Answer: डेयरी : दूध

QID : 105 - निम्नलिखित प्रश्न में दिए गए विकल्पों में से विषम अक्षरों को चुनिए।

Options:

- 1) M
- 2) E
- 3) S
- 4) W

Correct Answer: E

QID : 106 - निम्नलिखित प्रश्न में दिए गए विकल्पों में से विषम संख्या को चुनिए।

Options:

- 1) 26
- 2) 50
- 3) 82
- 4) 120

Correct Answer: 120

QID : 107 - निम्नलिखित शब्दों को शब्दकोश में आने वाले क्रम के अनुसार लिखें।

1. Train
2. Topper
3. Tingling
4. Tumbler
5. Traction

Options:

- 1) 23541
- 2) 32154
- 3) 25314
- 4) 32514

Correct Answer: 32514

QID : 108 - एक अनुक्रम दिया गया है, जिसमें से एक पद लुप्त है। दिए गए विकल्पों में से वह सही विकल्प चुनिए, जो अनुक्रम को पूरा करे।

DK, FN, HQ, ?

Options:

- 1) KS
- 2) JT
- 3) KT
- 4) JS

Correct Answer: JT

QID : 109 - निम्नलिखित प्रश्न में दिए गए विकल्पों में से लुप्त अंक ज्ञात कीजिए।

2, 5, 17, 71, ?

Options:

- 1) 131
- 2) 247
- 3) 359
- 4) 419

Correct Answer: 359

QID : 110 - अक्षर को याद है की मैच 26 अप्रैल के बाद लेकिन 30 अप्रैल से पहले है, जबकी सुरेश को याद है की मैच 22 अप्रैल के बाद लेकिन 28 अप्रैल से पहले है। मैच अप्रैल की किस तारीख को है?

Options:

- 1) 29
- 2) 26
- 3) 27
- 4) 28

Correct Answer: 27

QID : 111 - पुस्तकों की एक पंक्ति में अंग्रेजी की एक पुस्तक पंक्ति में बाएँ छोर से 16 वें स्थान पर है। गणित की एक पुस्तक दाएँ छोर से 12 वें स्थान पर है। यदि गणित की पुस्तक अंग्रेजी की पुस्तक से 6 स्थान दाएँ की ओर है, तो पंक्ति में कुल कितनी पुस्तकें हैं?

Options:

- 1) 33
- 2) 32
- 3) 34
- 4) 31

Correct Answer: 33

QID : 112 - दिए गए प्रश्न में, निम्नलिखित विकल्पों में से वह शब्द चुनिए जो दिए गए शब्द के अक्षरों का प्रयोग करके नहीं बनाया जा सकता है।

Passenger

Options:

- 1) Anger
- 2) Pass
- 3) Page
- 4) Pain

Correct Answer: Pain

QID : 113 - एक विशिष्ट कोड भाषा में, "TREASON" को "RKWWINX" लिखा जाता है तथा "POULTRY" को "CNXHYKT" लिखा जाता है। इस कोड भाषा में "NUMBER" को किस प्रकार लिखा जाएगा?

Options:

- 1) NIXQQR
- 2) JAIFAV
- 3) RQQXIN

4) VAFIAJ

Correct Answer: NIXQQR

QID : 114 - निम्नलिखित प्रश्न में, दिए गए विकल्पों में से किन गणितीय संक्रियाओं का प्रयोग करने से दिया गया समीकरण सही हो जाएगा?

$30 ? 6 ? 4 ? 5 ? 4$

Options:

1) $-$, $=$, \times तथा $+$

2) $+$, $=$, \times तथा $-$

3) $=$, \times , $+$ तथा $-$

4) $-$, $+$, $=$ तथा \times

Correct Answer: $-$, $=$, \times तथा $+$

QID : 115 - यदि $13 \# 9 = 94$ तथा $18 \# 7 = 100$ हो, तो $24 \# 6 = ?$

Options:

1) 121

2) 113

3) 148

4) 115

Correct Answer: 113

QID : 116 -

In the following question, select the number which can be placed at the sign of question mark (?) from the given alternatives.

निम्नलिखित प्रश्न में दिए गए विकल्पों में से प्रश्न चिन्ह (?) के स्थान पर आने वाली संख्या को चुनिए।

2	5
14	9

7	10
19	14

8	11
20	?

Options:

1) 14

2) 15

3) 17

4) 19

Correct Answer: 15

QID : 117 -

Options:

1) 11

2) 12

3) 13

4) 15

Correct Answer: 13

QID : 118 - नीचे दिए गए प्रत्येक प्रश्न में कुछ कथन और उनके बाद उन कथनों पर आधारित कुछ निष्कर्ष दिए गए हैं, हालांकि उनमें सामान्य ज्ञात तथ्यों से भिन्नता हो सकती है। सभी निष्कर्ष पढ़ें और फिर निर्धारित करें कि दिए गए कौन से निष्कर्ष दिए गए कथनों के आधार पर युक्तिसंगत हैं।

कथन:

I. सभी पुस्तकें रबर हैं।

II. सभी शार्पनर पुस्तकें हैं।

निष्कर्ष:

I. सभी शार्पनर रबर हैं।

II. कुछ पुस्तकें शार्पनर हैं।

Options:

1) केवल निष्कर्ष (I) सही है।

2) केवल निष्कर्ष (II) सही है।

3) दोनों ही निष्कर्ष सही हैं।

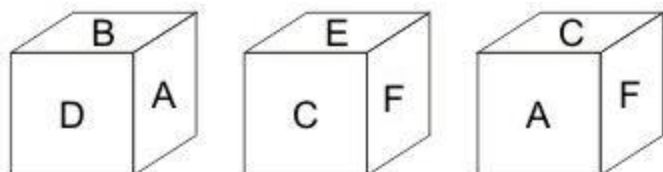
4) न तो निष्कर्ष (I) तथा न ही निष्कर्ष (II) सही है।

Correct Answer: दोनों ही निष्कर्ष सही हैं।

QID : 119 -

Three positions of a cube are shown below. What will come opposite to face containing 'E'?

नीचे एक घन की तीन अवस्थाएँ दर्शायी गयी है। अक्षर 'E' के विपरीत फलक पर कौन सा अक्षर आयेगा?



Options:

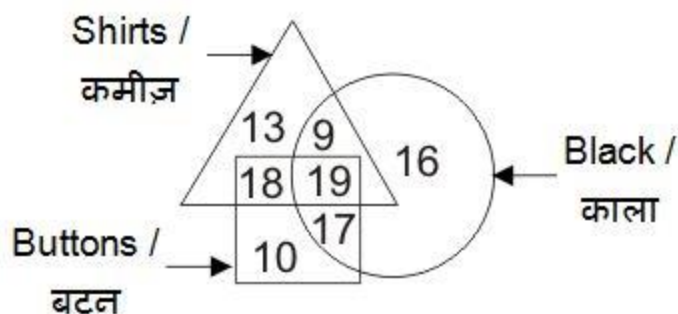
- 1) B
- 2) D
- 3) A
- 4) F

Correct Answer: A

QID : 120 -

In the given figure, how many black buttons are shirts?

दी गई आकृति में, कितने काले बटन कमीज़ हैं?



Options:

- 1) 37
- 2) 19

3) 36

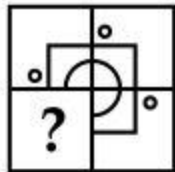
4) 27

Correct Answer: 19

QID : 121 -

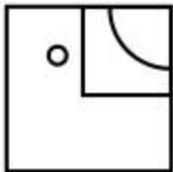
Which answer figure will complete the pattern in the question figure?

कौन सी उत्तर आकृति प्रश्न आकृति के प्रतिरूप को पूरा करेगी?

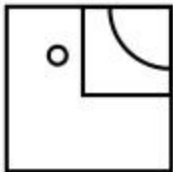


Options:

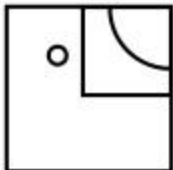
1)



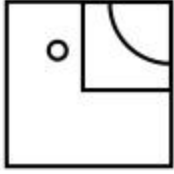
2)



3)



4)

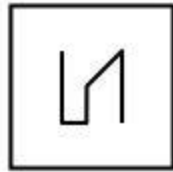


Correct Answer:

QID : 122 -

From the given answer figures, select the one in which the question figure is hidden/embedded.

दी गई उत्तर आकृतियों में से उस उत्तर आकृति को चुनिए जिस में प्रश्न आकृति निहित है।



Options:

1)



2)



3)



4)

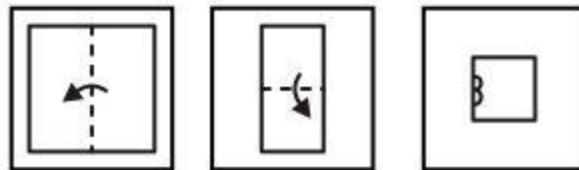


Correct Answer:

QID : 123 -

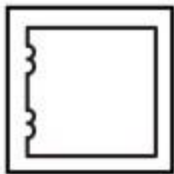
A piece of paper is folded and punched as shown below in the question figures. From the given answer figures, indicate how it will appear when opened?

नीचे के प्रश्न आकृतियों में दिखाए अनुसार कागज को मोड़कर छेदने तथा खोलने के बाद वह किस उत्तर आकृति जैसा दिखाई देगा?

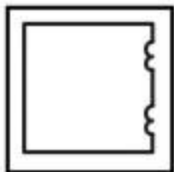


Options:

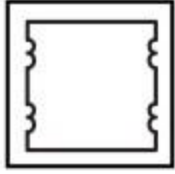
1)




2)



3)



4)

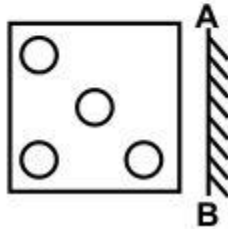


Correct Answer:

QID : 124 -

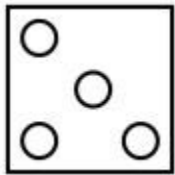
If a mirror is placed on the line AB, then which of the answer figures is the right image of the given figure?

यदि एक दर्पण को AB रेखा पर रखा जाए, तो दी गई उत्तर आकृतियों में से कौन सी आकृति प्रश्न आकृति की सही प्रतिबिम्ब होगी?

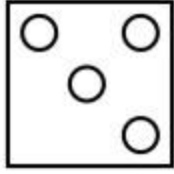


Options:

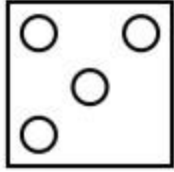
1)



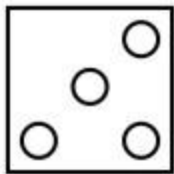
2)



3)



4)



Correct Answer:

QID : 125 -

A word is represented by only one set of numbers as given in any one of the alternatives. The sets of numbers given in the alternatives are represented by two classes of alphabets as shown in the given two matrices. The columns and rows of **Matrix-I** are numbered from 0 to 4 and that of **Matrix-II** are numbered from 5 to 9. A letter from these matrices can be represented first by its row and next by its column, for example, 'P' can be represented by 12, 43, etc., and 'O' can be represented by 67, 88, etc. Similarly, you have to identify the set for the word "**STROM**".

एक शब्द केवल एक संख्या-समूह द्वारा दर्शाया गया है, जैसा कि विकल्पों में से किसी एक में दिया गया है। विकल्पों में दिए गए संख्या-समूह अक्षरों के दो वर्गों द्वारा दर्शाए गए हैं, जैसा कि दिए गए दो आव्यूहों में है। **आव्यूह-I** के स्तम्भ और पंक्ति की संख्या 0 से 4 है और **आव्यूह-II** की 5 से 9। इन आव्यूहों से एक अक्षर को पहले उसकी पंक्ति और बाद में स्तम्भ संख्या द्वारा दर्शाया जा सकता है। उदाहरण के लिए 'P' को 12, 43, आदि द्वारा दर्शाया जा सकता है तथा 'O' को 67, 88, आदि द्वारा दर्शाया जा सकता है। इसी तरह से आपको प्रश्न में दिए शब्द "**STROM**" के लिए समूह को पहचानना है।

Matrix-I

आव्यूह-I

	0	1	2	3	4
0	P	Q	R	S	T
1	S	T	P	Q	R
2	Q	R	S	T	P
3	T	P	Q	R	S
4	R	S	T	P	Q

Matrix-II

आव्यूह-II

	5	6	7	8	9
5	N	O	M	L	K
6	L	K	O	M	N
7	O	L	N	K	M
8	M	N	K	O	L
9	K	M	L	N	O

Options:

- 1) 10, 04, 33, 57, 69
- 2) 41, 42, 14, 68, 86
- 3) 34, 23, 40, 88, 78
- 4) 22, 11, 21, 75, 96

Correct Answer: 22, 11, 21, 75, 96