



कर्मचारी चयन आयोग कनिष्ठ अभियन्ता

एस.एस.सी. कनिष्ठ अभियन्ता परीक्षा पेपर 2016 "04 मार्च 2017" सुबह की पाली (सामान्य बुद्धि और तर्क शक्ति) SSC Junior Engineers (JE) Online Exam Paper - 2016 "held on 04 March 2017" Morning Shift (General Intelligence & Reasoning)

QID : 901 - दिये गये विकल्पों में से संबन्धित शब्द/अक्षरों/संख्या को चुनिए।

कारण : प्रभाव :: अपराध : ?

Options:

- 1) दंड
- 2) अपराधी
- 3) न्याय
- 4) अनुचित

Correct Answer: दंड

QID : 902 - दिये गये विकल्पों में से संबन्धित शब्द/अक्षरों/संख्या को चुनिए।

Act : Action :: Clear : ?

Options:

- 1) Clarity
- 2) Clean
- 3) Clearly
- 4) Cleans

Correct Answer: Clarity

QID : 903 - दिये गये विकल्पों में से संबन्धित शब्द/अक्षरों/संख्या को चुनिए।

सिटिंग : डक :: ?

Options:

- 1) हैपी : लाफ
- 2) फीलिंग : ब्लू

3) रनिंग : शूज़

4) बर्ड : एग

Correct Answer: फीलिंग : ब्लू

QID : 904 - दिये गये विकल्पों में से संबन्धित शब्द/अक्षरों/संख्या को चुनिए।

MJOL : QNSP :: NKPM : ?

Options:

1) ROTQ

2) PMQN

3) LONQ

4) URWT

Correct Answer: ROTQ

QID : 905 - दिये गये विकल्पों में से संबन्धित शब्द/अक्षरों/संख्या को चुनिए।

Male : Lamella :: Dare : ?

Options:

1) Redder

2) Rare

3) Reader

4) Dreaded

Correct Answer: Dreaded

QID : 906 - दिये गये विकल्पों में से संबन्धित शब्द/अक्षरों/संख्या को चुनिए।

Globes : Bestow :: Dared : ?

Options:

1) Redden

2) Redox

3) Best

4) Beset

Correct Answer: Redox

QID : 907 - दिये गये विकल्पों में से संबन्धित शब्द/अक्षरों/संख्या को चुनिए।

91 : 8 :: 82 : ?

Options:

1) 7

2) 6

3) 9

4) 5

Correct Answer: 6

QID : 908 - दिये गये विकल्पों में से संबन्धित शब्द/अक्षरों/संख्या को चुनिए।

123 : 134 :: 100 : ?

Options:

- 1) 111
- 2) 101
- 3) 110
- 4) 1000

Correct Answer: 111

QID : 909 - दिये गये विकल्पों में से संबन्धित शब्द/अक्षरों/संख्या को चुनिए।

715 : 198 :: 431 : ?

Options:

- 1) 107
- 2) 644
- 3) 367
- 4) 297

Correct Answer: 297

QID : 910 - दिए गए विकल्पों में से विषम शब्द/अक्षरों/संख्या/शब्द युग्म/संख्या युग्म को चुनिए।

Options:

- 1) पैंट
- 2) कोट
- 3) शर्ट
- 4) स्वेटर

Correct Answer: पैंट

QID : 911 - दिए गए विकल्पों में से विषम शब्द/अक्षरों/संख्या/शब्द युग्म/संख्या युग्म को चुनिए।

Options:

- 1) चिड़िया और मधुमक्खी
- 2) बिल्ली और चूहा
- 3) लड़के और लड़कियां
- 4) मेंढक और दादुर

Correct Answer: लड़के और लड़कियां

QID : 912 - दिए गए विकल्पों में से विषम शब्द/अक्षरों/संख्या/शब्द युग्म/संख्या युग्म को चुनिए।

Options:

- 1) हवाई जहाज और हैलीकॉप्टर
- 2) कार और हवाई जहाज

3) हैलीकॉप्टर और बस

4) स्कूटर और हवाई जहाज

Correct Answer: हवाई जहाज और हैलीकॉप्टर

QID : 913 - दिए गए विकल्पों में से विषम शब्द/अक्षरों/संख्या/शब्द युग्म/संख्या युग्म को चुनिए।

Options:

1) CA

2) BD

3) VX

4) TV

Correct Answer: CA

QID : 914 - दिए गए विकल्पों में से विषम शब्द/अक्षरों/संख्या/शब्द युग्म/संख्या युग्म को चुनिए।

Options:

1) Displace

2) Display

3) Splash

4) Splurge

Correct Answer: Splurge

QID : 915 - दिए गए विकल्पों में से विषम शब्द/अक्षरों/संख्या/शब्द युग्म/संख्या युग्म को चुनिए।

Options:

1) PTLs

2) TOFL

3) TDBL

4) TDFL

Correct Answer: PTLs

QID : 916 - दिए गए विकल्पों में से विषम शब्द/अक्षरों/संख्या/शब्द युग्म/संख्या युग्म को चुनिए।

Options:

1) 123

2) 234

3) 890

4) 567

Correct Answer: 890

QID : 917 - दिए गए विकल्पों में से विषम शब्द/अक्षरों/संख्या/शब्द युग्म/संख्या युग्म को चुनिए।

Options:

1) 46

2) 57

3) 51

4) 68

Correct Answer: 51

QID : 918 - दिए गए विकल्पों में से विषम शब्द/अक्षरों/संख्या/शब्द युग्म/संख्या युग्म को चुनिए।

Options:

- 1) 16, 146
- 2) 15, 135
- 3) 19, 171
- 4) 14, 126

Correct Answer: 16, 146

QID : 919 - एक अनुक्रम दिया गया है, जिसमें एक शब्द/एक पद/एक संख्या लुप्त है। दिए गए विकल्पों में से वह सही विकल्प चुनिए जो अनुक्रम को पूरा करे।

AftredA, BsRgthB, SvbTbnS, TwseFaT, ?

Options:

- 1) LertfL
- 2) UtaDsdU
- 3) LesdrAL
- 4) AVfdreA

Correct Answer: LesdrAL

QID : 920 - एक अनुक्रम दिया गया है, जिसमें एक शब्द/एक पद/एक संख्या लुप्त है। दिए गए विकल्पों में से वह सही विकल्प चुनिए जो अनुक्रम को पूरा करे।

Raindrop, Operate, Teakwood, Odometer, ?

Options:

- 1) Erasers
- 2) Laser
- 3) Odour
- 4) Sour

Correct Answer: Erasers

QID : 921 - एक अनुक्रम दिया गया है, जिसमें एक शब्द/एक पद/एक संख्या लुप्त है। दिए गए विकल्पों में से वह सही विकल्प चुनिए जो अनुक्रम को पूरा करे।

kid, gnaw, cited, sphinx, ?

Options:

- 1) thumbing
- 2) spartan
- 3) reclines
- 4) cohort

Correct Answer: spartan

SSC CHSL(10+2) परीक्षा अध्ययन सामग्री



- 100% CHSL Exam Syllabus Covered
- 5 Books, 900+ Pages
- 2500+ MCQs
- 1 Year Current Affairs (PDF Copy)
- Support & Guidance

50% OFF
₹ 4,000/-
₹ **1,999/-**

FREE SHIPPING

for Exam Help Call Us at: +91 8800734161

SSCPORTAL.IN

आप क्या प्राप्त करेंगे?

- माध्यम: हिन्दी
- 100 प्रतिशत पाठ्यक्रम
- 900 से अधिक पृष्ठ
- 2500 से अधिक वस्तुनिष्ठ प्रश्न
- कुल 5 पुस्तिकाएँ
- अध्यायवार M.C.Q
- गणित एवं तार्किक क्षमता को हल करने की सरल विधि
- 5 अभ्यास प्रश्न पत्र (PDF Copy)
- हमारे विशेषज्ञों द्वारा मार्गदर्शन और सहायता

Price of the Kit:

Rs. 4,200

Rs. 1,999/-

(Limited time Offer)

 Buy Online

VISA Maestro MasterCard RuPay

Net Banking

Order Online (100% Safe)

[Click here for Other Payment Options \(Cash/NEFT/etc\)](#)

FOR MORE DETAILS CLICK HERE

50% OFF

QID : 922 - एक अनुक्रम दिया गया है, जिसमें एक शब्द/एक पद/एक संख्या लुप्त है। दिए गए विकल्पों में से वह सही विकल्प चुनिए जो अनुक्रम को पूरा करे।

V, T, Q, M, ?

Options:

- 1) H
- 2) I
- 3) J
- 4) K

Correct Answer: H

QID : 923 - एक अनुक्रम दिया गया है, जिसमें एक शब्द/एक पद/एक संख्या लुप्त है। दिए गए विकल्पों में से वह सही विकल्प चुनिए जो अनुक्रम को पूरा करे।

lij, mjk, nkl, olm, ?

Options:

- 1) pmn
- 2) pnq
- 3) qpn
- 4) qsr

Correct Answer: pmn

QID : 924 - एक अनुक्रम दिया गया है, जिसमें एक शब्द/एक पद/एक संख्या लुप्त है। दिए गए विकल्पों में से वह सही विकल्प चुनिए जो अनुक्रम को पूरा करे।

XXOOXXX, XOXOXXX, XOOXXXX, OXOXXXX, ?

Options:

- 1) OXXOXXX
- 2) OOXXXXX
- 3) XXOOXXX
- 4) XOXOXXX

Correct Answer: OOXXXXX

QID : 925 - एक अनुक्रम दिया गया है, जिसमें एक शब्द/एक पद/एक संख्या लुप्त है। दिए गए विकल्पों में से वह सही विकल्प चुनिए जो अनुक्रम को पूरा करे।

-9, -2, ?, 15, 25

Options:

- 1) 0
- 2) 4

3) 6

4) 8

Correct Answer: 6

QID : 926 - एक अनुक्रम दिया गया है, जिसमें एक शब्द/एक पद/एक संख्या लुप्त है। दिए गए विकल्पों में से वह सही विकल्प चुनिए जो अनुक्रम को पूरा करे।

3, 5/3, 1/3, ?, -7/3

Options:

1) -2

2) -1

3) 0

4) -1/3

Correct Answer: -1

QID : 927 - एक अनुक्रम दिया गया है, जिसमें एक शब्द/एक पद/एक संख्या लुप्त है। दिए गए विकल्पों में से वह सही विकल्प चुनिए जो अनुक्रम को पूरा करे।

31, ?, 41, 43, 47

Options:

1) 33

2) 37

3) 35

4) 39

Correct Answer: 37

QID : 928 - यदि $e < f$, $i > e$ और $f < g$, तो निम्नलिखित में से क्या निश्चित रूप से सही है?

I. $f < i$

II. $g > e$

Options:

1) ना तो I ना ही II

2) केवल II

3) केवल I

4) दोनों I और II

Correct Answer: केवल II

QID : 929 - पांच बक्सों का वजन 30, 40, 40, 70 और 90 किलोग्राम है। निम्नलिखित में से बक्सों के किसी भी संयोजन से कुल वजन, किलोग्राम में कौन सा नहीं हो सकता?

Options:

1) 210

2) 180

3) 190

4) 200

Correct Answer: 210

QID : 930 - यदि अक्षर D, V, E, A, I और T क्रमशः संख्याओं 1, 2, 3, 4, 5 और 6 को प्रदर्शित करते हैं। संख्याओं के उचित संयोजन को चुनें ताकि उसके अनुसार अक्षरों को व्यवस्थित करने पर अर्थपूर्णशब्द बने।

Options:

1) 6421353

2) 3442156

3) 3125624

4) 1325463

Correct Answer: 6421353

QID : 931 - यदि DEMIGODS को किसी कोड में GHPLJRGV लिखा जाता है, तो RUN को उसी कोड में क्या लिखा जाएगा?

Options:

1) UJM

2) MJU

3) IOP

4) UXQ

Correct Answer: UXQ

QID : 932 - किसी कोड भाषा में, 315 का अर्थ "play is fun" है, 324 का अर्थ 'game is nice' है, 614 का अर्थ 'fun and nice' है। 'and' का कोड ज्ञात करें।

Options:

1) 6

2) 7

3) 9

4) 4

Correct Answer: 6

QID : 933 - किसी कोड भाषा में, '+' का मतलब 'x' है, '-' का मतलब '+' है, 'x' का मतलब '÷' है और '÷' का मतलब '-' है। निम्नलिखित प्रश्न के उत्तर को ज्ञात करें।

$$0.025 + 200 - 345 \times 15 = ?$$

Options:

1) -18

2) 21

3) 28

4) 2

Correct Answer: 28

QID : 934 - यदि A % B का अर्थ है कि A, B का पिता है, A & B का अर्थ है कि A, B का भाई है और यदि A \$ B का अर्थ है कि A, B का पुत्र है तो I \$ G % H & K का क्या अर्थ है यदि K एक पुरुष है?

Options:

- 1) I, K का पुत्र है
- 2) I, K का पिता है
- 3) I, G का पोता है
- 4) I, K का भाई है

Correct Answer: I, K का भाई है

QID : 935 - यदि $84\%42 = 6$, $71\%51 = 10$ तो $83\%41$ का मान ज्ञात कीजिये?

Options:

- 1) 8
- 2) 5
- 3) 7
- 4) 9

Correct Answer: 8

QID : 936 - निम्नलिखित में से कौन सा शब्द दी गयी सूची के प्रवृत्ति का अनुकरण करता है?

Ulcer, Lunar, Cough, Casual, Avenue, ?

Options:

- 1) Slumber
- 2) Absolute
- 3) Crude
- 4) Utopia

Correct Answer: Absolute

QID : 937 - निम्नलिखित में से कौन सा पद दी गयी सूची के प्रवृत्ति का अनुकरण करता है?

VNN, VNNV, VNNVV, ?

Options:

- 1) VVNNVV
- 2) VNNVVV
- 3) VNVNVN
- 4) VNNVNV

Correct Answer: VNNVVV

QID : 938 - एक भेड़िया हिरन का पीछा कर रहा है। भेड़िया 5 किमी. पूर्व की ओर दौड़ता है और फिर दक्षिण की तरफ मुड़कर 9 किमी. दौड़ता है और फिर यह पश्चिम की ओर मुड़कर 5 किमी. दौड़ता है, फिर अपने दाहिने ओर मुड़कर 3 किमी. दौड़ता है। प्रारंभिक स्थिति से अब वह कहाँ पर है?

Options:

- 1) प्रारंभिक स्थिति से 12 किमी. दक्षिण की ओर
- 2) प्रारंभिक स्थिति से 6 किमी. उत्तर की ओर
- 3) प्रारंभिक स्थिति से 6 किमी. दक्षिण की ओर
- 4) प्रारंभिक स्थिति से 12 किमी. उत्तर की ओर

Correct Answer: प्रारंभिक स्थिति से 6 किमी. दक्षिण की ओर

QID : 939 - दो लड़कियां A और B समान बिंदु से चलना प्रारंभ करती हैं। A, उत्तर की ओर 9 मीटर चलती है, फिर अपने दाहिने ओर मुड़कर 5 मीटर चलती है। उसी समय B, 11 मीटर पूर्व की ओर चलती है, फिर अपने बायें ओर मुड़कर 9 मीटर चलती है। A की स्थिति से अब B कहाँ पर है?

Options:

- 1) B, A के पूर्व में 6 मीटर की दूरी पर है
- 2) B, A के पूर्व में 16 मीटर की दूरी पर है
- 3) B, A के पश्चिम में 6 मीटर की दूरी पर है
- 4) B, A के पश्चिम में 16 मीटर की दूरी पर है

Correct Answer: B, A के पूर्व में 6 मीटर की दूरी पर है

QID : 940 - प्रश्न में दो कथन दिये गये हैं जिसके आगे दो निष्कर्ष I & II निकाले गये हैं। आपको मानना है कि दोनों कथन सत्य हैं चाहे वह सामान्यतः ज्ञात तथ्यों से भिन्न प्रतीत होते हों। आपको निर्णय करना है कि दिए गए निष्कर्षों में से कौन-सा/कौन-से निश्चित रूप से कथन द्वारा सही निकाला जा सकता है/सकते हैं, यदि कोई हो।

कथन 1 : कोई काष्ठ बांस नहीं है।

कथन 2 : कोई बांस मजबूत नहीं है।

निष्कर्ष I : कोई काष्ठ मजबूत नहीं है।

निष्कर्ष II : सभी मजबूत वस्तुएं काष्ठ हैं।

Options:

- 1) केवल निष्कर्ष I सही है
- 2) केवल निष्कर्ष II सही है
- 3) ना तो निष्कर्ष I सही है ना ही निष्कर्ष II
- 4) या तो निष्कर्ष I सही है या तो निष्कर्ष II

Correct Answer: ना तो निष्कर्ष I सही है ना ही निष्कर्ष II

QID : 941 - प्रश्न में एक कथन दिया गया है जिसके आगे दो तर्क I & II दिए गये हैं। आपको मानना है कि कथन सत्य है चाहे वह सामान्यतः ज्ञात तथ्यों से भिन्न प्रतीत होता हो। आपको निर्णय करना है कि दिए गए तर्कों में से कौन-सा/कौन-से तर्क मजबूत हैं, यदि कोई हो।

कथन: क्या व्यवसाय पर उच्च कर दर लगाई जानी चाहिए?

तर्क I : नहीं, करों की उच्च दर निवेश को हतोत्साहित करती है और इससे नौकरीयां और विकास कम होगा।

तर्क II : हाँ, कुछ व्यवसाय करों को बचाने के लिए चतुराई से लेखाकरण करते हैं, अतः करों की दर उच्च करना एक अच्छा प्रत्युपाय होगा।

Options:

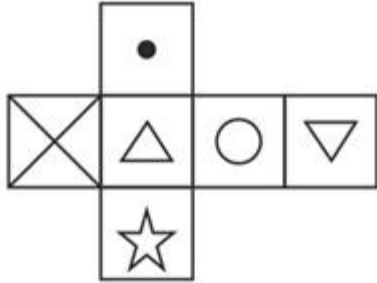
- 1) यदि केवल तर्क II मजबूत है
- 2) यदि ना तो तर्क I और ना ही तर्क II मजबूत है
- 3) यदि केवल तर्क I मजबूत है
- 4) यदि दोनों तर्क I और II मजबूत हैं

Correct Answer: यदि केवल तर्क I मजबूत है

QID : 942 -

Which of the following cube in the answer figure cannot be made based on the unfolded cube in the question figure?

निम्नलिखित उत्तर आकृति में से कौन सा घन दिए गए प्रश्न आकृति में से खुले घन से बनाया नहीं जा सकता?



Options:

1)



2)



3)



4)

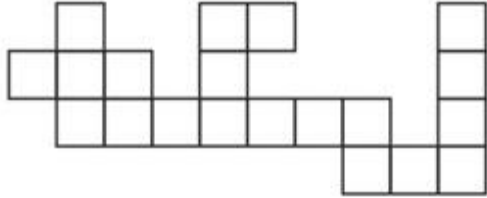


Correct Answer: 3

QID : 943 -

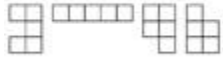
Which of the following answer figure patterns can be combined to make the question figure?

निम्नलिखित उत्तर आकृति में से कौन से प्रतिरूपों को जोड़कर दिए गए प्रश्न आकृति को बनाया जा सकता है?




Options:

1)



2)



3)



4)

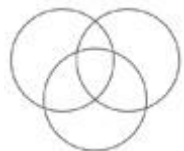


Correct Answer: 4


QID : 944 - निम्नलिखित में से कौन सा आरेख आदमी, भारतीय और लेखकों के बीच संबंध दर्शाता है?

Options:

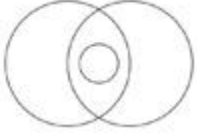
1)



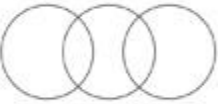
2)



3)



4)

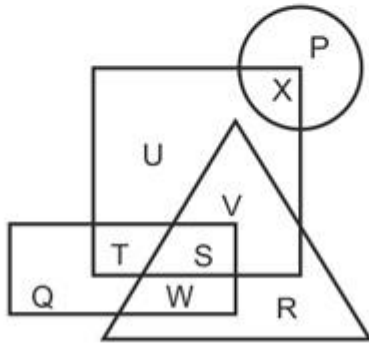


Correct Answer: 1

QID : 945 -

In the following figure, square represents directors, triangle represents actors, circle represents singers and rectangle represents producers. Which set of letters represents producers who are also directors and singers who are not actors?

निम्नलिखित आकृत में वर्ग निर्देशक को दर्शाता है, त्रिभुज अभिनेता को दर्शाता है, वृत्त गायकों को दर्शाता है और आयत निर्माता को दर्शाता है। वर्णों का कौन सा समूह उन निर्माताओं को दर्शाता है जो निर्देशक भी हैं और गायक जो अभिनेता नहीं हैं?



Options:

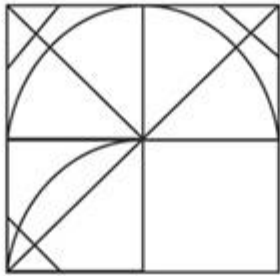
- 1) T, S and P
- 2) Q, W, X and P
- 3) Q, W and P
- 4) T, S, X and P

Correct Answer: T, S, X and P

QID : 946 -

Which answer figure will complete the pattern in the question figure?

निम्नलिखित में से कौन-सी उत्तर आकृति प्रश्न आकृति के प्रतिरूप को पूरा करेगी?



Options:

1)



2)



3)



4)

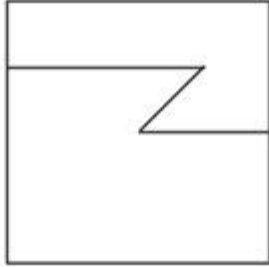


Correct Answer: 1

QID : 947 -

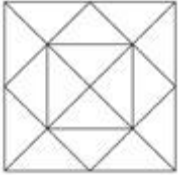
From the given answer figures, select the one in which the question figure is hidden/embedded.

दी गई उत्तर आकृतियों में से उस आकृति को चुनिए जिसमें प्रश्न आकृति निहित है।



Options:


1)




2)



3)



4)

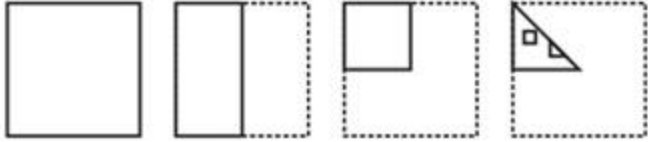


Correct Answer: 4

QID : 948 -


A piece of paper is folded and punched as shown below in the question figures. From the given answer figures, indicate how it will appear when opened.

प्रश्न आकृतियों में दिखाए अनुसार कागज को मोड़कर उसमें छेद करने तथा खोलने के बाद वह किस उत्तर आकृति जैसा दिखाई देगा?




Options:


1)



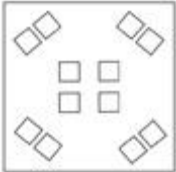
2)



3)



4)




Correct Answer: 1

QID : 949 -

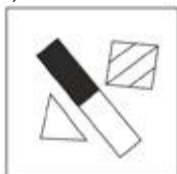
If a mirror is placed on the line MN, then which of the answer figures is the right image of the given figure?

यदि एक दर्पण को MN रेखा पर रखा जाए तो दी गई उत्तर आकृतियों में से कौन-सी आकृति प्रश्न आकृति का सही प्रतिबिम्ब होगी?



Options:

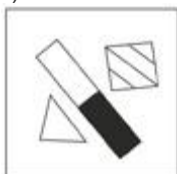
1)



2)



3)



4)



Correct Answer: 3

QID : 950 -

A word is represented by only one set of numbers as given in any one of the alternatives. The sets of numbers given in the alternatives are represented by two classes of alphabets as shown in the given two matrices. The columns and rows of Matrix-I are numbered from 0 to 4 and that of Matrix-II are numbered from 5 to 9. A letter from these matrices can be represented first by its row and next by its column, for example 'X' can be represented by 30, 41 etc and 'G' can be represented by 55, 87 etc. Similarly, you have to identify the set for the word 'RUGBY'.

एक शब्द केवल एक संख्या-समूह द्वारा दर्शाया गया है, जैसा कि विकल्पों में से किसी एक में दिया गया है। विकल्पों में दिए गए संख्या-समूह अक्षरों के दो वर्गों द्वारा दर्शाए गए हैं, जैसा कि दिए गए दो आव्यूहों में है। आव्यूह-I के स्तम्भ और पंक्ति की संख्या 0 से 4 और आव्यूह-II की 5 से 9 है। इन आव्यूहों से एक अक्षर को पहले उसकी पंक्ति और बाद में स्तम्भ संख्या द्वारा दर्शाया जा सकता है। उदाहरण के लिए 'X' को 30, 41 आदि द्वारा दर्शाया जा सकता है तथा 'G' को 55, 87 आदि द्वारा दर्शाया जा सकता है। इसी तरह से आपको प्रश्न में दिए शब्द 'RUGBY' के लिए समूह को पहचानना है।

MATRIX - I
आव्यूह - I

| | | | | | |
|---|---|---|---|---|---|
| | 0 | 1 | 2 | 3 | 4 |
| 0 | Q | N | S | X | O |
| 1 | W | Q | Q | P | N |
| 2 | Y | R | O | W | U |
| 3 | X | O | T | N | T |
| 4 | P | X | U | Q | Q |

MATRIX - II
आव्यूह - II

| | | | | | |
|---|---|---|---|---|---|
| | 5 | 6 | 7 | 8 | 9 |
| 5 | G | A | F | K | B |
| 6 | J | D | D | C | A |
| 7 | L | E | B | J | H |
| 8 | K | B | G | A | G |
| 9 | C | K | H | D | D |

Options:

- 1) 01,34,22,10,75
- 2) 40,31,41,68,01
- 3) 21,24,89,77,20
- 4) 23,95,14,20,79

Correct Answer: 21,24,89,77,20



SSC EXAMS PRINTED STUDY NOTES

| | | |
|---|-------------------------|----------------------------|
| Study Material for SSC CGL (Tier-1) Examination | English | CLICK HERE |
| Study Kit for SSC CGL (Tier-2) Exam | English | CLICK HERE |
| Study Kit for SSC CHSL (10+2) Examination | English | CLICK HERE |
| Study Kit for SSC Stenographers (Grade 'C' & 'D') | English | CLICK HERE |
| Study Kit for Multitasking (Non-Technical) - MTS | English | CLICK HERE |
| Study Kit for SSC Constables (GD) Exam | English | CLICK HERE |
| Study Kit For SSC Sub-Inspectors in Delhi Police, CAPFs, CISF | English | CLICK HERE |
| Study Kit for SSC Junior Engineer Exam (Paper-1) | English | CLICK HERE |
| IAS EXAMS STUDY MATERIALS | | |
| Study Kit for IAS (Pre) GENERAL STUDIES Paper-1 (GS) | English | CLICK HERE |
| Study Kit for IAS (Pre) CSAT Paper-2(Aptitude) | English | CLICK HERE |
| सामान्य अध्ययन (GS) प्रारंभिक परीक्षा (Pre) पेपर-1 | हिन्दी | CLICK HERE |
| आई. ए. एस. (सी-सैट) प्रारंभिक परीक्षा पेपर -2 | हिन्दी | CLICK HERE |
| Gist of NCERT Study Kit For UPSC Exams | English | CLICK HERE |
| यूपीएससी परीक्षा के लिए एनसीईआरटी अध्ययन सामग्री | हिन्दी | CLICK HERE |