



कर्मचारी चयन आयोग कनिष्ठ अभियन्ता

एस.एस.सी. कनिष्ठ अभियन्ता परीक्षा पेपर 2018 "22 जनवरी 2018" सुबह की पाली (सामान्य बुद्धि और तर्क शक्ति) SSC Junior Engineers (JE) Online Exam Paper - 2016 "held on 22 Jan 2018" Morning Shift (General Intelligence & Reasoning)

QID : 1 - निम्नलिखित प्रश्न में दिए गए विकल्पों में से संबंधित शब्द युग्म को चुनिए।

वर्षा : बादल :: ? : ?

Options:

- 1) चावल : खाना
- 2) सलेटी : रंग
- 3) गर्मी : सूर्य
- 4) बर्फ : पर्वत

Correct Answer: गर्मी : सूर्य

QID : 2 - निम्नलिखित प्रश्न में दिए गए विकल्पों में से संबंधित शब्द को चुनिए।

कैक्टस : पौधा :: चावल : ?

Options:

- 1) बासमती
- 2) फसल
- 3) सफेद
- 4) रबी

Correct Answer: फसल

QID : 3 - निम्नलिखित प्रश्न में दिए गए विकल्पों में से संबंधित शब्द को चुनिए।

गुलाबी : रंग :: गरुड़ : ?

Options:

- 1) काला
- 2) चिह्न
- 3) पक्षी
- 4) आकाश

Correct Answer: पक्षी

QID : 4 - निम्नलिखित प्रश्न में दिए गए विकल्पों में से संबंधित अक्षर युग्म को चुनिए।

TOM : NIG :: ? : ?

Options:

- 1) EAT : YUN
- 2) EAT : XXM
- 3) FAT : LMV
- 4) EAT : ZXC

Correct Answer: EAT : YUN

QID : 5 - निम्नलिखित प्रश्न में दिए गए विकल्पों में से संबंधित अक्षरों को चुनिए।

LERI : PJVN :: MONT : ?

Options:

- 1) WRTY
- 2) QTRY
- 3) RITY
- 4) RQYB

Correct Answer: QTRY

QID : 6 - निम्नलिखित प्रश्न में दिए गए विकल्पों में से संबंधित अक्षरों को चुनिए।

SAT : WEX :: MET : ?

Options:

- 1) AQI
- 2) IYX
- 3) FHY
- 4) QIX

Correct Answer: QIX

QID : 7 - निम्नलिखित प्रश्न में दिए गए विकल्पों में से संबंधित संख्या को चुनिए।

43 : 7 :: 23 : ?

Options:

- 1) 6
- 2) 4
- 3) 7
- 4) 5

Correct Answer: 5

QID : 8 - निम्नलिखित प्रश्न में दिए गए विकल्पों में से संबंधित संख्या को चुनिए।

38 : 53 :: 53 : ?

Options:

- 1) 72
- 2) 68
- 3) 79
- 4) 87

Correct Answer: 68

QID : 9 - निम्नलिखित प्रश्न में दिए गए विकल्पों में से संबंधित संख्या को चुनिए।

9 : 81 :: 11 : ?

Options:

- 1) 78
- 2) 93
- 3) 121
- 4) 146

Correct Answer: 121

Study Material for Junior Engineer (Civil / Electrical / Mechanical Engineering) Examination Study Kit for SSC CGL EXAM

QID : 10 - निम्नलिखित प्रश्न में दिए गए विकल्पों में से विषम शब्द को चुनिए।

Options:

- 1) चश्मे
- 2) पर्स
- 3) सहायक सामग्री
- 4) Belt
बेल्ट

Correct Answer: Accessories

सहायक सामग्री

QID : 11 - निम्नलिखित प्रश्न में दिए गए विकल्पों में से विषम शब्द को चुनिए।

Options:

- 1) अंगूर
- 2) अमरूद
- 3) फूलगोभी
- 4) संतरा

Correct Answer: फूलगोभी

QID : 12 - निम्नलिखित प्रश्न में दिए गए विकल्पों में से विषम शब्द को चुनिए।

Options:

- 1) चिड़िया
- 2) चूहा
- 3) शत्रुमुर्ग
- 4) तोता

Correct Answer: चूहा

QID : 13 - निम्नलिखित प्रश्न में दिए गए विकल्पों में से विषम अक्षरों को चुनिए।

Options:

- 1) GCXTO
- 2) KGBXS
- 3) RNIEX
- 4) QMHDY

Correct Answer: RNIEX

QID : 14 - निम्नलिखित प्रश्न में दिए गए विकल्पों में से विषम अक्षरों को चुनिए।

Options:

- 1) SOKG
- 2) AWSO
- 3) RNJF
- 4) CYTP

Correct Answer: CYTP

QID : 15 - निम्नलिखित प्रश्न में दिए गए विकल्पों में से विषम अक्षरों को चुनिए।

Options:

- 1) KNQ
- 2) DGJ
- 3) WZB
- 4) TWZ

Correct Answer: WZB

QID : 16 - निम्नलिखित प्रश्न में दिए गए विकल्पों में से विषम संख्या को चुनिए।

Options:

- 1) 7 – 11
- 2) 12 – 16
- 3) 14 – 18
- 4) 9 – 15

Correct Answer: 9 – 15

QID : 17 - निम्नलिखित प्रश्न में दिए गए विकल्पों में से विषम संख्या को चुनिए।

Options:

- 1) 2 – 4
- 2) 3 – 9
- 3) 4 – 18
- 4) 5 – 25

Correct Answer: 4 – 18

QID : 18 - निम्नलिखित प्रश्न में दिए गए विकल्पों में से विषम संख्या युग्म को चुनिए।

Options:

- 1) 76 – 42
- 2) 92 – 20
- 3) 73 – 21
- 4) 93 – 27

Correct Answer: 92 – 20

QID : 19 - निम्नलिखित शब्दों को शब्दकोश में आने वाले क्रम के अनुसार लिखें।

1. Flagrant
2. Flavour
3. Flatter
4. Flick
5. Flawed

Options:

- 1) 13254
- 2) 31254
- 3) 23541
- 4) 32541

Correct Answer: 13254

QID : 20 - शब्दकोश के अनुसार, निम्नलिखित में से कौन सा शब्द तीसरे स्थान पर आयेगा?

1. Heritage
2. Helpful
3. Hectic
4. Heroic
5. Heroism

Options:

- 1) Hectic

- 2) Heritage
- 3) Heroic
- 4) Helpful

Correct Answer: Heritage

QID : 21 - दिए गए विकल्पों में से, शब्दकोश के अनुसार, कौन सा शब्द अंतिम स्थान पर आयेगा?

Options:

- 1) Juvenile
- 2) Justify
- 3) Judge
- 4) Justice

Correct Answer: Juvenile

QID : 22 - एक अनुक्रम दिया गया है, जिसमें से एक पद लुप्त है। दिए गए विकल्पों में से वह सही विकल्प चुनिए, जो अनुक्रम को पूरा करे।

F, M, T, ?, H, O

Options:

- 1) B
- 2) C
- 3) A
- 4) D

Correct Answer: A

QID : 23 - एक अनुक्रम दिया गया है, जिसमें से एक पद लुप्त है। दिए गए विकल्पों में से वह सही विकल्प चुनिए, जो अनुक्रम को पूरा करे।

ROK, LIE, FCY, ZWS, ?

Options:

- 1) LAQ
- 2) SRV
- 3) TQM
- 4) FMQ

Correct Answer: TQM

QID : 24 - एक अनुक्रम दिया गया है, जिसमें से एक पद लुप्त है। दिए गए विकल्पों में से वह सही विकल्प चुनिए, जो अनुक्रम को पूरा करे।

FAQ, LGW, RMC, ?, DYQ

Options:

- 1) VIR

2) XSI

3) LSI

4) MIS

Correct Answer: XSI

QID : 25 - निम्नलिखित प्रश्न में दिए गए विकल्पों में से लुप्त अंक ज्ञात कीजिए।

14, 22, 49, 113, 238, ?

Options:

1) 386

2) 532

3) 454

4) 576

Correct Answer: 454

QID : 26 - निम्नलिखित प्रश्न में दिए गए विकल्पों में से लुप्त अंक ज्ञात कीजिए।

42, 21, 21, 31.5, 63, ?

Options:

1) 169.75

2) 157.5

3) 152.5

4) 126.75

Correct Answer: 157.5

QID : 27 - निम्नलिखित प्रश्न में दिए गए विकल्पों में से लुप्त अंक ज्ञात कीजिए।

14, 44, 135, 409, 1232, ?

Options:

1) 2962

2) 3340

3) 3702

4) 3406

Correct Answer: 3702

QID : 28 - E, D और A के बीच बैठा है, B, A के दाहिनी ओर है, C, एक सिरे पर है और C और D एक दूसरे के बगल में बैठे हैं। तीसरे स्थान पर कौन बैठा है?

Options:

1) D

2) A

3) B

4) E

Correct Answer: E

QID : 29 - एक शादीशुदा जोड़े का फोटो दिखाते हुए B ने कहा कि इसमें जो सज्जन हैं वे उसके पिता के पिता थे और A ने कहा कि इसमें जो स्त्री है वह उसकी मां थी। A , B से किस तरह संबंधित है?

Options:

- 1) A, B की मां की बहन है
- 2) A, B की बहन है
- 3) A, B के पिता की बहन है
- 4) A, B की मां है

Correct Answer: A, B के पिता की बहन है

QID : 30 - निम्नलिखित विकल्पों में से वह शब्द चुनिए जो दिए गए शब्द के अक्षरों का प्रयोग करके नहीं बनाया जा सकता:

MERCANTILE

Options:

- 1) truce
- 2) learn
- 3) trace
- 4) claim

Correct Answer: truce

QID : 31 - यदि OLYMPUS को कोड में MJWKNSQ लिखा जाता है तो TEN को कोड में क्या लिखेंगे?

Options:

- 1) RCL
- 2) GVM
- 3) SDM
- 4) UFO

Correct Answer: RCL

QID : 32 - किसी निश्चित कोड भाषा में 1875 का अर्थ है 'wound the round watch', 6143 का अर्थ है 'a cake is round' और 7321 का अर्थ है 'watch a round wheel'। 'watch' के लिए कोड ज्ञात करें।

Options:

- 1) 1
- 2) 8
- 3) 5
- 4) 7

Correct Answer: 7

QID : 33 - किसी निश्चित कोड भाषा में '+' , '-' को प्रदर्शित करता है, 'x' , '÷' को प्रदर्शित करता है और '÷', '+' को प्रदर्शित करता है। निम्नलिखित प्रश्न का उत्तर ज्ञात करें?

$$96 \times 4 \div 125 + 25 - 5 = ?$$

Options:

- 1) 23
- 2) 24
- 3) 50
- 4) 8

Correct Answer: 24

QID : 34 - यदि $17 \$ 22 = 4$ और $56 \$ 13 = 7$, तो $71 \$ 25 = ?$ का मान ज्ञात करें?

Options:

- 1) 56
- 2) 96
- 3) 1
- 4) 8

Correct Answer: 1

QID : 35 - यदि $A \$ B$ का अर्थ है कि A, B का पुत्र है, $A \# B$ का अर्थ है कि A, B का भाई है और यदि $A * B$ का अर्थ है कि A, B का पिता है तो $X \# Y * Z \$ W$ का क्या अर्थ है?

Options:

- 1) W, X के भाई की पत्नी है
- 2) W, X की पत्नी है
- 3) W, X की मां है
- 4) W, X की बहन है

Correct Answer: W, X के भाई की पत्नी है

QID : 36 -

Select the missing number from the given responses

दिए गए विकल्पों में से लुप्त संख्या चुनिए।

1	4	2
2	7	10
3	?	12

Options:

- 1) 3
- 2) 9
- 3) -3
- 4) 11

Correct Answer: 11

QID : 37 - निम्नलिखित में से कौन सा पद दी गयी सूची के क्रम के अनुसार है?

OOXXXXX, XOXXXX, OXXOXXX, OXXXOXX, OXXXXOX, _____.

Options:

- 1) XOXXXXO
- 2) XOXXXOX
- 3) OXXXOXX
- 4) OXXXXXO

Correct Answer: OXXXXXO

QID : 38 - एक वैज्ञानिक चींटियों के व्यवहार का अध्ययन कर रहा है। चींटी खाना उठाकर 5 सेंटीमीटर उत्तर की ओर चलती है और फिर यह दाहिने ओर मुड़कर 11 सेंटीमीटर चलती है। फिर यह पुनः दाहिनी ओर मुड़कर 3 सेंटीमीटर चलती है और फिर यह पश्चिम की ओर मुड़कर 15 सेंटीमीटर चलती है। अंत में यह अपने बाईं ओर मुड़ती है और 2 सेंटीमीटर चलती है। चींटी अब अपनी प्रारंभिक स्थिति से कहाँ हैं?

Options:

- 1) 4 सेंटीमीटर पूर्व
- 2) 26 सेंटीमीटर पश्चिम
- 3) 4 सेंटीमीटर पश्चिम
- 4) 26 सेंटीमीटर पूर्व

Correct Answer: 4 सेंटीमीटर पश्चिम

SSC CHSL(10+2) परीक्षा अध्ययन सामग्री



- 100% CHSL Exam Syllabus Covered
- 5 Books, 900+ Pages
- 2500+ MCQs
- 1 Year Current Affairs (PDF Copy)
- Support & Guidance

50% OFF
₹ 4,000/-
₹ **1,999/-**

FREE SHIPPING

for Exam Help Call Us at: +91 8800734161

SSCPORTAL.IN

आप क्या प्राप्त करेंगे?

- माध्यम: हिन्दी
- 100 प्रतिशत पाठ्यक्रम
- 900 से अधिक पृष्ठ
- 2500 से अधिक वस्तुनिष्ठ प्रश्न
- कुल 5 पुस्तिकाएँ
- अध्यायवार M.C.Q
- गणित एवं तार्किक क्षमता को हल करने की सरल विधि
- 5 अभ्यास प्रश्न पत्र (PDF Copy)
- हमारे विशेषज्ञों द्वारा मार्गदर्शन और सहायता

Price of the Kit:

Rs. 4,200

Rs. 1,999/-

(Limited time Offer)

 Buy Online

VISA Maestro MasterCard RuPay

Net Banking

Order Online (100% Safe)

[Click here for Other Payment Options \(Cash/NEFT/etc\)](#)

FOR MORE DETAILS CLICK HERE

50% OFF

QID : 39 - दो फुटबॉल खिलाड़ी मैदान के एक ही बिंदु से दौड़ना प्रारंभ करते हैं। खिलाड़ी A, 10 किलोमीटर पूर्व की ओर दौड़ता है और फिर बाईं ओर मुड़कर 13 किलोमीटर दौड़ता है। उसी समय खिलाड़ी B, 6 किलोमीटर दक्षिण की ओर चलता है तथा फिर 3 किलोमीटर पूर्व की ओर चलता है और फिर अपनी बाईं ओर मुड़कर 19 किलोमीटर दौड़ता है। खिलाड़ी B के संदर्भ में खिलाड़ी A कहाँ है?

Options:

- 1) 7 किलोमीटर पश्चिम
- 2) 7 किलोमीटर पूर्व
- 3) 13 किलोमीटर पूर्व
- 4) 13 किलोमीटर पश्चिम

Correct Answer: 7 किलोमीटर पूर्व

QID : 40 - प्रश्न में दो कथन दिये गये हैं जिसके आगे दो निष्कर्ष I और II निकाले गये हैं। आपको मानना है कि दोनों कथन सत्य हैं चाहे वह सामान्यतः ज्ञात तथ्यों से भिन्न प्रतीत होते हों। आपको निर्णय करना है की दिए गए निष्कर्षों में से कौन-सा/कौन-से निश्चित रूप से कथन द्वारा सही निकाला जा सकता है/सकते हैं, यदि कोई हो।

कथन I: कुछ अध्याय भौतिकी हैं

कथन II: सभी विज्ञान भौतिकी है

निष्कर्ष I: सभी विज्ञान अध्याय हैं

निष्कर्ष II: कुछ भौतिकी विज्ञान हैं

Options:

- 1) केवल निष्कर्ष I सही है
- 2) केवल निष्कर्ष II सही है
- 3) दोनों निष्कर्ष I और II सही हैं
- 4) ना तो निष्कर्ष I सही है ना ही निष्कर्ष II

Correct Answer: केवल निष्कर्ष II सही है

QID : 41 - प्रश्न में तीन कथन दिये गये हैं जिसके आगे तीन निष्कर्ष I, II और III निकाले गये हैं। आपको मानना है कि तीनों कथन सत्य हैं चाहे वह सामान्यतः ज्ञात तथ्यों से भिन्न प्रतीत होते हों। आपको निर्णय करना है की दिए गए निष्कर्षों में से कौन-सा/कौन-से निश्चित रूप से कथन द्वारा सही निकाला जा सकता है/सकते हैं, यदि कोई हो।

कथन I: सभी सफलता विजय है

कथन II: सभी भाग्य सफलता है

कथन III: कुछ मेहनत भाग्य है

निष्कर्ष I: कुछ सफलता मेहनत है

निष्कर्ष II: कुछ मेहनत सफलता है

निष्कर्ष III: कोई विजय भाग्य नहीं है

Options:

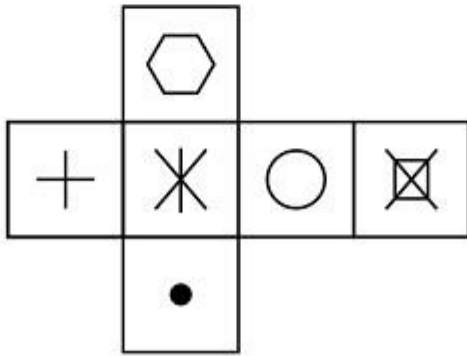
- 1) केवल निष्कर्ष I और II सही हैं
- 2) केवल निष्कर्ष II और III सही हैं
- 3) केवल निष्कर्ष I और III सही हैं
- 4) तीनों निष्कर्ष I, II और III सही हैं

Correct Answer: केवल निष्कर्ष I और II सही हैं

QID : 42 -

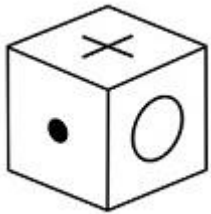
Which of the following cube in the answer figure cannot be made based on the unfolded cube in the question figure?

निम्नलिखित उत्तर आकृति में से कौन सा घन दिए गए प्रश्न आकृति में खुले घन से बनाया नहीं जा सकता?

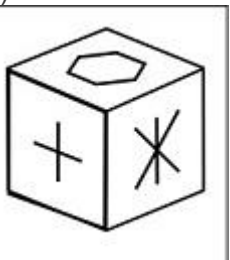


Options:

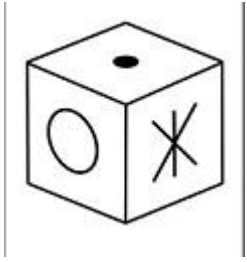
1)



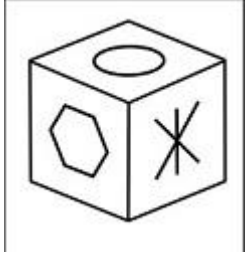
2)



3)



4)

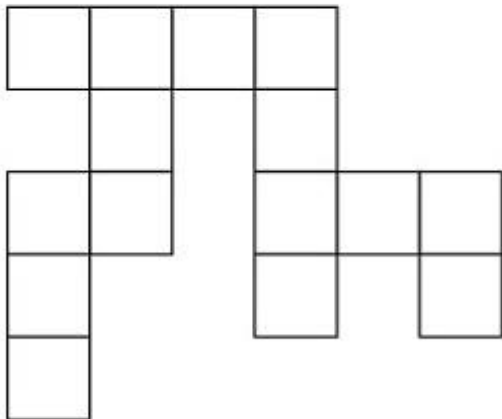


Correct Answer:

QID : 43 -

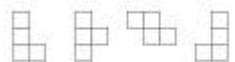
Which of the following answer figure patterns can be combined to make the question figure?

निम्नलिखित उत्तर आकृति में से कौन से प्रतिरूपों को जोड़कर दिए गए प्रश्न आकृति को बनाया जा सकता है?



Options:

1)



2)



3)



4)

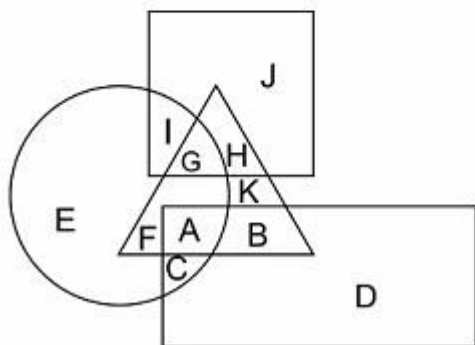


Correct Answer:

QID : 44 -

In the following figure, square represents Professors, triangle represents Social Workers, circle represents Dieticians and rectangle represents Men. Which set of letters represents Dieticians who are not men?

निम्नलिखित चित्र में वर्ग, प्रोफेसर्स को प्रदर्शित करता है, त्रिभुज सोशल वर्कर्स को प्रदर्शित करता है, वृत्त डायटीशियंस को और आयत पुरुषों को प्रदर्शित करता है। अक्षरों का कौन सा समूह उन डायटीशियंस को प्रदर्शित करता है जो पुरुष नहीं हैं?



Options:

- 1) EFGI
- 2) BDKHJ
- 3) IGAC
- 4) DEJI

Correct Answer: EFGI

Candidate Answer: EFGI

QID : 45 -

Which of the following Venn diagrams represents the relationship between Butterflies, Animals and Insects ?

निम्नलिखित में से कौन सा वेन चित्र तितलियों, जानवरों और कीड़ों के बीच संबंध दर्शाता है?

Options:

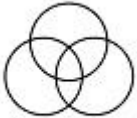
1)



2)



3)



4)

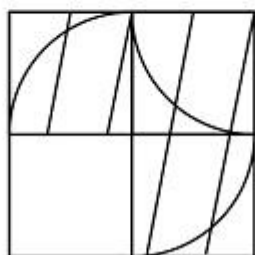


Candidate Answer:

QID : 46 -

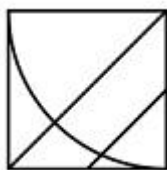
Which answer figure will complete the pattern in the question figure?

निम्नलिखित में से कौन-सी उत्तर आकृति प्रश्न आकृति के प्रतिरूप को पूरा करेगी?

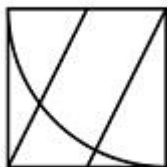


Options:

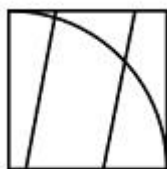
1)



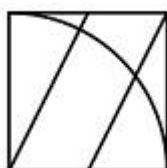
2)



3)



4)




Correct Answer:

QID : 47 -

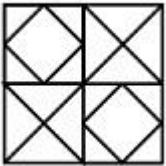
From the given answer figures, select the one in which the question figure is hidden/embedded.

दी गयी उत्तर आकृतियों में से उस आकृति को चुनिए जिसमें प्रश्न आकृति निहित है।

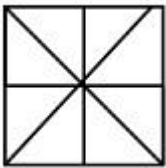


Options:

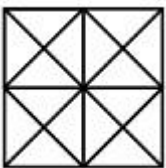
1)



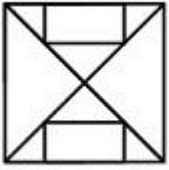
2)



3)



4)

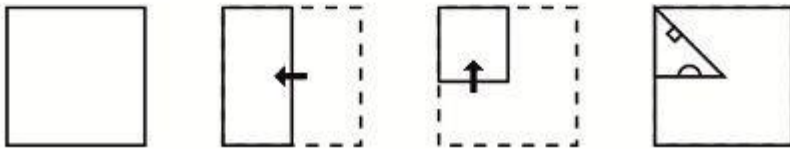


Correct Answer:

QID : 48 -

A piece of paper is folded and punched as shown below in the question figures. From the given answer figures, indicate how it will appear when opened.

प्रश्न आकृतियों में दिखाए अनुसार कागज को मोड़कर उसमें छेद करने तथा खोलने के बाद वह किस उत्तर आकृति जैसा दिखाई देगा?

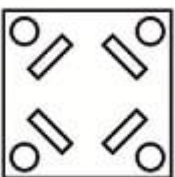


Options:

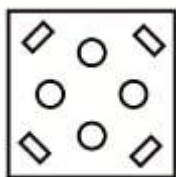
1)



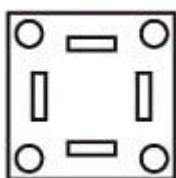
2)



3)



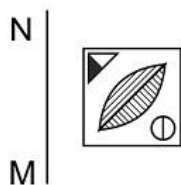
4)



Candidate Answer:

If a mirror is placed on the line MN, then which of the answer figures is the right image of the given figure?

यदि एक दर्पण को MN रेखा पर रखा जाए तो दी गयी उत्तर आकृतियों में से कौन-सी आकृति प्रश्न आकृति का सही प्रतिबिम्ब होगी?



QID : 49 -

Options:

1)



2)



3)



4)



Candidate Answer:

QID : 50 -

A word is represented by only one set of numbers as given in any one of the alternatives. The sets of numbers given in the alternatives are represented by two classes of alphabets as shown in the given two matrices. The columns and rows of Matrix-I are numbered from 0 to 4 and that of Matrix-II are numbered from 5 to 9. A letter from these matrices can be represented first by its row and next by its column, for example 'C' can be represented by 43, 41 etc and 'O' can be represented by 97, 78 etc. Similarly, you have to identify the set for the word 'SPAN'.

एक शब्द केवल एक संख्या-समूह द्वारा दर्शाया गया है, जैसा कि विकल्पों में से किसी एक में दिया गया है। विकल्पों में दिए गए संख्या-समूह अक्षरों के दो वर्गों द्वारा दर्शाए गए हैं, जैसा कि दिए गए दो आव्यूहों में है। आव्यूह-I के स्तम्भ और पंक्ति की संख्या 0 से 4 और आव्यूह-II की 5 से 9 है। इन आव्यूहों से एक अक्षर को पहले उसकी पंक्ति और बाद में स्तम्भ संख्या द्वारा दर्शाया जा सकता है। उदाहरण के लिए 'C' को 43, 41 आदि द्वारा दर्शाया जा सकता है तथा 'O' को 97, 78 आदि द्वारा दर्शाया जा सकता है। इसी तरह से आपको प्रश्न में दिए शब्द 'SPAN' के लिए समूह को पहचानना है।

Matrix I आव्यूह-I					Matrix II आव्यूह-II						
	0	1	2	3	4	5	6	7	8	9	
0	M	M	M	I	E	5	N	V	Q	U	S
1	A	M	J	I	A	6	R	S	T	U	N
2	F	I	M	I	E	7	S	Z	X	O	V
3	I	J	A	L	K	8	X	S	P	W	P
4	D	C	A	C	L	9	U	X	O	Y	Y

Options:

- 1) 66,87,33,56
- 2) 59,78,42,31
- 3) 86,89,32,55

4) 78,43,22,98

Correct Answer: 86,89,32,55



SSC EXAMS PRINTED STUDY NOTES

Study Material for SSC CGL (Tier-1) Examination	English	CLICK HERE
Study Kit for SSC CGL (Tier-2) Exam	English	CLICK HERE
Study Kit for SSC CHSL (10+2) Examination	English	CLICK HERE
Study Kit for SSC Stenographers (Grade 'C' & 'D')	English	CLICK HERE
Study Kit for Multitasking (Non-Technical) - MTS	English	CLICK HERE
Study Kit for SSC Constables (GD) Exam	English	CLICK HERE
Study Kit For SSC Sub-Inspectors in Delhi Police, CAPFs, CISF	English	CLICK HERE
Study Kit for SSC Junior Engineer Exam (Paper-1)	English	CLICK HERE
IAS EXAMS STUDY MATERIALS		
Study Kit for IAS (Pre) GENERAL STUDIES Paper-1 (GS)	English	CLICK HERE
Study Kit for IAS (Pre) CSAT Paper-2(Aptitude)	English	CLICK HERE
सामान्य अध्ययन (GS) प्रारंभिक परीक्षा (Pre) पेपर-1	हिन्दी	CLICK HERE
आई. ए. एस. (सी-सैट) प्रारंभिक परीक्षा पेपर -2	हिन्दी	CLICK HERE
Gist of NCERT Study Kit For UPSC Exams	English	CLICK HERE
यूपीएससी परीक्षा के लिए एनसीईआरटी अध्ययन सामग्री	हिन्दी	CLICK HERE