



कर्मचारी चयन आयोग कनिष्ठ अभियन्ता

एस.एस.सी. कनिष्ठ अभियन्ता परीक्षा पेपर 2016 "01 मार्च 2017" सुबह की पाली (सामान्य बुद्धि और तर्क शक्ति) SSC Junior Engineers (JE) Online Exam Paper - 2016 "held on 01 March 2017" Morning Shift (General Intelligence & Reasoning)

QID : 901 - दिये गये विकल्पों में से संबन्धित शब्द/अक्षरों/संख्या को चुनिए।

कोयला : काला :: चाक : ?

Options:

- 1) छिद्रित
- 2) सफेद
- 3) भंगुर
- 4) कोमल

Correct Answer: सफेद

QID : 902 - दिये गये विकल्पों में से संबन्धित शब्द/अक्षरों/संख्या को चुनिए।

मरूद्यान : पानी :: द्वीप : ?

Options:

- 1) भूमि
- 2) समुद्र
- 3) किनारा
- 4) शुष्क

Correct Answer: भूमि

QID : 903 - दिये गये विकल्पों में से संबन्धित शब्द/अक्षरों/संख्या को चुनिए।

Buy : Bye :: ?

Options:

- 1) Brake : Break
- 2) Pen : Pencil
- 3) Coffee : Toffee
- 4) Thorn : Horn

Correct Answer: Brake : Break

QID : 904 - दिये गये विकल्पों में से संबन्धित शब्द/अक्षरों/संख्या को चुनिए।

AEIOU : BFJPV :: JLNP : ?

Options:

- 1) LKMO
- 2) KMOQ
- 3) UOIE
- 4) MNOP

Correct Answer: KMOQ

QID : 905 - दिये गये विकल्पों में से संबन्धित शब्द/अक्षरों/संख्या को चुनिए।

Cause : Cease :: Poise : ?

Options:

- 1) Pipes
- 2) Poppies
- 3) Possess
- 4) Sips

Correct Answer: Pipes

QID : 906 - दिये गये विकल्पों में से संबन्धित शब्द/अक्षरों/संख्या को चुनिए।

Gourmet : Methane :: Tomato : ?

Options:

- 1) Atomize
- 2) Potato
- 3) Atoll
- 4) Atomic

Correct Answer: Atomic

QID : 907 - दिये गये विकल्पों में से संबन्धित शब्द/अक्षरों/संख्या को चुनिए।

26 : 65 :: 28 : ?

Options:

- 1) 82
- 2) 88
- 3) 70
- 4) 75

Correct Answer: 70

QID : 908 - दिये गये विकल्पों में से संबन्धित शब्द/अक्षरों/संख्या को चुनिए।

364 : 697 :: 265 : ?

Options:

- 1) 598
- 2) 573

3) 863

4) 475

Correct Answer: 598

QID : 909 - दिये गये विकल्पों में से संबन्धित शब्द/अक्षरों/संख्या को चुनिए।

861 : 123 :: 2352 : ?

Options:

1) 336

2) 461

3) 1548

4) 2234

Correct Answer: 336

QID : 910 - दिए गए विकल्पों में से विषम शब्द/अक्षरों/संख्या/शब्द युग्म/संख्या युग्म को चुनिए।

Options:

1) साइकिल

2) मोटरसाइकिल

3) स्कूटर

4) कार

Correct Answer: कार

QID : 911 - दिए गए विकल्पों में से विषम शब्द/अक्षरों/संख्या/शब्द युग्म/संख्या युग्म को चुनिए।

Options:

1) मृत या जीवित

2) जीवन या मृत्यु

3) शरीर और आत्मा

4) सजीव और निर्जीव

Correct Answer: शरीर और आत्मा

QID : 912 - दिए गए विकल्पों में से विषम शब्द/अक्षरों/संख्या/शब्द युग्म/संख्या युग्म को चुनिए।

Options:

1) टेलीविज़न और पंखा

2) कंप्यूटर और ट्यूबलाइट

3) बिस्तर और अलमारी

4) पंखा और ट्यूबलाइट

Correct Answer: बिस्तर और अलमारी

QID : 913 - दिए गए विकल्पों में से विषम शब्द/अक्षरों/संख्या/शब्द युग्म/संख्या युग्म को चुनिए।

Options:

1) VD

2) ZA

3) BY

4) XC

Correct Answer: VD

QID : 914 - दिए गए विकल्पों में से विषम शब्द/अक्षरों/संख्या/शब्द युग्म/संख्या युग्म को चुनिए।

Options:

- 1) Gender
- 2) Agenda
- 3) Spender
- 4) Amender

Correct Answer: Agenda

QID : 915 - दिए गए विकल्पों में से विषम शब्द/अक्षरों/संख्या/शब्द युग्म/संख्या युग्म को चुनिए।

Options:

- 1) DTF
- 2) UEF
- 3) AIA
- 4) BHG

Correct Answer: AIA

QID : 916 - दिए गए विकल्पों में से विषम शब्द/अक्षरों/संख्या/शब्द युग्म/संख्या युग्म को चुनिए।

Options:

- 1) 100101
- 2) 1100101
- 3) 1110001
- 4) 1010011

Correct Answer: 100101

QID : 917 - दिए गए विकल्पों में से विषम शब्द/अक्षरों/संख्या/शब्द युग्म/संख्या युग्म को चुनिए।

Options:

- 1) 40
- 2) 25
- 3) 64
- 4) 100

Correct Answer: 40

QID : 918 - दिए गए विकल्पों में से विषम शब्द/अक्षरों/संख्या/शब्द युग्म/संख्या युग्म को चुनिए।

Options:

- 1) 104, 17
- 2) 114, 19
- 3) 144, 24
- 4) 132, 22

Correct Answer: 104, 17

QID : 919 - एक अनुक्रम दिया गया है, जिसमें एक शब्द/एक पद/एक संख्या लुप्त है। दिए गए विकल्पों में से वह सही विकल्प चुनिए जो अनुक्रम को पूरा करे।

Educative, Probable, Synergy, Friday, ?

Options:

- 1) Male
- 2) Rooted
- 3) Guilt
- 4) Beer

Correct Answer: Guilt

QID : 920 - एक अनुक्रम दिया गया है, जिसमें एक शब्द/एक पद/एक संख्या लुप्त है। दिए गए विकल्पों में से वह सही विकल्प चुनिए जो अनुक्रम को पूरा करे।

Hello, Lofty, Tyre, Repair, ?

Options:

- 1) Tonic
- 2) Ironic
- 3) Panic
- 4) Paired

Correct Answer: Ironic

QID : 921 - एक अनुक्रम दिया गया है, जिसमें एक शब्द/एक पद/एक संख्या लुप्त है। दिए गए विकल्पों में से वह सही विकल्प चुनिए जो अनुक्रम को पूरा करे।

ago, veal, choke, decree, ?

Options:

- 1) bristles
- 2) deviance
- 3) ordain
- 4) ensures

Correct Answer: ensures

QID : 922 - एक अनुक्रम दिया गया है, जिसमें एक शब्द/एक पद/एक संख्या लुप्त है। दिए गए विकल्पों में से वह सही विकल्प चुनिए जो अनुक्रम को पूरा करे।

R, O, L, I, ?

Options:

- 1) H
- 2) G
- 3) E
- 4) F

Correct Answer: F

कर्मचारी चयन आयोग (CGL) परीक्षा अध्ययन सामग्री



- 100% Syllabus Covered
- 4 Books, 900+ Pages
- 2500+ MCQs
- 08 Year Solved Papers & Mock Tests (PDF Copy)
- 1 year Current Affairs (PDF Copy)

50% OFF

~~₹ 4,200/-~~
₹ 2,100/-

FREE SHIPPING 

for Exam Help Call Us at: +91 8800734161

 SSCPOTAL.IN

आप क्या प्राप्त करेंगे?

- माध्यम: हिन्दी
- 100% पाठ्यक्रम
- कुल 4 पुस्तिकायें, 900 से अधिक पृष्ठ
- 2,500 से अधिक वस्तुनिष्ठ प्रश्न (MCQ)
- 8 Year Solved Papers (PDF Copy)
- Five Practice Papers (PDF Copy)
- हमारे विशेषज्ञों द्वारा मार्गदर्शन और सहायता

Price of the Kit:

Rs. 4,200

Rs. 2,100/-

(Limited time Offer)

 Buy Online

Net Banking

Order Online (100% Safe)

[Click here for Other Payment Options \(Cash/NEFT/etc\)](#)

[FOR MORE DETAILS CLICK HERE](#)

50% OFF

QID : 923 - एक अनुक्रम दिया गया है, जिसमें एक शब्द/एक पद/एक संख्या लुप्त है। दिए गए विकल्पों में से वह सही विकल्प चुनिए जो अनुक्रम को पूरा करे।

lav, mbw, ncx, ody, ?

Options:

- 1) pez
- 2) pdy
- 3) qvd
- 4) qey

Correct Answer: pez

QID : 924 - एक अनुक्रम दिया गया है, जिसमें एक शब्द/एक पद/एक संख्या लुप्त है। दिए गए विकल्पों में से वह सही विकल्प चुनिए जो अनुक्रम को पूरा करे।

OXOXXXX, XOXXXX, XXOXOX, XXXOXOX, ?

Options:

- 1) XXXOXOX
- 2) OXXXX
- 3) XXXOXO
- 4) XOXXXX

Correct Answer: XXXOXO

QID : 925 - एक अनुक्रम दिया गया है, जिसमें एक शब्द/एक पद/एक संख्या लुप्त है। दिए गए विकल्पों में से वह सही विकल्प चुनिए जो अनुक्रम को पूरा करे।

11, 6, ?, -7, -15

Options:

- 1) 1
- 2) -1
- 3) 0
- 4) -3

Correct Answer: 0

QID : 926 - एक अनुक्रम दिया गया है, जिसमें एक शब्द/एक पद/एक संख्या लुप्त है। दिए गए विकल्पों में से वह सही विकल्प चुनिए जो अनुक्रम को पूरा करे।

-3, -4/3, 1/3, ?, 11/3

Options:

- 1) -2
- 2) 4/3
- 3) 2
- 4) -4/3

Correct Answer: 2

QID : 927 - एक अनुक्रम दिया गया है, जिसमें एक शब्द/एक पद/एक संख्या लुप्त है। दिए गए विकल्पों में से वह सही विकल्प चुनिए जो अनुक्रम को पूरा करे।

17, 19, 23, ?, 31

Options:

- 1) 25
- 2) 30
- 3) 24
- 4) 29

Correct Answer: 29

QID : 928 - यदि $p < r$, $r < s$ और $t > p$, तो निम्नलिखित में से क्या निश्चित रूप से सही है?

I. $p < s$

II. $s > t$

Options:

- 1) केवल I
- 2) केवल II
- 3) ना तो I सही है ना ही II
- 4) दोनों I और II सही हैं

Correct Answer: केवल I

QID : 929 - पांच बक्सों का वजन 10, 30, 40, 70 और 90 किलोग्राम है। बक्सों के किसी भी संयोजन से कुल वजन, किलोग्राम में, निम्नलिखित में से कौन सा नहीं हो सकता?

Options:

- 1) 180
- 2) 170
- 3) 160
- 4) 190

Correct Answer: 180

QID : 930 - अक्षर B, N, O, A और Z क्रमशः संख्याओं 1, 2, 3, 4 और 5 को प्रदर्शित करते हैं। संख्याओं के उचित संयोजन को चुनें ताकि उसके अनुसार अक्षरों को व्यवस्थित करने पर अर्थपूर्ण शब्द बने।

Options:

- 1) 1214151
- 2) 1324254
- 3) 5152243
- 4) 4341652

Correct Answer: 1324254

QID : 931 - यदि SCALDING को किसी कोड में HXZOWRMT लिखा जाता है, तो PER को उसी कोड में क्या लिखा जाएगा?

Options:

- 1) RFV
- 2) VFR

- 3) KVI
- 4) QWE

Correct Answer: KVI

QID : 932 - किसी कोड भाषा में, 648 का अर्थ 'mat is wet' है, 756 का अर्थ 'floor is dry' है, 987 का अर्थ 'wet or dry' है। 'or' का कोड ज्ञात करें।

Options:

- 1) 5
- 2) 1
- 3) 9
- 4) 3

Correct Answer: 9

QID : 933 - किसी कोड भाषा में, '+' का मतलब 'x' है, '-' का मतलब '+' है, 'x' का मतलब '=' है और '=' का मतलब '-' है। निम्नलिखित प्रश्न के उत्तर को ज्ञात करें। $0.02 + 400 - 123 \times 3 = ?$

Options:

- 1) -33
- 2) 49
- 3) 0.2
- 4) 36

Correct Answer: 49

QID : 934 - यदि A @ B का अर्थ है कि A, B की माँ है, A # B का अर्थ है कि A, B की बहन है और A ! B का अर्थ है कि A, B की पुत्री है तो X ! Y # Z @ W का क्या अर्थ है?

Options:

- 1) Z, X की माँ है
- 2) Y, W की बहन है
- 3) W, X की माँ है
- 4) Z, X की मौसी है

Correct Answer: Z, X की मौसी है

QID : 935 - यदि $62@12 = 11$, $23@34 = 12$, तो $73@16$ का मान ज्ञात कीजिये?

Options:

- 1) 10
- 2) 7
- 3) 13
- 4) 17

Correct Answer: 17

QID : 936 - निम्नलिखित में से कौन सा शब्द दी गयी सूची के प्रवृत्ति का अनुकरण करता है?

Reconquer, Tranquil, Unique, Tequilla, Squish, ?

Options:

- 1) Queue

- 2) Plaque
- 3) Clique
- 4) Aqua

Correct Answer: Queue

QID : 937 - निम्नलिखित में से कौन सा पद दी गयी सूची के प्रवृत्ति का अनुकरण करता है?

WMMWWM, MMWWMW, MWWWMM, _____.

Options:

- 1) WMMWWM
- 2) WMWMMW
- 3) WMWMMW
- 4) WWMWMM

Correct Answer: WWMWMM

QID : 938 - एक शिकारी अपने शिकार का पीछा करते हुए उत्तर की ओर 5 कि.मी. चलता है, फिर मुड़कर पूर्व की ओर 3 कि.मी. चलता है, फिर उत्तर की ओर मुड़कर 10 कि.मी. चलता है, फिर अपने बायें ओर मुड़कर 3 कि.मी. चलता है। प्रारंभिक स्थिति से अब वह कहाँ पर है?

Options:

- 1) प्रारंभिक स्थिति से 5 कि.मी. उत्तर की ओर
- 2) प्रारंभिक स्थिति से 15 कि.मी. दक्षिण की ओर
- 3) प्रारंभिक स्थिति से 5 कि.मी. दक्षिण की ओर
- 4) प्रारंभिक स्थिति से 15 कि.मी. उत्तर की ओर

Correct Answer: प्रारंभिक स्थिति से 15 कि.मी. उत्तर की ओर

QID : 939 - दो मित्र A और B एक ही बिंदु से चलना प्रारंभ करते हैं। A 4 मीटर उत्तर की ओर चलता है, फिर दाहिने ओर मुड़कर 6 मीटर चलता है। उसी समय B, 6 मीटर पूर्व की ओर चलता है और फिर बायें ओर मुड़कर 12 मीटर चलता है। A की स्थिति से अब B कहाँ पर है?

Options:

- 1) B, A के उत्तर में 16 मीटर की दूरी पर है
- 2) B, A के दक्षिण में 8 मीटर की दूरी पर है
- 3) B, A के दक्षिण में 16 मीटर की दूरी पर है
- 4) B, A के उत्तर में 8 मीटर की दूरी पर है

Correct Answer: B, A के उत्तर में 8 मीटर की दूरी पर है

QID : 940 - प्रश्न में दो कथन दिये गये हैं जिसके आगे दो निष्कर्ष I & II निकाले गये हैं। आपको मानना है कि दोनों कथन सत्य है चाहे वह सामान्यतः ज्ञात तथ्यों से भिन्न प्रतीत होते हों। आपको निर्णय करना है की दिए गए निष्कर्षों में से कौन-सा/कौन-से निश्चित रूप से कथन द्वारा सही निकाला जा सकता है/सकते हैं, यदि कोई हो।

कथन 1: कुछ सेब हरे हैं।

कथन 2: सभी हरी चीज़ें निरोग होती हैं।

निष्कर्ष I: कुछ सेब निरोग हैं।

निष्कर्ष II: कोई भी सेब निरोग नहीं हैं।

SSC CHSL(10+2) परीक्षा अध्ययन सामग्री



- 100% CHSL Exam Syllabus Covered
- 5 Books, 900+ Pages
- 2500+ MCQs
- 1 Year Current Affairs (PDF Copy)
- Support & Guidance

50% OFF
₹ 4,000/-
₹ **1,999/-**

FREE SHIPPING

for Exam Help Call Us at: +91 8800734161

SSCPORTAL.IN

आप क्या प्राप्त करेंगे?

- माध्यम: हिन्दी
- 100 प्रतिशत पाठ्यक्रम
- 900 से अधिक पृष्ठ
- 2500 से अधिक वस्तुनिष्ठ प्रश्न
- कुल 5 पुस्तिकाएँ
- अध्यायवार M.C.Q
- गणित एवं तार्किक क्षमता को हल करने की सरल विधि
- 5 अभ्यास प्रश्न पत्र (PDF Copy)
- हमारे विशेषज्ञों द्वारा मार्गदर्शन और सहायता

Price of the Kit:

Rs. 4,200

Rs. 1,999/-

(Limited time Offer)

 Buy Online

VISA Maestro MasterCard RuPay

Net Banking

Order Online (100% Safe)

[Click here for Other Payment Options \(Cash/NEFT/etc\)](#)

FOR MORE DETAILS CLICK HERE

50% OFF

Options:

- 1) केवल निष्कर्ष ॥ सही है।
- 2) या तो निष्कर्ष । सही है या तो निष्कर्ष ॥ सही है।
- 3) केवल निष्कर्ष । सही है।
- 4) ना तो निष्कर्ष । सही है ना ही निष्कर्ष ॥ सही है।

Correct Answer: केवल निष्कर्ष । सही है।

QID : 941 - प्रश्न में एक कथन दिया गया है जिसके आगे दो तर्क । & ॥ दिए गये हैं। आपको मानना है कि कथन सत्य है चाहे वह सामान्यतः ज्ञात तथ्यों से भिन्न प्रतीत होता हो। आपको निर्णय करना है की दिए गए तर्कों में से कौन-सा/कौन-से तर्क मज़बूत हैं, यदि कोई हो।

कथन: क्या आत्मरक्षा सीखना महिलाओं के लिए अनिवार्य बनाया जाना चाहिए?

तर्क । : नहीं, इससे इस बात का खतरा है कि वे इसका कौशल दुरुपयोग कर दूसरों पे धोंस जमायेंगे।

तर्क ॥ : हाँ, ऐसे वातावरण में जहाँ महिलाओं पर होने वाले धर्षण में वृद्धि हो रही है, आत्मरक्षा का प्रशिक्षण महिलाओं के लिए आवश्यक बन जाता है।

Options:

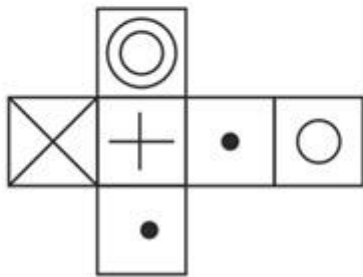
- 1) यदि केवल तर्क ॥ मज़बूत है
- 2) यदि केवल तर्क । मज़बूत है
- 3) यदि ना तो तर्क । और ना ही तर्क ॥ मजबूत है
- 4) यदि दोनों तर्क । और ॥ मज़बूत हैं

Correct Answer: यदि केवल तर्क ॥ मज़बूत है

QID : 942 -

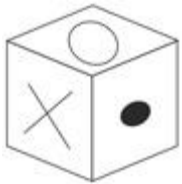
Which of the following cube in the answer figure cannot be made based on the unfolded cube in the question figure?

निम्नलिखित उत्तर आकृति में से कौन सा घन दिए गए प्रश्न आकृति में से खुले घन से बनाया नहीं जा सकता?



Options:

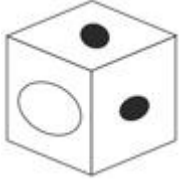
1)



2)



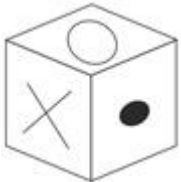
3)



4)



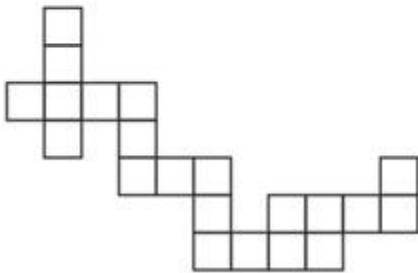
Correct Answer:



QID : 943 -

Which of the following answer figure patterns can be combined to make the question figure?

निम्नलिखित उत्तर आकृति में से कौन से प्रतिरूपों को जोड़कर दिए गए प्रश्न आकृति को बनाया जा सकता है?



Options:

1)



2)



3)



4)



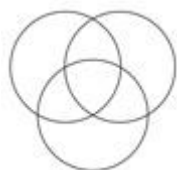
Correct Answer:



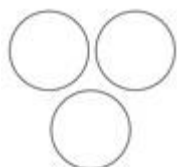
QID : 944 - निम्नलिखित में से कौन सा आरेख डॉक्टर, नर्स और सर्जन के बीच संबंध दर्शाता है?

Options:

1)



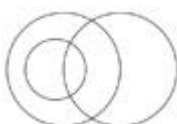
2)



3)



4)



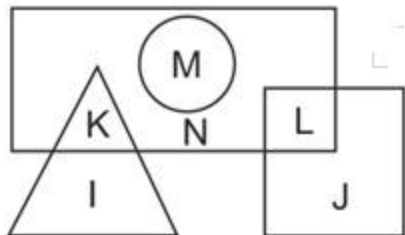
Correct Answer:



QID : 945 -

In the following figure, square represents coaches, triangle represents teachers, circle represents players and rectangle represents boys. Which set of letters represents boys who are not players and teachers who are not boys?

निम्नलिखित आकृति में वर्ग कोच को दर्शाता है, त्रिभुज शिक्षकों को दर्शाता है, वृत्त खिलाड़ियों को दर्शाता है और आयत लड़कों को दर्शाता है। वर्णों का कौन सा समूह उन लड़कों को दर्शाता है जो खिलाड़ी नहीं हैं और शिक्षक जो लड़के नहीं हैं?



Options:

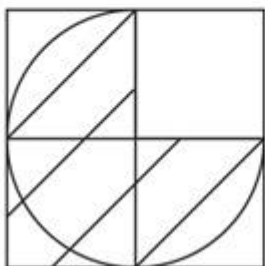
- 1) K, M, N और L
- 2) I, K, M और N
- 3) J, K, N और L
- 4) K, N, L और I

Correct Answer: K, N, L और I

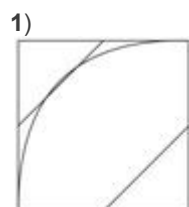
QID : 946 -

Which answer figure will complete the pattern in the question figure?

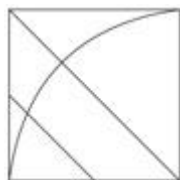
निम्नलिखित में से कौन-सी उत्तर आकृति प्रश्न आकृति के प्रतिरूप को पूरा करेगी?



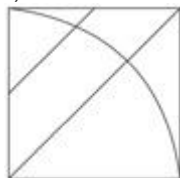
Options:



2)



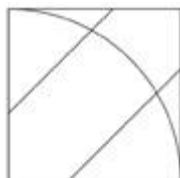
3)



4)



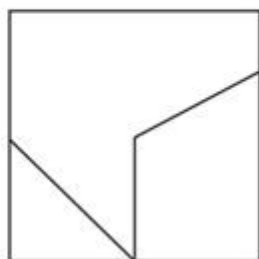
Correct Answer:



QID : 947 -

From the given answer figures, select the one in which the question figure is hidden/embedded.

दी गई उत्तर आकृतियों में से उस आकृति को चुनिए जिसमें प्रश्न आकृति निहित है।

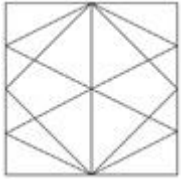


Options:


1)



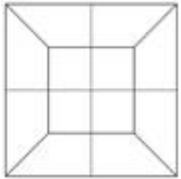
2)



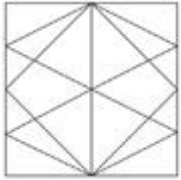
3)



4)



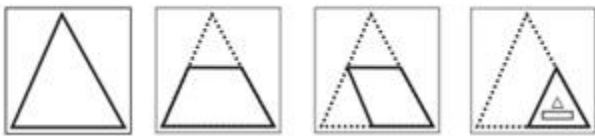
Correct Answer:



QID : 948 -

A piece of paper is folded and punched as shown below in the question figures. From the given answer figures, indicate how it will appear when opened.

प्रश्न आकृतियों में दिखाए अनुसार कागज को मोड़कर उसमें छेद करने तथा खोलने के बाद वह किस उत्तर आकृति जैसा दिखाई देगा?

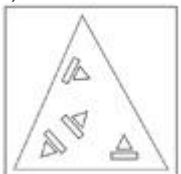


Options:

1)



2)



3)



4)



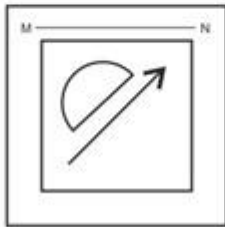
Correct Answer:



QID : 949 -

If a mirror is placed on the line MN, then which of the answer figures is the right image of the given figure?

यदि एक दर्पण को MN रेखा पर रखा जाए तो दी गई उत्तर आकृतियों में से कौन-सी आकृति प्रश्न आकृति का सही प्रतिबिम्ब होगी?

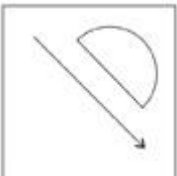


Options:

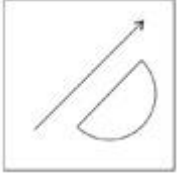
1)




2)



3)



4)



Correct Answer:



QID : 950 -

A word is represented by only one set of numbers as given in any one of the alternatives. The sets of numbers given in the alternatives are represented by two classes of alphabets as shown in the given two matrices. The columns and rows of Matrix-I are numbered from 0 to 4 and that of Matrix-II are numbered from 5 to 9. A letter from these matrices can be represented first by its row and next by its column, for example 'Q' can be represented by 10, 41 etc and 'I' can be represented by 76, 97 etc. Similarly, you have to identify the set for the word 'ULTRA'.

एक शब्द केवल एक संख्या-समूह द्वारा दर्शाया गया है, जैसा कि विकल्पों में से किसी एक में दिया गया है। विकल्पों में दिए गए संख्या-समूह अक्षरों के दो वर्गों द्वारा दर्शाए गए हैं, जैसा कि दिए गए दो आव्यूहों में है। आव्यूह-I के स्तम्भ और पंक्ति की संख्या 0 से 4 और आव्यूह-II की 5 से 9 है। इन आव्यूहों से एक अक्षर को पहले उसकी पंक्ति और बाद में स्तम्भ संख्या द्वारा दर्शाया जा सकता है। उदाहरण के लिए 'Q' को 10, 41 आदि द्वारा दर्शाया जा सकता है तथा 'I' को 76, 97 आदि द्वारा दर्शाया जा सकता है। इसी तरह से आपको प्रश्न में दिए शब्द 'ULTRA' के लिए समूह को पहचानना है।

MATRIX - I
आव्यूह - I

	0	1	2	3	4
0	W	S	U	Y	Z
1	Q	N	Z	X	T
2	R	V	O	U	N
3	V	X	Y	O	Y
4	N	Q	V	Q	O

MATRIX - II
आव्यूह - II

	5	6	7	8	9
5	H	F	H	L	M
6	B	A	M	K	G
7	D	I	B	H	A
8	B	K	L	B	L
9	L	D	I	D	B

Options:

- 1) 11, 41, 44, 85, 22
- 2) 21, 40, 04, 69, 01
- 3) 23, 95, 14, 20, 79
- 4) 12, 13, 41, 55, 69

Correct Answer: 23, 95, 14, 20, 79



SSC EXAMS PRINTED STUDY NOTES

Study Material for SSC CGL (Tier-1) Examination	English	CLICK HERE
Study Kit for SSC CGL (Tier-2) Exam	English	CLICK HERE
Study Kit for SSC CHSL (10+2) Examination	English	CLICK HERE
Study Kit for SSC Stenographers (Grade 'C' & 'D')	English	CLICK HERE
Study Kit for Multitasking (Non-Technical) - MTS	English	CLICK HERE
Study Kit for SSC Constables (GD) Exam	English	CLICK HERE
Study Kit For SSC Sub-Inspectors in Delhi Police, CAPFs, CISF	English	CLICK HERE
Study Kit for SSC Junior Engineer Exam (Paper-1)	English	CLICK HERE
IAS EXAMS STUDY MATERIALS		
Study Kit for IAS (Pre) GENERAL STUDIES Paper-1 (GS)	English	CLICK HERE
Study Kit for IAS (Pre) CSAT Paper-2(Aptitude)	English	CLICK HERE
सामान्य अध्ययन (GS) प्रारंभिक परीक्षा (Pre) पेपर-1	हिन्दी	CLICK HERE
आई. ए. एस. (सी-सैट) प्रारंभिक परीक्षा पेपर -2	हिन्दी	CLICK HERE
Gist of NCERT Study Kit For UPSC Exams	English	CLICK HERE
यूपीएससी परीक्षा के लिए एनसीईआरटी अध्ययन सामग्री	हिन्दी	CLICK HERE