



## कर्मचारी चयन आयोग कनिष्ठ अभियन्ता

एस.एस.सी. कनिष्ठ अभियन्ता परीक्षा पेपर 2016 "01 मार्च 2017" दोपहर की पाली (सामान्य बुद्धि और तर्क शक्ति) SSC Junior Engineers (JE) Online Exam Paper - 2016 "held on 01 March 2017" Afternoon Shift (General Intelligence & Reasoning)

QID : 1101 - दिये गये विकल्पों में से संबन्धित शब्द/अक्षरों/संख्या को चुनिए।

चौथाई : आधा :: एकल : ?

Options:

- 1) अपवर्त्य
- 2) दुगना
- 3) संग्रह
- 4) गुट

Correct Answer: दुगना

QID : 1102 - दिये गये विकल्पों में से संबन्धित शब्द/अक्षरों/संख्या को चुनिए।

गेंद : सूर्य :: सिगरेट : ?

Options:

- 1) पाइप
- 2) धुंआ
- 3) सफेद
- 4) आग

Correct Answer: पाइप

QID : 1103 - दिये गये विकल्पों में से संबन्धित शब्द/अक्षरों/संख्या को चुनिए।

Allot : A lot :: ?

Options:

- 1) Already: All ready
- 2) Sea : See
- 3) Than : Then
- 4) Peace : Piece

**Correct Answer:** Already: All ready

**QID : 1104** - दिये गये विकल्पों में से संबन्धित शब्द/अक्षरों/संख्या को चुनिए।

HFDB : GEC :: YWUS : ?

**Options:**

- 1) XVT
- 2) TVX
- 3) RTVX
- 4) XVTR

**Correct Answer:** XVT

**QID : 1105** - दिये गये विकल्पों में से संबन्धित शब्द/अक्षरों/संख्या को चुनिए।

Grace : Career :: Sitar : ?

**Options:**

- 1) Saris
- 2) Artist
- 3) Stair
- 4) Star

**Correct Answer:** Artist

**QID : 1106** - दिये गये विकल्पों में से संबन्धित शब्द/अक्षरों/संख्या को चुनिए।

Destine : Inertia :: Bison : ?

**Options:**

- 1) Sonnets
- 2) Sonar
- 3) Cosine
- 4) Brine

**Correct Answer:** Sonar

**QID : 1107** - दिये गये विकल्पों में से संबन्धित शब्द/अक्षरों/संख्या को चुनिए।

99 : 18 :: 77 : ?

**Options:**

- 1) 16
- 2) 20
- 3) 12
- 4) 14

**Correct Answer:** 14

**QID : 1108** - दिये गये विकल्पों में से संबन्धित शब्द/अक्षरों/संख्या को चुनिए।

586 : 364 :: 824 : ?

**Options:**

- 1) 520
- 2) 740
- 3) 442
- 4) 602

**Correct Answer:** 602

**QID : 1109** - दिये गये विकल्पों में से संबन्धित शब्द/अक्षरों/संख्या को चुनिए।

224 : 112 :: 326 : ?

**Options:**

- 1) 189
- 2) 146
- 3) 163
- 4) 176

**Correct Answer:** 163

**QID : 1110** - दिए गए विकल्पों में से विषम शब्द/अक्षरों/संख्या/शब्द युग्म/संख्या युग्म को चुनिए।

**Options:**

- 1) गाल
- 2) पैर की अंगुली
- 3) कान
- 4) नथुना

**Correct Answer:** पैर की अंगुली

**QID : 1111** - दिए गए विकल्पों में से विषम शब्द/अक्षरों/संख्या/शब्द युग्म/संख्या युग्म को चुनिए।

**Options:**

- 1) जुराब और जूते
- 2) बों और टाई
- 3) बनियान और शर्ट
- 4) शर्ट और कोट

**Correct Answer:** बों और टाई

**QID : 1112** - दिए गए विकल्पों में से विषम शब्द/अक्षरों/संख्या/शब्द युग्म/संख्या युग्म को चुनिए।

**Options:**

- 1) लकड़ी और कुर्सी
- 2) कपास और तकिया
- 3) कपास और ऊन
- 4) फर और तकिया

**Correct Answer:** लकड़ी और कुर्सी

**QID : 1113** - दिए गए विकल्पों में से विषम शब्द/अक्षरों/संख्या/शब्द युग्म/संख्या युग्म को चुनिए।

**Options:**

- 1) RF

- 2) AH
- 3) IM
- 4) OT

**Correct Answer:** RF

**QID : 1114** - दिए गए विकल्पों में से विषम शब्द/अक्षरों/संख्या/शब्द युग्म/संख्या युग्म को चुनिए।

**Options:**

- 1) Busted
- 2) Blasted
- 3) Disaster
- 4) Caste

**Correct Answer:** Busted

**QID : 1115** - दिए गए विकल्पों में से विषम शब्द/अक्षरों/संख्या/शब्द युग्म/संख्या युग्म को चुनिए।

**Options:**

- 1) ABB
- 2) EFF
- 3) OPP
- 4) HII

**Correct Answer:** HII

**QID : 1116** - दिए गए विकल्पों में से विषम शब्द/अक्षरों/संख्या/शब्द युग्म/संख्या युग्म को चुनिए।

**Options:**

- 1) 428
- 2) 802
- 3) 640
- 4) 537

**Correct Answer:** 537

**QID : 1117** - दिए गए विकल्पों में से विषम शब्द/अक्षरों/संख्या/शब्द युग्म/संख्या युग्म को चुनिए।

**Options:**

- 1) 81
- 2) 72
- 3) 44
- 4) 63

**Correct Answer:** 44

**QID : 1118** - दिए गए विकल्पों में से विषम शब्द/अक्षरों/संख्या/शब्द युग्म/संख्या युग्म को चुनिए।

**Options:**

- 1) 136, 17
- 2) 152, 19
- 3) 160, 20
- 4) 148, 18

**Correct Answer:** 148, 18

**QID : 1119** - एक अनुक्रम दिया गया है, जिसमें एक शब्द/एक पद/एक संख्या लुप्त है। दिए गए विकल्पों में से वह सही विकल्प चुनिए जो अनुक्रम को पूरा करे।

DDRFTG, CVVBHT, DCEERT, DCFRRT, ?

**Options:**

- 1) REDCVT
- 2) DEEDCR
- 3) SDDAEW
- 4) SDERWW

**Correct Answer:** SDERWW

**QID : 1120** - एक अनुक्रम दिया गया है, जिसमें एक शब्द/एक पद/एक संख्या लुप्त है। दिए गए विकल्पों में से वह सही विकल्प चुनिए जो अनुक्रम को पूरा करे।

Super, Erratic, Icebox, Oxen, ?

**Options:**

- 1) Lollipop
- 2) Popcorn
- 3) Papyrus
- 4) Envelop

**Correct Answer:** Envelop

**QID : 1121** - एक अनुक्रम दिया गया है, जिसमें एक शब्द/एक पद/एक संख्या लुप्त है। दिए गए विकल्पों में से वह सही विकल्प चुनिए जो अनुक्रम को पूरा करे।

run, anon, clasp, rotted, ?

**Options:**

- 1) confuses
- 2) accolade
- 3) revamp
- 4) scoured

**Correct Answer:** scoured

**QID : 1122** - एक अनुक्रम दिया गया है, जिसमें एक शब्द/एक पद/एक संख्या लुप्त है। दिए गए विकल्पों में से वह सही विकल्प चुनिए जो अनुक्रम को पूरा करे।

Y, U, Q, M, ?

**Options:**

- 1) J
- 2) K
- 3) L
- 4) I

**Correct Answer:** I

**QID : 1123** - एक अनुक्रम दिया गया है, जिसमें एक शब्द/एक पद/एक संख्या लुप्त है। दिए गए विकल्पों में से वह सही विकल्प चुनिए जो अनुक्रम को पूरा करे।

kpu, jot, ins, hmr, ?

# कर्मचारी चयन आयोग (CGL) परीक्षा अध्ययन सामग्री



- 100% Syllabus Covered
- 4 Books, 900+ Pages
- 2500+ MCQs
- 08 Year Solved Papers & Mock Tests (PDF Copy)
- 1 year Current Affairs (PDF Copy)

**50% OFF**

~~₹ 4,200/-~~  
**₹ 2,100/-**

FREE SHIPPING 

for Exam Help Call Us at: +91 8800734161

SSCPORTAL.IN

## आप क्या प्राप्त करेंगे?

- माध्यम: हिन्दी
- 100% पाठ्यक्रम
- कुल 4 पुस्तिकायें, 900 से अधिक पृष्ठ
- 2,500 से अधिक वस्तुनिष्ठ प्रश्न (MCQ)
- 8 Year Solved Papers (PDF Copy)
- Five Practice Papers (PDF Copy)
- हमारे विशेषज्ञों द्वारा मार्गदर्शन और सहायता

Price of the Kit:

Rs. 4,200

**Rs. 2,100/-**  
(Limited time Offer)

 Buy Online

Net Banking

**Order Online (100% Safe)**

[Click here for Other Payment Options \(Cash/NEFT/etc\)](#)

[FOR MORE DETAILS CLICK HERE](#)

**50% OFF**

**Options:**

- 1) gnq
- 2) fns
- 3) fop
- 4) glq

**Correct Answer:** glq

**QID : 1124** - एक अनुक्रम दिया गया है, जिसमें एक शब्द/एक पद/एक संख्या लुप्त है। दिए गए विकल्पों में से वह सही विकल्प चुनिए जो अनुक्रम को पूरा करे।

XXXXOXO, XXXOXOX, XXOXOXX, XOXOXXX, ?

**Options:**

- 1) XOXOXXX
- 2) XXXOXOX
- 3) XXXOXOX
- 4) OXOXXX

**Correct Answer:** OXOXXX

**QID : 1125** - एक अनुक्रम दिया गया है, जिसमें एक शब्द/एक पद/एक संख्या लुप्त है। दिए गए विकल्पों में से वह सही विकल्प चुनिए जो अनुक्रम को पूरा करे।

-7, -3, ?, 8, 15

**Options:**

- 1) 1
- 2) 2
- 3) 3
- 4) 5

**Correct Answer:** 2

**QID : 1126** - एक अनुक्रम दिया गया है, जिसमें एक शब्द/एक पद/एक संख्या लुप्त है। दिए गए विकल्पों में से वह सही विकल्प चुनिए जो अनुक्रम को पूरा करे।

2, 1.25, ?, -1/4, -1

**Options:**

- 1) -1/2
- 2) 1/2
- 3) -0.75
- 4) 0.75

**Correct Answer:** 1/2

**QID : 1127** - एक अनुक्रम दिया गया है, जिसमें एक शब्द/एक पद/एक संख्या लुप्त है। दिए गए विकल्पों में से वह सही विकल्प चुनिए जो अनुक्रम को पूरा करे।

13, ?, 19, 23, 29

**Options:**

- 1) 14
- 2) 15
- 3) 16
- 4) 17

**Correct Answer:** 17

**QID : 1128** - यदि  $m > l$ ,  $m < n$  और  $n < o$ , तो निम्नलिखित में से क्या निश्चित रूप से सही है?

I.  $l < o$

II.  $n > l$

**Options:**

- 1) केवल I
- 2) दोनों I और II सही हैं
- 3) केवल II
- 4) ना तो I सही है ना ही II

**Correct Answer:** दोनों I और II सही हैं

**Candidate Answer:** दोनों I और II सही हैं

**QID : 1129** - पांच बक्सों का वज़न 20, 30, 40, 70 और 90 किलोग्राम है। निम्नलिखित में से बक्सों के किसी भी संयोजन से कुल वज़न, किलोग्राम में कौन सा नहीं हो सकता?

**Options:**

- 1) 180
- 2) 190
- 3) 200
- 4) 170

**Correct Answer:** 170

**QID : 1130** - यदि अक्षर E, D, X, S, P और O क्रमशः संख्याओं 1, 2, 3, 4, 5 और 6 को प्रदर्शित करते हैं। संख्याओं के उचित संयोजन को चुनें ताकि उसके अनुसार अक्षरों को व्यवस्थित करने पर अर्थपूर्ण शब्द बने।

**Options:**

- 1) 3532143
- 2) 1356412
- 3) 6121341
- 4) 4321242

**Correct Answer:** 1356412

**QID : 1131** - यदि DISCERNS को किसी कोड में WRHXVIMH लिखा जाता है, तो AGO को उसी कोड में क्या लिखा जाएगा?

**Options:**

- 1) TGB
- 2) BGT
- 3) DFG
- 4) ZTL

**Correct Answer:** ZTL

**QID : 1132** - किसी कोड भाषा में, 639 का अर्थ 'wood is hard' है, 657 का अर्थ 'fur is soft' है, 135 का अर्थ 'hard or soft' है। 'or' का कोड ज्ञात करें।

**Options:**

- 1) 4
- 2) 1



3) 6

4) 3

**Correct Answer: 1**

**QID : 1133** - किसी कोड भाषा में, '+' का मतलब 'x' है, '-' का मतलब '+' है, 'x' का मतलब '=' है और '=' का मतलब '-' है। निम्नलिखित प्रश्न के उत्तर को ज्ञात करें।

$$0.0625 + 800 - 234 \times 6 = ?$$

**Options:**

1) 11

2) 89

3) 1.25

4) 66

**Correct Answer: 89**

**QID : 1134** - यदि A @ B का अर्थ है कि A, B का पिता है, A # B का अर्थ है कि A, B का भाई है और यदि A ! B का अर्थ है कि A, B का पुत्र है तो L # M @ N ! O का अर्थ क्या है?

**Options:**

1) M, O का पति है

2) N, L का चाचा है

3) L, O का भाई है

4) L, O का पिता है

**Correct Answer: M, O का पति है**

**QID : 1135** - यदि  $62\#51 = 0$ ,  $82\#54 = 5$  तो  $72\#66$  का मान ज्ञात कीजिये?

**Options:**

1) 7

2) 10

3) 12

4) 5

**Correct Answer: 5**

**QID : 1136** - निम्नलिखित में से कौन सा शब्द दी गयी सूची के प्रवृत्ति का अनुकरण करता है?

Visual, Avarice, Savour, Salvage, Saliva, ?

**Options:**

1) Drive

2) Reweave

3) Eleven

4) Envelop

**Correct Answer: Reweave**

**QID : 1137** - निम्नलिखित में से कौन सा पद दी गयी सूची के प्रवृत्ति का अनुकरण करता है?

FEEFEE, EFEFE, EEFEF, ?

**Options:**

- 1) FFEEFF
- 2) EFEFEFF
- 3) FEEFEE
- 4) FEEFEE

**Correct Answer:** FEEFEE

**QID : 1138** - एक पोस्टमैन 4 किमी. पश्चिम की ओर साइकिल चलाता है और फिर मुड़कर 7 किमी. दक्षिण की ओर साइकिल चलाता है, फिर पूर्व की ओर मुड़कर 4 किमी. साइकिल चलाता है और फिर अपने बायें ओर मुड़कर 10 किमी. साइकिल चलाता है। प्रारंभिक स्थिति से अब वह कहाँ पर है?

**Options:**

- 1) प्रारंभिक स्थिति से 17 किमी. उत्तर की ओर
- 2) प्रारंभिक स्थिति से 3 किमी. उत्तर की ओर
- 3) प्रारंभिक स्थिति से 3 किमी. दक्षिण की ओर
- 4) प्रारंभिक स्थिति से 17 किमी. दक्षिण की ओर

**Correct Answer:** प्रारंभिक स्थिति से 3 किमी. उत्तर की ओर

**QID : 1139** - दो लोग A और B एक ही बिंदु से चलना प्रारंभ करते हैं। A, 4 मी. उत्तर की ओर चलता है, फिर अपने दाहिने ओर मुड़कर 3 मी. चलता है। उसी समय B, 9 मी. पूर्व की ओर चलता है और फिर वह अपने बायें ओर मुड़कर 4 मी. चलता है। A की स्थिति से अब B कहाँ पर है?

**Options:**

- 1) B , A के पूर्व में 6 मीटर की दूरी पर है
- 2) B , A के पूर्व में 12 मीटर की दूरी पर है
- 3) B , A के पश्चिम में 6 मीटर की दूरी पर है
- 4) B , A के पश्चिम में 12 मीटर की दूरी पर है

**Correct Answer:** B , A के पूर्व में 6 मीटर की दूरी पर है

**QID : 1140** - प्रश्न में दो कथन दिये गये हैं जिसके आगे दो निष्कर्ष I & II निकाले गये हैं। आपको मानना है कि दोनों कथन सत्य हैं चाहे वह सामान्यतः ज्ञात तथ्यों से भिन्न प्रतीत होते हों। आपको निर्णयकरना है की दिए गए निष्कर्षों में से कौन-सा/कौन-से निश्चित रूप से कथन द्वारा सही निकाला जा सकता है/सकते हैं, यदि कोई हो।

कथन 1 : कुछ ग्रामीण गरीब हैं।

कथन 2 : सभी गरीब अच्छे लोग हैं।

निष्कर्ष I: कुछ अच्छे लोग ग्रामीण हैं।

निष्कर्ष II: कोई भी ग्रामीण अच्छे लोग नहीं है।

**Options:**

- 1) केवल निष्कर्ष I सही है
- 2) केवल निष्कर्ष II सही है
- 3) या तो निष्कर्ष I सही है या तो निष्कर्ष II सही है
- 4) ना तो निष्कर्ष I सही है ना ही निष्कर्ष II सही है

**Correct Answer:** केवल निष्कर्ष I सही है

**QID : 1141** - प्रश्न में एक कथन दिया गया है जिसके आगे दो तर्क I & II दिए गये हैं। आपको मानना है कि कथन सत्य है चाहे वह सामान्यतः ज्ञात तथ्यों से भिन्न प्रतीत होता हो। आपको निर्णय करना है की दिए गए तर्कों में से कौन-सा/कौन-से तर्क मज़बूत हैं, यदि कोई हो।

कथन: क्या लोकल ट्रेन के टिकट पर छूट देनी चाहिए?

तर्क I : नहीं, ऐसी स्थिति में जहाँ लोकल ट्रेन अति संकुलित होती है, छूट देने से स्थिति और अधिक बिगड़ सकती है।

तर्क II : हां, लोकल ट्रेन से सड़कों पर वाहनों की संख्या कम होती है, इससे प्रदूषण कम होगा, कीमत में कमी होगी और यात्रा का समय भी बचेगा।

**Options:**

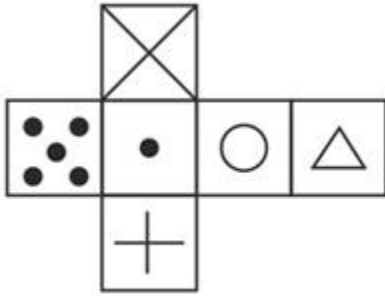
- 1) यदि ना तो तर्क I और ना ही तर्क II मज़बूत है
- 2) यदि केवल तर्क II मज़बूत है
- 3) यदि केवल तर्क I मज़बूत है
- 4) यदि दोनों तर्क I और II मज़बूत हैं

**Correct Answer:** यदि दोनों तर्क I और II मज़बूत हैं

**QID : 1142 -**

Which of the following cube in the answer figure cannot be made based on the unfolded cube in the question figure?

निम्नलिखित उत्तर आकृति में से कौन सा घन दिए गए प्रश्न आकृति में से खुले घन से बनाया नहीं जा सकता?



**Options:**

- 1)
- 2)
- 3)
- 4)

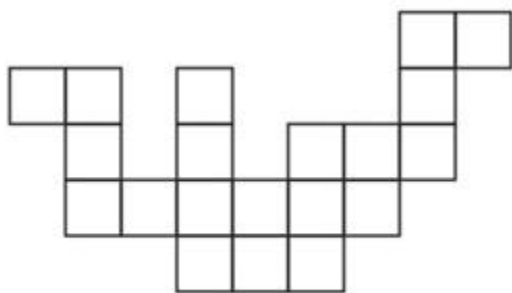


Correct Answer: 1

QID : 1143 -

Which of the following answer figure patterns can be combined to make the question figure?

निम्नलिखित उत्तर आकृति में से कौन से प्रतिरूपों को जोड़कर दिए गए प्रश्न आकृति को बनाया जा सकता है?



Options:

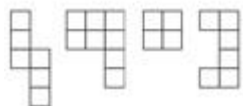
1)



2)



3)



4)

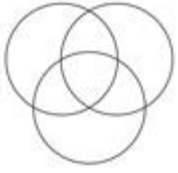


Correct Answer: 2

QID : 1144 - Which of the following diagrams represent the relationship between Chinese, Indians and Asians ?

Options:

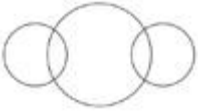
1)



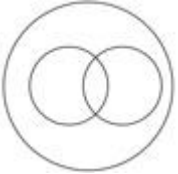
2)



3)



4)

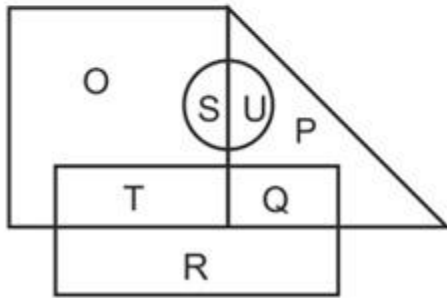


Correct Answer: 2

QID : 1145 -

In the following figure, square represents hockey players, triangle represents cricket players, circle represents kabaddi players and rectangle represents football players. Which set of letters represents hockey players who do not play football and cricket players who play kabaddi?

निम्नलिखित आकृत में वर्ग हॉकी खिलाड़ियों को दर्शाता है, त्रिभुज क्रिकेट खिलाड़ियों को दर्शाता है, वृत्त कबड्डी के खिलाड़ियों को दर्शाता है और आयत फुटबॉल खिलाड़ियों को दर्शाता है। वर्णों का कौन सा समूह हॉकी खिलाड़ियों को दर्शाता है जो फुटबॉल नहीं खेलते और क्रिकेट खिलाड़ी जो कबड्डी खेलते हैं?



Options:

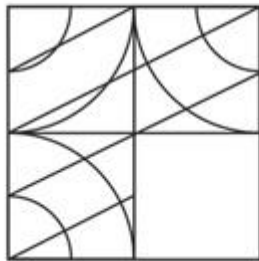
- 1) O, U And P
- 2) R, S and U
- 3) O, S and U
- 4) Q, P and T

Correct Answer: O, S and U

QID : 1146 -

Which answer figure will complete the pattern in the question figure?

निम्नलिखित में से कौन-सी उत्तर आकृति प्रश्न आकृति के प्रतिरूप को पूरा करेगी?



Options:

- 1)



2)



3)



4)

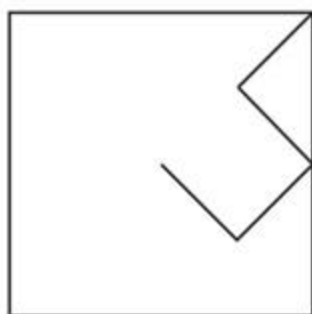


Correct Answer: 3

QID : 1147 -

From the given answer figures, select the one in which the question figure is hidden/embedded.

दी गई उत्तर आकृतियों में से उस आकृति को चुनिए जिसमें प्रश्न आकृति निहित है।



Options:

1)

# SSC CGL Tier-1 Printed Study Kit



- 100% Syllabus Covered
- 12 Books , 1300+ Pages
- 5600+ MCQs
- 08 Year Solved Papers & Mock Tests (PDF Copy)
- 1 year Current Affairs (PDF Copy)

**50% OFF**

~~₹ 6,000/-~~  
**₹ 2,999/-**

**FREE SHIPPING** 

for Exam Help Call Us at: +91 8800734161

 **SSCPortal.in**

## What you will get:

- 100% Syllabus Covered
- 12 Books
- 1300+ Pages
- 5600+ MCQs
- 8 Year Solved Papers (PDF Copy)
- Five Practice Papers (PDF Copy)
- One Year Current Affairs (PDF Copy)
- Guidance & Support from Our Experts

Price of the Kit:

~~Rs. 6,000~~

**Rs. 2,999/-**

*(Limited time Offer)*



**Buy Online**



**Net Banking**


**Order Online (100% Safe)**

[Click here for Other Payment Options \(Cash/NEFT/etc\)](#)

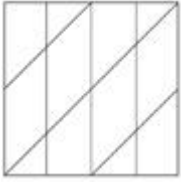
**FOR MORE DETAILS CLICK HERE**

**50% OFF**





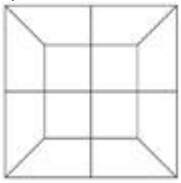
2)



3)



4)




Correct Answer: 1

QID : 1148 -

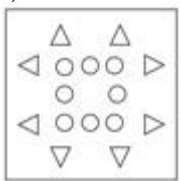
A piece of paper is folded and punched as shown below in the question figures. From the given answer figures, indicate how it will appear when opened.

प्रश्न आकृतियों में दिखाए अनुसार कागज को मोड़कर उसमें छेद करने तथा खोलने के बाद वह किस उत्तर आकृति जैसा दिखाई देगा?




Options:


1)



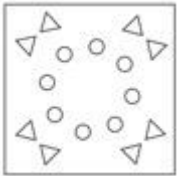
2)



3)



4)



Correct Answer: 3

QID : 1149 -

If a mirror is placed on the line MN, then which of the answer figures is the right image of the given figure?

यदि एक दर्पण को MN रेखा पर रखा जाए तो दी गई उत्तर आकृतियों में से कौन-सी आकृति प्रश्न आकृति का सही प्रतिबिम्ब होगी?



Options:

1)



2)



3)



4)



Correct Answer: 4

QID : 1150 -

A word is represented by only one set of numbers as given in any one of the alternatives. The sets of numbers given in the alternatives are represented by two classes of alphabets as shown in the given two matrices. The columns and rows of Matrix-I are numbered from 0 to 4 and that of Matrix-II are numbered from 5 to 9. A letter from these matrices can be represented first by its row and next by its column, for example 'Z' can be represented by 20, 23 etc and 'A' can be represented by 65, 57 etc. Similarly, you have to identify the set for the word 'TOWER'.

एक शब्द केवल एक संख्या-समूह द्वारा दर्शाया गया है, जैसा कि विकल्पों में से किसी एक में दिया गया है। विकल्पों में दिए गए संख्या-समूह अक्षरों के दो वर्गों द्वारा दर्शाए गए हैं, जैसा कि दिए गए दो आव्यूहों में है। आव्यूह-I के स्तम्भ और पंक्ति की संख्या 0 से 4 और आव्यूह-II की 5 से 9 है। इन आव्यूहों से एक अक्षर को पहले उसकी पंक्ति और बाद में स्तम्भ संख्या द्वारा दर्शाया जा सकता है। उदाहरण के लिए 'Z' को 20, 23 आदि द्वारा दर्शाया जा सकता है तथा 'A' को 65, 57 आदि द्वारा दर्शाया जा सकता है। इसी तरह से आपको प्रश्न में दिए शब्द 'TOWER' के लिए समूह को पहचानना है।

MATRIX - I  
आव्यूह - I

	0	1	2	3	4
0	X	R	N	S	T
1	Y	U	W	R	Q
2	Z	T	P	Z	S
3	W	O	T	P	V
4	T	W	Y	T	Y

MATRIX - II  
आव्यूह - II

	5	6	7	8	9
5	K	E	A	F	G
6	A	H	J	E	D
7	F	G	C	M	F
8	I	B	G	C	I
9	H	J	L	G	L

Options:

- 1) 23,95,14,20,79
- 2) 40,31,41,68,01
- 3) 11,41,44,85,22
- 4) 21,40,04,69,01

Correct Answer: 40,31,41,68,01



# SSC EXAMS PRINTED STUDY NOTES

<a href="#">Study Material for SSC CGL (Tier-1) Examination</a>	<a href="#">English</a>	<a href="#">CLICK HERE</a>
<a href="#">Study Kit for SSC CGL (Tier-2) Exam</a>	<a href="#">English</a>	<a href="#">CLICK HERE</a>
<a href="#">Study Kit for SSC CHSL (10+2) Examination</a>	<a href="#">English</a>	<a href="#">CLICK HERE</a>
<a href="#">Study Kit for SSC Stenographers (Grade 'C' &amp; 'D')</a>	<a href="#">English</a>	<a href="#">CLICK HERE</a>
<a href="#">Study Kit for Multitasking (Non-Technical) - MTS</a>	<a href="#">English</a>	<a href="#">CLICK HERE</a>
<a href="#">Study Kit for SSC Constables (GD) Exam</a>	<a href="#">English</a>	<a href="#">CLICK HERE</a>
<a href="#">Study Kit For SSC Sub-Inspectors in Delhi Police, CAPFs, CISF</a>	<a href="#">English</a>	<a href="#">CLICK HERE</a>
<a href="#">Study Kit for SSC Junior Engineer Exam (Paper-1)</a>	<a href="#">English</a>	<a href="#">CLICK HERE</a>
<b>IAS EXAMS STUDY MATERIALS</b>		
<a href="#">Study Kit for IAS (Pre) GENERAL STUDIES Paper-1 (GS)</a>	<a href="#">English</a>	<a href="#">CLICK HERE</a>
<a href="#">Study Kit for IAS (Pre) CSAT Paper-2(Aptitude)</a>	<a href="#">English</a>	<a href="#">CLICK HERE</a>
<a href="#">सामान्य अध्ययन (GS) प्रारंभिक परीक्षा (Pre) पेपर-1</a>	<a href="#">हिन्दी</a>	<a href="#">CLICK HERE</a>
<a href="#">आई. ए. एस. (सी-सैट) प्रारंभिक परीक्षा पेपर -2</a>	<a href="#">हिन्दी</a>	<a href="#">CLICK HERE</a>
<a href="#">Gist of NCERT Study Kit For UPSC Exams</a>	<a href="#">English</a>	<a href="#">CLICK HERE</a>
<a href="#">यूपीएससी परीक्षा के लिए एनसीईआरटी अध्ययन सामग्री</a>	<a href="#">हिन्दी</a>	<a href="#">CLICK HERE</a>