



कर्मचारी चयन आयोग कनिष्ठ अभियन्ता

एस.एस.सी. कनिष्ठ अभियन्ता परीक्षा पेपर 2016 "04 मार्च 2017"दोपहर की पाली (सामान्य बुद्धि और तर्क शक्ति) SSC Junior Engineers (JE) Online Exam Paper - 2016 "held on 04 March 2017" Afternoon Shift (General Intelligence & Reasoning)

QID : 701 -

दिये गये विकल्पों में से संबन्धित शब्द/अक्षरों/संख्या को चुनिए।

ईट : गारा :: शरीर : ?

Options:

- 1)जीवन
- 2)मांस
- 3)आत्मा
- 4)रक्त

Correct Answer: आत्मा

QID : 702 -

दिये गये विकल्पों में से संबन्धित शब्द/अक्षरों/संख्या को चुनिए।

Cheer : Cheerfully :: Act : ?

Options:

- 1) Action
- 2) Active
- 3) Activity
- 4) Actively

Correct Answer: Actively

QID : 703 -

दिये गये विकल्पों में से संबन्धित शब्द/अक्षरों/संख्या को चुनिए।

पीछे : आगे :: ?

Options:

- 1) बढना : चमक
- 2) क्षमा करना : भुला देना
- 3) वृद्धि : पतन
- 4) सूर्य : चमक

Correct Answer: वृद्धि : पतन

QID : 704 -

दिये गये विकल्पों में से संबन्धित शब्द/अक्षरों/संख्या को चुनिए।

QPO : RST :: IHG : ?

Options:

- 1) JKL
- 2) PON
- 3) HIJ
- 4) EDC

Correct Answer: JKL

QID : 705 -

दिये गये विकल्पों में से संबन्धित शब्द/अक्षरों/संख्या को चुनिए।

Veal : Allele :: Mead : ?

Options:

- 1) Dairy
- 2) Dammed
- 3) Dead
- 4) Dame

Correct Answer: Dammed

QID : 706 -

दिये गये विकल्पों में से संबन्धित शब्द/अक्षरों/संख्या को चुनिए।

Cured : Redye :: Alum : ?

Options:

- 1) Lumen
- 2) Redraw
- 3) Redeem
- 4) Lump

Correct Answer: Lump

QID : 707 -

दिये गये विकल्पों में से संबन्धित शब्द/अक्षरों/संख्या को चुनिए।

2 : 8 :: 5 : ?

Options:

- 1) 12
- 2) 25
- 3) 125
- 4) 40

Correct Answer: 125

QID : 708 -

दिये गये विकल्पों में से संबन्धित शब्द/अक्षरों/संख्या को चुनिए।

999 : 1001 :: 99 : ?

Options:

- 1) 110
- 2) 101
- 3) 111
- 4) 1010

Correct Answer: 101

QID : 709 - ?

दिये गये विकल्पों में से संबन्धित शब्द/अक्षरों/संख्या को चुनिए।

$1/3 : 3 :: 2/5 : ?$

Options:

- 1) $2/3$
- 2) $5/2$
- 3) $3/2$
- 4) $3/5$

Correct Answer: $5/2$

QID : 710 -

दिए गए विकल्पों में से विषम शब्द/अक्षरों/संख्या/शब्द युग्म/संख्या युग्म को चुनिए।

Options:

- 1) मुस्कान
- 2) खीस निकालना
- 3) रोना
- 4) हंसना

Correct Answer: रोना

QID : 711 -

दिए गए विकल्पों में से विषम शब्द/अक्षरों/संख्या/शब्द युग्म/संख्या युग्म को चुनिए।

Options:

- 1) करवट बदलना
- 2) चढ़ना और गिरना
- 3) दौड़ना और जॉग करना
- 4) गिरना और फिसलना

Correct Answer: चढ़ना और गिरना

QID : 712 -

दिए गए विकल्पों में से विषम शब्द/अक्षरों/संख्या/शब्द युग्म/संख्या युग्म को चुनिए।

Options:

- 1) काली मिर्च और नमक
- 2) नैपकीन और गिलास
- 3) गिलास और कांटा
- 4) प्लेट और चाकू

Correct Answer: काली मिर्च और नमक

QID : 713 -

दिए गए विकल्पों में से विषम शब्द/अक्षरों/संख्या/शब्द युग्म/संख्या युग्म को चुनिए।

Options:

- 1) MP
- 2) BF
- 3) OS
- 4) SW

Correct Answer: MP

QID : 714 -

दिए गए विकल्पों में से विषम शब्द/अक्षरों/संख्या/शब्द युग्म/संख्या युग्म को चुनिए।

Options:

- 1) Career
- 2) Medicare
- 3) Scarecrow
- 4) Caramel

Correct Answer: Caramel

QID : 715 -

दिए गए विकल्पों में से विषम शब्द/अक्षरों/संख्या/शब्द युग्म/संख्या युग्म को चुनिए।

Options:

1) HUIIN

2) ASDE

3) KOIB

4) CEOP

Correct Answer: ASDE

QID : 716 -

दिए गए विकल्पों में से विषम शब्द/अक्षरों/संख्या/शब्द युग्म/संख्या युग्म को चुनिए।

Options:

1) 135

2) 357

3) 246

4) 579

Correct Answer: 246

QID : 717 -

दिए गए विकल्पों में से विषम शब्द/अक्षरों/संख्या/शब्द युग्म/संख्या युग्म को चुनिए।

Options:

1) 46

2) 64

3) 33

4) 55

Correct Answer: 33

QID : 718 -

दिए गए विकल्पों में से विषम शब्द/अक्षरों/संख्या/शब्द युग्म/संख्या युग्म को चुनिए।

Options:

1) 11, 80

कर्मचारी चयन आयोग (CGL) परीक्षा अध्ययन सामग्री



- 100% Syllabus Covered
- 4 Books, 900+ Pages
- 2500+ MCQs
- 08 Year Solved Papers & Mock Tests (PDF Copy)
- 1 year Current Affairs (PDF Copy)

50% OFF

~~₹ 4,200/-~~
₹ 2,100/-

FREE SHIPPING 

for Exam Help Call Us at: +91 8800734161

 SSCPOTAL.IN

आप क्या प्राप्त करेंगे?

- माध्यम: हिन्दी
- 100% पाठ्यक्रम
- कुल 4 पुस्तिकायें, 900 से अधिक पृष्ठ
- 2,500 से अधिक वस्तुनिष्ठ प्रश्न (MCQ)
- 8 Year Solved Papers (PDF Copy)
- Five Practice Papers (PDF Copy)
- हमारे विशेषज्ञों द्वारा मार्गदर्शन और सहायता

Price of the Kit:

Rs. 4,200

Rs. 2,100/-
(Limited time Offer)

 Buy Online

Net Banking

Order Online (100% Safe)

[Click here for Other Payment Options \(Cash/NEFT/etc\)](#)

[FOR MORE DETAILS CLICK HERE](#)

50% OFF

2) 13, 94

3) 18, 131

4) 24, 173

Correct Answer: 24, 173

QID : 719 -

एक अनुक्रम दिया गया है, जिसमें एक शब्द/एक पद/एक संख्या लुप्त है। दिए गए विकल्पों में से वह सही विकल्प चुनिए जो अनुक्रम को पूरा करे।

FGRTEE, GHTJJR, SDVWTF, GAAWES, ?

Options:

1) YYCVSD

2) RFDSWW

3) WEEDRK

4) DERRTL

Correct Answer: YYCVSD

QID : 720 -

एक अनुक्रम दिया गया है, जिसमें एक शब्द/एक पद/एक संख्या लुप्त है। दिए गए विकल्पों में से वह सही विकल्प चुनिए जो अनुक्रम को पूरा करे।

Chair, Iron, Once, Cellular, ?

Options:

1) Collar

2) Ardent

3) Filler

4) Scent

Correct Answer: Ardent

QID : 721 -

एक अनुक्रम दिया गया है, जिसमें एक शब्द/एक पद/एक संख्या लुप्त है। दिए गए विकल्पों में से वह सही विकल्प चुनिए जो अनुक्रम को पूरा करे।

pig, mead, poise, snarls, ?

Options:

1) garnets

2) permuted

3) bouffant

4) heaths

Correct Answer: garnets

QID : 722 -

एक अनुक्रम दिया गया है, जिसमें एक शब्द/एक पद/एक संख्या लुप्त है। दिए गए विकल्पों में से वह सही विकल्प चुनिए जो अनुक्रम को पूरा करे।

F, I, L, O, ?

Options:

- 1) R
- 2) Q
- 3) P
- 4) S

Correct Answer: R

QID : 723 -

एक अनुक्रम दिया गया है, जिसमें एक शब्द/एक पद/एक संख्या लुप्त है। दिए गए विकल्पों में से वह सही विकल्प चुनिए जो अनुक्रम को पूरा करे।

qlg, rmh, sni, toj, ?

Options:

- 1) ukp
- 2) kpu
- 3) kup
- 4) upk

Correct Answer: upk

QID : 724 -

एक अनुक्रम दिया गया है, जिसमें एक शब्द/एक पद/एक संख्या लुप्त है। दिए गए विकल्पों में से वह सही विकल्प चुनिए जो अनुक्रम को पूरा करे।

XXOXXX, XXXOXX, XXXXOX, XXXXXO, ?

Options:

- 1) XXOXXX
- 2) OXXXXX
- 3) XXOXXX
- 4) XXXOXX

Correct Answer: OXXXXX

QID : 725 -

एक अनुक्रम दिया गया है, जिसमें एक शब्द/एक पद/एक संख्या लुप्त है। दिए गए विकल्पों में से वह सही विकल्प चुनिए जो अनुक्रम को पूरा करे।

7, ?, -2, -8, -15

Options:

- 1) 4
- 2) 2
- 3) 3
- 4) 0

Correct Answer: 3

QID : 726 -

एक अनुक्रम दिया गया है, जिसमें एक शब्द/एक पद/एक संख्या लुप्त है। दिए गए विकल्पों में से वह सही विकल्प चुनिए जो अनुक्रम को पूरा करे।

$3/2, 2/3, ?, -1, -11/6$

Options:

- 1) $1/3$
- 2) $1/6$
- 3) $-1/3$
- 4) $-1/6$

Correct Answer: $-1/6$

QID : 727 -

एक अनुक्रम दिया गया है, जिसमें एक शब्द/एक पद/एक संख्या लुप्त है। दिए गए विकल्पों में से वह सही विकल्प चुनिए जो अनुक्रम को पूरा करे।

$37, 41, ?, 47, 53$

Options:

- 1) 40
- 2) 44
- 3) 45
- 4) 43

Correct Answer: 43

QID : 728 -

यदि $j < k, l > k, k < i$ तो निम्नलिखित में से क्या निश्चित रूप से सही है?

I. $j < l$

II. $i > j$

Options:

- 1) दोनों I और II
- 2) केवल II
- 3) ना तो I ना ही II
- 4) केवल I

Correct Answer: दोनों I और II

QID : 729 -

पांच बक्सों का वजन 30, 40, 50, 70 और 90 किलोग्राम है। निम्नलिखित में से बक्सों के किसी भी संयोजन से कुल वजन, किलोग्राम में कौन सा नहीं हो सकता?

Options:

- 1) 210
- 2) 220

3) 200

4) 190

Correct Answer: 220

QID : 730 -

यदि अक्षर H, C, R, A, I, Y और T क्रमशः संख्याओं 1, 2, 3, 4, 5, 6 और 7 को प्रदर्शित करते हैं। संख्याओं के उचित संयोजन को चुनें ताकि उसके अनुसार अक्षरों को व्यवस्थित करने पर अर्थपूर्ण शब्द बने।

Options:

1) 1524673

2) 3167245

3) 3526417

4) 2143576

Correct Answer: 2143576

QID : 731 -

यदि ANTIQUES को किसी कोड में DQWLTXHV लिखा जाता है, तो FOX को उसी कोड में क्या लिखा जाएगा?

Options:

1) IRA

2) IKM

3) KLP

4) SDC

Correct Answer: IRA

QID : 732 -

किसी कोड भाषा में, 426 का अर्थ 'board is black' है, 213 का अर्थ 'chalk is white' है, 523 का अर्थ 'black or white' है। 'or' का कोड ज्ञात करें।

Options:

1) 8

2) 1

3) 3

4) 5

Correct Answer: 5

QID : 733 -

किसी कोड भाषा में, '+' का मतलब 'x' है, '-' का मतलब '+' है, 'x' का मतलब '÷' है और '÷' का मतलब '-' है। निम्नलिखित प्रश्न के उत्तर को ज्ञात करें।

SSC Constable (GD) Exam Study Kit



- ▶ 100% Written Exam Syllabus
- ▶ 700+ Pages, Printed Books
- ▶ 1500 MCQ, 8 Books
- ▶ Practice Question Papers
- ▶ 1 Year Current Affairs

50% OFF
~~₹ 3,200/-~~
₹ 1599/-



for Exam Help Call Us at: +91 8800734161

IAS EXAM PORTAL

What you will get:

- 100% Syllabus Covered
- 8 Booklets
- 700+ Pages
- Five Practice Papers
- One Year Current Affairs
- Current Affairs for Exam
- Guidance & Support from Our Experts

Price of the Kit:

~~Rs. 3,200~~

Rs. 1,599/-
(Limited time Offer)



Net Banking

Order Online (100% Safe)

[Click here for Other Payment Options \(Cash/NEFT/etc\)](#)

FOR MORE DETAILS CLICK HERE



$$0.125 + 32 - 54 \times 3 = ?$$

Options:

- 1) 22
- 2) -14
- 3) 22
- 4) 4

Correct Answer: 22

QID : 734 -

यदि A % B का अर्थ है कि A , B की माँ है, A & B का अर्थ है कि A, B का पिता है और यदि A \$ B का अर्थ है कि A, B की बेटी है, तो P % Q \$ R & S का अर्थ क्या है?

Options:

- 1) S, P का भाई है
- 2) P, S की मां है
- 3) S, P की आंटी है
- 4) S, P की मां है

Correct Answer: P, S की मां है

QID : 735 -

यदि $97\%61 = 7$, $64\%52 = 5$ तो $92\%65$ का मान ज्ञात कीजिये?

Options:

- 1) 5
- 2) 6
- 3) 9
- 4) 8

Correct Answer: 8

QID : 736 -

निम्नलिखित में से कौन सा शब्द दी गयी सूची के प्रवृत्ति का अनुकरण करता है?

Animate, Aerate, Caste, Setup, Items, ?

Options:

- 1) Attack
- 2) Batch
- 3) Tough

4) Cutter

Correct Answer: Tough

QID : 737 -

निम्नलिखित में से कौन सा पद दी गयी सूची के प्रवृत्ति का अनुकरण करता है?

OOU, OOUOO, OOOUOOO, ?

Options:

1) OOOOUOOO

2) OOOOUOOOO

3) OOOUOOOO

4) OOOUUOOO

Correct Answer: OOOOUOOOO

QID : 738 -

एक व्यक्ति 7 किमी. उत्तर की ओर चलता है, फिर वह पश्चिम में मुड़कर 3 किमी. चलता है, फिर दक्षिण की ओर मुड़कर 7 किमी. चलता है और फिर अपने दाहिने ओर मुड़कर 5 किमी. चलता है। प्रारंभिक स्थिति से अब वह कहां पर है?

Options:

1) प्रारंभिक स्थिति से 2 किमी. पश्चिम की ओर

2) प्रारंभिक स्थिति से 8 किमी. पूर्व की ओर

3) प्रारंभिक स्थिति से 8 किमी. पश्चिम की ओर

4) प्रारंभिक स्थिति से 2 किमी. पूर्व की ओर

Correct Answer: प्रारंभिक स्थिति से 8 किमी. पश्चिम की ओर

QID : 739 -

दो महिलाएं एक ही बिंदु से चलना प्रारंभ करती हैं। महिला A पश्चिम में 3 मीटर चलती है। फिर वह अपने बायें ओर मुड़कर 10 मीटर चलती है, वह फिर से अपने बायें ओर मुड़कर 9 मीटर चलती है। उसी समय B पूर्व में 6 मीटर चलकर अपने दाहिने ओर मुड़कर 2 मीटर तक चलती है। A की स्थिति से अब B कहां पर है?

Options:

1) B, A से उत्तर में 12 मीटर की दूरी पर है

2) B, A से उत्तर में 8 मीटर की दूरी पर है

3) B, A से दक्षिण में 8 मीटर की दूरी पर है

4) B, A से दक्षिण में 12 मीटर की दूरी पर है

Correct Answer: B, A से उत्तर में 8 मीटर की दूरी पर है

QID : 740 -

प्रश्न में दो कथन दिये गये हैं जिसके आगे दो निष्कर्ष I & II निकाले गये हैं। आपको मानना है कि दोनो कथन सत्य है चाहे वह सामान्यतः ज्ञात तथ्यों से भिन्न प्रतीत होते हों। आपको निर्णय करना है की दिए गए निष्कर्षों में से कौन-सा/कौन-से निश्चित रूप से कथन द्वारा सही निकाला जा सकता है/सकते हैं, यदि कोई हो।

कथन 1 : सभी पुल ईंटे होती हैं।

कथन 2 : कोई पत्थर पुल नहीं होता।

निष्कर्ष I : कुछ ईंटे पत्थर होती हैं।

निष्कर्ष II : कुछ पत्थर पुल होते हैं।

Options:

- 1) केवल निष्कर्ष I सही है
- 2) केवल निष्कर्ष II सही है
- 3) ना तो निष्कर्ष I सही है ना ही निष्कर्ष II
- 4) या तो निष्कर्ष I सही है या तो निष्कर्ष II

Correct Answer: ना तो निष्कर्ष I सही है ना ही निष्कर्ष II

QID : 741 -

प्रश्न में एक कथन दिया गया है जिसके आगे दो तर्क I & II दिए गये हैं। आपको मानना है कि कथन सत्य है चाहे वह सामान्यतः ज्ञात तथ्यों से भिन्न प्रतीत होता हो। आपको निर्णय करना है की दिए गए तर्कों में से कौन-सा/कौन-से तर्क मज़बूत हैं, यदि कोई हो।

कथन: क्या पब्लिक स्कूल की कक्षाओं में शिक्षकों की निगरानी के लिए कैमरा स्थापित किया जाना चाहिए?

तर्क I : नहीं, इससे गोपनीयता के नियमों का उल्लंघन होगा।

तर्क II : हां, इससे शिक्षक अधिक उत्तरदायी होंगे, जिससे उनकी उत्पादकता बढ़ेगी।

Options:

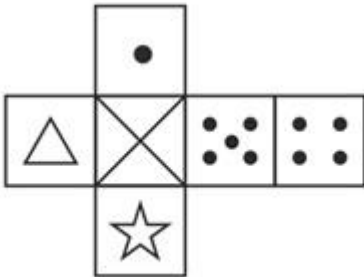
- 1) यदि केवल तर्क I मज़बूत है
- 2) यदि ना तो तर्क I और ना ही तर्क II मज़बूत है
- 3) यदि दोनों तर्क I और II मज़बूत हैं
- 4) यदि केवल तर्क II मज़बूत है

Correct Answer: यदि केवल तर्क II मज़बूत है

QID : 742 -

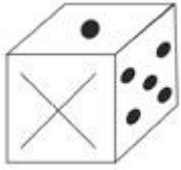
Which of the following cube in the answer figure cannot be made based on the unfolded cube in the question figure?

निम्नलिखित उत्तर आकृति में से कौन सा घन दिए गए प्रश्न आकृति में से खुले घन से बनाया नहीं जा सकता?

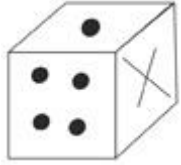


Options:

1)



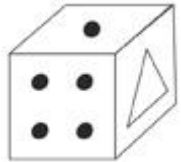
2)



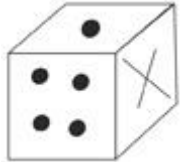
3)



4)



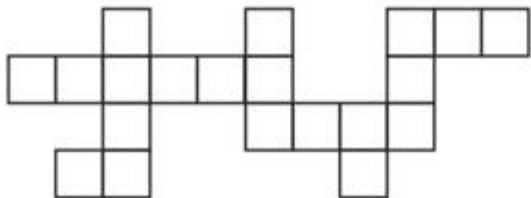
Correct Answer:



QID : 743 -

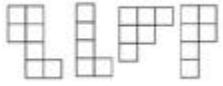
Which of the following answer figure patterns can be combined to make the question figure?

निम्नलिखित उत्तर आकृति में से कौन से प्रतिरूपों को जोड़कर दिए गए प्रश्न आकृति को बनाया जा सकता है?



Options:

1)



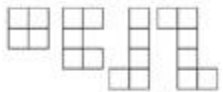
2)



3)



4)



Correct Answer:

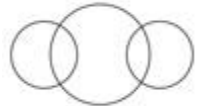


QID : 744 -

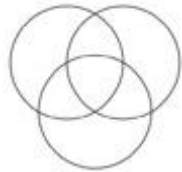
निम्नलिखित में से कौन सा आरेख अभिनेताओं, अभिनेत्रियों और प्रोड्यूसरों के बीच संबंध दर्शाता है?

Options:


1)



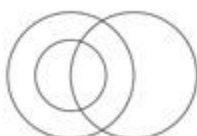
2)



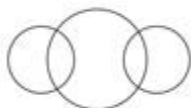
3)



4)



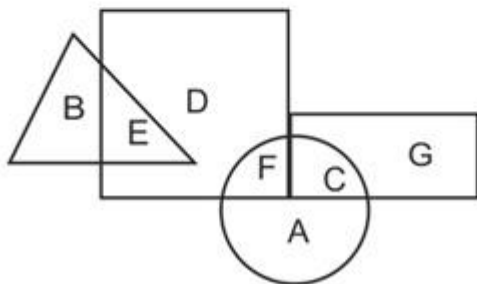
Correct Answer:



QID : 745 -

In the following figure, square represents men, triangle represents judo players, circle represents karate players and rectangle represents women. Which set of letters represents men who are karate players and Judo players who are not men?

निम्नलिखित आकृत में वर्ग पुरुषों को दर्शाता है, त्रिकोण जूडो खिलाड़ियों को दर्शाता है, वृत्त कराटे खिलाड़ियों को दर्शाता है और आयत महिलाओं को दर्शाता है। वर्णों का कौन सा समूह पुरुषों को दर्शाता है जो कराटे खिलाड़ी हैं और जूडो खिलाड़ी जो पुरुष नहीं हैं?



Options:

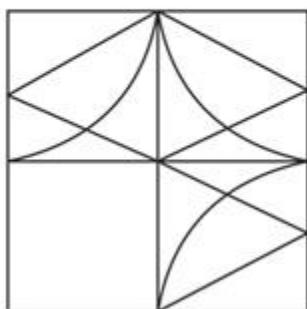
- 1) B और C
- 2) E और F
- 3) E और B
- 4) B और F

Correct Answer: B और F

QID : 746 -

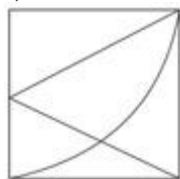
Which answer figure will complete the pattern in the question figure?

निम्नलिखित में से कौन-सी उत्तर आकृति प्रश्न आकृति के प्रतिरूप को पूरा करेगी?

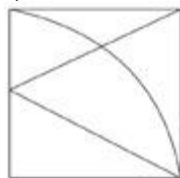


Options:

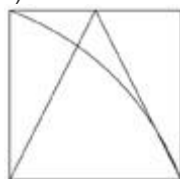
1)



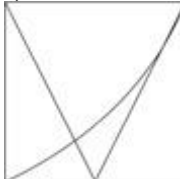
2)



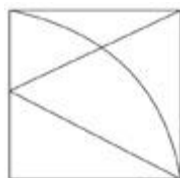
3)



4)



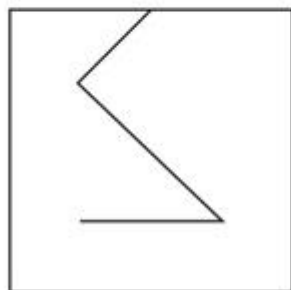
Correct Answer:



QID : 747 -


From the given answer figures, select the one in which the question figure is hidden/embedded.

दी गई उत्तर आकृतियों में से उस आकृति को चुनिए जिसमें प्रश्न आकृति निहित है।

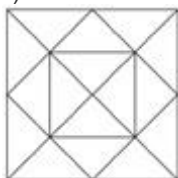


Options:

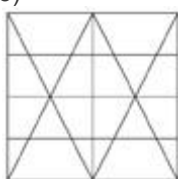
1)



2)



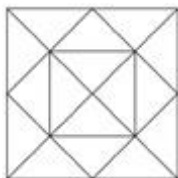
3)



4)



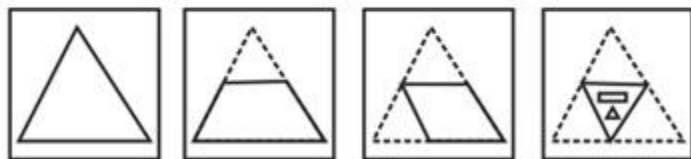
Correct Answer:



QID : 748 -

A piece of paper is folded and punched as shown below in the question figures. From the given answer figures, indicate how it will appear when opened.

प्रश्न आकृतियों में दिखाए अनुसार कागज को मोड़कर उसमें छेद करने तथा खोलने के बाद वह किस उत्तर आकृति जैसा दिखाई देगा?



Options:

1)



2)



3)



4)



Correct Answer:



QID : 749 -

If a mirror is placed on the line MN, then which of the answer figures is the right image of the given figure?

यदि एक दर्पण को MN रेखा पर रखा जाए तो दी गई उत्तर आकृतियों में से कौन-सी आकृति प्रश्न आकृति का सही प्रतिबिम्ब होगी?



Options:

1)



2)



3)



4)



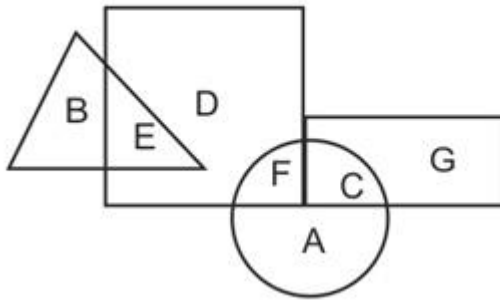
Correct Answer:



QID : 750 -

In the following figure, square represents men, triangle represents judo players, circle represents karate players and rectangle represents women. Which set of letters represents men who are karate players and Judo players who are not men?

निम्नलिखित आकृत में वर्ग पुरुषों को दर्शाता है, त्रिकोण जूडो खिलाड़ियों को दर्शाता है, वृत्त कराटे खिलाड़ियों को दर्शाता है और आयत महिलाओं को दर्शाता है। वर्णों का कौन सा समूह पुरुषों को दर्शाता है जो कराटे खिलाड़ी हैं और जूडो खिलाड़ी जो पुरुष नहीं हैं?



Options:

- 1) 21,24,89,77,20
- 2) 01,34,22,10,75
- 3) 40,31,41,68,01
- 4) 24,20,40,31,76

Correct Answer: 24,20,40,31,76



SSC EXAMS PRINTED STUDY NOTES

Study Material for SSC CGL (Tier-1) Examination	English	CLICK HERE
Study Kit for SSC CGL (Tier-2) Exam	English	CLICK HERE
Study Kit for SSC CHSL (10+2) Examination	English	CLICK HERE
Study Kit for SSC Stenographers (Grade 'C' & 'D')	English	CLICK HERE
Study Kit for Multitasking (Non-Technical) - MTS	English	CLICK HERE
Study Kit for SSC Constables (GD) Exam	English	CLICK HERE
Study Kit For SSC Sub-Inspectors in Delhi Police, CAPFs, CISF	English	CLICK HERE
Study Kit for SSC Junior Engineer Exam (Paper-1)	English	CLICK HERE
IAS EXAMS STUDY MATERIALS		
Study Kit for IAS (Pre) GENERAL STUDIES Paper-1 (GS)	English	CLICK HERE
Study Kit for IAS (Pre) CSAT Paper-2(Aptitude)	English	CLICK HERE
सामान्य अध्ययन (GS) प्रारंभिक परीक्षा (Pre) पेपर-1	हिन्दी	CLICK HERE
आई. ए. एस. (सी-सैट) प्रारंभिक परीक्षा पेपर -2	हिन्दी	CLICK HERE
Gist of NCERT Study Kit For UPSC Exams	English	CLICK HERE
यूपीएससी परीक्षा के लिए एनसीईआरटी अध्ययन सामग्री	हिन्दी	CLICK HERE