



## कर्मचारी चयन आयोग कनिष्ठ अभियन्ता

एस.एस.सी. कनिष्ठ अभियन्ता परीक्षा पेपर 2016 "02 मार्च 2017"

सुबह की पाली (सामान्य बुद्धि और तर्क शक्ति) SSC Junior  
Engineers (JE) Online Exam Paper - 2016 "held on 02  
March 2017" Morning Shift (General Intelligence &  
Reasoning)

**QID : 901 -**

दिये गये विकल्पों में से संबन्धित शब्द/अक्षरों/संख्या को चुनिए।

बटुआ : पैसा :: जार : ?

**Options:**

- 1) गिलास
- 2) अचार
- 3) सिलिन्डर
- 4) कसा हुआ

**Correct Answer:** अचार

**QID : 902 -**

दिये गये विकल्पों में से संबन्धित शब्द/अक्षरों/संख्या को चुनिए।

बिल्ली : पंजा मारना :: बकरी : ?

**Options:**

- 1) खुर मारना
- 2) सींग मारना
- 3) पूछ
- 4) चमड़ा

**Correct Answer:** खुर मारना

**QID : 903 -**

दिये गये विकल्पों में से संबन्धित शब्द/अक्षरों/संख्या को चुनिए।

पत्नी : पतियां :: ?

**Options:**

- 1) न्यूक्लि : न्यूक्लियस
- 2) थेसेस : थीसिस
- 3) क्राइसीज़ : क्राइसिस
- 4) फोकस : फोकाई

**Correct Answer:** फोकस : फोकाई

**QID : 904 -**

दिये गये विकल्पों में से संबन्धित शब्द/अक्षरों/संख्या को चुनिए।

ZAYB : XCWD :: VEUF : ?

**Options:**

- 1) TSRQ
- 2) TGSH
- 3) GHIJ
- 4) GSHR

**Correct Answer:** TGSH

**QID : 905 -**

दिये गये विकल्पों में से संबन्धित शब्द/अक्षरों/संख्या को चुनिए।

Mouse : Museums :: Worst : ?

**Options:**

- 1) Rotor
- 2) Sorrows
- 3) Row
- 4) Root

**Correct Answer:** Sorrows

**QID : 906 -**

दिये गये विकल्पों में से संबन्धित शब्द/अक्षरों/संख्या को चुनिए।

Treason : Sonnets :: Bribes : ?

**Options:**

- 1) Best
- 2) Crimson
- 3) Bestow
- 4) Sonnata

**Correct Answer:** Bestow

**QID : 907 -**

दिये गये विकल्पों में से संबन्धित शब्द/अक्षरों/संख्या को चुनिए।

78 : 15 :: 67 : ?

**Options:**

1) 13

2) 12

3) 11

4) 10

**Correct Answer:** 13

**QID : 908 -**

दिये गये विकल्पों में से संबन्धित शब्द/अक्षरों/संख्या को चुनिए।

111 : 120 :: 222 : ?

**Options:**

1) 211

2) 312

3) 130

4) 231

**Correct Answer:** 231

**QID : 909 -**

दिये गये विकल्पों में से संबन्धित शब्द/अक्षरों/संख्या को चुनिए।

123 : 444 :: 431 : ?

**Options:**

1) 865

2) 565

3) 479

4) 361

**Correct Answer:** 565

**QID : 910 -**

दिए गए विकल्पों में से विषम शब्द/अक्षरों/संख्या/शब्द युग्म/संख्या युग्म को चुनिए।

**Options:**

1) रेडीओ

2) टेलीविज़न

- 3) लैपटॉप
- 4) स्मार्टफोन

**Correct Answer:** रेडीओ

**QID : 911 -**

दिए गए विकल्पों में से विषम शब्द/अक्षरों/संख्या/शब्द युग्म/संख्या युग्म को चुनिए।

**Options:**

- 1) ढाल और खंजर
- 2) हथौड़ा और कील
- 3) सूट और टाई
- 4) चाकू और कांटा

**Correct Answer:** ढाल और खंजर

**QID : 912 -**

दिए गए विकल्पों में से विषम शब्द/अक्षरों/संख्या/शब्द युग्म/संख्या युग्म को चुनिए।

**Options:**

- 1) तलवार और भाला
- 2) कमान और तीर
- 3) तलवार और ढाल
- 4) कमान और ढाल

**Correct Answer:** कमान और ढाल

**QID : 913 -**

दिए गए विकल्पों में से विषम शब्द/अक्षरों/संख्या/शब्द युग्म/संख्या युग्म को चुनिए।

**Options:**

- 1) DA
- 2) GD
- 3) IF
- 4) MO

**Correct Answer:** MO

**QID : 914 -**

दिए गए विकल्पों में से विषम शब्द/अक्षरों/संख्या/शब्द युग्म/संख्या युग्म को चुनिए।

**Options:**

- 1) Consultant
- 2) Insulate
- 3) Sultry
- 4) Insults

**Correct Answer:** Insulate

**QID : 915 -**

दिए गए विकल्पों में से विषम शब्द/अक्षरों/संख्या/शब्द युग्म/संख्या युग्म को चुनिए।

**Options:**

1) YBDA

2) FBAT

3) HOUY

4) PABI

**Correct Answer:** HOUY

**QID : 916 -**

दिए गए विकल्पों में से विषम शब्द/अक्षरों/संख्या/शब्द युग्म/संख्या युग्म को चुनिए।

**Options:**

1) 666

2) 676

3) 558

4) 144

**Correct Answer:** 666

**QID : 917 -**

दिए गए विकल्पों में से विषम शब्द/अक्षरों/संख्या/शब्द युग्म/संख्या युग्म को चुनिए।

**Options:**

1) 45

2) 61

3) 52

4) 43

**Correct Answer:** 45

**QID : 918 -**

दिए गए विकल्पों में से विषम शब्द/अक्षरों/संख्या/शब्द युग्म/संख्या युग्म को चुनिए।

**Options:**

1) 13, 169

2) 17, 269

3) 14, 196

# कर्मचारी चयन आयोग (CGL) परीक्षा अध्ययन सामग्री



- 100% Syllabus Covered
- 4 Books, 900+ Pages
- 2500+ MCQs
- 08 Year Solved Papers & Mock Tests (PDF Copy)
- 1 year Current Affairs (PDF Copy)

**50% OFF**

~~₹ 4,200/-~~  
**₹ 2,100/-**

FREE SHIPPING 

for Exam Help Call Us at: +91 8800734161

 SSCPOTAL.IN

## आप क्या प्राप्त करेंगे?

- माध्यम: हिन्दी
- 100% पाठ्यक्रम
- कुल 4 पुस्तिकायें, 900 से अधिक पृष्ठ
- 2,500 से अधिक वस्तुनिष्ठ प्रश्न (MCQ)
- 8 Year Solved Papers (PDF Copy)
- Five Practice Papers (PDF Copy)
- हमारे विशेषज्ञों द्वारा मार्गदर्शन और सहायता

Price of the Kit:

Rs. 4,200

**Rs. 2,100/-**  
(Limited time Offer)

 Buy Online

Net Banking

**Order Online (100% Safe)**

[Click here for Other Payment Options \(Cash/NEFT/etc\)](#)

[FOR MORE DETAILS CLICK HERE](#)

**50% OFF**

4) 16, 256

**Correct Answer:** 17, 269

**QID : 919 -**

एक अनुक्रम दिया गया है, जिसमें एक शब्द/एक पद/एक संख्या लुप्त है। दिए गए विकल्पों में से वह सही विकल्प चुनिए जो अनुक्रम को पूरा करे।

adDEGT, FbulON, BDcsTY, DFGhjK, ?

**Options:**

1) ZXCAsd

2) CVvbTY

3) CVBfgR

4) YHijOO

**Correct Answer:** ZXCAsd

**QID : 920 -**

एक अनुक्रम दिया गया है, जिसमें एक शब्द/एक पद/एक संख्या लुप्त है। दिए गए विकल्पों में से वह सही विकल्प चुनिए जो अनुक्रम को पूरा करे।

Cream, Ampere, Revenge, Gene, ?

**Options:**

1) Beat

2) Neat

3) Seat

4) Heat

**Correct Answer:** Neat

**QID : 921 -**

एक अनुक्रम दिया गया है, जिसमें एक शब्द/एक पद/एक संख्या लुप्त है। दिए गए विकल्पों में से वह सही विकल्प चुनिए जो अनुक्रम को पूरा करे।

ire, cowl, moans, sheath, ?

**Options:**

1) aground

2) splinted

3) thrashes

4) flexed

**Correct Answer:** aground

**QID : 922 -**

एक अनुक्रम दिया गया है, जिसमें एक शब्द/एक पद/एक संख्या लुप्त है। दिए गए विकल्पों में से वह सही विकल्प चुनिए जो अनुक्रम को पूरा करे।

X, S, N, I, ?

**Options:**

1) E

2) D

3) F

4) G

**Correct Answer:** D

**Candidate Answer:** D

**QID : 923 -**

एक अनुक्रम दिया गया है, जिसमें एक शब्द/एक पद/एक संख्या लुप्त है। दिए गए विकल्पों में से वह सही विकल्प चुनिए जो अनुक्रम को पूरा करे।

cau, dbv, ecw, fdx, ?

**Options:**

1) gey

2) gfz

3) fdc

4) fgh

**Correct Answer:** gey

**QID : 924 -**

एक अनुक्रम दिया गया है, जिसमें एक शब्द/एक पद/एक संख्या लुप्त है। दिए गए विकल्पों में से वह सही विकल्प चुनिए जो अनुक्रम को पूरा करे।

OOXXXX, OXOXXXX, XOOXXXX, XOXOXXXX, ?

**Options:**

1) XOXOXXXX

2) OOXOXXXX

3) XXOOXXXX

4) OXOXXXX

**Correct Answer:** XXOOXXXX



**QID : 925 -**

एक अनुक्रम दिया गया है, जिसमें एक शब्द/एक पद/एक संख्या लुप्त है। दिए गए विकल्पों में से वह सही विकल्प चुनिए जो अनुक्रम को पूरा करे।

7, 5, 2, ?, -7

**Options:**

1) -2

2) 0

3) -1

4) 3

**Correct Answer: -2**

**QID : 926 -**

एक अनुक्रम दिया गया है, जिसमें एक शब्द/एक पद/एक संख्या लुप्त है। दिए गए विकल्पों में से वह सही विकल्प चुनिए जो अनुक्रम को पूरा करे।

-2, -1/2, 1, ?, 4

**Options:**

1) 1.5

2) 3.5

3) 2.5

4) 2

**Correct Answer: 2.5**

**QID : 927 -**

एक अनुक्रम दिया गया है, जिसमें एक शब्द/एक पद/एक संख्या लुप्त है। दिए गए विकल्पों में से वह सही विकल्प चुनिए जो अनुक्रम को पूरा करे।

29, 31, 37, ?, 43

**Options:**

1) 38

2) 40

3) 41

4) 42

**Correct Answer: 41**

**QID : 928 -**

यदि  $x < y$ ,  $w > x$  और  $w < z$ , तो निम्नलिखित में से क्या निश्चित रूप से सही है?

I.  $y < w$

II.  $z < x$

**Options:**

1) ना तो I ना ही II

2) केवल I

3) केवल II

4) दोनों I और II

**Correct Answer:** ना तो I ना ही II

**QID : 929 -**

पांच बक्सों का वज़न 20, 40, 40, 70 और 90 किलोग्राम है। निम्नलिखित में से बक्सों के किसी भी संयोजन से कुल वज़न, किलोग्राम में कौन सा नहीं हो सकता?

**Options:**

1) 190

2) 180

3) 210

4) 170

**Correct Answer:** 210

**QID : 930 -**

यदि अक्षर N, E, Y, G, S और R क्रमशः संख्याओं 1, 2, 3, 4, 5 और 6 को प्रदर्शित करते हैं। संख्याओं के उचित संयोजन को चुनें ताकि उसके अनुसार अक्षरों को व्यवस्थित करने पर अर्थपूर्ण शब्द बने।

**Options:**

1) 5312643

2) 6425152

3) 6345321

4) 2614563

**Correct Answer:** 5312643

**QID : 931 -**

यदि URBANITY को किसी कोड में FIYZMRGB लिखा जाता है, तो HOW को उसी कोड में क्या लिखा जाएगा?

**Options:**

1) YHN

2) NHY

3) SLD

4) TYHJ

**Correct Answer:** SLD

**QID :** 932 -

किसी कोड भाषा में, 528 का अर्थ 'leaf is flat' है, 513 का अर्थ 'glass is curved' है, 923 का अर्थ 'flat or curved' है। 'or' का कोड ज्ञात करें।

**Options:**

1) 9

2) 8

3) 4

4) 2

**Correct Answer:** 9

**QID :** 933 -

किसी कोड भाषा में, '+' का मतलब 'x' है, '-' का मतलब '+' है, 'x' का मतलब '÷' है और '÷' का मतलब '-' है। निम्नलिखित प्रश्न के उत्तर को ज्ञात करें।

$$0.002 + 8000 - 126 \times 3 = ?$$

**Options:**

1) 58

2) -26

3) 38

4) 21

**Correct Answer:** 58

**QID :** 934 -

यदि A % B का अर्थ है कि A, B की मां है, A & B का अर्थ है कि A, B की बहन है और यदि A \$ B का अर्थ है कि A, B की पुत्री है तो P % Q & R \$ S का क्या अर्थ है?

**Options:**

1) S, P की चाची/मामी है

2) S, P की बहन है

3) S, P का पति है

4) S, P की मां है

**Correct Answer:** S, P का पति है

**QID :** 935 -

यदि  $91\#32 = 7$ ,  $83\#54 = 4$  तो  $62\#96$  का मान ज्ञात कीजिये?

**Options:**

1) 10

2) 12

3) 17

4) 1

**Correct Answer:** 1

**QID : 936 -**

निम्नलिखित में से कौन सा शब्द दी गयी सूची के प्रवृत्ति का अनुकरण करता है?

Goodbye, Popeye, Butyne, Layman, Lychee, ?

**Options:**

1) Dingy

2) Lofty

3) Lying

4) Yatch

**Correct Answer:** Yatch

**QID : 937 -**

निम्नलिखित में से कौन सा पद दी गयी सूची के प्रवृत्ति का अनुकरण करता है?

OQO, QOQO, OQOQO, ?

**Options:**

1) OQOQOQ

2) OQOOQO

3) QOQOQO

4) OOQOQO

**Correct Answer:** QOQOQO

**QID : 938 -**

मैराथन का रास्ता प्रारंभिक बिंदु से दक्षिण की ओर 6 किमी. जाता है। फिर यह पश्चिम की ओर मुड़कर 6 किमी. जाता है, फिर उत्तर की ओर मुड़कर 6 किमी. जाता है और अंत में बायें ओर मुड़कर 2 किमी. जाकर अंतिम बिंदु तक पहुंचता है। प्रारंभिक बिंदु के सापेक्ष अंतिम बिंदु अब कहाँ पर है?

**Options:**

1) प्रारंभिक स्थिति से 4 किमी. पश्चिम में

2) प्रारंभिक स्थिति से 8 किमी. पश्चिम में

3) प्रारंभिक स्थिति से 8 किमी. पूर्व में

4) प्रारंभिक स्थिति से 4 किमी. पूर्व में

**Correct Answer:** प्रारंभिक स्थिति से 8 किमी. पश्चिम में

**QID : 939 -**

दो बच्चे A और B खेल रहे हैं। B, A के उत्तर में 5 मी. पर खड़ा है। फिर B पूर्व की ओर 10 मी. चलता है फिर अपने दाहिने ओर मुड़कर 8 मीटर चलता है। उसी समय A, पश्चिम की ओर 2 मीटर चलता है और फिर अपने बायें ओर मुड़कर 3 मी. चलता है। A की स्थिति से अब B कहाँ पर है?

**Options:**

- 1) B, A के पूर्व में 8 मीटर की दूरी पर है
- 2) B, A के पश्चिम में 12 मीटर की दूरी पर है
- 3) B, A के पूर्व में 12 मीटर की दूरी पर है
- 4) B, A के पश्चिम में 8 मीटर की दूरी पर है

**Correct Answer:** B, A के पूर्व में 12 मीटर की दूरी पर है

**QID : 940 -**

प्रश्न में दो कथन दिये गये हैं जिसके आगे दो निष्कर्ष I & II निकाले गये हैं। आपको मानना है कि दोनों कथन सत्य है चाहे वह सामान्यतः ज्ञात तथ्यों से भिन्न प्रतीत होते हों। आपको निर्णय करना है की दिए गए निष्कर्षों में से कौन-सा/कौन-से निश्चित रूप से कथन द्वारा सही निकाला जा सकता है/सकते हैं, यदि कोई हो।

कथन 1 : सभी सेब लाल हैं।

कथन 2 : कुछ लाल चीजें फल हैं।

निष्कर्ष I : कुछ फल सेब हैं।

निष्कर्ष II : सभी लाल चीजें फल हैं।

**Options:**

- 1) ना तो निष्कर्ष I सही है ना ही निष्कर्ष II सही है
- 2) केवल निष्कर्ष I सही है
- 3) केवल निष्कर्ष II सही है
- 4) या तो निष्कर्ष I सही है या तो निष्कर्ष II सही है

**Correct Answer:** ना तो निष्कर्ष I सही है ना ही निष्कर्ष II सही है

**QID : 941 -**

प्रश्न में एक कथन दिया गया है जिसके आगे दो तर्क I & II दिए गये हैं। आपको मानना है कि कथन सत्य है चाहे वह सामान्यतः ज्ञात तथ्यों से भिन्न प्रतीत होता हो। आपको निर्णय करना है की दिए गए तर्कों में से कौन-सा/कौन-से तर्क मज़बूत हैं, यदि कोई हो।

कथन: क्या बच्चों को स्मार्टफोन का उपयोग करने की अनुमति दी जानी चाहिए?

तर्क I : नहीं, स्मार्टफोन व्यसनकारी होते हैं, इससे उनके पढ़ने और खेलने का समय कम होता है।

तर्क II : हां, प्रौद्योगिकी ही भविष्य है। बच्चे जितनी जल्दी प्रौद्योगिकी का उपयोग करना सीखेंगे उतना ही उनका और समाज का भविष्य अच्छा होगा।

**Options:**

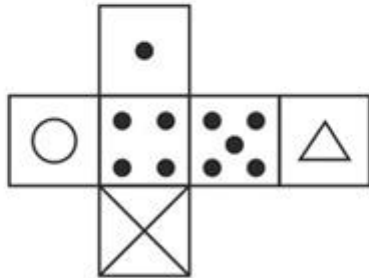
- 1) यदि ना तो तर्क I और ना ही तर्क II मज़बूत है
- 2) यदि केवल तर्क II मज़बूत है
- 3) यदि केवल तर्क I मज़बूत है
- 4) यदि दोनों तर्क I और II मज़बूत हैं

**Correct Answer:** यदि दोनों तर्क I और II मज़बूत हैं

**QID : 942 -**

Which of the following cube in the answer figure cannot be made based on the unfolded cube in the question figure?

निम्नलिखित उत्तर आकृति में से कौन सा घन दिए गए प्रश्न आकृति में से खुले घन से बनाया नहीं जा सकता?



Options:

1)




2)




3)



4)



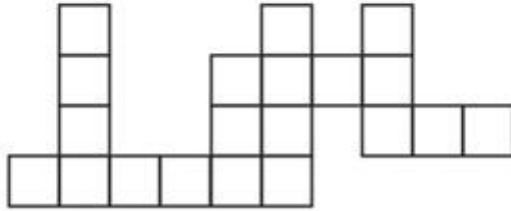
Correct Answer:



QID : 943 -

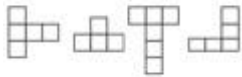
Which of the following answer figure patterns can be combined to make the question figure?

निम्नलिखित उत्तर आकृति में से कौन से प्रतिरूपों को जोड़कर दिए गए प्रश्न आकृति को बनाया जा सकता है?

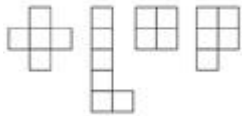


Options:

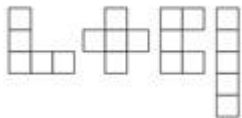
1)



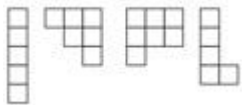
2)



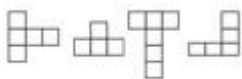
3)



4)



Correct Answer:

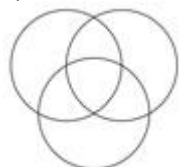


QID : 944 -

निम्नलिखित में से कौन सा आरेख मराठियों, एशियाई और भारतीयों के बीच संबंध दर्शाता है?

Options:

1)



2)

# SSC CHSL(10+2) परीक्षा अध्ययन सामग्री



- 100% CHSL Exam Syllabus Covered
- 5 Books, 900+ Pages
- 2500+ MCQs
- 1 Year Current Affairs (PDF Copy)
- Support & Guidance

**50% OFF**  
₹ 4,000/-  
₹ **1,999/-**

FREE SHIPPING

for Exam Help Call Us at: +91 8800734161

SSCPORTAL.IN

## आप क्या प्राप्त करेंगे?

- माध्यम: हिन्दी
- 100 प्रतिशत पाठ्यक्रम
- 900 से अधिक पृष्ठ
- 2500 से अधिक वस्तुनिष्ठ प्रश्न
- कुल 5 पुस्तिकाएँ
- अध्यायवार M.C.Q
- गणित एवं तार्किक क्षमता को हल करने की सरल विधि
- 5 अभ्यास प्रश्न पत्र (PDF Copy)
- हमारे विशेषज्ञों द्वारा मार्गदर्शन और सहायता

Price of the Kit:

Rs. 4,200

**Rs. 1,999/-**

(Limited time Offer)

 Buy Online

VISA Maestro MasterCard RuPay

Net Banking

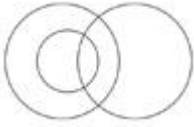
**Order Online (100% Safe)**

[Click here for Other Payment Options \(Cash/NEFT/etc\)](#)

**FOR MORE DETAILS CLICK HERE**

**50% OFF**

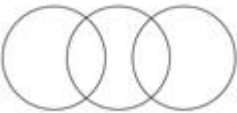




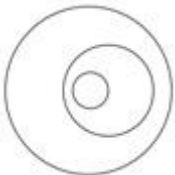
3)



4)



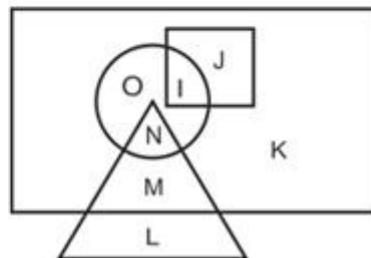
Correct Answer:



QID : 945 -

In the following figure, square represents hindi speakers, triangle represents tamil speakers, circle represents marathi speakers and rectangle represents english speakers. Which set of letters represents english speakers who do not speak hindi and tamil speakers who do not speak english?

निम्नलिखित आकृत में वर्ग हिंदी भाषियों को दर्शाता है त्रिभुज तमिल भाषियों को दर्शाता है, वृत्त मराठी भाषियों को दर्शाता है और आयत अंग्रेज़ी भाषियों को दर्शाता है। वर्णों का कौन सा समूह अंग्रेज़ी भाषियों को दर्शाता है जो हिंदी नहीं बोलते और तमिल भाषी जो अंग्रेज़ी नहीं बोलते?



Options:

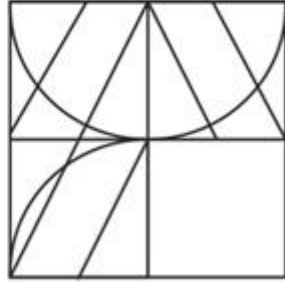
- 1) L, K, M, N और O
- 2) I, N, M, K और O
- 3) I, J, M, K और O
- 4) I, J, K और O

Correct Answer: L, K, M, N और O

QID : 946 -

Which answer figure will complete the pattern in the question figure?

निम्नलिखित में से कौन-सी उत्तर आकृति प्रश्न आकृति के प्रतिरूप को पूरा करेगी?



Options:

1)



2)



3)



4)



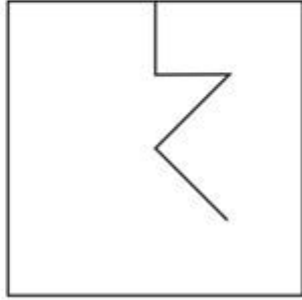
Correct Answer:



QID : 947 -

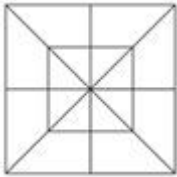
From the given answer figures, select the one in which the question figure is hidden/embedded.

दी गई उत्तर आकृतियों में से उस आकृति को चुनिए जिसमें प्रश्न आकृति निहित है।

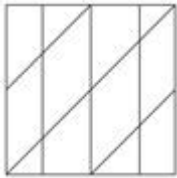


Options:

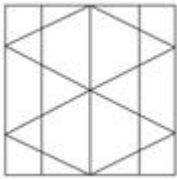
1)



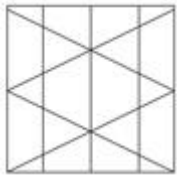
2)



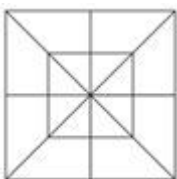
3)



4)



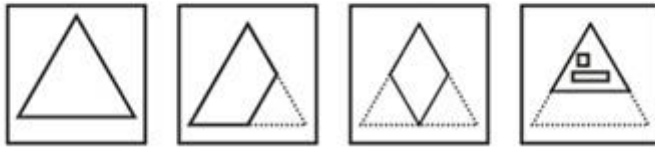
Correct Answer:



QID : 948 -

A piece of paper is folded and punched as shown below in the question figures. From the given answer figures, indicate how it will appear when opened.

प्रश्न आकृतियों में दिखाए अनुसार कागज को मोड़कर उसमें छेद करने तथा खोलने के बाद वह किस उत्तर आकृति जैसा दिखाई देगा?

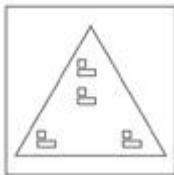


Options:

1)



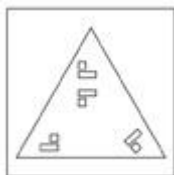
2)



3)



4)



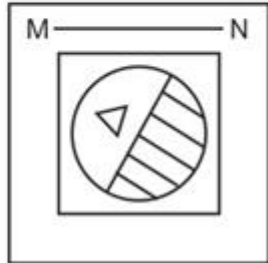
Correct Answer:



QID : 949 -

If a mirror is placed on the line MN, then which of the answer figures is the right image of the given figure?

यदि एक दर्पण को MN रेखा पर रखा जाए तो दी गई उत्तर आकृतियों में से कौन-सी आकृति प्रश्न आकृति का सही प्रतिबिम्ब होगी?



Options:

1)



2)



3)



4)



Correct Answer:



QID : 950 -

A word is represented by only one set of numbers as given in any one of the alternatives. The sets of numbers given in the alternatives are represented by two classes of alphabets as shown in the given two matrices. The columns and rows of Matrix-I are numbered from 0 to 4 and that of Matrix-II are numbered from 5 to 9. A letter from these matrices can be represented first by its row and next by its column, for example 'U' can be represented by 30, 41 etc and 'E' can be represented by 85, 67 etc. Similarly, you have to identify the set for the word 'SWORD'.

एक शब्द केवल एक संख्या-समूह द्वारा दर्शाया गया है, जैसा कि विकल्पों में से किसी एक में दिया गया है। विकल्पों में दिए गए संख्या-समूह अक्षरों के दो वर्गों द्वारा दर्शाए गए हैं, जैसा कि दिए गए दो आव्यूहों में है। आव्यूह-I के स्तम्भ और पंक्ति की संख्या 0 से 4 और आव्यूह-II की 5 से 9 है। इन आव्यूहों से एक अक्षर को पहले उसकी पंक्ति और बाद में स्तम्भ संख्या द्वारा दर्शाया जा सकता है। उदाहरण के लिए 'U' को 30, 41 आदि द्वारा दर्शाया जा सकता है तथा 'E' को 85, 67 आदि द्वारा दर्शाया जा सकता है। इसी तरह से आपको प्रश्न में दिए शब्द 'SWORD' के लिए समूह को पहचानना है।

MATRIX - I आव्यूह - I						MATRIX - II आव्यूह - II					
	0	1	2	3	4		5	6	7	8	9
0	S	S	Z	V	R	5	J	F	M	I	E
1	R	Z	R	R	Z	6	M	M	E	E	M
2	P	T	O	Y	P	7	D	G	B	L	C
3	U	P	U	U	W	8	E	C	H	H	J
4	O	U	X	Z	X	9	C	H	K	M	K

Options:

- 1) 40,31,41,68,01
- 2) 23,95,14,20,79
- 3) 11,41,44,85,22
- 4) 01,34,22,10,75

Correct Answer: 01,34,22,10,75



# SSC EXAMS PRINTED STUDY NOTES

<a href="#">Study Material for SSC CGL (Tier-1) Examination</a>	<a href="#">English</a>	<a href="#">CLICK HERE</a>
<a href="#">Study Kit for SSC CGL (Tier-2) Exam</a>	<a href="#">English</a>	<a href="#">CLICK HERE</a>
<a href="#">Study Kit for SSC CHSL (10+2) Examination</a>	<a href="#">English</a>	<a href="#">CLICK HERE</a>
<a href="#">Study Kit for SSC Stenographers (Grade 'C' &amp; 'D')</a>	<a href="#">English</a>	<a href="#">CLICK HERE</a>
<a href="#">Study Kit for Multitasking (Non-Technical) - MTS</a>	<a href="#">English</a>	<a href="#">CLICK HERE</a>
<a href="#">Study Kit for SSC Constables (GD) Exam</a>	<a href="#">English</a>	<a href="#">CLICK HERE</a>
<a href="#">Study Kit For SSC Sub-Inspectors in Delhi Police, CAPFs, CISF</a>	<a href="#">English</a>	<a href="#">CLICK HERE</a>
<a href="#">Study Kit for SSC Junior Engineer Exam (Paper-1)</a>	<a href="#">English</a>	<a href="#">CLICK HERE</a>
<b>IAS EXAMS STUDY MATERIALS</b>		
<a href="#">Study Kit for IAS (Pre) GENERAL STUDIES Paper-1 (GS)</a>	<a href="#">English</a>	<a href="#">CLICK HERE</a>
<a href="#">Study Kit for IAS (Pre) CSAT Paper-2(Aptitude)</a>	<a href="#">English</a>	<a href="#">CLICK HERE</a>
<a href="#">सामान्य अध्ययन (GS) प्रारंभिक परीक्षा (Pre) पेपर-1</a>	<a href="#">हिन्दी</a>	<a href="#">CLICK HERE</a>
<a href="#">आई. ए. एस. (सी-सैट) प्रारंभिक परीक्षा पेपर -2</a>	<a href="#">हिन्दी</a>	<a href="#">CLICK HERE</a>
<a href="#">Gist of NCERT Study Kit For UPSC Exams</a>	<a href="#">English</a>	<a href="#">CLICK HERE</a>
<a href="#">यूपीएससी परीक्षा के लिए एनसीईआरटी अध्ययन सामग्री</a>	<a href="#">हिन्दी</a>	<a href="#">CLICK HERE</a>