



कर्मचारी चयन आयोग कनिष्ठ अभियन्ता

एस.एस.सी. कनिष्ठ अभियन्ता परीक्षा पेपर 2018 "24 जनवरी 2018" दोपहर की पाली (सामान्य बुद्धि और तर्क शक्ति) SSC Junior Engineers (JE) Online Exam Paper - 2018 "held on 24 Jan 2018" Afternoon Shift (General Intelligence & Reasoning)

QID : 801 - निम्नलिखित प्रश्न में दिए गए विकल्पों में से संबंधित शब्द युग्म को चुनिए।

लाल : खतरा :: ? : ?

Options:

- 1) सफेद : युद्ध
- 2) पीला : ठंडा
- 3) नीला : दर्द
- 4) काला : शोक

Correct Answer: काला : शोक

QID : 802 - निम्नलिखित प्रश्न में दिए गए विकल्पों में से संबंधित शब्द को चुनिए।

रक्त : लाल :: कोयला : ?

Options:

- 1) काला
- 2) गर्मी
- 3) ठोस
- 4) खदान

Correct Answer: काला

QID : 803 - निम्नलिखित प्रश्न में दिए गए विकल्पों में से संबंधित शब्द युग्म को चुनिए।

उदास : खुश :: ? : ?

Options:

- 1) इतिहास : पुराना
- 2) आधुनिक : प्राचीन
- 3) अर्थशास्त्र : गणित
- 4) प्रेम : सुंदर

Correct Answer: आधुनिक : प्राचीन

QID : 804 - निम्नलिखित प्रश्न में दिए गए विकल्पों में से संबंधित अक्षर युग्म को चुनिए।

MOL : TVS :: ? : ?

Options:

- 1) NAP : UHW
- 2) NAP : CHK
- 3) NOT : UHW
- 4) NOT : HFG

Correct Answer: NAP : UHW

QID : 805 - निम्नलिखित प्रश्न में दिए गए विकल्पों में से संबंधित अक्षरों को चुनिए।

FORK : ILUH :: LAPE : ?

Options:

- 1) TBXO
- 2) XBTC
- 3) OXSB
- 4) GYTC

Correct Answer: OXSB

QID : 806 - निम्नलिखित प्रश्न में दिए गए विकल्पों में से संबंधित अक्षरों को चुनिए।

MILK : PMOO :: TIPS : ?

Options:

- 1) WAMS
- 2) GMSW
- 3) GFBG
- 4) WMSW

Correct Answer: WMSW

QID : 807 - निम्नलिखित प्रश्न में दिए गए विकल्पों में से संबंधित संख्या को चुनिए।

51 : 66 :: 81 : ?

Options:

- 1) 76
- 2) 96
- 3) 98
- 4) 82

Correct Answer: 96

QID : 808 - निम्नलिखित प्रश्न में दिए गए विकल्पों में से संबंधित संख्या को चुनिए।

5 : 125 :: 6 : ?

Options:

- 1) 343
- 2) 576
- 3) 216
- 4) 326

Correct Answer: 216

QID : 809 - निम्नलिखित प्रश्न में दिए गए विकल्पों में से संबंधित संख्या युग्म को चुनिए।

46 : 69 :: ? : ?

Options:

- 1) 52 : 78
- 2) 48 : 74
- 3) 58 : 86
- 4) 60 : 80

Correct Answer: 52 : 78

QID : 810 - निम्नलिखित प्रश्न में दिए गए विकल्पों में से विषम शब्द को चुनिए।

Options:

- 1) मोतियाबिंद
- 2) रिकेट्स
- 3) लोहा
- 4) घेघा

Correct Answer: लोहा

QID : 811 - निम्नलिखित प्रश्न में दिए गए विकल्पों में से विषम शब्द को चुनिए।

Options:

- 1) हिन्दी
- 2) तेलुगु
- 3) उड़िया
- 4) ऑस्ट्रेलिया

Correct Answer: ऑस्ट्रेलिया

QID : 812 - निम्नलिखित प्रश्न में दिए गए विकल्पों में से विषम शब्द को चुनिए।

Options:

- 1) चप्पल
- 2) जूते
- 3) सैंडल
- 4) कमीज़

Correct Answer: कमीज़

QID : 813 - निम्नलिखित प्रश्न में दिए गए विकल्पों में से विषम अक्षरों को चुनिए।

Options:

- 1) DLTB
- 2) EMUC
- 3) GPXF
- 4) IQYG

Correct Answer: GPXF

QID : 814 - निम्नलिखित प्रश्न में दिए गए विकल्पों में से विषम अक्षरों को चुनिए।H5

Options:

- 1) CHLQU
- 2) HMQVZ
- 3) MRVZF
- 4) AFJOS

Correct Answer: MRVZF

QID : 815 - निम्नलिखित प्रश्न में दिए गए विकल्पों में से विषम अक्षरों को चुनिए।

Options:

- 1) LQV
- 2) FKP
- 3) MRX
- 4) GLQ

Correct Answer: MRX

QID : 816 - निम्नलिखित प्रश्न में दिए गए विकल्पों में से विषम संख्या को चुनिए।

Options:

- 1) 11 – 17
- 2) 23 – 31
- 3) 43 – 59
- 4) 41 – 47

Correct Answer: 43 – 59

QID : 817 - निम्नलिखित प्रश्न में दिए गए विकल्पों में से विषम संख्या को चुनिए।

Options:

- 1) 12 – 156
- 2) 13 – 182
- 3) 14 – 210
- 4) 15 – 230

Correct Answer: 15 – 230

QID : 818 - निम्नलिखित प्रश्न में दिए गए विकल्पों में से विषम संख्या युग्म को चुनिए।

Options:

- 1) 23 – 92
- 2) 31 – 124
- 3) 43 – 182
- 4) 37 – 148

Correct Answer: 43 – 182

QID : 819 - निम्नलिखित शब्दों को शब्दकोश में आने वाले क्रम के अनुसार लिखें।

1. Please
2. Plunge
3. Plummet
4. Plush
5. Pleasure

Options:

- 1) 51324
- 2) 15324
- 3) 43125
- 4) 34125

Correct Answer: 15324

QID : 820 - निम्नलिखित शब्दों को शब्दकोश में आने वाले क्रम के अनुसार लिखें।

1. Primary
2. Previous
3. Presence
4. Preside
5. Prestige

Options:

- 1) 54321
- 2) 34521
- 3) 45123
- 4) 54123

Correct Answer: 34521

QID : 821 - निम्नलिखित शब्दों को शब्दकोश में आने वाले क्रम के अनुसार लिखें।

1. Sickly
2. Shrivell
3. Shrewd
4. Sinful
5. Singer

Options:

- 1) 32145
- 2) 23145
- 3) 32541
- 4) 23541

Correct Answer: 32145

QID : 822 - एक अनुक्रम दिया गया है, जिसमें से एक पद लुप्त है। दिए गए विकल्पों में से वह सही विकल्प चुनिए, जो अनुक्रम को पूरा करे।

MK, IF, EA, ?, WQ

Options:

- 1) SR
- 2) LQ
- 3) AV
- 4) FN

Correct Answer: AV

QID : 823 - एक अनुक्रम दिया गया है, जिसमें से एक पद लुप्त है। दिए गए विकल्पों में से वह सही विकल्प चुनिए, जो अनुक्रम को पूरा करे।

FIN, NQV, VYD, ?, LOT

Options:

- 1) HLS
- 2) DGL
- 3) HGP
- 4) GLH

Correct Answer: DGL

QID : 824 - एक अनुक्रम दिया गया है, जिसमें से एक पद लुप्त है। दिए गए विकल्पों में से वह सही विकल्प चुनिए, जो अनुक्रम को पूरा करे।

LYMT, NCOX, PGQB, RKSF, ?

Options:

- 1) JKLT
- 2) TOUJ
- 3) NMLP
- 4) LTMA

Correct Answer: TOUJ

QID : 825 - निम्नलिखित प्रश्न में दिए गए विकल्पों में से लुप्त अंक ज्ञात कीजिए।

31, 32, 40, 67, 131, ?

Options:

- 1) 242
- 2) 256
- 3) 322
- 4) 194

Correct Answer: 256

QID : 826 - निम्नलिखित प्रश्न में दिए गए विकल्पों में से लुप्त अंक ज्ञात कीजिए।

31, 44, 75, 119, 194, ?

Options:

- 1) 243
- 2) 313
- 3) 353

4) 393

Correct Answer: 313

QID : 827 - निम्नलिखित प्रश्न में दिए गए विकल्पों में से लुप्त अंक ज्ञात कीजिए।

44, 22, 33, 82.5, 288.75, ?

Options:

1) 1299.375

2) 1649.43

3) 2024.5

4) 2345.375

Correct Answer: 1299.375

QID : 828 - पांच लोग P, Q, R, S और T एक कतार में खड़े हैं। R, P और T के बीच खड़ा है। P, Q के ठीक पीछे है और Q कतार में दूसरे स्थान पर है। कतार में अंत से दूसरे स्थान पर कौन है?

Options:

1) T

2) S

3) R

4) P

Correct Answer: R

QID : 829 - H ने W से कहा कि तुम मेरे पति की बहन की मां के पति के दामाद हो। H और W एक दूसरे से किस तरह संबंधित हैं?

Options:

1) W, H का दामाद है

2) W, H के पति की बहन का पति है

3) W, H की बहन के पति है

4) W, H के पति की मां का भाई है

Correct Answer: W, H के पति की बहन का पति है

QID : 830 - निम्नलिखित विकल्पों में से वह शब्द चुनिए जो दिए गए शब्द के अक्षरों का प्रयोग करके नहीं बनाया जा सकता:

RELINQUISH

Options:

1) liner

2) raise

3) resin

4) shine

Correct Answer: raise

QID : 831 - यदि STERNLY को कोड में TUF SOMZ लिखा जाता है तो COP को कोड में कैसे लिखा जाएगा?

Options:

1) XLK

2) BNO

3) DPQ

4) EQR

Correct Answer: DPQ

QID : 832 - किसी निश्चित कोड भाषा में 2357 का अर्थ है 'please bear with me', 8159 का अर्थ है 'much burden to bear' और 7654 का अर्थ है 'hunter with the bear'। 'with' के लिए कोड ज्ञात करें।

Options:

1) 7

2) 2

3) 3

4) 5

Correct Answer: 7

QID : 833 - किसी निश्चित कोड भाषा में '+' , '-' को प्रदर्शित करता है, '-' , 'x' को प्रदर्शित करता है, 'x' , '÷' को प्रदर्शित करता है और '÷', '+' को प्रदर्शित करता है। निम्नलिखित प्रश्न का उत्तर ज्ञात करें?

$$196 \div 4 - 125 \times 50 + 10 = ?$$

Options:

1) -61

2) 196

3) 93

4) -65

Correct Answer: 196

QID : 834 - यदि $21 \# 11 = 5$, $18 \# 4 = 7$ और $6 \# 2 = 2$, तो $13 \# 5 = ?$ का मान ज्ञात करें?

Options:

1) 4

2) 8

3) 18

4) 65

Correct Answer: 4

QID : 835 - यदि A \$ B का अर्थ है कि A, B का पुत्र है, A # B का अर्थ है कि A, B की बहन है और यदि A * B का अर्थ है कि A, B का पिता है, तो X \$ Y * Z # W का क्या अर्थ है?

Options:

- 1) X, W का पिता है
- 2) X, W का भाई है
- 3) W, X का पिता है
- 4) X, W के पिता का पिता है

Correct Answer: X, W का भाई है

QID : 836 -

Select the missing number from the given responses

दिए गए विकल्पों में से लुप्त संख्या चुनिए।

8	4	12
7	8	?
8	5	13

Options:

- 1) 1
- 2) -1
- 3) 15
- 4) 4

Correct Answer: 15

QID : 837 - निम्नलिखित में से कौन सा पद दी गयी सूची के क्रम के अनुसार है?

ABABABABC, ABABABACB, ABABABCAB, ABABACBAB, ABABCABAB, _____.

Options:

- 1) ACBABABAB
- 2) ABCABABAB
- 3) ABACBABAB
- 4) CABABABAB

कर्मचारी चयन आयोग (CGL) परीक्षा अध्ययन सामग्री



- 100% Syllabus Covered
- 4 Books, 900+ Pages
- 2500+ MCQs
- 08 Year Solved Papers & Mock Tests (PDF Copy)
- 1 year Current Affairs (PDF Copy)

50% OFF

~~₹ 4,200/-~~
₹ 2,100/-

FREE SHIPPING 

for Exam Help Call Us at: +91 8800734161

 SSCPOTAL.IN

आप क्या प्राप्त करेंगे?

- माध्यम: हिन्दी
- 100% पाठ्यक्रम
- कुल 4 पुस्तिकायें, 900 से अधिक पृष्ठ
- 2,500 से अधिक वस्तुनिष्ठ प्रश्न (MCQ)
- 8 Year Solved Papers (PDF Copy)
- Five Practice Papers (PDF Copy)
- हमारे विशेषज्ञों द्वारा मार्गदर्शन और सहायता

Price of the Kit:

Rs. 4,200

Rs. 2,100/-

(Limited time Offer)

 [Buy Online](#)

Net Banking

Order Online (100% Safe)

[Click here for Other Payment Options \(Cash/NEFT/etc\)](#)

FOR MORE DETAILS CLICK HERE

50% OFF

Correct Answer: ABACBABAB

QID : 838 - एक विक्रेता अपनी नौकरी पर जाने के लिए 3 किलोमीटर पश्चिम की ओर चलता है। फिर वह दक्षिण की ओर मुड़कर 4 किलोमीटर चलता है तथा फिर पश्चिम की ओर मुड़कर 5 किलोमीटर चलता है और फिर अपनी दाहिनी ओर मुड़कर 4 किलोमीटर चलता है। अब वह अपनी प्रारंभिक स्थिति से कहां है?

Options:

- 1) 8 किलोमीटर पूर्व
- 2) 2 किलोमीटर पश्चिम
- 3) 2 किलोमीटर पूर्व
- 4) 8 किलोमीटर पश्चिम

Correct Answer: 8 किलोमीटर पश्चिम

QID : 839 - दो बसें एक ही डिपो से चलना प्रारंभ करती हैं। बस A, 27 किलोमीटर पश्चिम की ओर जाती है तथा फिर अपनी दाहिनी ओर मुड़कर 43 किलोमीटर चलती है। उसी समय बस B, 19 किलोमीटर उत्तर की ओर चलती है और फिर पश्चिम की ओर मुड़कर 61 किलोमीटर चलती है और फिर दाहिनी ओर मुड़कर 24 किलोमीटर चलती है। बस A के संदर्भ में बस B कहां है?

Options:

- 1) 34 किलोमीटर पूर्व
- 2) 88 किलोमीटर पश्चिम
- 3) 88 किलोमीटर पूर्व
- 4) 34 किलोमीटर पश्चिम

Correct Answer: 34 किलोमीटर पश्चिम

QID : 840 - प्रश्न में दो कथन दिये गये हैं जिसके आगे दो निष्कर्ष I और II निकाले गये हैं। आपको मानना है कि दोनों कथन सत्य है चाहे वह सामान्यतः ज्ञात तथ्यों से भिन्न प्रतीत होते हों। आपको निर्णय करना है की दिए गए निष्कर्षों में से कौन-सा/कौन-से निश्चित रूप से कथन द्वारा सही निकाला जा सकता है/सकते हैं, यदि कोई हो।

कथन I: कोई हरा टॉक्सिक नहीं है

कथन II: कुछ रसायन हरे हैं

निष्कर्ष I: कुछ रसायन टॉक्सिक हैं

निष्कर्ष II: कुछ हरे रसायन हैं

Options:

- 1) केवल निष्कर्ष I सही है
- 2) केवल निष्कर्ष II सही है
- 3) दोनों निष्कर्ष I और II सही है
- 4) ना तो निष्कर्ष I सही है ना ही निष्कर्ष II

Correct Answer: केवल निष्कर्ष II सही है

QID : 841 - प्रश्न में तीन कथन दिये गये हैं जिसके आगे तीन निष्कर्ष I, II और III निकाले गये हैं। आपको मानना है कि तीनों कथन सत्य है चाहे वह सामान्यतः ज्ञात तथ्यों से भिन्न प्रतीत होते हों। आपको निर्णय करना है की दिए गए निष्कर्षों में से कौन-सा/कौन-से निश्चित रूप से कथन द्वारा सही निकाला जा सकता है/सकते हैं, यदि कोई हो।

कथन I: सभी सोफे कुर्सियां हैं

कथन II: कुछ कुर्सियां लाउन्जस हैं

कथन III: सभी लाउन्जस रिक्लाइनर्स हैं

निष्कर्ष I: कुछ कुर्सियां सोफा हैं

निष्कर्ष II: कुछ सोफा लाउन्जस हैं

निष्कर्ष III: कुछ रिक्लाइनर्स कुर्सियां हैं

Options:

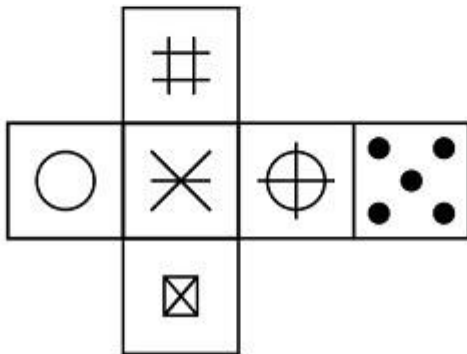
- 1) केवल निष्कर्ष I और II सही हैं
- 2) केवल निष्कर्ष II और III सही हैं
- 3) केवल निष्कर्ष I और III सही हैं
- 4) तीनों निष्कर्ष I, II और III सही हैं

Correct Answer: केवल निष्कर्ष I और III सही हैं

QID : 842 -

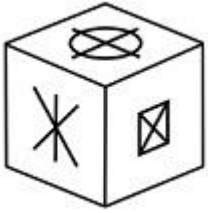
Which of the following cube in the answer figure cannot be made based on the unfolded cube in the question figure?

निम्नलिखित उत्तर आकृति में से कौन सा घन दिए गए प्रश्न आकृति में खुले घन से बनाया नहीं जा सकता?

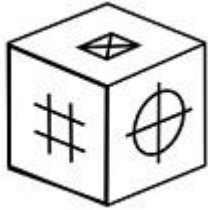


Options:

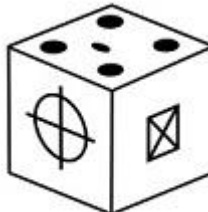
1)



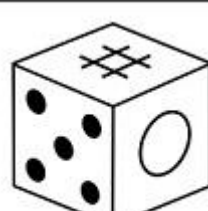
2)



3)



4)

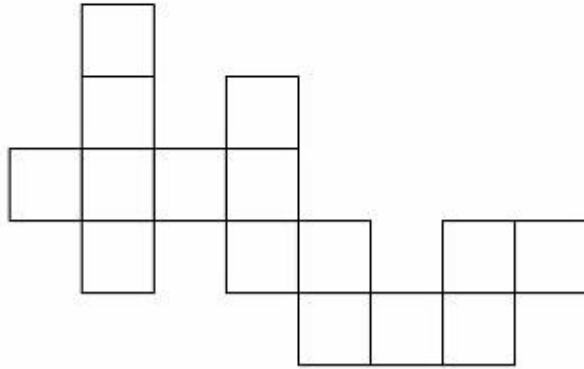


Correct Answer:

QID : 843 -

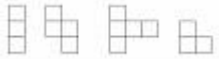
Which of the following answer figure patterns can be combined to make the question figure?

निम्नलिखित उत्तर आकृति में से कौन से प्रतिरूपों को जोड़कर दिए गए प्रश्न आकृति को बनाया जा सकता है?



Options:

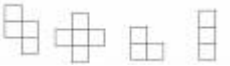
1)



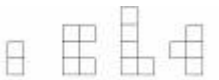
2)



3)



4)

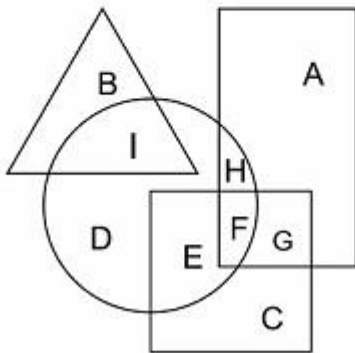


Correct Answer:

QID : 844 -

In the following figure, square represents Priests, triangle represents singers, circle represents Therapists and rectangle represents Indians. Which set of letters represents Indians who are not priests?

निम्नलिखित चित्र में वर्ग, पुजारियों को प्रदर्शित करता है, त्रिभुज गायकों को प्रदर्शित करता है, वृत्त थेरेपिस्ट्स को प्रदर्शित करता है और आयत भारतीयों को प्रदर्शित करता है। अक्षरों का कौन सा समूह उन भारतीयों को प्रदर्शित करता है जो पुजारी नहीं हैं।



Options:

- 1) FGBK
- 2) AH
- 3) EC
- 4) HFE

Correct Answer: AH

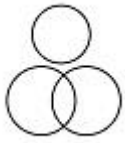
QID : 845 -

Which of the following Venn diagrams represents the relationship between Asia, India and Canada ?

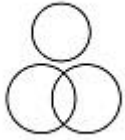
निम्नलिखित में से कौन सा वेन चित्र एशिया, इंडिया (भारत) और कनाडा के बीच संबंध दर्शाता है?

Options:

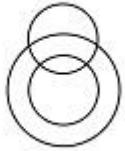
1)



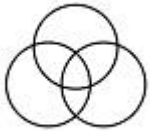
2)



3)



4)

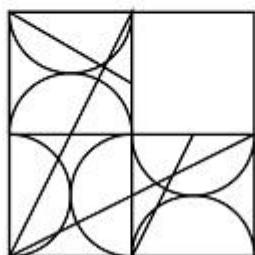


Correct Answer:

QID : 846 -

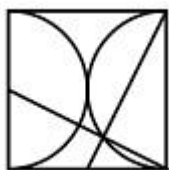
Which answer figure will complete the pattern in the question figure?

निम्नलिखित में से कौन-सी उत्तर आकृति प्रश्न आकृति के प्रतिरूप को पूरा करेगी?



Options:

1)



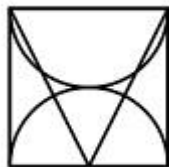
2)



3)



4)

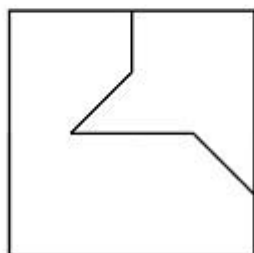


Correct Answer:

QID : 847 -

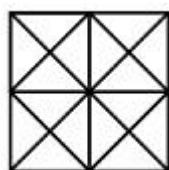
From the given answer figures, select the one in which the question figure is hidden/embedded.

दी गयी उत्तर आकृतियों में से उस आकृति को चुनिए जिसमें प्रश्न आकृति निहित है।

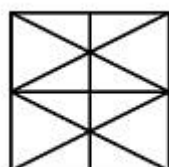


Options:

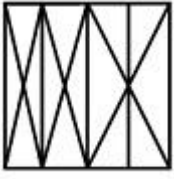
1)



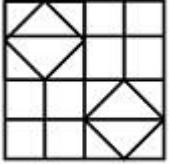
2)



3)



4)

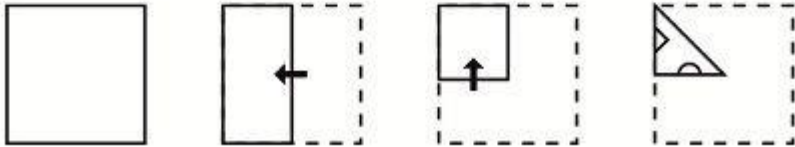


Correct Answer:

QID : 848 -

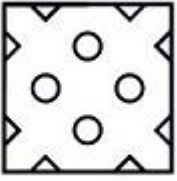
A piece of paper is folded and punched as shown below in the question figures. From the given answer figures, indicate how it will appear when opened.

प्रश्न आकृतियों में दिखाए अनुसार कागज को मोड़कर उसमें छेद करने तथा खोलने के बाद वह किस उत्तर आकृति जैसा दिखाई देगा?




Options:

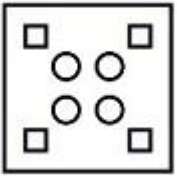
1)



2)



3)



4)

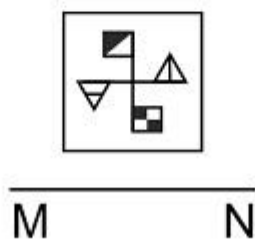


Correct Answer:

QID : 849 -

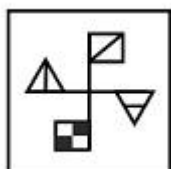
If a mirror is placed on the line MN, then which of the answer figures is the right image of the given figure?

यदि एक दर्पण को MN रेखा पर रखा जाए तो दी गयी उत्तर आकृतियों में से कौन-सी आकृति प्रश्न आकृति का सही प्रतिबिम्ब होगी?

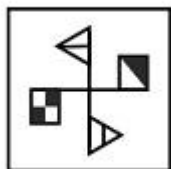


Options:

1)



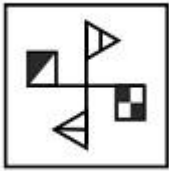
2)



3)



4)



Correct Answer:

QID : 850 -

A word is represented by only one set of numbers as given in any one of the alternatives. The sets of numbers given in the alternatives are represented by two classes of alphabets as shown in the given two matrices. The columns and rows of Matrix-I are numbered from 0 to 4 and that of Matrix-II are numbered from 5 to 9. A letter from these matrices can be represented first by its row and next by its column, for example 'E' can be represented by 32, 12 etc and 'X' can be represented by 87, 79 etc. Similarly, you have to identify the set for the word 'MYTH'.

एक शब्द केवल एक संख्या-समूह द्वारा दर्शाया गया है, जैसा कि विकल्पों में से किसी एक में दिया गया है। विकल्पों में दिए गए संख्या-समूह अक्षरों के दो वर्गों द्वारा दर्शाए गए हैं, जैसा कि दिए गए दो आव्यूहों में है। आव्यूह-I के स्तम्भ और पंक्ति की संख्या 0 से 4 और आव्यूह-II की 5 से 9 है। इन आव्यूहों से एक अक्षर को पहले उसकी पंक्ति और बाद में स्तम्भ संख्या द्वारा दर्शाया जा सकता है। उदाहरण के लिए 'E' को 32, 12 आदि द्वारा दर्शाया जा सकता है तथा 'X' को 87, 79 आदि द्वारा दर्शाया जा सकता है। इसी तरह से आपको प्रश्न में दिए शब्द 'MYTH' के लिए समूह को पहचानना है।

Matrix I आव्यूह-I						Matrix II आव्यूह-II					
	0	1	2	3	4		5	6	7	8	9
0	H	C	H	E	H	5	O	P	T	V	U
1	G	B	E	J	D	6	P	Y	V	O	Z
2	I	M	I	H	A	7	T	S	S	V	X
3	J	B	E	D	D	8	O	O	X	Z	V
4	F	L	C	C	M	9	R	Z	U	U	O

Options:

- 1) 44,89,57,23
- 2) 20,89,66,43

3) 21,66,75,04

4) 32,75,43,66



SSC EXAMS PRINTED STUDY NOTES

Study Material for SSC CGL (Tier-1) Examination	English	CLICK HERE
Study Kit for SSC CGL (Tier-2) Exam	English	CLICK HERE
Study Kit for SSC CHSL (10+2) Examination	English	CLICK HERE
Study Kit for SSC Stenographers (Grade 'C' & 'D')	English	CLICK HERE
Study Kit for Multitasking (Non-Technical) - MTS	English	CLICK HERE
Study Kit for SSC Constables (GD) Exam	English	CLICK HERE
Study Kit For SSC Sub-Inspectors in Delhi Police, CAPFs, CISF	English	CLICK HERE
Study Kit for SSC Junior Engineer Exam (Paper-1)	English	CLICK HERE
IAS EXAMS STUDY MATERIALS		
Study Kit for IAS (Pre) GENERAL STUDIES Paper-1 (GS)	English	CLICK HERE
Study Kit for IAS (Pre) CSAT Paper-2(Aptitude)	English	CLICK HERE
सामान्य अध्ययन (GS) प्रारंभिक परीक्षा (Pre) पेपर-1	हिन्दी	CLICK HERE
आई. ए. एस. (सी-सैट) प्रारंभिक परीक्षा पेपर -2	हिन्दी	CLICK HERE
Gist of NCERT Study Kit For UPSC Exams	English	CLICK HERE
यूपीएससी परीक्षा के लिए एनसीईआरटी अध्ययन सामग्री	हिन्दी	CLICK HERE