

Section : General Intelligence & Reasoning

Q.1 यदि किसी कूट भाषा में 'HACB' को '8132' के रूप में लिखा जाता है, तो उसी कूट भाषा में 'DEFA' को कैसे लिखा जाएगा?

- Ans 1. 4561
 2. 4156
 3. 5641
 4. 4651

Q.2 कर्मचारी B, R, G, A और M के वेतन की तुलना एक दूसरे के संबंध में दी गयी है:
M को A और G से अधिक वेतन मिलता है।
R का वेतन तीन व्यक्तियों से कम है।
B का वेतन सबसे कम है।
दूसरा न्यूनतम वेतन किसका है?

- Ans 1. M
 2. R

3. A

4. G

Q.3 'मोमबत्ती' शब्द 'बाती' से उसी तरह संबंधित है जिस तरह 'पेन' ' _____ ' से संबंधित है।

Ans 1. पेंसिल

2. निब

3. दवात

4. प्रकाश

Q.4 नीचे दिए गए कथनों के बाद दो निष्कर्ष I और II दिए गए हैं यह मानते हुए कि कथनों में दी गई जानकारी सत्य हैं भले ही वह सर्वज्ञात तथ्यों से भिन्न प्रतीत होते हो, यह निर्णय करें की कौन सा/ से निष्कर्ष तार्किक रूप से और निश्चित रूप से कथन में दी गयी जानकारी का अनुसरण करता है/करते हैं।

कथन:

I. कुछ कप ग्लास हैं।

II. कोई भी प्लेट ना ही कप है ना ही ग्लास है।

निष्कर्ष:

I. कुछ कप प्लेटें हैं।

II. सभी ग्लास प्लेटें नहीं हैं।

Ans 1. केवल निष्कर्ष II अनुसरण करता है

2. न तो निष्कर्ष I और न ही निष्कर्ष II अनुसरण करता है।

3. केवल निष्कर्ष I अनुसरण करता है

4. या तो निष्कर्ष I या निष्कर्ष II अनुसरण करता है।

Q.5 छह मित्र A, B, C, D, E और F एक पंक्ति में उत्तर दिशा की ओर मुख करके खड़े हैं। B, F और D के ठीक बीच में खड़ा है। E, A और C के ठीक बीच में खड़ा है। A, D और F का पड़ोसी नहीं है। C, D का पड़ोसी नहीं है, लेकिन F के बिल्कुल दायें है। C निम्नलिखित में से किसके बीच खड़ा है ?

Ans 1. A और E

2. D और F

3. E और F

4. E और B

Q.6 यदि किसी कूट भाषा में 'RUN' को '202316' के रूप में लिखा जाता है और 'PEN' को '18716' के रूप में लिखा जाता है, तो उसी भाषा में 'RANSOM' को कैसे कूटबद्ध किया जाएगा?

Ans 1. 18114191315

✓ 2. 20316211715

✗ 3. 20114131915

✗ 4. 1841491315

Q.7 यदि 'LEMON' को 'NCOM' के रूप में कूटबद्ध किया जाता है, तो 'MANGO' को _____ के रूप में कूटबद्ध किया जाएगा।

Ans ✗ 1. NDRHP

✗ 2. OZRDS

✗ 3. RZPES

✓ 4. OYPEQ

Q.8 उस सही विकल्प का चयन करें जो रिक्त स्थान की पूर्ति करेगा और श्रृंखला को पूरा करेगा।

10, 17, 26, 37, _____

Ans ✗ 1. 54

✓ 2. 50

✗ 3. 52

✗ 4. 49

Q.9 यदि दो चिह्नों, '÷' और '×' और दो संख्याओं '2' और '8' को आपस में बदला जाता है, तो निम्नलिखित समीकरण का मान क्या होगा?

$4 \times 8 \div 2 = ?$

Ans ✗ 1. 14

✗ 2. 15

✓ 3. 16

✗ 4. 8

Q.10 नीचे दिए गए विकल्पों में से उस विकल्प को चुनिए जिसमें नीचे दी गई आकृति सन्निहित है। (आकृति को घुमाने की अनुमति नहीं है)

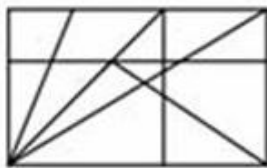


Ans

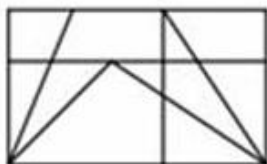
✗ 1.



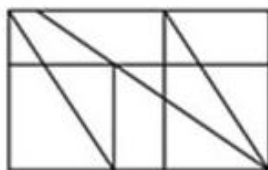
✗ 2.



✗ 3.



✓ 4.



Q.11 नीचे दिए गए कथनों और निष्कर्षों को ध्यानपूर्वक पढ़ें और निर्णय करें कि कौन सा/से निष्कर्ष तार्किक रूप से कथनों का अनुसरण करता है/करते हैं।

कथन:

माना जाता है कि सामवेद 200 ईसा पूर्व के आसपास लिखा गया था।

निष्कर्ष:

I. इतिहास में साम वेद सबसे पुरानी पुस्तकों में से एक है।

II. इतिहास में साम वेद सबसे पुरानी पुस्तक है।

Ans

✗ 1. केवल निष्कर्ष II अनुसरण करता है।

✓ 2. केवल निष्कर्ष I अनुसरण करता है।

✗ 3. न तो निष्कर्ष I और न ही निष्कर्ष II अनुसरण करता है।

✗ 4. या तो निष्कर्ष I या निष्कर्ष II अनुसरण करता है।

Q.12 निम्नलिखित समीकरण को सही बनाने के लिए कौन-से दो चिह्नों को आपस में बदला जाए।

$$6 \div 5 + 12 \times 4 - 7 = 26$$

Ans

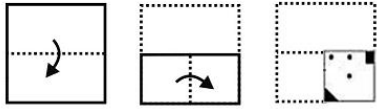
✓ 1. \div और \times

✗ 2. $+$ और $-$

✗ 3. \div और $-$

✗ 4. $+$ और \times

Q.13 एक कागज को नीचे दी गयी प्रश्न आकृतियों में दिखाए गए अनुसार मोड़ा और काटा गया है। नीचे दी गई उत्तर आकृतियों से चयन कीजिए, इसे खोले जाने पर यह कैसा दिखाई देगा?



Ans


✗ 1.



✗ 2.



✓ 3.



✗ 4.



Q.14 नीचे दिए विकल्पों में से उस संख्या को चुनिए जो निम्नलिखित श्रृंखला में प्रश्न चिह्न (?) के स्थान पर आएगी।

423, 407, 439, 391, 455, ?

Ans ✗ 1. 360

✗ 2. 365

✓ 3. 375

✗ 4. 420

Question ID : 2390873143

Status : Answered

Chosen Option : 3

Q.15

नीचे दिए गए विकल्पों में से प्रश्नवाचक चिह्न (?) स्थान पर आने वाली संख्या ज्ञात करें।

6 13 51

4 7 29

19 11 ?

Ans 1. 61

2. 71

3. 17

4. 16

Q.16 कौन-सा अक्षर निम्नलिखित श्रृंखला में प्रश्नवाचक चिह्न (?) के स्थान पर आएगा?

FLO, H?Q, JPS, LRU

Ans 1. P

2. M

3. N

4. I

Q.17 उस विकल्प का चयन करें जो चौथे पद से उसी तरह से सम्बंधित है जिस प्रकार पहला पद दूसरे पद से सम्बंधित है।

DFIM : CEHL :: ? : KMPT

Ans 1. LNQU

2. JLOS

3. LNUQ

4. UVWL

Q.18 उस विकल्प का चयन करें जो नीचे दी गई आकृति की दर्पण छवि से बहुत ज्यादा मिलता-जुलता है जब दर्पण को दायें तरफ रखा जाता है।



Ans

1.





Printed Study Kit for MTS (Non-Technical) Exam

- 100% Syllabus Covered
- 5 Booklets
- 1200+ Pages
- 5500+ MCQs



 [Click Here for More Details](#)

What you will get:

- 100% Syllabus Covered
- 5 Booklets
- 1,200+ Pages
- 5,600+ MCQs
- Five Practice Papers
- One Year Current Affairs
- Guidance & Support from Our Experts

Price of the Kit:

~~Rs. 6,000~~

Rs. 2,999/-
(Limited time Offer)



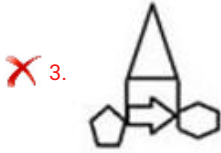
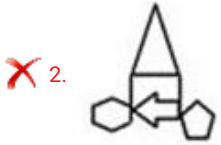
Net Banking

**50%
OFF**

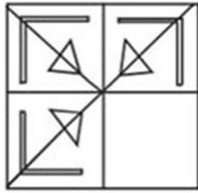
[CLICK HERE](#)

[FOR MORE DETAILS CLICK HERE](#)

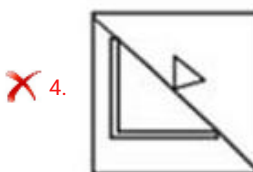
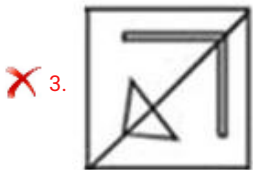
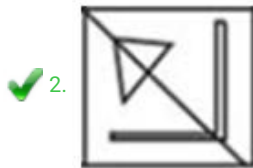
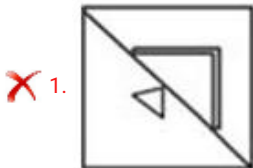
[Order Online \(100% Safe\)](#)



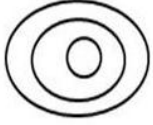
Q.19 नीचे दिए गए पैटर्न का ध्यानपूर्वक अध्ययन करें और उस आकृति को चुनें जो प्रश्न आकृति में दिए गए पैटर्न को पूरा करेगी?



Ans



Q.20 उन वर्गों के सेट का चयन करें जो दिए गए वेन आरेख का सबसे अच्छा प्रतिनिधित्व करते हैं।



- Ans
- 1. पानी, नदी, बांध
 - 2. भारत, मुंबई, दिल्ली
 - 3. राज्य, समुद्र, जिला
 - 4. एशिया, भारत, पुणे

Q.21 'फ़र्नीचर' शब्द 'बढ़ई' से उसी तरह संबंधित है जैसे 'वस्त्र' '_____' से संबंधित है।

- Ans
- 1. कसाई
 - 2. मोची
 - 3. दर्जी
 - 4. लौहार

Q.22 उस विकल्प का चयन करें जो चौथे पद से उसी तरह से सम्बंधित है जिस प्रकार पहला पद दूसरे पद से सम्बंधित है।

16 : 272 :: ? : 380

- Ans
- 1. 17
 - 2. 23
 - 3. 21
 - 4. 19

Q.23 आठ लड़के P, Q, R, S, T, U, V और W एक गोलाकार मेज़ के इर्द-गिर्द बैठे हैं।

P और Q एक दूसरे के सामने बैठे हैं।

S, P के दायें से दूसरे स्थान पर बैठा है और V, Q के दायें से दूसरे स्थान पर बैठा है।

T और W एक दूसरे के सामने बैठे हैं।

R, P और V के बीच में बैठा है।

U और V के बीच कितने लड़के बैठे हैं, जब U के दाईं ओर से गिना जाता है?

- Ans
- 1. पाँच
 - 2. दो

3. तीन

4. चार

Q.24 एक कूट भाषा में, यदि 'CLASSIFY' शब्द को 'XOZHHRUB' के रूप में कूटबद्ध किया जाता है, तो उसी भाषा में 'MODIFY' शब्द को कैसे कूटबद्ध किया जाएगा?

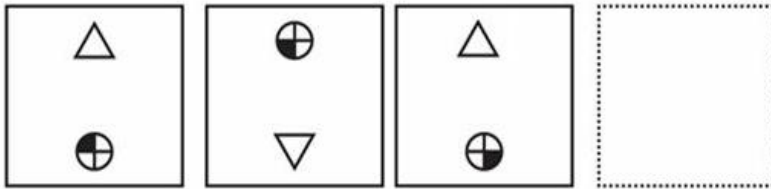
Ans 1. NLWRUB

2. RUBNLW

3. RUBNWL

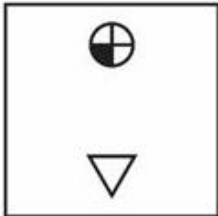
4. NLRUBW

Q.25 निम्न में से कौन सी उत्तर आकृति प्रश्न आकृति की श्रृंखला को पूरा करेगी?

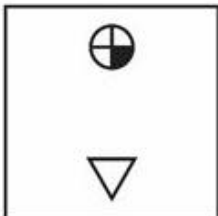


Ans

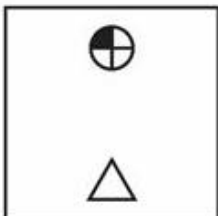
1.



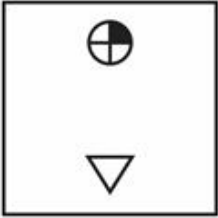
2.



3.



✓ 4.





SSC EXAMS PRINTED STUDY NOTES

Study Material for SSC CGL (Tier-1) Examination	English	CLICK HERE
Study Kit for SSC CGL (Tier-2) Exam	English	CLICK HERE
Study Kit for SSC CHSL (10+2) Examination	English	CLICK HERE
Study Kit for SSC Stenographers (Grade 'C' & 'D')	English	CLICK HERE
Study Kit for Multitasking (Non-Technical) - MTS	English	CLICK HERE
Study Kit for SSC Constables (GD) Exam	English	CLICK HERE
Study Kit For SSC Sub-Inspectors in Delhi Police, CAPFs, CISF	English	CLICK HERE
Study Kit for SSC Junior Engineer Exam (Paper-1)	English	CLICK HERE
IAS EXAMS STUDY MATERIALS		
Study Kit for IAS (Pre) GENERAL STUDIES Paper-1 (GS)	English	CLICK HERE
Study Kit for IAS (Pre) CSAT Paper-2(Aptitude)	English	CLICK HERE
सामान्य अध्ययन (GS) प्रारंभिक परीक्षा (Pre) पेपर-1	हिन्दी	CLICK HERE
आई. ए. एस. (सी-सैट) प्रारंभिक परीक्षा पेपर -2	हिन्दी	CLICK HERE
Gist of NCERT Study Kit For UPSC Exams	English	CLICK HERE
यूपीएससी परीक्षा के लिए एनसीईआरटी अध्ययन सामग्री	हिन्दी	CLICK HERE